



MISSION SSC CPO/CHSL & CGL TIER II 2023



Reasoning DAY-7

Revision Class

1000 प्रश्नों की
धमाकेदार श्रृंखला

इस बार, आखिरी प्रहार



LIVE 06:00 PM 



Q.1 If "B" denotes "multiplied by", "C" denotes "subtracted from", "A" denotes "added to" and "D" denotes "divided by", then which of the following equation is true?

यदि "B" का अर्थ "गुणा" है, "C" का अर्थ "घटाया गया", "A" का अर्थ "जोड़ा गया" और "D" का अर्थ "विभाजित" है, तो निम्नलिखित में से कौन सा समीकरण सत्य है?



(A) $36 \text{ D } 6 \text{ B } 3 \text{ A } 2 = 74$

(B) $24 \text{ D } 12 \text{ B } 3 \text{ A } 12 = 18$

(C) $42 \text{ A } 7 \text{ B } 2 \text{ D } 2 = 35$

(D) $56 \text{ D } 14 \text{ B } 2 \text{ C } 4 = 12$



Q.2 If "-" denotes "divided by", "+" denotes "subtracted from", "×" denotes "added to" and "÷" denotes "multiplied by", then

यदि "-" का अर्थ "विभाजित" है, "+" का अर्थ "घटाया गया", "×" का अर्थ "जोड़ा गया" है और "÷" का अर्थ "गुणा" है, तो

$$4 \div 16 \times 5 + 4 - 2 = ?$$



- (A) 2
- (B) 43
- (C) 22
- (D) 67



Q.3 If $38 \# 49 = 24$ and $96 \# 51 = 21$,
then $87 \# 78 = ?$

यदि $38 \# 49 = 24$ और $96 \# 51 = 21$, तो
 $87 \# 78 = ?$



- (A)26
- (B)21
- (C)28
- (D)30



Q.4 If $27 * 4 = 77$ and $31 * 9 = 239$,
then $21 * 6 = ?$

यदि $27 * 4 = 77$ और $31 * 9 = 239$, तो $21 * 6 = ?$



- (A)94
- (B)107
- (C)99
- (D)106



Q.5 In the following question, select the number which can be placed at the sign of question mark (?) from the given alternatives.

निम्नलिखित प्रश्न में, दिए गए विकल्पों में से वह संख्या चुनिए जिसे प्रश्न चिह्न (?) के स्थान पर रखा जा सकता है।



12	3
4	2

8	4
4	9

8	6
3	?

- (A) 1
- (B) 2
- (C) 4
- (D) 12



Q,6 In the following question, select the number which can be placed at the sign of question mark (?) from the given alternatives.

निम्नलिखित प्रश्न में, दिए गए विकल्पों में से वह संख्या चुनिए जिसे प्रश्न चिह्न (?) के स्थान पर रखा जा सकता है।

1	4	2	13
3	6	5	95
2	4	3	?



- (A)12
- (B)24
- (C)26
- (D)29



III. Some plates are spoons./ कुछ प्लेटें चम्मच हैं।Q.7

Statements: No cups is plate./ कोई कप प्लेट नहीं है

All plates are spoons./ सभी प्लेटें चम्मच हैं

Conclusions: I. Some cups are spoons./ कुछ कप चम्मच हैं.

II. Some spoons are plates./ कुछ चम्मच प्लेट हैं.



- (A) Only conclusion (II) follows
- (B) Only conclusion (III) follows
- (C) Only conclusion (I) and (III) follow
- (D) Only conclusion (II) and (III) follow



Q.7 Statements: All men are hardworking./सभी आदमी मेहनती हैं.
No advocate is hardworking. / कोई भी वकील मेहनती नहीं होता.
Some beautiful are men./ कुछ खूबसूरत पुरुष हैं.

Conclusions: I. Some beautiful are hardworking./कुछ खूबसूरत मेहनती हैं।
II. Some advocates are not beautiful./ कुछ वकील सुंदर नहीं हैं.
III. Some beautiful are not advocate./ कुछ खूबसूरत वकील नहीं हैं.

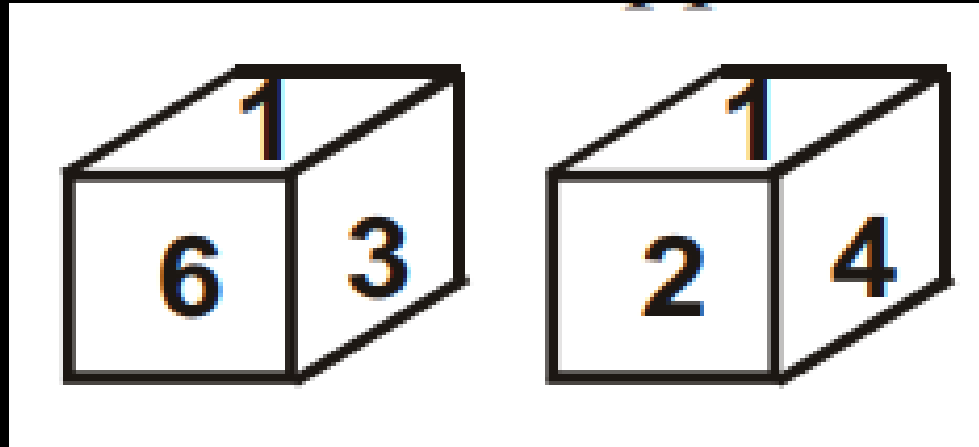
- (A) Only conclusion (III) follow
- (B) Only conclusion (I) and (III) follow
- (C) Only conclusion (II) and (III) follow
- (D) Only conclusion (I) and (II) follow





Q.8 Two positions of a cube are shown below.
What will come opposite to face containing '1'?

एक घन की दो स्थितियाँ नीचे दिखाई गई हैं। '1' वाले फलक के विपरीत क्या आएगा?

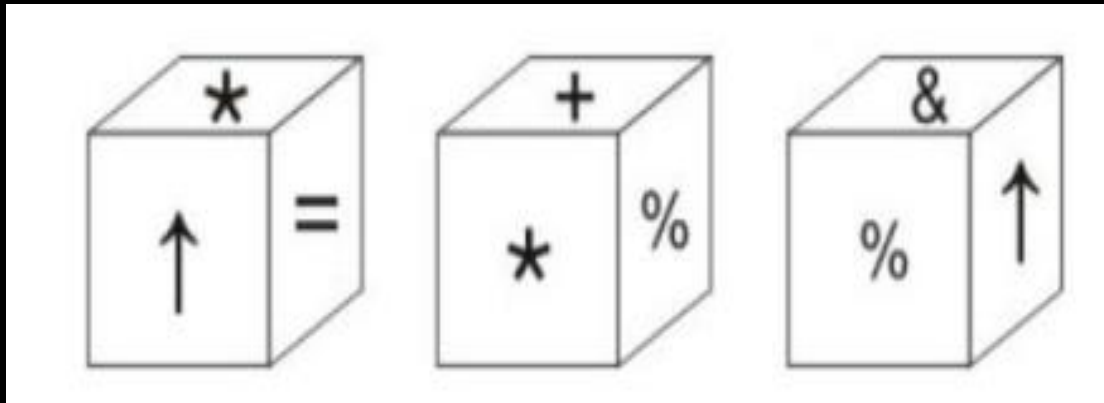


- (A) 4 or 5
- (B) 5
- (C) 4
- (D) 3



Q.9 Three positions of a cube are shown below. What will come opposite to face containing * ?

एक घन की तीन स्थितियाँ नीचे दिखाई गई हैं। * वाले फलक के विपरीत क्या आएगा?

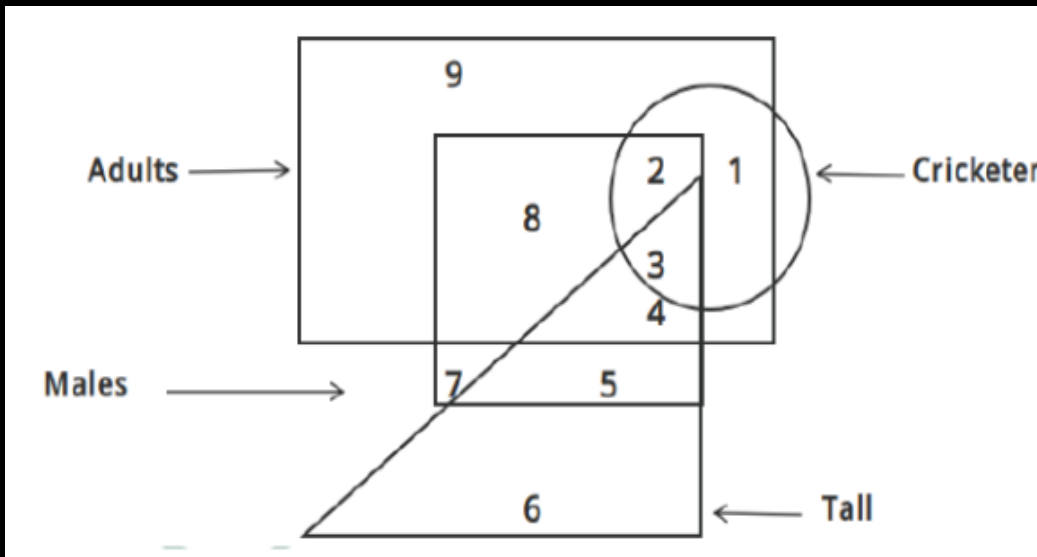


- (A) ↑
- (B) %
- (C) +
- (D) &



Q. 10 In the given figure, which number represents male cricketers who are adults but are not tall?

दिए गए आंकड़े में, कौन सी संख्या उन पुरुष क्रिकेटर्स को दर्शाती है जो वयस्क हैं लेकिन लंबे नहीं हैं

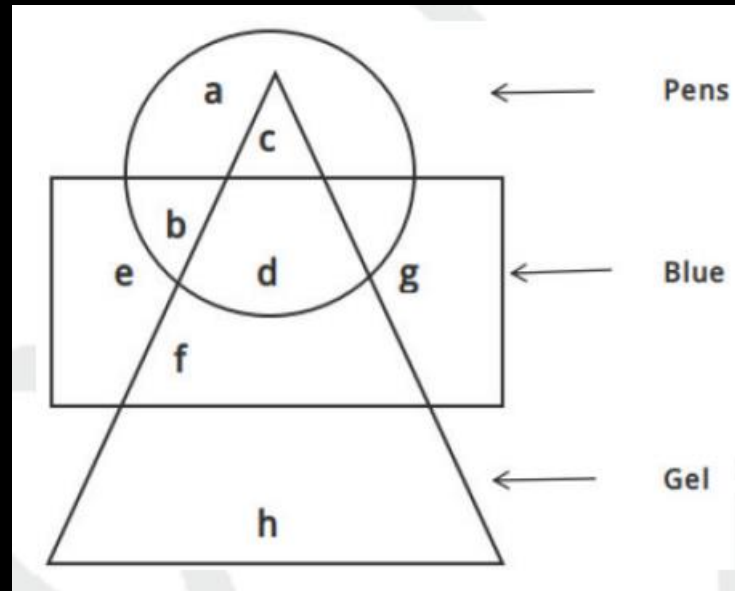


- (A) 3
- (B) 2
- (C) 8
- (D) 4



Q. 11 In the given figure, which alphabet represents gel pens which are not blue ?

दिए गए चित्र में, कौन सा अक्षर जेल पेन को दर्शाता है जो नीले नहीं हैं?

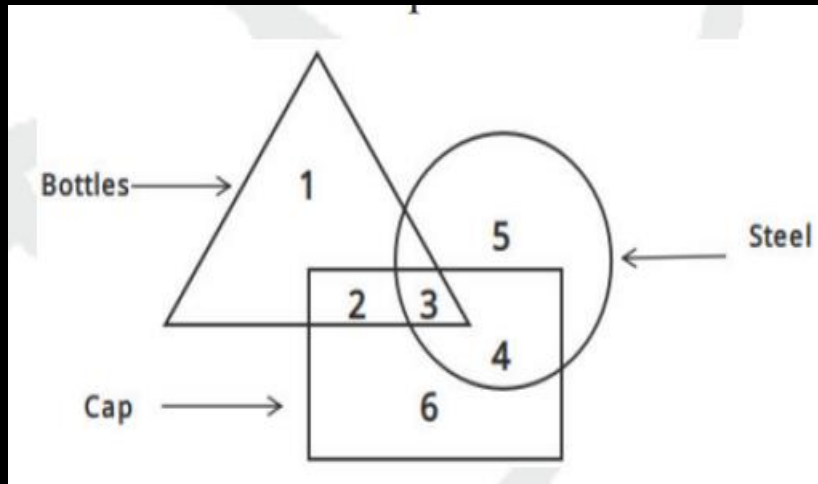


- (A) c
- (B) d
- (C) h
- (D) b



Q.12 In the given figure, which number represents steel bottles which are caps ?

दिए गए चित्र में, कौन सी संख्या स्टील की बोतलों को दर्शाती है जो ढक्कन वाली हैं?

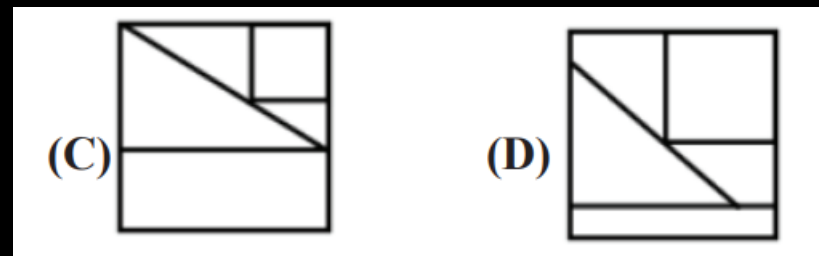
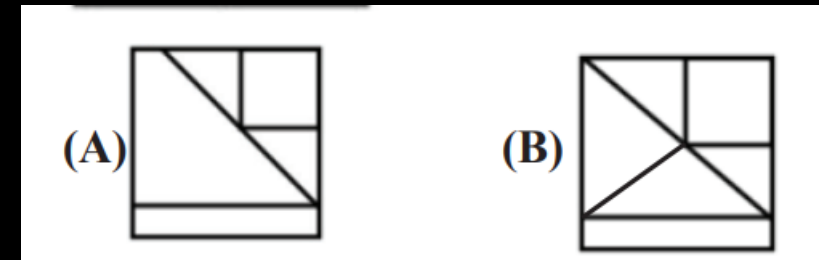
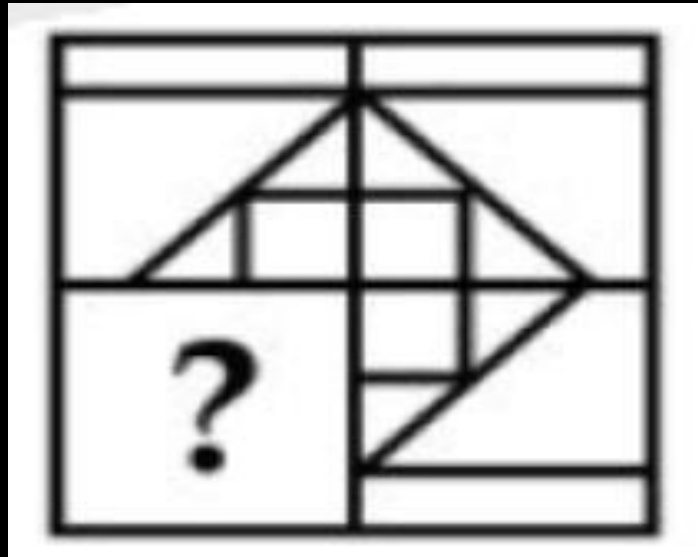


- (A) 2
- (B) 4
- (C) 3
- (D) 6



Q.13 Which answer figure will complete the pattern in the question figure ?

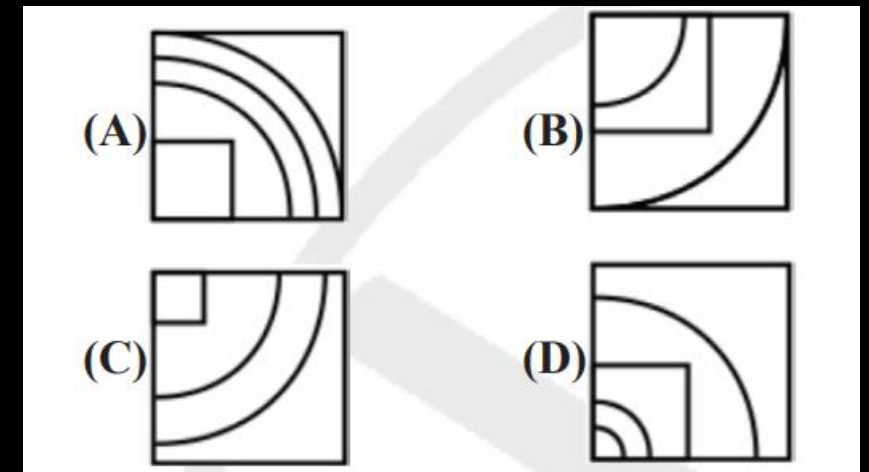
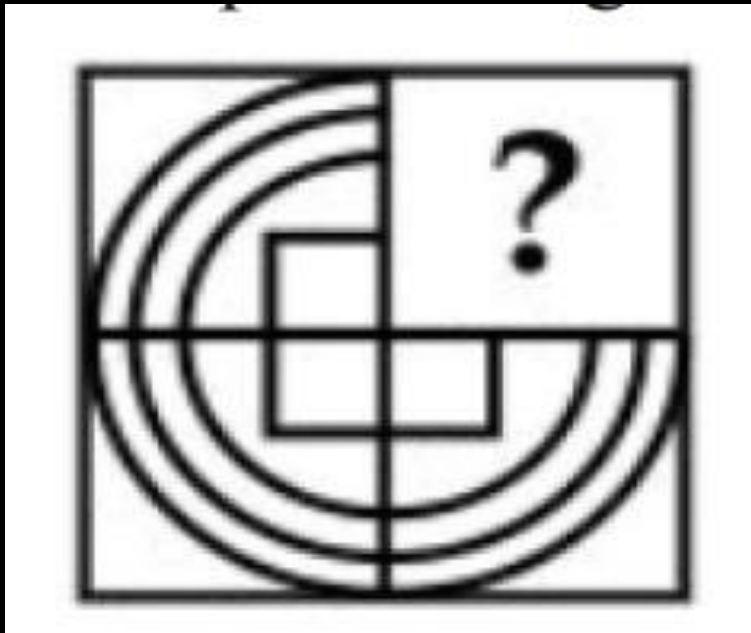
कौन सी उत्तर आकृति प्रश्न आकृति के पैटर्न को पूरा करेगी?





Q.14 Which answer figure will complete the pattern in the question figure ?

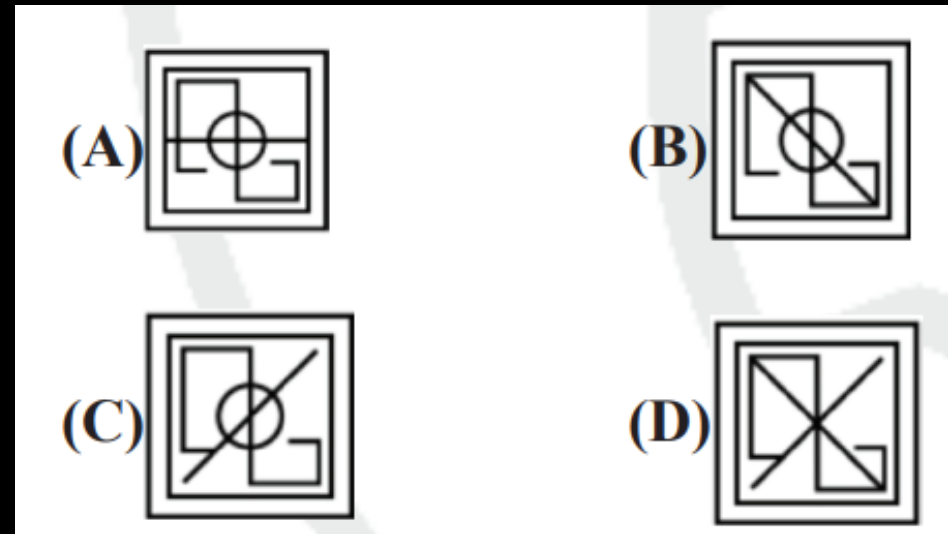
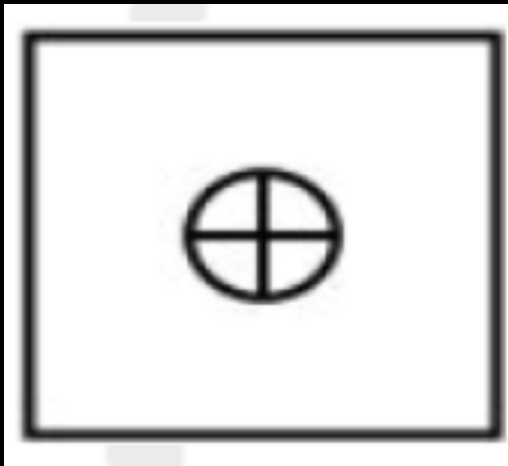
कौन सी उत्तर आकृति प्रश्न आकृति के पैटर्न को पूरा करेगी?





Q.15 From the given answer figures, select the one in which the question figure is hidden/embedded.

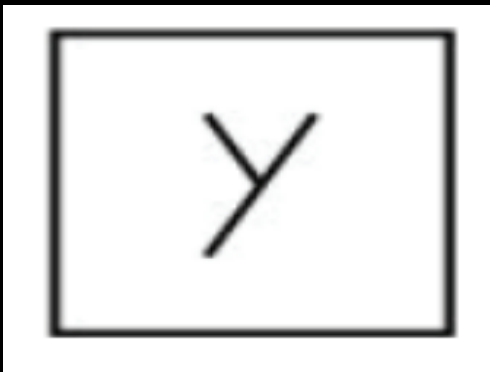
दिए गए उत्तर आकृतियों में से, उस उत्तर आकृति का चयन करें जिसमें प्रश्न आकृति छिपी/अंतर्निहित है।





Q.16 From the given answer figures, select the one in which the question figure is hidden/embedded.

दिए गए उत्तर आकृतियों में से, उस उत्तर आकृति का चयन करें जिसमें प्रश्न आकृति छिपी/अंतर्निहित है।

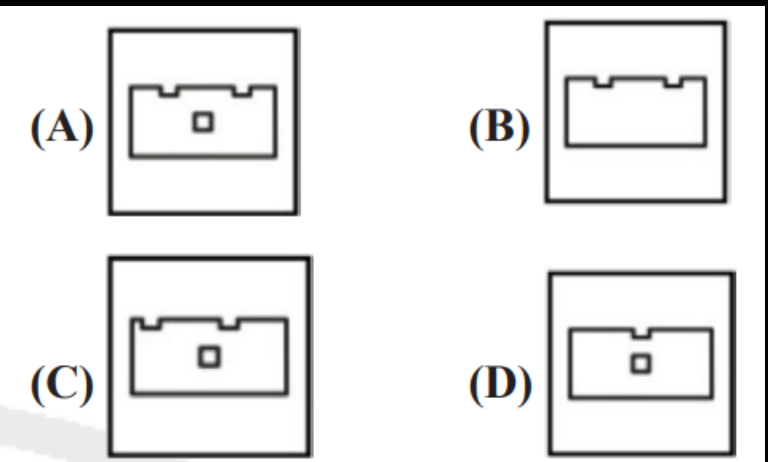



- (A)
- (B)
- (C)
- (D)



Q.17 A piece of paper is folded and punched as shown below in the question figures. From the given answer figures, indicate how it will appear when opened ?

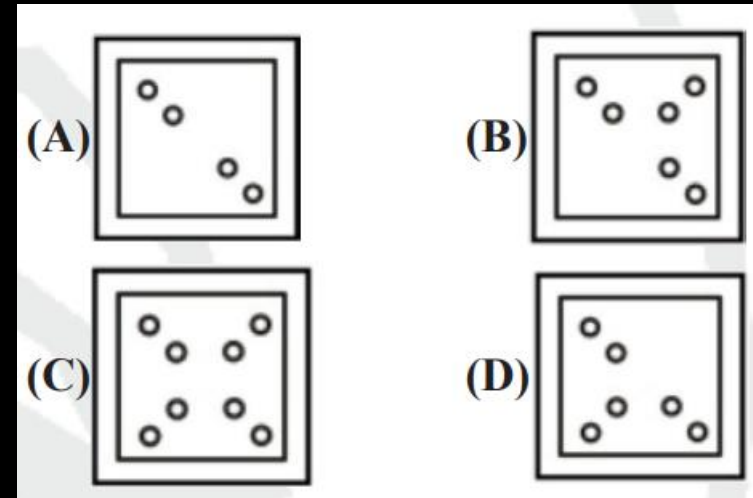

कागज के एक टुकड़े को मोड़कर छेद किया जाता है जैसा कि नीचे प्रश्न आकृतियों में दिखाया गया है। दिए गए उत्तर आकृतियों से बताइए कि खोलने पर यह कैसा दिखाई देगा?





Q.18 A piece of paper is folded and punched as shown below in the question figures. From the given answer figures, indicate how it will appear when opened ?

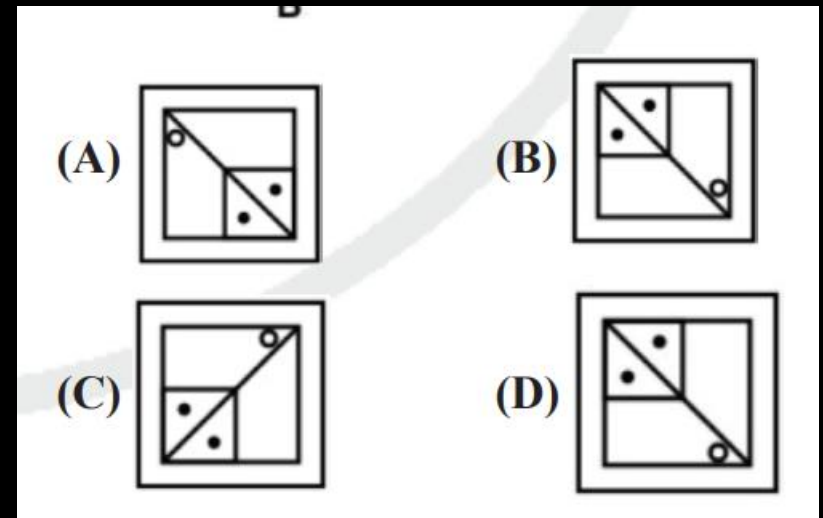
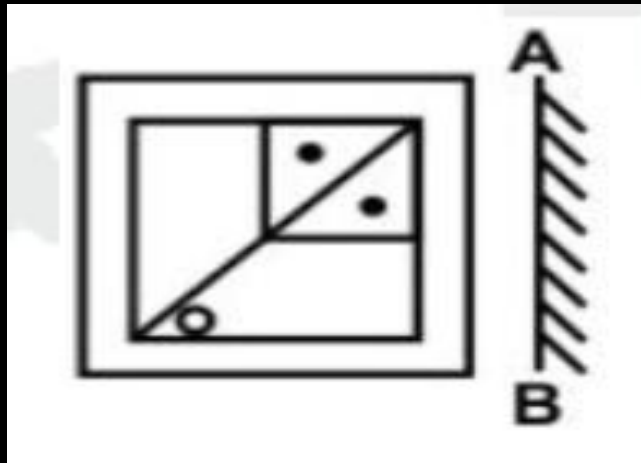
कागज के एक टुकड़े को मोड़कर छेद किया जाता है जैसा कि नीचे प्रश्न आकृतियों में दिखाया गया है। दिए गए उत्तर आकृतियों से बताइए कि खोलने पर यह कैसा दिखाई देगा?





Q.19 If a mirror is placed on the line AB, then which of the answer figures is the right image of the given figure ?

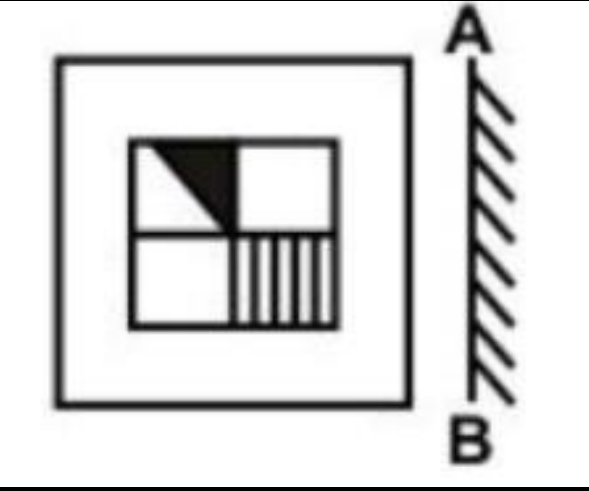
यदि एक दर्पण को रेखा AB पर रखा जाए, तो उत्तर आकृतियों में से कौन सी आकृति दी गई आकृति का सही प्रतिबिम्ब है?





Q.20 If a mirror is placed on the line AB, then which of the answer figures is the right image of the given figure ?

यदि एक दर्पण को रेखा AB पर रखा जाए, तो उत्तर आकृतियों में से कौन सी आकृति दी गई आकृति का सही प्रतिबिम्ब है?

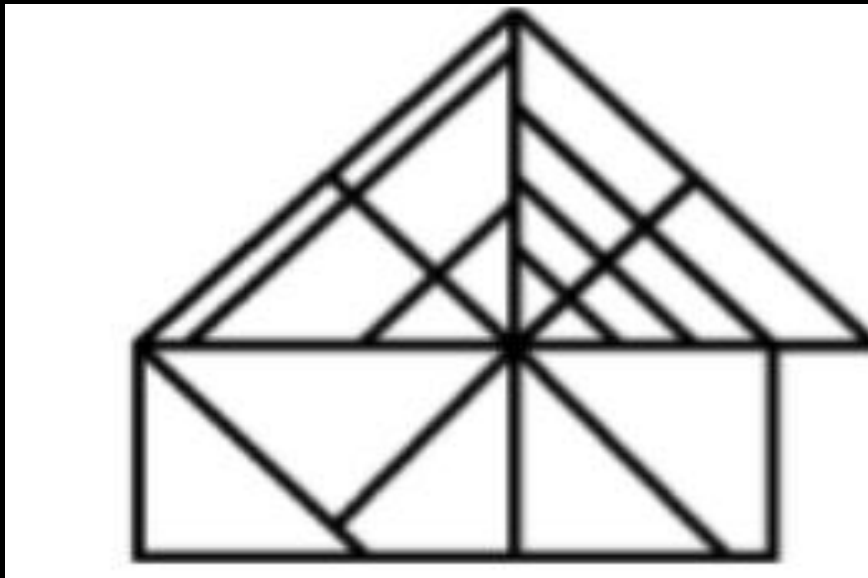


- (A)
- (B)
- (C)
- (D)



Q.21 How many triangles are there in the given figure ?

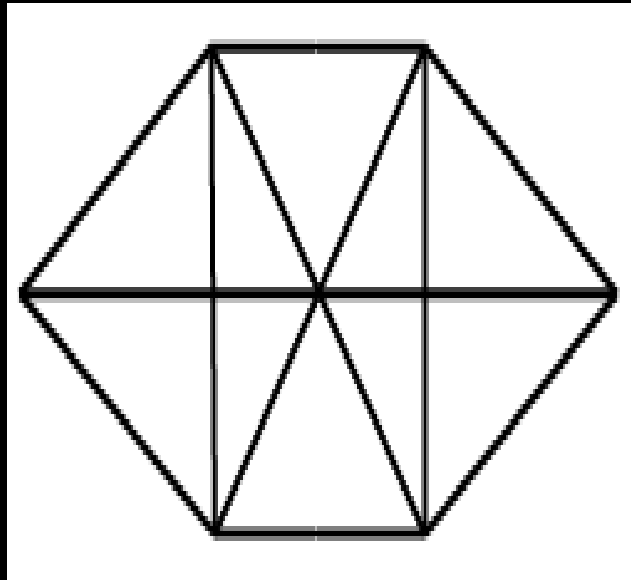
दी गई आकृति में कितने त्रिभुज हैं?



- (A) 27
- (B) 26
- (C) 25
- (D) 24



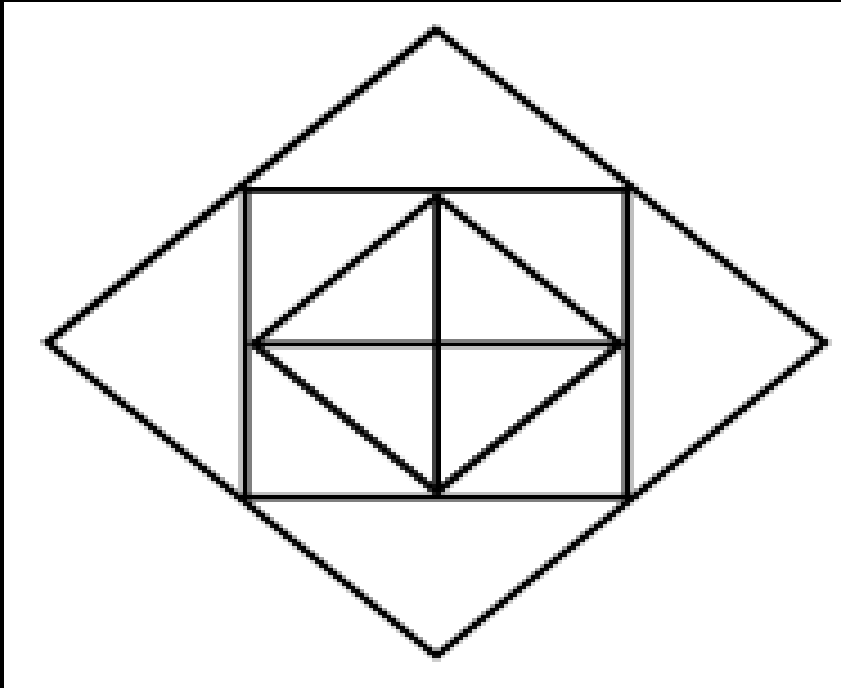
Q.22 How many triangles are there in the given figure ?
दी गई आकृति में कितने त्रिभुज हैं?



- (A) 16
- (B) 20
- (C) 22
- (D) 24



Q.23 How many triangles are there in the given figure ?
दी गई आकृति में कितने त्रिभुज हैं?



- (A) 12
- (B) 16
- (C) 9
- (D) 8



Q. 24 When the two hands are at right angles, they are how many minute spaces apart?

जब दोनों सुइयां समकोण पर होती हैं, तो उनके बीच कितने मिनट का अंतर होता है?



- (A) 13
- (B) 14
- (C) 15
- (E) 16



Q.25 How many times do the hands of a clock coincide in a day?

एक दिन में घड़ी की सूइयाँ कितनी बार एक साथ आती हैं?



(A)20

(B)21

(C)22

(D)24



THANK YOU