



MISSION SSC CPO/CHSL & CGL TIER II 2023



Reasoning DAY-8

Revision Class

1000 प्रश्नों की
धमाकेदार शृंखला

इस बार, आखिरी प्रहार



LIVE

06:00 PM





Q.1. Find the missing number from the below options.
नीचे दिए गए विकल्पों में से लुप्त संख्या ज्ञात कीजिए

18	5
13	23

35	17
18	?



- (A) 27
- (B) 52
- (C) 44
- (D) 67



Q.2. Fluorine is related to Halogen in the same way as Argentum is related to which one.

फ्लोरीन हैलोजन से उसी प्रकार संबंधित है जिस प्रकार अर्जेंटम किससे संबंधित है।



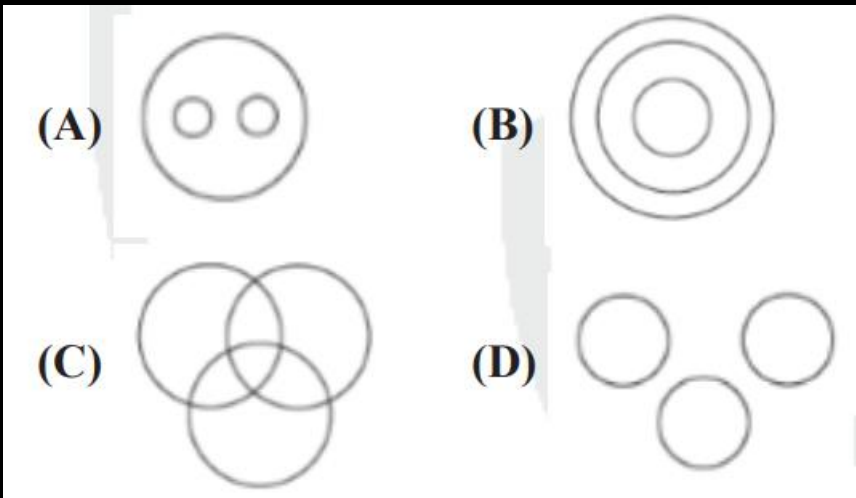
- (A) Radio Active
- (B) Gas
- (C) Metal
- (D) Inert Gas



Q.3 Select the Venn diagram that best represents the given set of classes.

उस वेन आरेख का चयन करें जो दिए गए वर्गों के सेट का सबसे अच्छा प्रतिनिधित्व करता है।

Bulls, Cows, Hens





Q.4. Four numbers have been given out of which three are alike in some manner, while one is different. Choose the odd one.

चार संख्याएँ दी गई हैं जिनमें से तीन किसी तरह से समान हैं, जबकि एक भिन्न है। असंगत का चयन करें।



(A)99

(B)117

(C)135

(D)105



Q.5. Four words have been given out of which three are alike in some manner, while one is different. Choose the odd one.

चार शब्द दिए गए हैं जिनमें से तीन किसी तरह से समान हैं, जबकि एक अलग है। असंगत का चयन करें।



- (A) Yellow**
- (B) Blue**
- (C) Pink**
- (D) Red**



Q.6 If '÷' means '+', '-' means '÷', '×' means '-' and '+' means '×' then find the value of

यदि '÷' का अर्थ '+' है, '-' का अर्थ '÷' है, '×' का अर्थ '-' है और '+' का अर्थ '×' है तो इसका मान ज्ञात कीजिए

$$(12 \times 4) - 2 \times 4$$

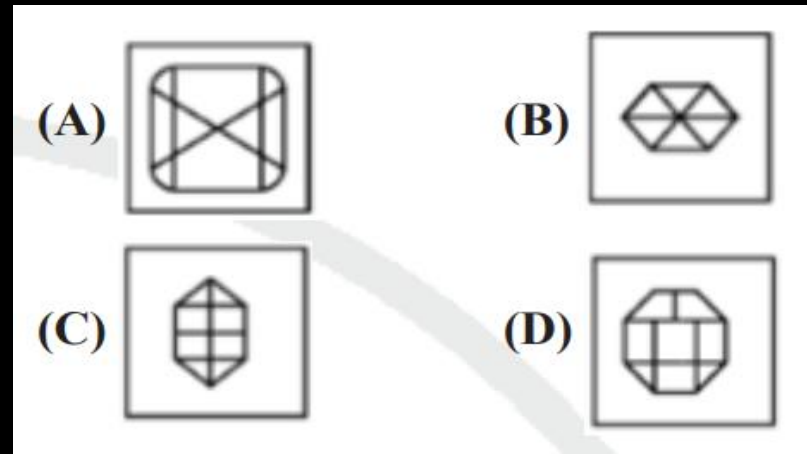
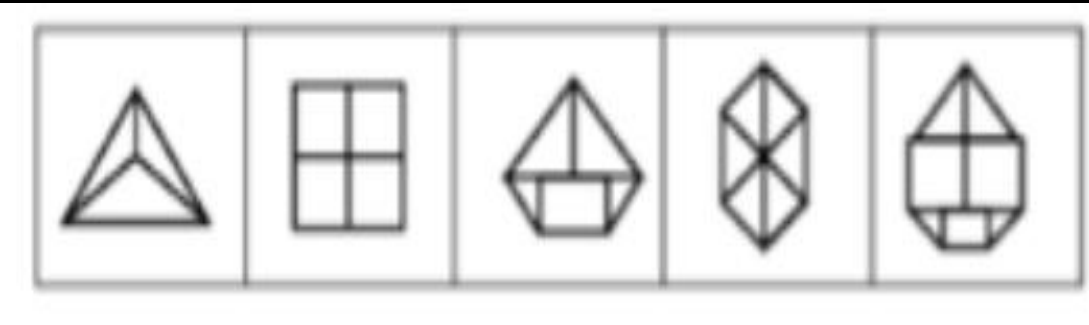


- (A) 1
- (B) 3
- (C) 0
- (D) 2



Q.7. Select the correct option that will come next in the following series.

उस सही विकल्प का चयन करें जो निम्नलिखित श्रृंखला में आगे आएगा।





Q.8 Statements: All rupees are dollar/ सभी रुपये डॉलर हैं
All dollars are coin./सभी डॉलर सिक्के हैं.
Conclusion I: No coins are rupees./ कोई सिक्के रुपये नहीं हैं.
Conclusion II: All rupees are coin./ सभी रुपये सिक्के हैं.



- (A) Only conclusion II follows.
- (B) Only conclusion I follows.
- (C) Neither conclusion I nor conclusion II follows.
- (D) Both conclusions I and II follow



Q.9. Find the odd letter group.

विषम अक्षर समूह ज्ञात कीजिए।



- (A) XZ
- (B) GI
- (C) FG
- (D) MO



Q.10 Malini went from her office to the bank. She started her journey facing West. First, she went 2 km straight; then she turned to her right and went 3 km. finally, she turned left and walked 2 km to reach the bank. What is the shortest distance between Malini's office and the bank?

मालिनी अपने ऑफिस से बैंक गयी। उसने अपनी यात्रा पश्चिम की ओर मुख करके प्रारंभ की। सबसे पहले, वह 2 किमी सीधी चली गई; फिर वह अपनी दाईं ओर मुड़ी और चली गई। 3 कि.मी. अंततः, वह बायीं ओर मुड़ी और बैंक तक पहुँचने के लिए 2 किमी चली। मालिनी के कार्यालय और बैंक के बीच न्यूनतम दूरी क्या है?



- (A) 3.5 km
- (B) 3 km
- (C) 4 km
- (D) 5 km



Q.11 Select the option that is related to the third term in the same way as the second term is related to the first term.

उस विकल्प का चयन करें जो तीसरे पद से उसी प्रकार संबंधित है जैसे दूसरा पद पहले पद से संबंधित है।

EP : MX :: AI : ?

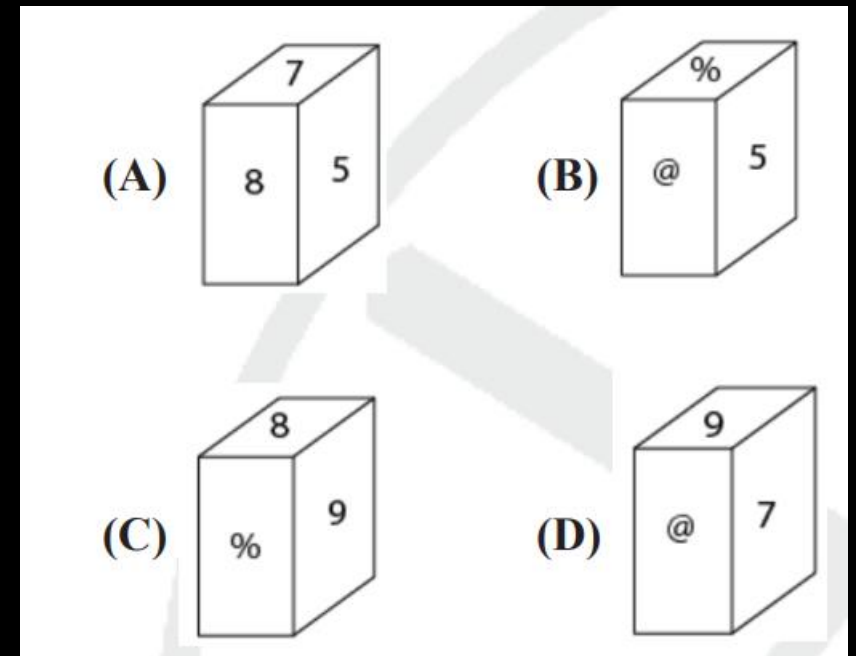
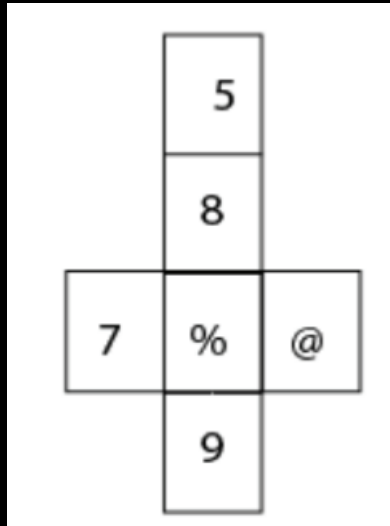


- (A) IM**
- (B) IQ**
- (C) JP**
- (D) IJ**



Q.12. From the options, select the cube that can be formed by folding the given sheet.

विकल्पों में से उस घन का चयन करें जो दी गई शीट को मोड़कर बनाया जा सकता है।





Q.13. Select the correct option that will fill in the blank and complete the series.

उस सही विकल्प का चयन करें जो रिक्त स्थान को भरेगा और श्रृंखला को पूरा करेगा।

B, E, H, K, N, Q,



- (A)U
- (B)S
- (C)R
- (D)T



Q.14 Statement: Drinking milk is beneficial for health.

दूध पीना सेहत के लिए फायदेमंद होता है.

Conclusion I: All healthy people drink milk.

सभी स्वस्थ लोग दूध पीते हैं।

Conclusion II: Milk is harmful to the child.

दूध बच्चे के लिए हानिकारक होता है।

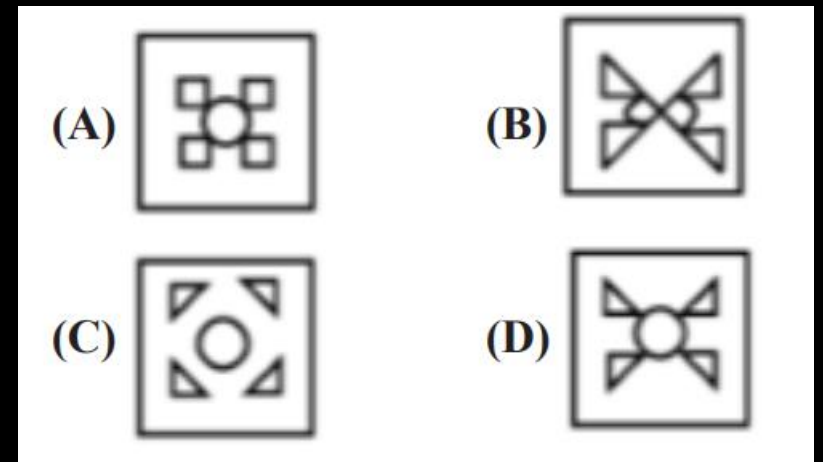
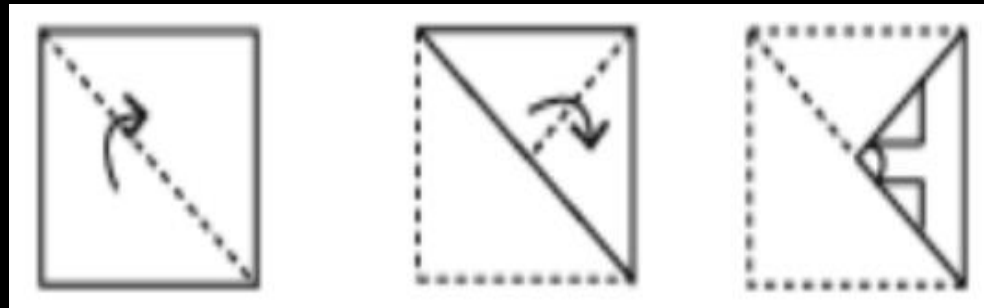


- (A) Both conclusions I and II follow.
- (B) Only conclusion I follows.
- (C) Only conclusion II follows.
- (D) Neither conclusion I nor conclusion II follows.



Q.15 Observe the above figures which show the process of cutting a drawing paper. Identify the resultant of it from the following options.

उपरोक्त आंकड़ों पर गौर करें जो ड्राइंग पेपर को काटने की प्रक्रिया को दर्शाते हैं। निम्नलिखित विकल्पों में से इसका परिणाम पहचानिए।





Q.16. If in a code language, BANK is written as AZMJ and TABLE is written as SZAKD, then which letter will be there in seventh place from right after coding COMPUTER in the same way?

यदि किसी कूट भाषा में BANK को AZMJ और TABLE को SZAKD लिखा जाता है, तो COMPUTER को उसी प्रकार कूटबद्ध करने के बाद दायें से सातवें स्थान पर कौन सा अक्षर होगा?



- (A)S
- (B)T
- (C)N
- (D)Q



Q.17 Statements: All wheat are barley./ सभी गेहूँ जौ हैं।
All peas are barley/ सभी मटर जौ हैं

Conclusion I: Some wheat are peas./ कुछ गेहूँ मटर हैं।

Conclusion II: No wheat is peas./ कोई गेहूँ मटर नहीं है।

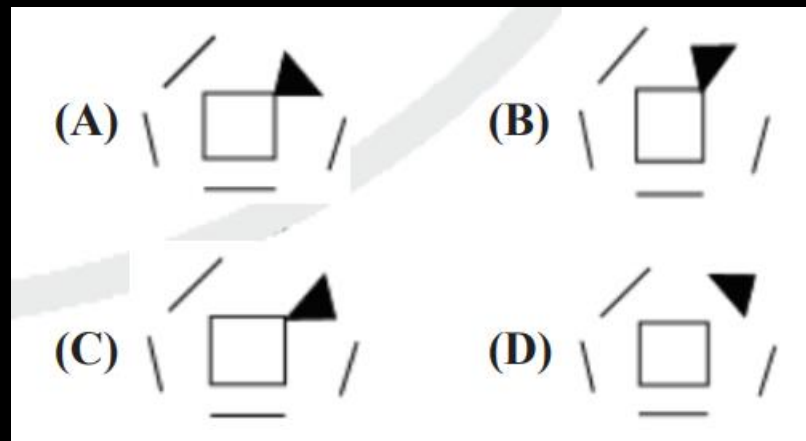


- (A) Only conclusion I follows.
- (B) Either conclusion I or conclusion II follows.
- (C) Only conclusion II follows.
- (D) Both conclusions I and II follow



Q.18. Choose the correct option that will replace the question mark and continue the given figure series.

उस सही विकल्प का चयन करें जो प्रश्न चिह्न को प्रतिस्थापित करेगा और दी गई आकृति श्रृंखला को जारी रखेगा।





Q.19. Select the option that is related to the fourth term in the same way as the first term is related to the second term.

उस विकल्प का चयन करें जो चौथे पद से उसी प्रकार संबंधित है जैसे पहला पद दूसरे पद से संबंधित है।

Apple : Peach :: ? : Cream / सेब : आड़ू :: ? : मलाई



- (A) Butter
- (B) Cookie
- (C) Bread
- (D) Cake



Q.20. Select the correct option that will fill in the blank and complete the series.

उस सही विकल्प का चयन करें जो रिक्त स्थान को भरेगा और श्रृंखला को पूरा करेगा।

ZCC, XEE,, TII, RKK



- (A)RGG**
- (B)SGG**
- (C)UGG**
- (D)VGG**



THANK YOU