



SSC MTS 2023

5 MOCK TESTS

लगगत्तार

PAPER - 3

REASONING

LIVE 10:00 AM



SSC MTS 2023 – MOCK TEST 3 (REASONING)

Q.1 'Mary Kom' is related to 'Boxing' in the same way as 'PT Usha' is related to '_____'.
Q.1 'मैरी कॉम' 'मुक्केबाजी' से उसी प्रकार संबंधित है जैसे 'पीटी उषा' '_____ ' से संबंधित है।

'मैरी कॉम' 'मुक्केबाजी' से उसी प्रकार संबंधित है जैसे 'पीटी उषा' '_____ ' से संबंधित है।

- A. Running
- B. Shooting
- C. Weightlifting
- D. Wrestling

SSC MTS 2023 – MOCK TEST 3 (REASONING)

Q.2 Which letter-cluster from the options will replace the question mark (?) to complete the given series?

दी गई श्रृंखला को पूरा करने के लिए विकल्पों में से कौन सा अक्षर-समूह प्रश्न चिह्न (?) को प्रतिस्थापित करेगा?

HJKL, GHHH, FFED, ?

A. EEB
Z

B. EDB
Z

C. EED

SSC MTS 2023 – MOCK TEST 3 (REASONING)

Q.3 Statements: No soap is a dessert./ कोई साबुन मिठाई नहीं है.

All desserts are cups./ सभी मिठाइयाँ कप हैं

Conclusions: I. No dessert is a soap./ कोई मिठाई साबुन नहीं है.

II. Some cups are desserts./ कुछ कप मिठाइयाँ हैं।

III. Some desserts are soaps./ कुछ मिठाइयाँ साबुन हैं।

IV. All cups are desserts./ सभी कप मिठाइयाँ हैं।

A. Both conclusions I and IV follow.

B. Only conclusion I follows.

C. Only conclusion II



SSC MTS 2023 – MOCK TEST 3 (REASONING)

Q.4 Which two signs should be interchanged to make the given equation correct?

दिए गए समीकरण को सही बनाने के लिए किन दो चिन्हों को आपस में बदला जाना चाहिए?

$$36 - 6 \div 6 \times 6 + 30 = 0$$

- A. – and ÷
- B. + and ×
- C. ÷ and ×
- D. – and +

SSC MTS 2023 – MOCK TEST 3 (REASONING)

Seven persons, A, B, C, D, E, F, G, are sitting around a circular table facing towards the centre.

सात व्यक्ति, A, B, C, D, E, F, G, एक गोलाकार मेज के चारों ओर केंद्र की ओर मुख करके बैठे हैं।

- 1) C is the neighbour of A and G. / C, A और G का पड़ोसी है।
- 2) B is to the immediate right of A. / B, A के ठीक दाएँ ओर है।
- 3) F is second to the left of D. / F, D के बाएँ से दूसरे स्थान पर है।

Q.5 What is G's position? / G का स्थान क्या है?

- A. To the immediate left of D
- B. Second to the right of F
- C. Between C and D

SSC MTS 2023 – MOCK TEST 3 (REASONING)

Q.6 Select the option that is related to the third letter-cluster in the same way as the second letter-cluster is related to the first letter-cluster.

उस विकल्प का चयन करें जो तीसरे अक्षर-समूह से उसी प्रकार संबंधित है जैसे दूसरा अक्षर-समूह पहले अक्षर-समूह से संबंधित है।

FEMININE : ENIMINEF ::

HOMEWORK : ?A. MOHOWEK

R

B. RKWOMEH

O

C. KREMOWO





SSC MTS 2023 – MOCK TEST 3 (REASONING)

Q.7 Select the option that is related to the fifth number in the same way as the second number is related to the first number and the fourth number is related to the third number.

उस विकल्प का चयन करें जो पाँचवीं संख्या से उसी प्रकार संबंधित है जैसे दूसरी संख्या पहली संख्या से संबंधित है और चौथी संख्या तीसरी संख्या से संबंधित है।

8 : 514 :: 3 : 29 :: 7 : ?



A. 325

B. 355

C. 335

D. 345

SSC MTS 2023 – MOCK TEST 3 (REASONING)

Q.8 Select the option that is related to the fifth letter-cluster in the same way as the second letter-cluster is related to the first letter-cluster and the fourth letter-cluster is related to the third letter-cluster.

उस विकल्प का चयन करें जो पांचवें अक्षर-समूह से उसी प्रकार संबंधित है जैसे दूसरा अक्षर-समूह पहले अक्षर-समूह से संबंधित है और चौथा अक्षर-समूह तीसरे अक्षर-समूह से संबंधित है।

SON : TPO :: BRO : CSP :: BIL : ?

A. CHM

B. CJN

C. CJM

D. DJM



SSC MTS 2023 – MOCK TEST 3 (REASONING)

Q.9 In a certain code language, 'GEAR' is coded as '16', 'ANT' is coded as '9' and 'HEART' is coded as '25'. How will 'TEAR' be coded in that language?

एक निश्चित कोड भाषा में, 'GEAR' को '16' के रूप में कोडित किया जाता है, 'ANT' को '9' के रूप में कोडित किया जाता है और 'HEART' को '25' के रूप में कोडित किया जाता है। उस भाषा में 'TEAR' को कैसे कोडित किया जाएगा?



- A. 16
- B. 49
- C. 9
- D. 36



SSC MTS 2023 – MOCK TEST 3 (REASONING)

Q.10 Which number will replace the question mark (?) in the following series?

निम्नलिखित श्रृंखला में कौन सी संख्या प्रश्न चिह्न (?) का स्थान लेगी?

89, 90, 82, 109, 45

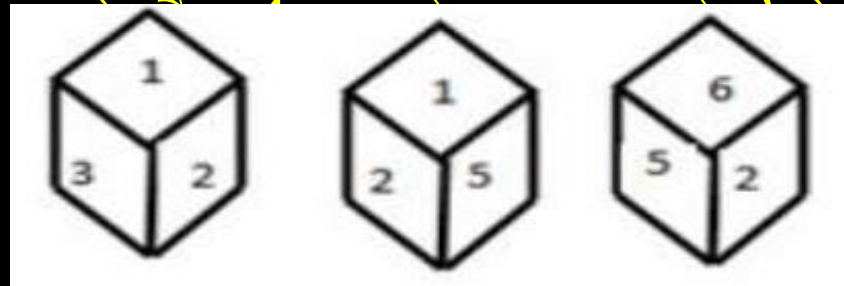


- (A)-80
- (B)125
- (C)17
- 0
- (D)10

SSC MTS 2023 – MOCK TEST 3 (REASONING)

Q.11 Three different positions of the same dice are shown. Find the number on the face opposite to the one having 1

एक ही पासे की तीन अलग-अलग स्थितियाँ दिखाई
दिए हैं। 1 के विपरीत फलक पर संख्या



- (A) 6
- (B) 3
- (C) 4
- (D) 2



SSC MTS 2023 – MOCK TEST 3 (REASONING)

Q.12 In a code language, 'CERTAIN' is written as 'XVIGZRM'. How will 'CLIMATE' be written as in that language?

एक कूट भाषा में, 'CERTAIN' को 'XVIGZRM' के रूप में लिखा जाता है। उस भाषा में 'CLIMATE' कैसे लिखा जाएगा?



(A) XORNZG

V

(B) XORNZV

G

(C)



SSC MTS 2023 – MOCK TEST 3 (REASONING)

Q.13 Arrange the following words in a logical and meaningful order.

निम्नलिखित शब्दों को तार्किक और सार्थक क्रम में व्यवस्थित करें।

A. Lustrum/ द्युति

B. Century /शतक

C. Year /वर्ष

D. Millennium

/सहस्राब्दी

E. Decade/दशक



(A) 2, 1, 5,

3, 4

(B) 5, 1, 3,

2, 4

(C) 3, 1, 5,



SSC MTS 2023 – MOCK TEST 3 (REASONING)

Q.14 Three of the following four numbers are alike in a certain way and one is different. Pick the number that is different from the rest.

निम्नलिखित चार में से तीन संख्याएँ एक निश्चित तरीके से समान हैं और एक भिन्न है।



(A)8311

5

(B)5421

5

(C)4321



SSC MTS 2023 – MOCK TEST 3 (REASONING)

Q.15 If 'FORTUNE' is coded as '6521347' and 'PREY' is coded as '8279' then how will 'NEPTUNE' be coded as?

यदि 'FORTUNE' को '6521347' और 'PREY' को '8279' के रूप में कोडित किया जाता है, तो 'NEPTUNE' को किस प्रकार कोडित किया जाएगा?



(A)47813

47

(B)47813

42

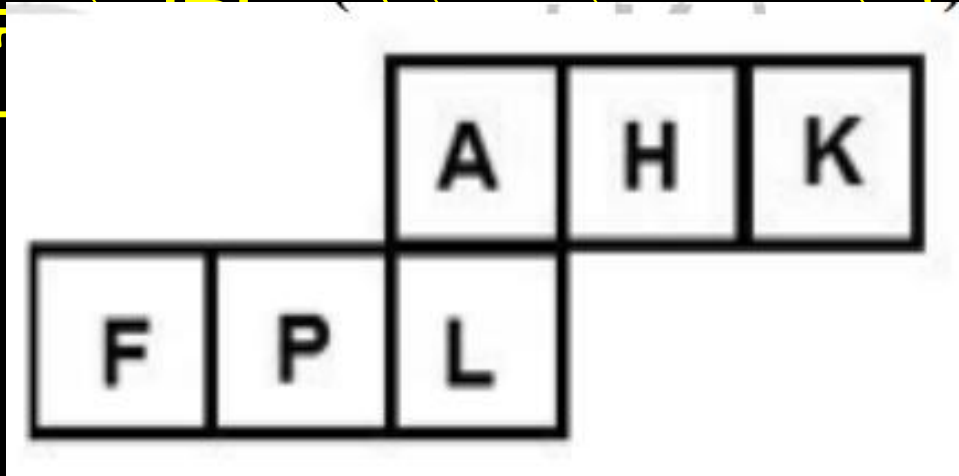
(C)47823



SSC MTS 2023 – MOCK TEST 3 (REASONING)

Q.16 A cube is made by folding the given sheet. In the cube so formed, which letter will be on the face opposite to the one showing 'P'?

दी गई शीट को मोड़कर एक घन बनाया जाता है। इस प्रकार बने घन में 'P' वाले फलक के विपरीत फलक पर कौन सा अक्षर होगा?



- (A) L
- (B) H
- (C) A
- (D) K



SSC MTS 2023 – MOCK TEST 3 (REASONING)

Q.17 If 'P' means '×', 'Q' means '+', 'R' means '÷' and 'S' means '-', then

यदि 'P' का अर्थ '×' है, 'Q' का अर्थ '+' है, 'R' का अर्थ '÷' है और 'S' का अर्थ '-' है, तो



$$56 R 8 Q 13 S 42 R 21 P 5 = ?$$

A 12

B 8

C 24

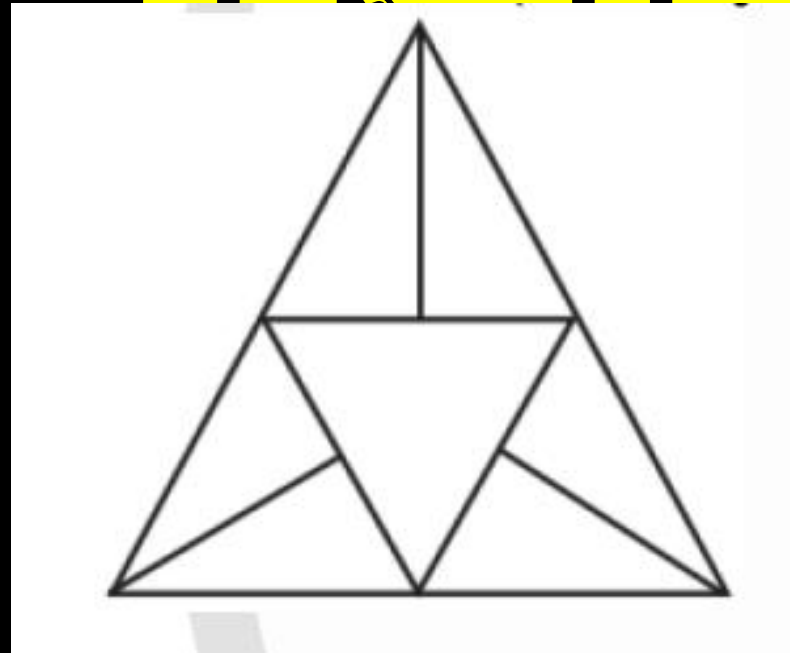
D 10



SSC MTS 2023 – MOCK TEST 3 (REASONING)

Q.18 How many triangles are there in the given figure ?

दिए गए चित्र में कितने त्रिभुज हैं?

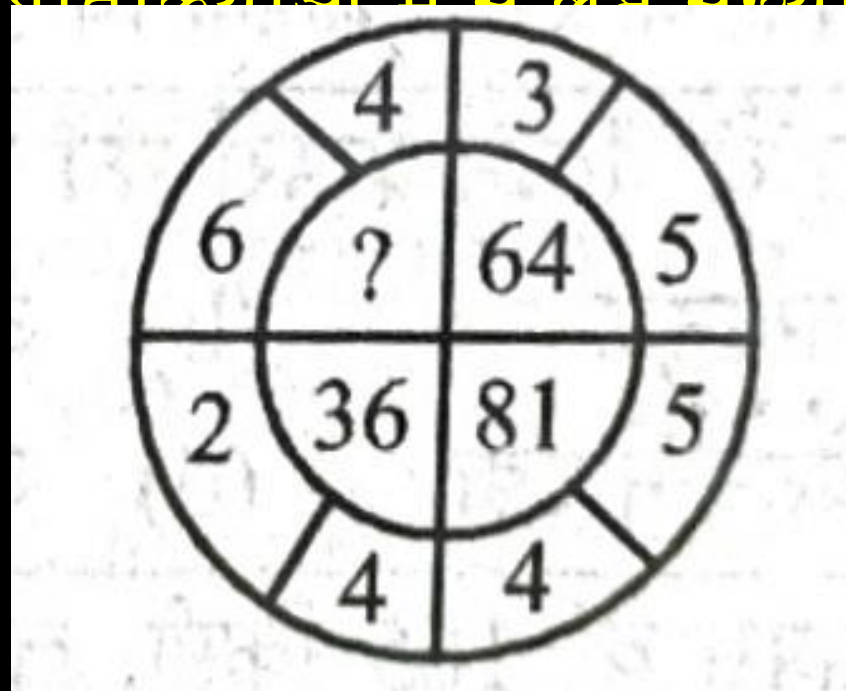


- (A) 10
- (B) 11
- (C) 12
- (D) 14

SSC MTS 2023 – MOCK TEST 3 (REASONING)

Q.19 Select the missing number from the responses.

प्रतिक्रियाओं में से सही संख्या का चयन करें।



(A)

25

(B)

49

(C)

100



SSC MTS 2023 – MOCK TEST 3 (REASONING)

Q.20 Mayank remembers that the examination is after 18th December but before 21st December, while Suraj remembers that examination is before 24th December but after 19th December .On which date of December is the examination?

मयंक को याद है कि परीक्षा 18 दिसंबर के बाद है लेकिन 21 दिसंबर से पहले है, जबकि सूरज को याद है कि परीक्षा 24 दिसंबर से पहले है लेकिन 19 दिसंबर के बाद है। परीक्षा दिसंबर की किस तारीख को है?

(A) 20



SSC MTS 2023 – MOCK TEST 3 (REASONING)

THANK YOU