



MISSION SSC CPO/CHSL & CGL TIER II 2023



Reasoning DAY-4

Revision Class

1000 प्रश्नों की
धमाकेदार शृंखला

इस बार, आखिरी प्रहार



LIVE 06:00 PM



MISSION SSC CPO/CHSL & CGL TIER II 2023

Q.1 In the word EMASCULATE, the place value of the letters according to English alphabet are written in descending order then which number is fourth from the left end?

EMASCULATE शब्द में अंग्रेजी वर्णमाला के अनुसार अक्षरों का स्थानीय मान अवरोही क्रम में लिखा गया है तो बायें छोर से चौथी संख्या कौन सी है?



- (A)13
- (B)14
- (C)12
- (D)1



MISSION SSC CPO/CHSL & CGL TIER II 2023

Q.2 How many 'T' are present in the given series, which is immediately followed by 'K' but not immediately preceded by 'K'.

दी गई श्रृंखला में कितने 'T' मौजूद हैं, जिनके ठीक बाद 'K' है लेकिन ठीक पहले 'K' नहीं है।

B C D T K N P Q R T U V W T K Z K T L K N N K T F G Z H K T K N G H J
L N K T T



- (A) One
- (B) Two
- (C) Three
- (D) Four



MISSION SSC CPO/CHSL & CGL TIER II 2023

Q.3 In a certain code language, 'ZEBRA' is written as 'WBYAJ'.
How will 'HORSE' be written in that same code?

एक निश्चित कूट भाषा में, 'ZEBRA' को 'WBYAJ' लिखा जाता है। उसी कोड में
'HORSE' कैसे लिखा जाएगा?



- (A) MITI
W
- (B) MWIT
I
- (C) MJTK



MISSION SSC CPO/CHSL & CGL TIER II 2023

Q.4 If 'TITAN' is coded as '48797', then how will you code 'WATCH'?

यदि 'TITAN' को '48797' के रूप में कोडित किया गया है, तो आप 'WATCH' को कैसे कोडित करेंगे?



- (A) 67841
- (B) 16784
- (C) 34896
- (D) 16759



MISSION SSC CPO/CHSL & CGL TIER II 2023

Q.5 Lucky walks 7 km in the east then he turns to his right and moves 20 km then he turns to his left and moves 5 km then again he turns to his left and moves 11 km. Now in which direction is he from his starting point and how far?

लकी 7 किमी पूर्व की ओर चलता है, फिर वह अपनी दाईं ओर मुड़ता है और 20 किमी चलता है, फिर वह अपनी बाईं ओर मुड़ता है और 5 किमी चलता है, फिर वह अपनी बाईं ओर मुड़ता है और 11 किमी चलता है। अब वह अपने प्रारंभिक बिंदु से किस दिशा में है और कितनी दूर है?



- (A) 9 km, South
- (B) 64 km, East
- (C) 15 km, South-East
- (D) 7 km, South




MISSION SSC CPO/CHSL & CGL TIER II 2023

Q.6 P, Q, R, S, T and X are members of a family. There are two married couples. Q is an engineer and the father of T. X is the grandfather of R and is a lawyer. S is the grandmother of T and is housewife. There are one engineer, one lawyer, one teacher one housewife and two students in the family. P is the daughter-in-law of X.

How many male members are there in the family?

P, Q, R, S, T और X एक परिवार के सदस्य हैं। दो विवाहित जोड़े हैं। Q एक इंजीनियर है और T का पिता है। X, R का दादा है और एक वकील है। S, T की दादी है और गृहिणी है। परिवार में एक इंजीनियर, एक वकील, एक शिक्षक, एक गृहिणी और दो छात्र हैं।

P, X की पुत्रवधू है। परिवार में कितने पुरुष सदस्य हैं?



- (A) 4
- (B) 2
- (C) 6
- (D) 3



MISSION SSC CPO/CHSL & CGL TIER II 2023

"A+B" means 'B is the daughter of A.' / "A+B" का अर्थ है 'B, A की बेटी है।

"A×B" means 'B is the son of A' / "A×B" का अर्थ है 'B, A का पुत्र है

"A-B" means 'B is the wife of A' / "A-B" का अर्थ है 'B, A की पत्नी है'

Q.7 If 'Z×T-S×U+P', how is U related to Z?

यदि 'Z×T-S×U+P', तो U, Z से किस प्रकार संबंधित है?

- (A) Mother
- (B) Grandmother
- (C) Father
- (D) None of



MISSION SSC CPO/CHSL & CGL TIER II 2023



Q.8 Statements: All seven are eight./ सभी सात आठ हैं.

Some eight are nine./कुछ आठ नौ हैं.

Some nine are six./कुछ नौ छह हैं.

All six are four. / सभी छह चार हैं

Conclusions: I. Some seven being nine is a possibility.

कुछ सात के नौ होने की संभावना है

II. Some eight not being four is a possibility.

कुछ आठ के चार न होने की संभावना है।

(A) If only conclusion I follows.

(B) If only conclusion II follows.

(C) If neither conclusion I nor II follows.

(D) If both conclusions I and II follow.



MISSION SSC CPO/CHSL & CGL TIER II 2023

Q.9 If each of the vowels in the word IMPOSE is changed to the next letter in the English alphabet then which of the following will be the fifth letter from the left end?

यदि IMPOSE शब्द के प्रत्येक स्वर को अंग्रेजी वर्णमाला के अगले अक्षर से बदल दिया जाए तो बाएं छोर से पांचवां अक्षर निम्नलिखित में से कौन सा होगा?



- (A)P
- (B)J
- (C)F
- (D)S

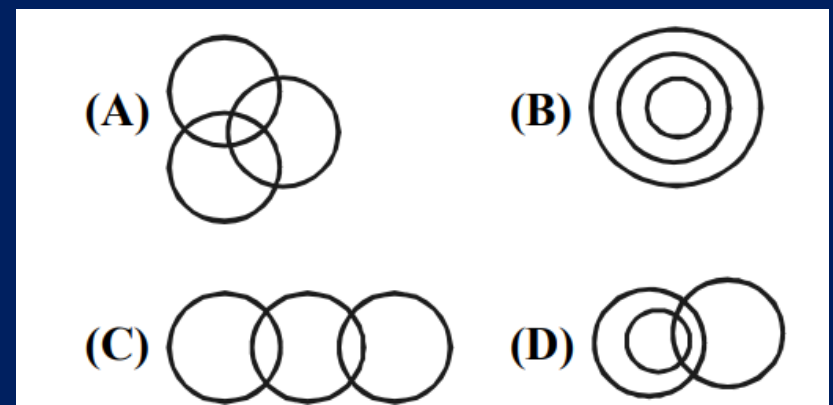


MISSION SSC CPO/CHSL & CGL TIER II 2023

Q.10 Find out which of the diagrams as given in the alternatives correctly represents the relationship among.

ज्ञात कीजिए कि विकल्पों में दिए गए आरेखों में से कौन सा आरेख आपस में संबंध को सही ढंग से दर्शाता है

Polygon, Rectangle, Square/बहुभुज, आयत, वर्ग



- (A) A
- (B) B
- (C) C
- (D) D



MISSION SSC CPO/CHSL & CGL

TIER II 2023

Q.11 Eleven students A, B, C, D, E, F, G, H, I, J and K are sitting in first line facing north towards the teacher. D who is just to the left of F, is at second place to the right of C. A is second to the right of E who is at one end. J is the neighbour of A and B and third place left to the G. H is next to the left D and is at the third place to the right of I. Who is third to the right of K?

ग्यारह छात्र A, B, C, D, E, F, G, H, I, J और K पहली पंक्ति में शिक्षक की ओर उत्तर की ओर मुख करके बैठे हैं। D जो F के ठीक बाईं ओर है, C के दाईं ओर दूसरे स्थान पर है। A, E के दाईं ओर दूसरे स्थान पर है जो एक छोर पर है। J, A और B का पड़ोसी है और G के बाएं तीसरे स्थान पर है। H, D के बाएं बगल में है और I के दाएं तीसरे स्थान पर है। K के दाएं तीसरे स्थान पर कौन है?



- (A) I
- (B) J
- (C) B
- (D) G



MISSION SSC CPO/CHSL & CGL TIER II 2023

Q.12 Select the related word/letters/number from the given alternatives

दिए गए विकल्पों में से संबंधित शब्द/अक्षर/संख्या का चयन करें

$$9 : 162 :: 8 : ?$$



- (A) 162
- (B) 128
- (C) 96
- (D) 112



MISSION SSC CPO/CHSL & CGL TIER II 2023

Q.13 Find the odd number from the given alternatives
दिए गए विकल्पों में से विषम संख्या ज्ञात कीजिए



- (A) 125
- (B) 512
- (C) 1331
- (D) 1728



MISSION SSC CPO/CHSL & CGL TIER II 2023

Q.14 Choose the correct option that will complete the series.

वह सही विकल्प चुनें जो श्रृंखला को पूरा करेगा

72, 83, 95, 108, _____



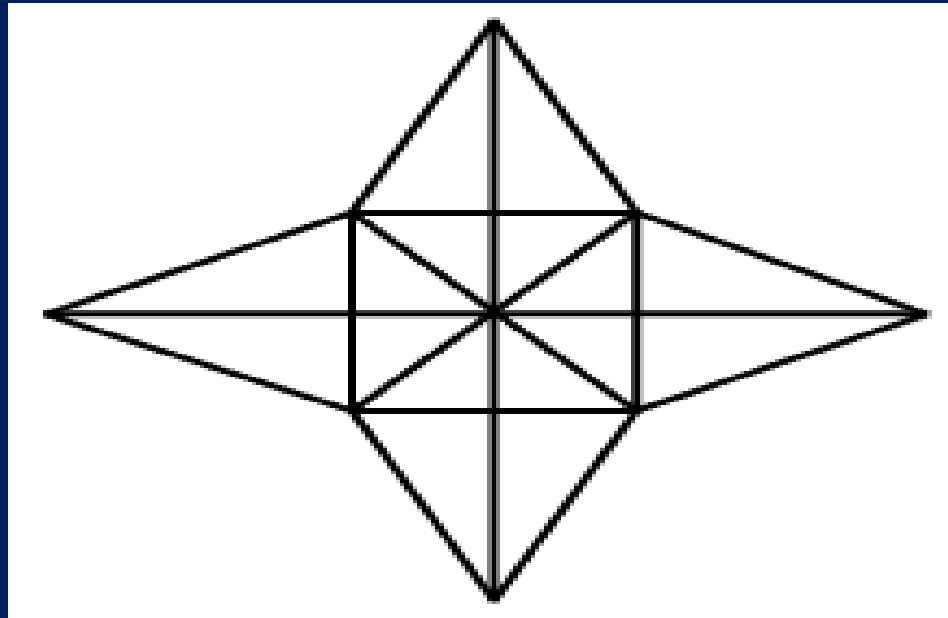
- (A) 120
- (B) 122
- (C) 121
- (D) 123



MISSION SSC CPO/CHSL & CGL TIER II 2023

Q.15 How many triangles are there in this figure?.

इस आकृति में कितने त्रिभुज हैं?



- (A) 28
- (B) 36
- (C) 40
- (D) 48



MISSION SSC CPO/CHSL & CGL TIER II 2023

THANK
YOU