





# RBI GRADE B & ASSISTANT

**MATHS**

# PROFIT AND LOSS PART 2

**LIVE**

**09:00 AM**



Class Time :- 9:00 AM

# UPCOMING ONLINE BATCHES


## December 2021

01 Dec 2021	08 Dec 2021	15 Dec 2021	22 Dec 2021	29 Dec 2021
<p>08:00 AM to 10:00 AM LIVE PREMIUM GREEN CARD (BANK-PO &amp; CLERK)</p> <p>05:30 PM to 07:30 PM LIVE PREMIUM GREEN CARD (BANK-PO &amp; CLERK)</p> <p>01:00 PM to 03:00 PM LIVE PREMIUM SILVER CARD (SSC CGL &amp; CHSL)</p> <p>07:30 PM to 09:30 PM SSC CGL MAINS LIVE COURSE (SSC CGL)</p>	<p>10:30 AM to 12:30 PM LIVE PREMIUM GREEN CARD (BANK-PO &amp; CLERK)</p> <p>03:00 PM to 05:00 PM LIVE PREMIUM GREEN CARD (BANK-PO &amp; CLERK)</p> <p>08:00 AM to 10:00 AM LIVE PREMIUM SILVER CARD (SSC CGL &amp; CHSL)</p>	<p>01:00 PM to 03:00 PM LIVE PREMIUM GREEN CARD (BANK-PO &amp; CLERK)</p> <p>10:30 AM to 12:30 PM LIVE PREMIUM SILVER CARD (SSC CGL &amp; CHSL)</p> <p>08:00 AM to 10:00 AM CCC NIELIT LIVE COURSE</p>	<p>08:00 AM to 10:00 AM LIVE PREMIUM GREEN CARD (BANK-PO &amp; CLERK)</p> <p>07:30 PM to 09:30 PM LIVE PREMIUM SILVER CARD (SSC CGL &amp; CHSL)</p>	<p>10:30 AM to 12:30 PM LIVE PREMIUM GREEN CARD (BANK-PO &amp; CLERK)</p> <p>07:30 PM to 09:30 PM LIVE PREMIUM GREEN CARD (BANK-PO &amp; CLERK)</p> <p>03:00 PM to 05:00 PM LIVE PREMIUM SILVER CARD (SSC CGL &amp; CHSL)</p>
BILINGUAL	BILINGUAL	BILINGUAL	BILINGUAL	BILINGUAL

**M** Mohit 9 hours ago  
Thank-you Sir for this really Amazing  
And  
Answer for today's homework is-  
Option B- 16 : 25...


Read more  
👍 1 🗨️ REPLY

▼ View reply from Mahendras : 0

 Shivam Tiwari 19 hours ago  
Homework Answer —  
16:25 (Option B)  
Awesome Session Sir Thankyou 🙏🙏

👍 2 🗨️ REPLY

▼ View reply from Mahendras : 0

 Palak Shukla 18 hours ago  
Homework answer—  
16:25 , Option B  
Thankyou sir 🙏🙏🙏

👍 2 🗨️ REPLY

▼ View reply from Mahendras : 0


**S** Simpal Kumari 9 hours ago  
H. W ans:-  
Option (B) 16:25  
Vry nice session sr 🙏🙏🙏  
Thank u so much sr 🙏

👍 1 🗨️ REPLY

▼ View reply from Mahend

**M** Mohit 9 hours ago  
And Sir one more thing i want

👍 🗨️ REPLY


 Sarita 19 hours ago  
Homework answer  
Option B 16 : 25  
Today nice session sir  
Thank you so much sir

👍 1 🗨️ REPLY

▼ View reply from Mahend

**A** Anurag Dixit 13 hours ago  
HOMEWORK QUESTION  
Q. B 16:25

👍 1 🗨️ REPLY

 Sakshi Jha 22 hours ago  
Hw ans option (B) = 16:25  
Thanku soo much sir 🙏🙏

👍 1 🗨️ REPLY

▼ View reply from Mahend

**H** Hiral tiwari 9 hours ago  
16:25(B)

👍 1 🗨️ REPLY

▼ View reply from Mahend

**K** Khushboo Mandal 20 hours ago  
Hm ans. 16:25  
Thank you sir

👍 1 🗨️ REPLY

▼ View reply from Mahend

**D** Dron patodia 21 hours ago  
Cp(0):Cp(a)=16:25

👍 1 🗨️ REPLY

▼ View reply from Mahend

**K** Kirti Sahu 19 hours ago  
16:25

👍 1 🗨️ REPLY

▼ View reply from Mat



**Q.8:-** A fruit vendor sells apples and oranges and gets equal revenue from each. He gets a profit of 20% on each apple and a profit of 25% on each orange. If the ratio of the number of oranges sold to the number of apples sold is 3:2, what is the ratio of the cost price of an orange to that of an apple?

एक फल विक्रेता सेब और संतरे बेचता है और प्रत्येक से समान राजस्व प्राप्त करता है। उसे प्रत्येक सेब पर 20% का लाभ और प्रत्येक संतरे पर 25% का लाभ प्राप्त होता है। यदि बेचे गए संतरों की संख्या का बेचे गए सेबों की संख्या से अनुपात 3: 2 है, तो एक संतरे के लागत मूल्य का एक सेब के क्रय मूल्य से अनुपात क्या है?

- (A) 25:16      (B) 16:25      (C) 36:25      (D) 49:36      (E) None of these



**Q.9 :-**The ratio between the price of a scooter and a T.V . is 9: 5 respectively. If the price of the scooter is Rs .6000 more than the price of the T.V. what is the price of the T.V.?

एक स्कूटर और एक टी.वी. की कीमत के बीच का अनुपात क्रमशः 9:5 है। यदि स्कूटर की कीमत टीवी की कीमत से 6000 रुपये अधिक है, तो टीवी की कीमत क्या है?

(A)Rs.7000

(B)Rs.8000

(C)Rs. 7800

(D)Rs.7500

(E) Rs. 8500

0:30

**Q.10 :-**The profit earned by selling an article for Rs. 1516 is equal to the loss incurred by selling the same article for Rs. 1112. what is the cost price of the article ?

एक वस्तु को 1516 रुपये में बेचने पर अर्जित लाभ उसी वस्तु को 1112 रुपये में बेचने पर हुए नुकसान के बराबर है। वस्तु का लागत मूल्य क्या है?

(A)1314

(B)1343

(C)1414

(D)1434

(E)None of these

0:30



**Q.11 :-**A man sells a chair at Rs.960 and earns a profit of 20%. If the man wants to sell it at a profit of 40%, then at what price he should sell the chair?

एक व्यक्ति एक कुर्सी को 960 रुपये में बेचता है और 20% का लाभ अर्जित करता है। यदि व्यक्ति इसे 40% के लाभ पर बेचना चाहता है, तो उसे कुर्सी को किस कीमत पर बेचना चाहिए?

(A)1120

(B) 1020

(C) 1280

(D)1200

(E)None of these



**Q.12 :-**By selling 12 apples for a rupee, a man losses 20%. How many for rupee should he sell to gain 20% ?

एक रूपये में 12 सेब बेचने पर एक आदमी को 20% की हानि होती है। एक रूपये में वह कितने सेब बेचे की उसे 20% का लाभ हो ?

(A)5apples

(B)8apples

(C)10apples

(D)15apples

(E)None of these



**Q.13:** -Price of an article is marked up 50% above the cost price. If the discount offered on the article is Rs. 50 and the profit earned is also Rs. 50, what is the marked price of the article?

एक वस्तु का मूल्य क्रय मूल्य से 50% अधिक अंकित किया गया है। यदि वस्तु पर दी जाने वाली छूट रु. 50 और अर्जित लाभ भी रु. 50, वस्तु का अंकित मूल्य क्या है?

(A)Rs.200

(B)Rs.240

(C)Rs.300

(D)Rs. 450

(E) Rs. 600



**Q.14:-**A table is sold at a profit of 20%. If both the cost price and the selling price of the table are decreased by Rs. 100, the profit would be 5% more, original cost price of the table is

एक मेज को 20% लाभ पर बेचा जाता है। यदि मेज के क्रय मूल्य और विक्रय मूल्य दोनों में 100 रु. की कमी कर दी जाती है तो लाभ में 5% और वृद्धि हो जाती है, तो मेज का वास्तविक मूल्य है

- (A)600      (B)500      (C)650      (D) Cnd      (E)None of these



**Q.15:-** When a person sold an article, his profit percent is 60% of the selling price. If the cost price is increased by 75% and the selling price remains the same, then find decrement in the profit is what percent of the selling price of the article?

जब किसी व्यक्ति ने एक वस्तु बेचा, तो उसका लाभ प्रतिशत विक्रय मूल्य का 60% है। यदि लागत मूल्य में 75% की वृद्धि हुई है और विक्रय मूल्य समान है, लाभ % में गिरावट वस्तु के विक्रय मूल्य का कितना प्रतिशत है?

(A)25%

(B)30%

(C)40%

(D)27.5%

(E)None of these



**Q.16:-** A watch is sold at a profit of 20% if both the cost price and selling price of the watch decreased by Rs. 200, the profit would be 10% more. original cost price of the watch is?

एक घड़ी को 20% लाभ पर बेचा जाता है, यदि य मूल्य व विक्रय मूल्य दोनों में ही रू. 200 को कमी कर दी जाये तो लाभ में 10% की वृद्धि हो जाती है घड़ी का वास्तविक क्रयमूल्य ज्ञात करें?

(A)500

(B)550

(C)600

(D)650

(E)None of these



**Q.17:-** A man sells a TV at a profit of 25% of the cost, had he sold it at a profit of 25% of the selling price, his profit would have been 750 Rs more. The cost of the TV is  
एक आदमी एक टीवी को लागत के 25% के लाभ पर बेचता है, यदि वह इसे बिक्री मूल्य के 25% के लाभ पर बेचता तो उसका लाभ 750 रुपये अधिक होता टीवी की लागत है

- (A)8000      (B)9000      (C)10000      (D)7000      (E) None of these



0:30

**Q.18:-** A trader sold an article at 12% loss . Had he sold the article for Rs. 109 .20 more, he would have earned a profit of 30% .What would be the selling price of the article if the article is sold at 40% profit ?

एक व्यापारी ने एक वस्तु को 12% हानि पर बेचा। यदि उसने वस्तु को रु. 109 .20 अधिक, वह 30% का लाभ अर्जित करता। यदि वस्तु को 40% लाभ पर बेचा जाता है तो वस्तु का विक्रय मूल्य क्या होगा?

(A)364

(B)392

(C)350

(D) 332

(E) None of these

0:30



**THANKS**

