



MISSION SSC 2024



REASONING

PRACTICE SET

(PAPER 9)

पूरा पेपर उड़ा दोगे,
चूटकियों में...

 LIVE 07:00 PM





MISSION SELECTION –SSC 2024

Q.1 निम्न प्रश्न में, दी गई वर्ण श्रृंखला में वर्णों का कौन-सा समूह रिक्त स्थान पर क्रमिक तौर पर रखे जाने पर श्रृंखला को पूरा करेगा?/ Which set of letters when sequentially placed at the gaps in the given letter series shall complete It?

x x _ z _ x _ z x x _ _ x x y _



A) xyxyzx

B) xyzxyy

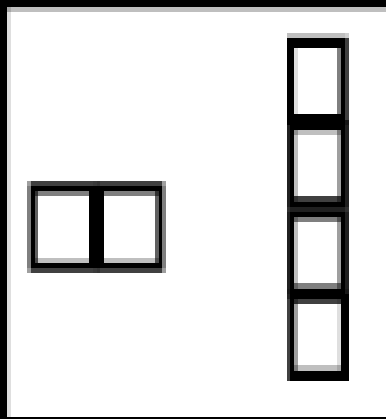
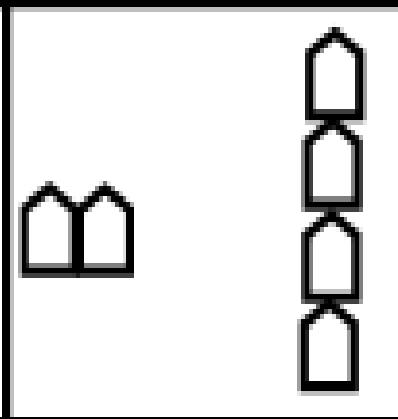
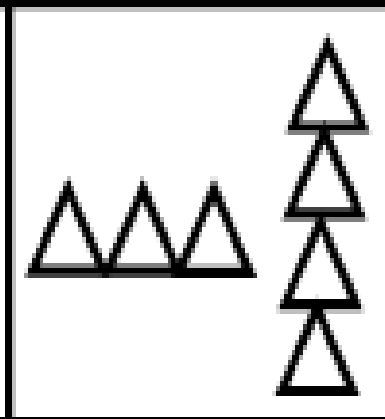
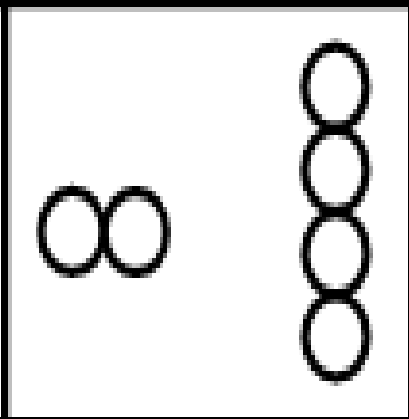
C) yxyyzz

D) yxzxyx



MISSION SELECTION –SSC 2024

Q.2 निम्नलिखित में से असंगत की पहचान करें।/Identify the odd one from the following

			
(a)	(b)	(c)	(d)





MISSION SELECTION –SSC 2024

Q.3 अंग्रेजी की परीक्षा में, हर्ष के अंक, कुणाल और देबू के अंको के योग से ज्यादा हैं। कुणाल और शंकर के अंकों का योग, हर्ष के अंको से ज्यादा है। सोनल के अंक, शंकर के अंको से ज्यादा हैं। नेहा के अंक, हर्ष के अंकों से ज्यादा हैं। इनमें से किसके अंक सबसे अधिक हैं?/In an examination in English, Harsh obtained more marks than total of marks obtained by Kunal and Debu. The total of marks obtained by Kunal and Shankar were more than Harsh. Sonal obtained more marks than Shankar. Neha obtained more marks than Harsh. Who amongst them obtained highest marks?

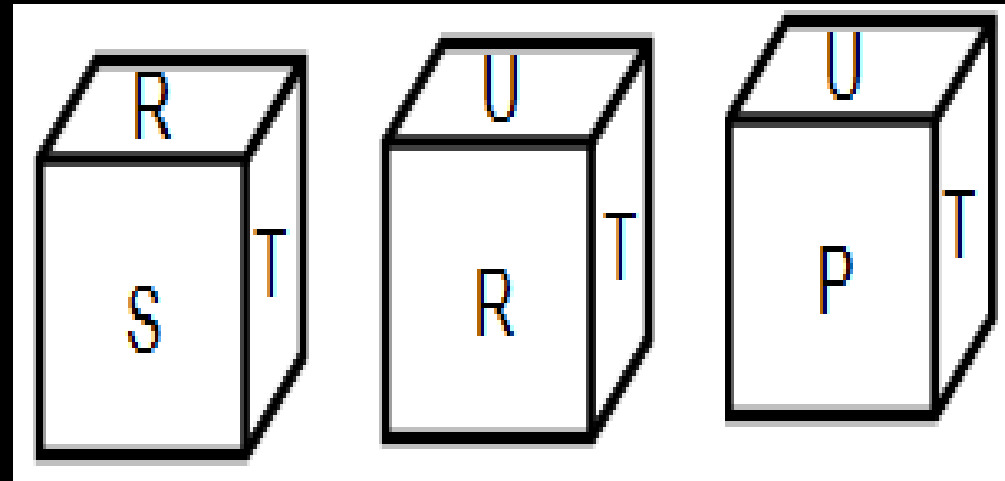


- A) हर्ष/Harsh B) नेहा/Neha
C) सोनल/Sonal D) डेटा अपर्याप्त/Data inadequate



MISSION SELECTION –SSC 2024

Q.4 एक पासे की तीन स्थितियां दी गई हैं। उनके आधार पर पता लगाएं कि दिए गए पासे में अक्षर R के विपरीत कौन सा अक्षर होगा।/Three positions of a dice are given. Based on them find out which letter is found opposite the letter R in the given dice.



- A) P
- B) Q
- C) R
- D) T



MISSION SELECTION –SSC 2024

Q.5 निम्नलिखित चार अक्षर-समूहों में से तीन एक निश्चित तरीके से एक जैसे हैं और एक अलग है। विषम ज्ञात कीजिए।/Three of the following four letter clusters are alike in a certain way and one is different. Find the odd one out.



A) AZDW

B) FUIR

C) HSLO

D) EVJP



MISSION SELECTION –SSC 2024

Q.6 एक तस्वीर की ओर इशारा करते हुए युवराज कहता है, "वह मेरी बहन की नानी की इकलौती पुत्री का इकलौता पुत्र है" अन्य तस्वीर की ओर इशारा करते हुए सौरव कहता है " वह मेरी बहन की नानी की इकलौती पुत्री का इकलौता पुत्र है। यदि दोनो तस्वीरो मे से एक या तो सौरव या युवराज की है और वह तस्वीर जिसकी ओर युवराज इशारा कर रहा है वह सौरव की नहीं है तो युवराज सौरव से किस प्रकार संबंधित है?/ Pointing to a photograph Yuvraj says, "He is the only brother of the only daughter of my sister's maternal grandmother." Pointing to another photograph Sourav says, "he is the only brother of the only daughter of my sister's maternal grandmother." If among the two photographs, one was either of Sourav or Yuvraj, and the photograph towards which Yuvraj was pointing, was not of Sourav, then how is Yuvraj related to Sourav?



- A) चाचा/Paternal uncle
- B) मामा/Maternal uncle
- C) दादा/Grandfather
- D) पिता/Father



MISSION SELECTION –SSC 2024

Q.7 निर्देश- प्रश्न चिन्ह के स्थान पर क्या आना चाहिए?/

DIRECTIONS: What should come at the place of question mark?

Q1F, S2E, U6D, W21C, ?



A) Y44B

B) Y66B

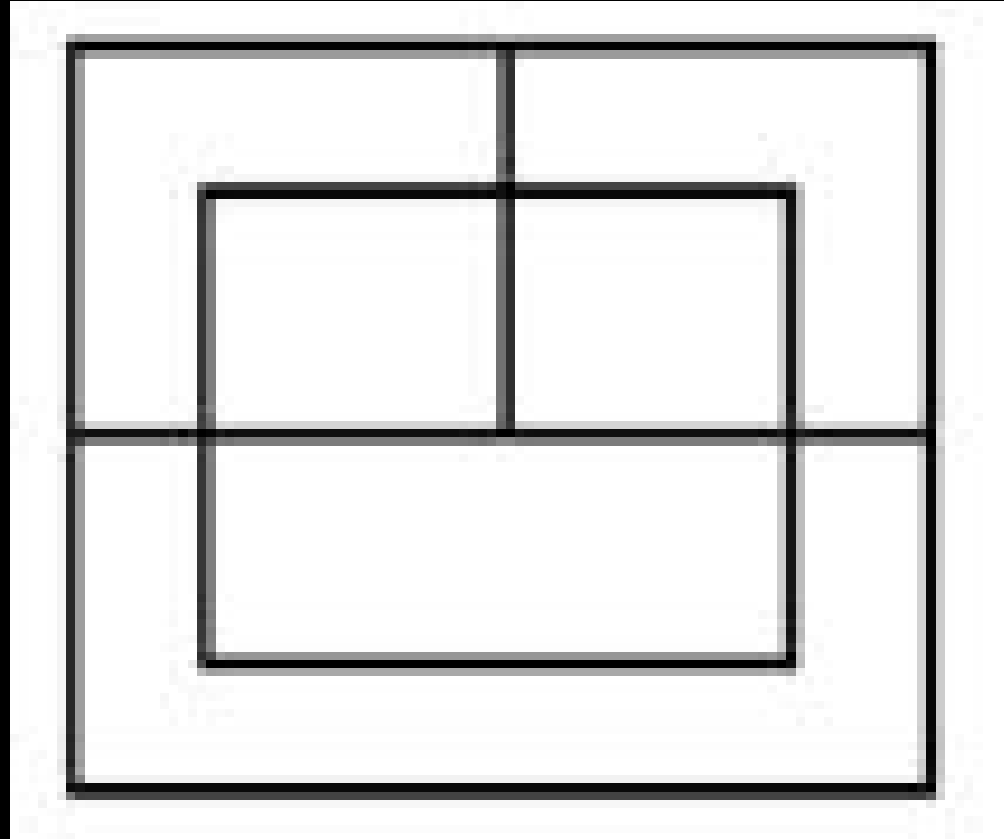
C) Y88B

D) Z88B



MISSION SELECTION –SSC 2024

Q.8 निम्नलिखित आकृति में कितने वर्ग हैं?/ How many squares are there in the following figures?



- A) 5 B) 6
C) 7 D) 8



MISSION SELECTION –SSC 2024

Q.9 यदि $4 - 4 = 17$, $6 - 6 = 37$ और $2 - 2 = 5$ तब $8 - 8 = ?$

If $4 - 4 = 17$, $6 - 6 = 37$ and $2 - 2 = 5$ then, $8 - 8 = ?$



A) 63

B) 17

C) 65

D) 64



MISSION SELECTION –SSC 2024

Q.10 किसी कूटभाषा में 'ROAMING' को 'APRNGOI' लिखा जाता है। उसी कूटभाषा में 'PLATEAU' को किस प्रकार लिखेंगे?/ In a certain code language, 'ROAMING' is written as 'APRNGOI'. How would 'PLATEAU' be written in the same code language?



- A) AMPTUBE B) PMAUEBU
C) ALPUUAE D) AMPUUBE



MISSION SELECTION –SSC 2024

Q.11 निम्नलिखित शब्दों को शब्दकोश में दिए गए क्रम के अनुसार लिखिए:/Arrange the following words as per order in the dictionary:

1. Genuine
2. Genesis
3. Gender
4. Gentle
5. General



- A) 3, 5, 2, 4, 1 B) 2, 5, 3, 1, 4
C) 4, 5, 3, 2, 1 D) 1, 5, 4, 3, 2



MISSION SELECTION –SSC 2024

Q.12 Statement I: Some ribbons are tapes./ कुछ रिबन टेप हैं

Statement II: Some strips are ribbons ./ कुछ पट्टियाँ रिबन हैं

Conclusion I: All tapes are strips./ सभी टेप स्ट्रिप्स हैं

Conclusion II: No strips is tapes./ कोई स्ट्रिप टेप नहीं है



- (A) Only conclusion I follows**
- (B) Only conclusion II follows**
- (C) Both conclusions I and II follow**
- (D) Neither conclusion I nor II follows**



MISSION SELECTION –SSC 2024

Q.13 यदि $>$ का अर्थ है $+$, $<$ का अर्थ है $-$, $+$ का अर्थ है \div , $-$ का अर्थ है $=$, $=$ का अर्थ है 'से छोटा' और \times का अर्थ है 'से बड़ा' , तो निम्न में से कौन-सा कथन सत्य है?/ If $>$ means $+$, $<$ means $-$, $+$ means \div , $-$ means $=$, $=$ means 'less than' and \times means 'greater than' , then which of the following is a correct statement ?



- A) $3 + 2 > 4 = 9 + 3 < 2$
- B) $3 > 2 > 4 = 18 + 3 < 1$
- C) $3 > 2 < 4 \times 8 + 4 < 2$
- D) $3 + 2 < 4 \times 9 + 3 < 3$



MISSION SELECTION –SSC 2024

Q.14 निम्न प्रश्न में दिए गये वैकल्पिक शब्दों में से उस शब्द को चुनें, जिसका निर्माण 'ALTERNATIVE' शब्द के वर्णों का प्रयोग करके नहीं किया जा सकता है?/ From the given alternative words, select the word which cannot be formed using the letters of the word 'ALTERNATIVE'?

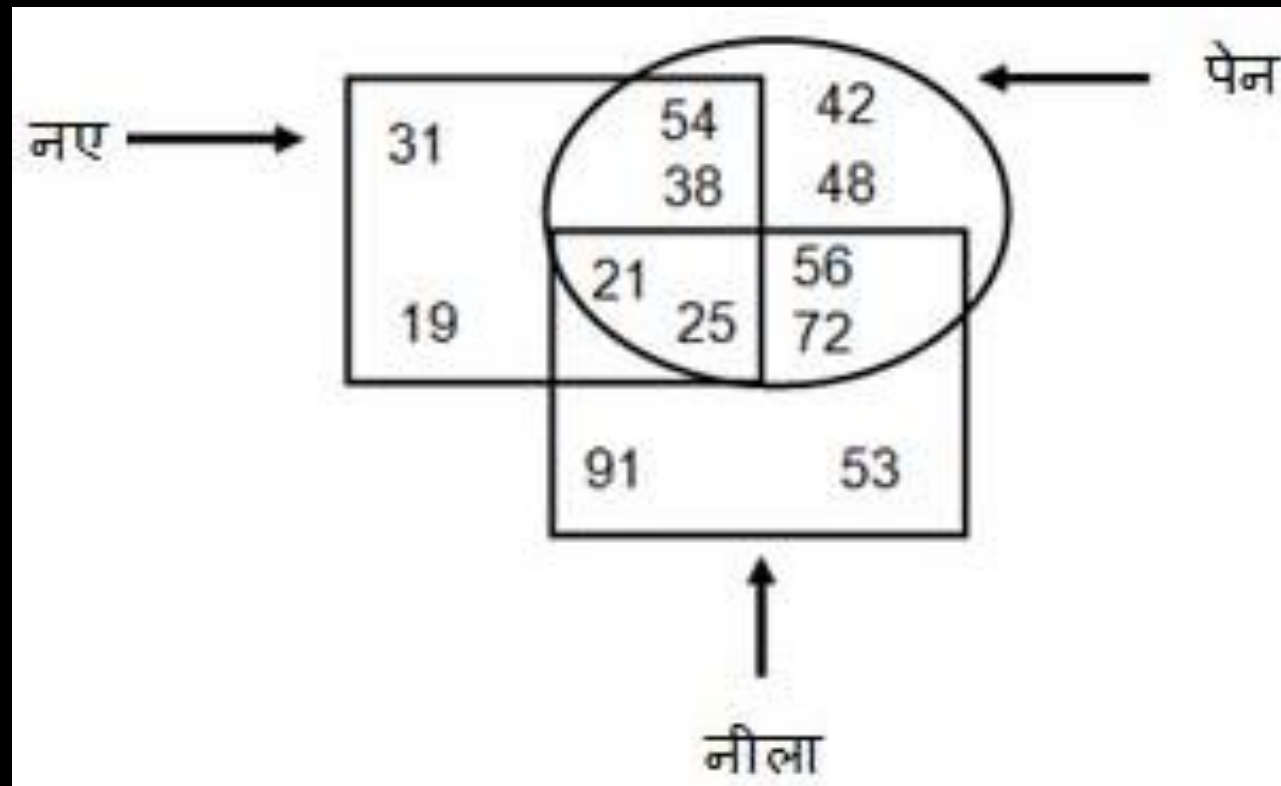


- A) VITAL B) RETAIN
C) LEARN D) TRIVIA



MISSION SELECTION –SSC 2024

Q.15 दी गई आकृति में, कौन सी संख्या में ऐसे कितने पेन हैं जो नए या नीले हैं, लेकिन दोनों नहीं हैं को दर्शाती है?/ In the given figure, which number represents how many such pens are either new or blue, but not both?



- A) 210 B) 200
C) 220 D) 215



MISSION SELECTION –SSC 2024

Q. 16 दिए गए विकल्प से संबंधित शब्द/अक्षर/संख्या का चयन करें।/Select the related word/letter/number from the given alternatives.

2134 : 8536 :: 1324 ?



A) 5196

B) 5296

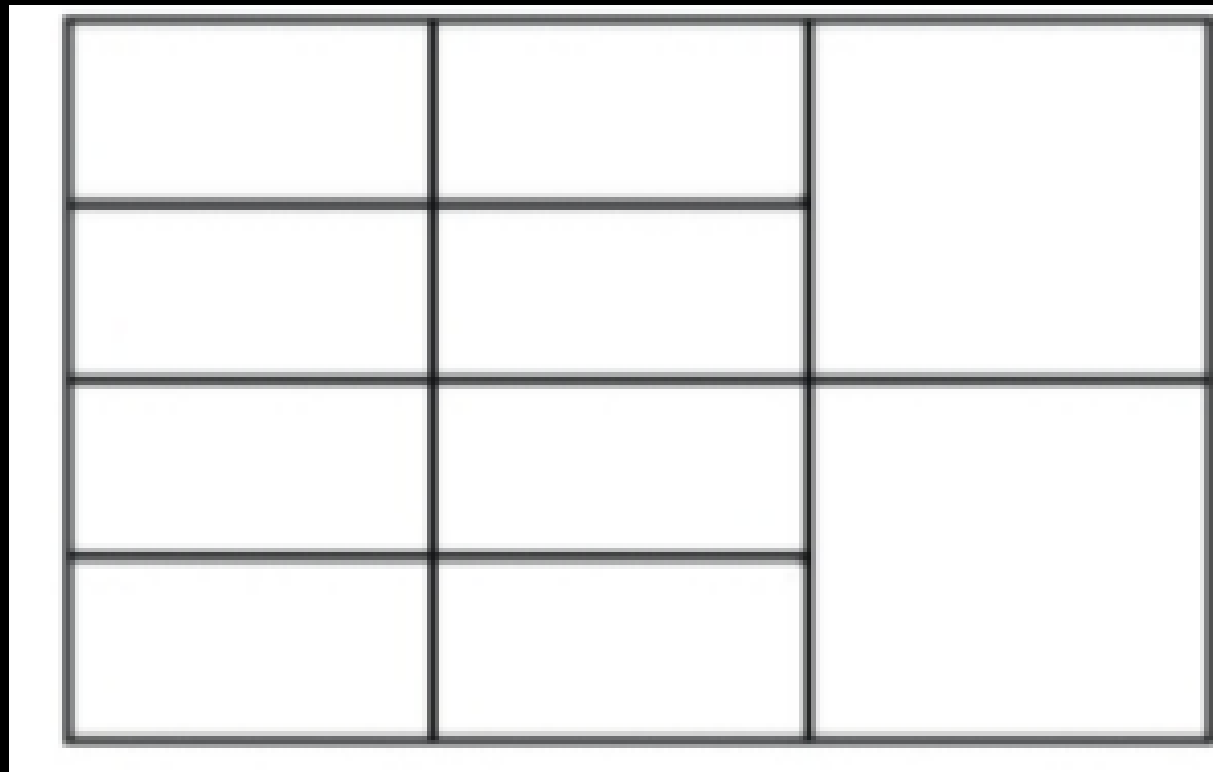
C) 5396

D) 5596



MISSION SELECTION –SSC 2024

Q. 17 How many rectangles are there in this figure?
इस आकृति में कितने आयत हैं?



- (A) 20
- (B) 22
- (C) 27
- (D) 29



MISSION SELECTION –SSC 2024

Q.18 उस आकृति का चयन करें जो दी गई आकृति को मॉड़े जाने और काटे जाने के बाद प्राप्त आकृति से मेल खाती है।/Choose a figure which would most closely resemble the unfolded form of figures after folding and cutting.

Problem figure

Answer figures

(A) (B) (C) (D)





MISSION SELECTION –SSC 2024

Q.19 If it was Sunday on Jan 1, 2006 then What was the day of the week Jan 1, 2010?

यदि 1 जनवरी 2006 को रविवार था तो 1 जनवरी 2010 को सप्ताह का कौन सा दिन था?



- (A) Sunday**
- (B) Saturday**
- (C) Friday**
- (D) Wednesday**



MISSION SELECTION –SSC 2024

Q.20 कथन: ज्यादातर व्यक्ति हाई स्पीड नेट कनेक्शन पसंद करते हैं।

निष्कर्ष:

- (I) हाई स्पीड नेट कनेक्शन बहुत सस्ते हैं।
- (II) वे लंबे समय तक पृष्ठों को लोड करने की प्रतीक्षा नहीं करना चाहते।



- A) केवल निष्कर्ष I अनुसरण करता है।
- B) केवल निष्कर्ष II अनुसरण करता है।
- C) I और II दोनो निष्कर्ष अनुसरण करते हैं।
- D) न तो निष्कर्ष I न II अनुसरण करते हैं।



MISSION SELECTION –SSC 2024

Q.21 चार लड़के एक पंक्ति में उत्तर की ओर मुँह करके खड़े हैं, दिवाकर एक छोर पर बैठा है। रहीम, विकास से दायीं ओर हैं, कमलेश, रहीम से दायीं ओर है, दिवाकर, कमलेश एवं रहीम से बाएं हैं। एकदम बाएं सिरे पर कौन खड़ा है?/Four boys are standing in a row that face is towards north, Divakar is sitting at one of the ends. Rahim is on the right side of Vikaas, Kamlesh is right side from Rahim, Divakar is left side from Kamlesh and Rahim. Who stands at the left end?


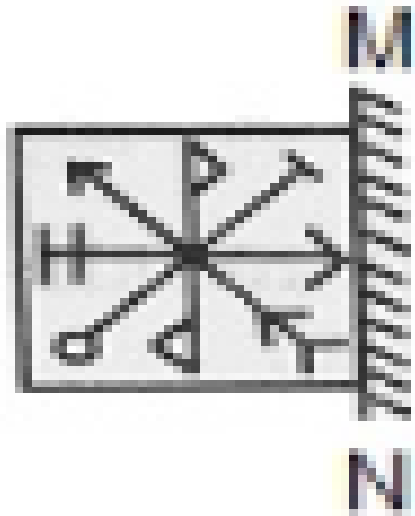


- A) दिवाकर/Divakar B) विकास/Vikaas
C) कमलेश/Kamlesh
D) निर्धारित नहीं किया जा सकता है/Can't be determined



MISSION SELECTION –SSC 2024

Q.22 उत्तर आकृतियों में से उस आकृति कोई बताइए जो दर्पण को 'MN' लाइन पर रखे जाने पर हबह दर्पण प्रतिबिम्ब होगी।



A

B

C

D





MISSION SELECTION –SSC 2024

Q.23 प्रश्नवाचक चिन्ह के स्थान पर आणा?/ What comes in place of ?

84		81		88	
14	12	18	9	?	11



A) 16

B) 21

C) 61

D) 81



MISSION SELECTION –SSC 2024

Q.24 निम्नलिखित प्रश्न में दिए गए विकल्पों में से लुप्त अंक ज्ञात कीजिए।/ In the following question, select the missing number from the given series.

1357, 3085, 5282, 8026, ?



- A) 9961 B) 10441
C) 11321 D) 11401



MISSION SELECTION –SSC 2024

Q.25 यदि $9 \# 4 \# 1 = 419$ तथा $9 \# 1 \# 6 = 169$ हो, तो $5 \# 3 \# 1 =$
?/ If $9 \# 4 \# 1 = 419$ and $9 \# 1 \# 6 = 169$, then $5 \# 3 \# 1 = ?$



A) 315

B) 153

C) 351

D) 135



MISSION SELECTION –SSC 2024

Q. 26 If every seconds Saturday and all Sundays are holidays in a 30 days month beginning on Saturday, then how many working days are there in that month ? (Month starts from Saturday)

यदि शनिवार से शुरू होने वाले 30 दिनों के महीने में प्रत्येक सेकंड शनिवार और सभी रविवार को छुट्टियाँ हैं, तो उस महीने में कितने कार्य दिवस हैं? (माह शनिवार से शुरू होता है)



(A) 25

(B) 22

(C) 24

(D) 23



MISSION SELECTION –SSC 2024

Q.27 what was the day of the week on 26 January 2012?

26 जनवरी 2012 को सप्ताह का कौन सा दिन था?



- (A) Sunday**
- (B) Saturday**
- (C) Thursday**
- (D) Tuesday**



MISSION SELECTION –SSC 2024

Q.28 In a class of 75 students ,where boys are twice that of girls Sonali ranked 13th from the top . if there are four girls ahead of sonali ,how many boys are after her in rank ?

75 छात्रों की एक कक्षा में, जहां लड़के लड़कियों से दुगुने हैं। सोनाली शीर्ष से 13वें स्थान पर है। यदि सोनाली से आगे चार लड़कियां हैं, तो उसके बाद कितने लड़के होंगे?



A .43

B .42

C .44

D .41



MISSION SELECTION –SSC 2024

$A + B$ means 'A is the sister of B'./ $A + B$ का अर्थ है 'A, B की बहन है'।

$A - B$ means 'A is the son of B'./ $A - B$ का अर्थ है 'A, B का पुत्र है'।

$A \times B$ means 'A is the father of B'./ $A \times B$ का अर्थ है 'A, B का पिता है'।

$A \div B$ means 'A is the brother of B'./ $A \div B$ का अर्थ है 'A, B का भाई है'।

Q.29 If $S \times M \div U + L \times Z - I$ is true then how is L related to I?

यदि $S \times M \div U + L \times Z - I$ सत्य है तो L, I से कैसे संबंधित है?



(A) Husband / पति

(B) Son / बेटा

(C) Father / पिता

(D) Brother/ भाई



MISSION SELECTION –SSC 2024

'A # B' means 'A is the son of B'. / A # B' का अर्थ है 'A, B का पुत्र है'

'A @ B' means 'A is the mother of B'. / A @ B' का अर्थ है 'A, B की माँ है'

'A & B' means 'A is the wife of B'. / A & B' का अर्थ है 'A, B की पत्नी है'

'A % B' means 'A is the sister of B'. / A % B' का अर्थ है 'A, B की बहन है'

Q.30 If 'M @ R % K # G # N & T', then which of the following statements is **NOT** correct?

यदि 'M @ R % K # G # N & T', तो निम्नलिखित में से कौन सा कथन सही नहीं है?



(A) M is the mother of K. / M, K की माँ है।

(B) R is the daughter of G. / R, G की बेटी है।

(C) T is the paternal grandfather of M. / T, M का दादा है।

(D) N is the paternal grandmother of K. / N, K की दादी है।



MISSION SELECTION –SSC 2024

THANK YOU