



MISSION SSC 2024



REASONING

PRACTICE SET

(PAPER 5)

पूरा पेपर उड़ा दोगे,
चूटकियों में...

 LIVE 07:00 PM

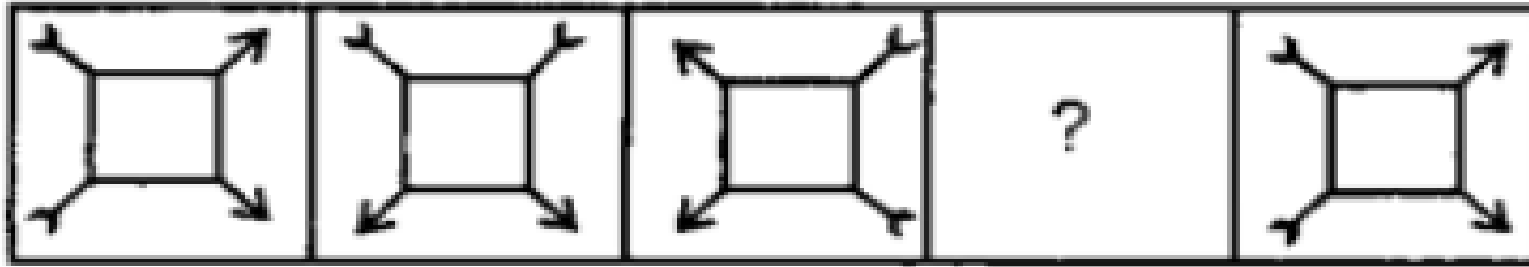




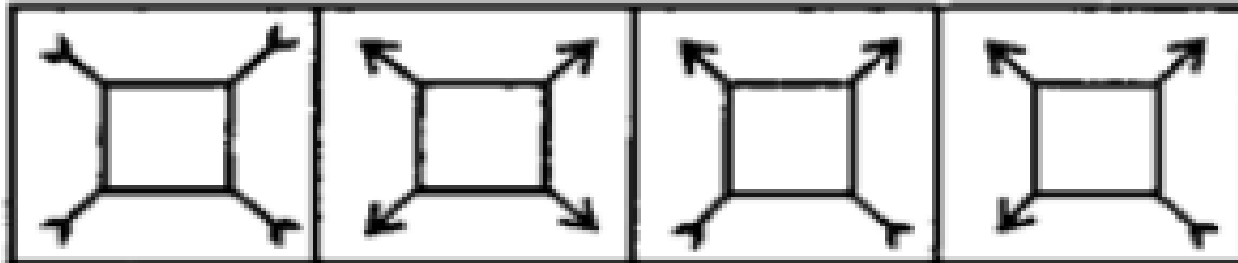
MISSION SELECTION –SSC 2024

Q.1 निर्देश: दिए गए विकल्प आकृतियों में से लुप्त आकृति का चयन करें।/ DIRECTIONS:
Find the missing figure in the series from the given answer figures.

PROBLEM FIGURES



ANSWER FIGURES



(A)

(B)

(C)

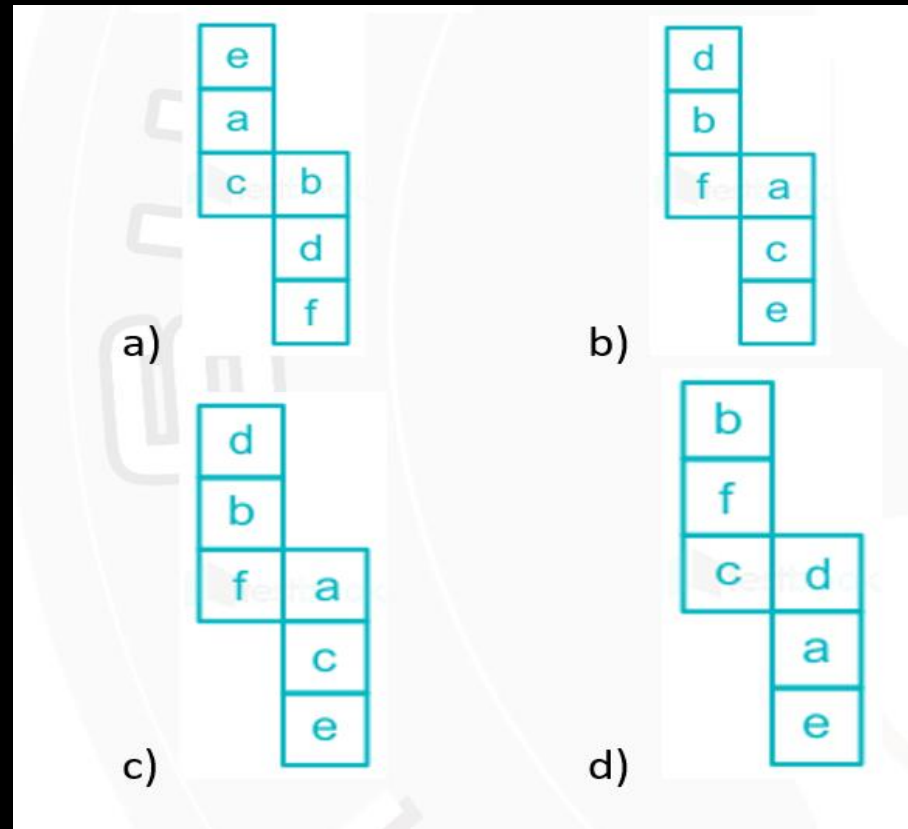
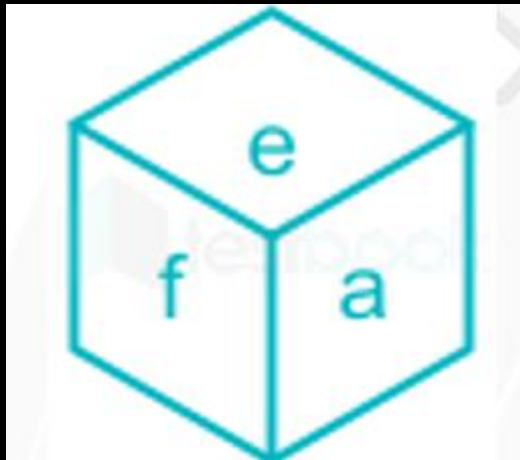
(D)





MISSION SELECTION –SSC 2024

Q.2 यदि निम्नलिखित कागज के टुकड़े को घन के रूप में मोड़ा जाता है, तो कौन-सा विकल्प घन की भुजाओं के सही संयोजन को दर्शायेगा?/ If the following piece of paper is folded to form a cube, then which option will represent the correct combination of sides of the cube?





MISSION SELECTION –SSC 2024

Q.3 निम्नलिखित विकल्पों में से वह शब्द चुनिए जो दिए गए शब्द के अक्षरों का प्रयोग करके बनाया जा सकता है।/ From the given alternatives, select the word which can be formed using the letters of the given word.

QUINTESENCE



A) SCOT

B) QUOTE

C) QUITE

D) ESTEEM

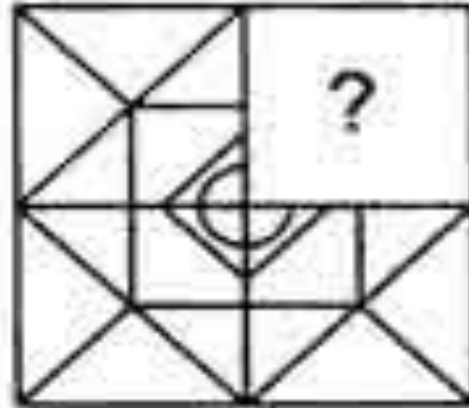


MISSION SELECTION –SSC 2024

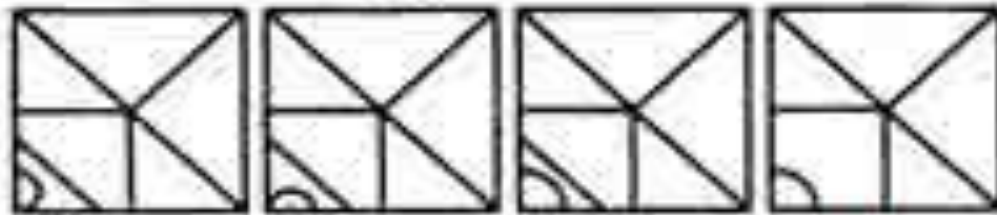
Q.4 निर्देश: उस आकृति का चयन जो दी गयी आकृति के पैटर्न को पूरा करे।/

DIRECTIONS: Identify the figure that completes the pattern.

Question Figures:



Answer Figures:



(A)

(B)

(C)

(D)





MISSION SELECTION –SSC 2024

Q.5 छ: व्यक्तियों P, Q, R, S, T और U की आमदनी भिन्न-भिन्न थी। U, T और Q से अधिक कमाता है। तीन व्यक्ति S से कम लेकिन R से अधिक कमाते थे। R सबसे कम नहीं कमाता था। Q, P और T से अधिक कमाता था। निम्नलिखित में से तीसरा सबसे कम कमाने वाला व्यक्ति कौन था?/ Six persons P, Q, R, S, T and U had different earnings. U earned more than T and Q. There were 3 persons who earned less than S but more than R. R did not earn the least. Q earned more than P and T. Who among the following earned the 3rd lowest?

A) P B) T C) R

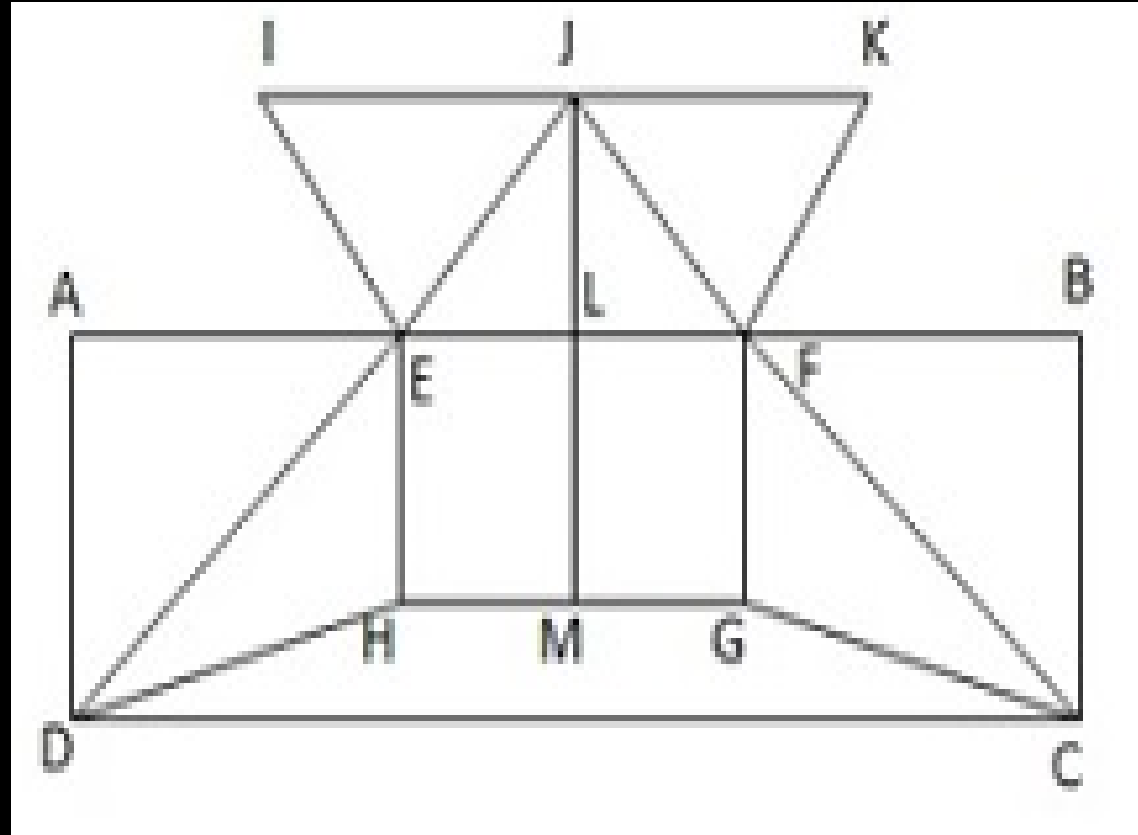
D) निर्धारित नहीं किया जा सकता/ Cannot be determined





MISSION SELECTION –SSC 2024

Q.6 नीचे दी हुयी आकृति को बनाने के लिए न्यूनतम आवश्यक सरल रेखाओं की संख्या ज्ञात करें।/Find the minimum number of straight lines required to make the given figure.



- A) 16
- B) 15
- C) 18
- D) 19



MISSION SELECTION –SSC 2024

Q.7 सोनल अपने घर से पार्क तक टहलने के लिए गयी। वह 100 मीटर दूरी तक चली, फिर वह दक्षिण की ओर 200 मीटर चलने के लिए दायें मुड़ी। फिर वह दायें मुड़ी और 50 मीटर दूरी तक चली, फिर बायें मुड़ी और 20 मीटर दूरी तक चली। अंतिम रूप से वह बायें मुड़ी और पार्क तक पहुँचने के लिए 250 मीटर चली। पार्क के संदर्भ में उसका घर किस दिशा में है?/ Sonal went for a walk from her house to the park. She walked for 100 m then turned right to walk 200m towards South. Then she turned right and walked 50 m, then turned left and walked 20m. Finally, she turned left and walked 250 m to reach the park. In which direction is her home with respect to the park?

- A) पूर्व/east B) पश्चिम/west
C) उत्तर/north D) उत्तर-पश्चिम/north-west





MISSION SELECTION –SSC 2024

Q.8 एक निश्चित कोड में, JEALOUS को 'BFKKTVP' तौर पर कोडित किया जाता है। उसी कोड में 'HEARTEN' को कैसे कोडित करते हैं? / In a certain code JEALOUS is written as 'BFKKTVP'. How is 'HEARTEN' written in that code?



- A) OFUQBFI B) BFIQOFU
C) BFIQUFO D) UFOQIBF



MISSION SELECTION –SSC 2024

Q.9 निम्न विकल्प में से '?' के स्थान पर क्या आएगा।/ Which of the following option will come in place of '?'

4	6	20
5	3	16
2	9	?




- A) 24 B) 20
C) 22 D) 14



MISSION SELECTION –SSC 2024

Q.10 निर्देश : यदि एक दर्पण को AB रेखा पर रखा जय, तो दी गई उत्तर आकृतियों में से कोन सी आकृति प्रश्न आकृति की सही प्रतिबिम्ब होगी?/ DIRECTIONS: If a mirror is placed on the line AB, then which of the answer figures is the right image of the given figure?

Question Figures:



Answer Figures:

13	13	1ε	ε1
----	----	----	----

(A) (B) (C) (D)





MISSION SELECTION –SSC 2024

Q.11 दिए गए विकल्पों से भिन्न को चुनें।/ Choose the odd one from the given alternatives.



A) eFGH

B) NoPQ

C) UVyX

D) HiJK



MISSION SELECTION –SSC 2024

Q.12 यदि $3\#4 \% 8=6$ तथा $9 \% 4\#3=12$ हो, तो $12 \% 6\#24=? /$

If , $3\#4 \% 8=6$ and $9 \% 4\#3=12$, then $12 \% 6\#24=?$



A) 4 B) 3

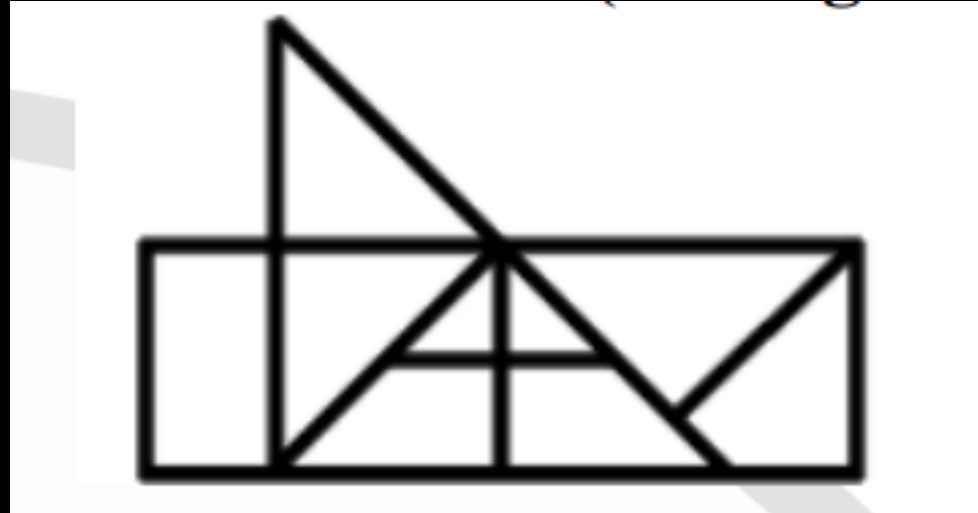
C) 5 D) 6



MISSION SELECTION –SSC 2024

Q.13 . How many triangles are there in the given figure ?

दी गई आकृति में कितने त्रिभुज हैं?



- (A) 10
- (B) 12
- (C) 11
- (D) 13



MISSION SELECTION –SSC 2024

Q.14 नीचे दी गई श्रृंखला में गलत पद ज्ञात करें।/ Find the wrong term in the series given below.

277, 398, 569, 792, 1081



A) 398

B) 792

C) 277

D) 569



MISSION SELECTION –SSC 2024

Q.15 यदि कल से पहले का दिन बृहस्पतिवार था, तो सोमवार कब आएगा ?/ If day before yesterday was Thursday, then when will Monday be ?



- A) आज/today**
- B) कल के बाद का दिन/ Day after tomorrow**
- C) कल के दो दिन बाद/ Two days after tomorrow**
- D) आने वाले कल से पहले का दिन/ Day before tomorrow**



MISSION SELECTION –SSC 2024

Q.16 निम्नलिखित शब्दों को शब्दकोश क्रमानुसार व्यवस्थित करें।/

Arrange the following words as per the order in the dictionary



1. **Wagnor**

2. **Wagged**

3. **Wabash**

4. **Waggon**

5. **Wackily**

A) 3 5 2 1 4

B) 3 5 1 4 2

C) 3 2 1 4 5

D) 3 5 2 4 1



MISSION SELECTION –SSC 2024

Q.17 दी गयी श्रृंखला को निम्न में से कौन-सा विकल्प पूरा करेगा:/ Which of the following options will complete the given series:

R _ C _ _ A _ E _ A C _



A) ARECAR

B) AERCRE

C) ARCERA

D) AERCAR



MISSION SELECTION –SSC 2024

Q.18 राहुल की माँ मोनिका के पिता की एकमात्र बेटीहैं। मोनिका के पति राहुल से कैसे संबंधित है।/ Rahul's mother is the only daughter of Monika's father. How is Monika's husband related to Rahul?



- A) पिता/father B) बेटा/son**
C) दादा/grandfather D) उपरोक्त में से नहीं/None



MISSION SELECTION –SSC 2024

Q.19 रघुनाथ किसी स्थान पर शनिवार को पहुँचा। उसे पता चला कि वह नियत दिन से तीन दिन पहले आ गया है। यदि वह वहाँ सोमवार को पहुँचता तो वह कितने दिन बाद या पहले पहुँचता? / Raghunath reached a place on Saturday. He came to know that he has arrived three days before the due date. If he reaches there on Monday, how many days later he or she will reach?

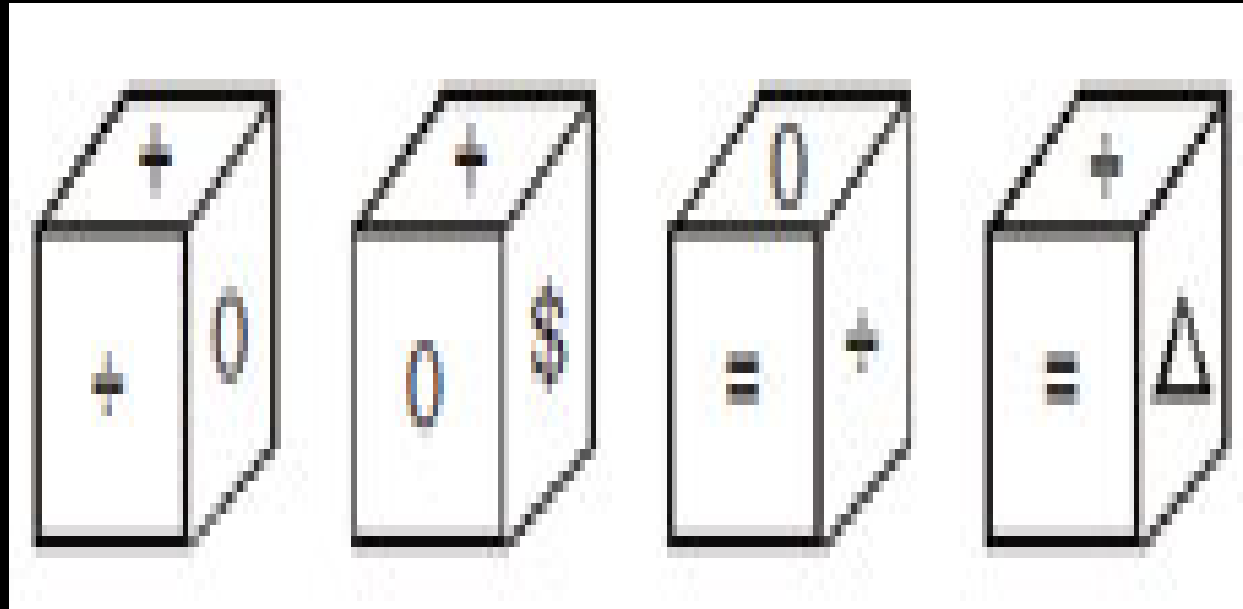


- A) एक दिन पहले / One day before
- B) दो दिन पहले / Two days ago
- C) दो दिन बाद / Two days later
- D) एक दिन बाद / One day later



MISSION SELECTION –SSC 2024

Q.20 एक पाँसे के चार पक्ष नीचे प्रदर्शित हैं। तदनुसार, निम्न में कौन-सा संकेत, \div संकेत वाले पक्ष के दूसरी ओर है?/ Four views of a dice have been shown below, which of the following symbols is on the face opposite to the face having the symbol \div ?



- A) \$ B) 0
C) = D) Δ



MISSION SELECTION –SSC 2024

Q.21 कथन (A) : हम मैदानों की तुलना में पहाड़ों पर ज्यादा ठंडा महसूस करते हैं।/

Assertion (A) : We feel colder on mountains than on plains.

कारण (R) : तापमान ऊँचाई के साथ घटती है।/ Reason (R) : Temperature decreases with altitude.

A) A और R दोनों सही हैं और R, A का सही स्पष्टीकरण है।/ Both A and R are true and R is the correct explanation of A

B) A और R दोनों सही हैं। लेकिन A, R का सही स्पष्टीकरण नहीं है।/ Both A and R are true, but R is not the correct explanation of A

C) A सही है, लेकिन R गलत है।/ A is true, but R is false

D) A गलत है, लेकिन R सही है।/ A is false, but R is true

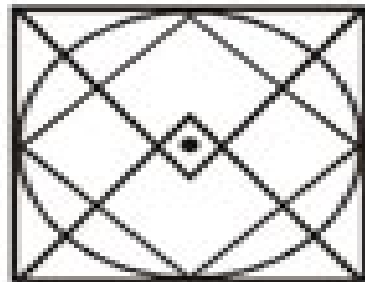




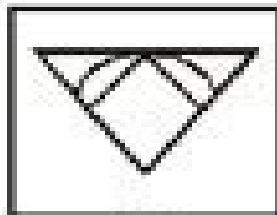
MISSION SELECTION –SSC 2024

Q.23 दी गई उत्तर आकृतियों में से उस उत्तर आकृति को चुनिए जो प्रश्न आकृति में निहित है।/ From the given answer figures, select the figure which is hidden/embedded in the question figure.

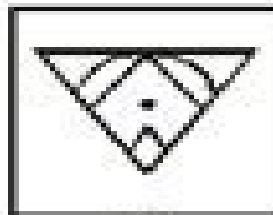
Question figure:



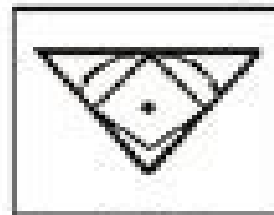
Answer figures :



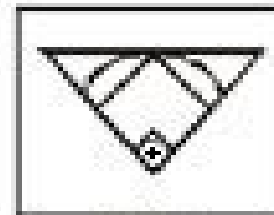
(A)



(B)



(C)



(D)





MISSION SELECTION –SSC 2024

Q.24 जब घड़ी का समय 5:40 है, तो मिनट और घंटे के काटो के बीच का न्यून कोण ज्ञात कीजिये?/ The angle between the minute hand and the hour hand of a clock when the time is 5:40, is?



A) 65°

B) 55°

C) 70°

D) 95°



MISSION SELECTION –SSC 2024

Q.25 निर्देश: एक अनुक्रम दिया गया है, जिसमें एक पद/संख्या लुप्त है। दिए गए विकल्पों में से वह सही विकल्प चुनिए जो अनुक्रम को पूरा करें।

DIRECTIONS: A series is given, with one term/number is missing.

Choose the correct alternative from the given ones that will complete the series.

ABNO, CDPQ, EFRS, ?



A) IJ VW

B) TU VW

C) GH TU

D) KL YZ



MISSION SELECTION –SSC 2024

Q.26 दिए गए विकल्पों में से विषम संख्या/अक्षरों/शब्द युग्म चुनिए।/Find the odd number/letters/word pair from the given alternatives.



A) 4567

B) 2345

C) 8765

D) 6789



MISSION SELECTION –SSC 2024

Q.27 यदि $25 \$ 31 @ 15 = 550$ और $14 \$ 9 @ 2 = 122$ है, तो अभिव्यक्ति $7 \$ 60 @ 4 = A$ में 'A' का मान क्या है?/ If $25 \$ 31 @ 15 = 550$ and $14 \$ 9 @ 2 = 122$, then in the expression $7 \$ 60 @ 4 = A$, What is the value of 'A'?

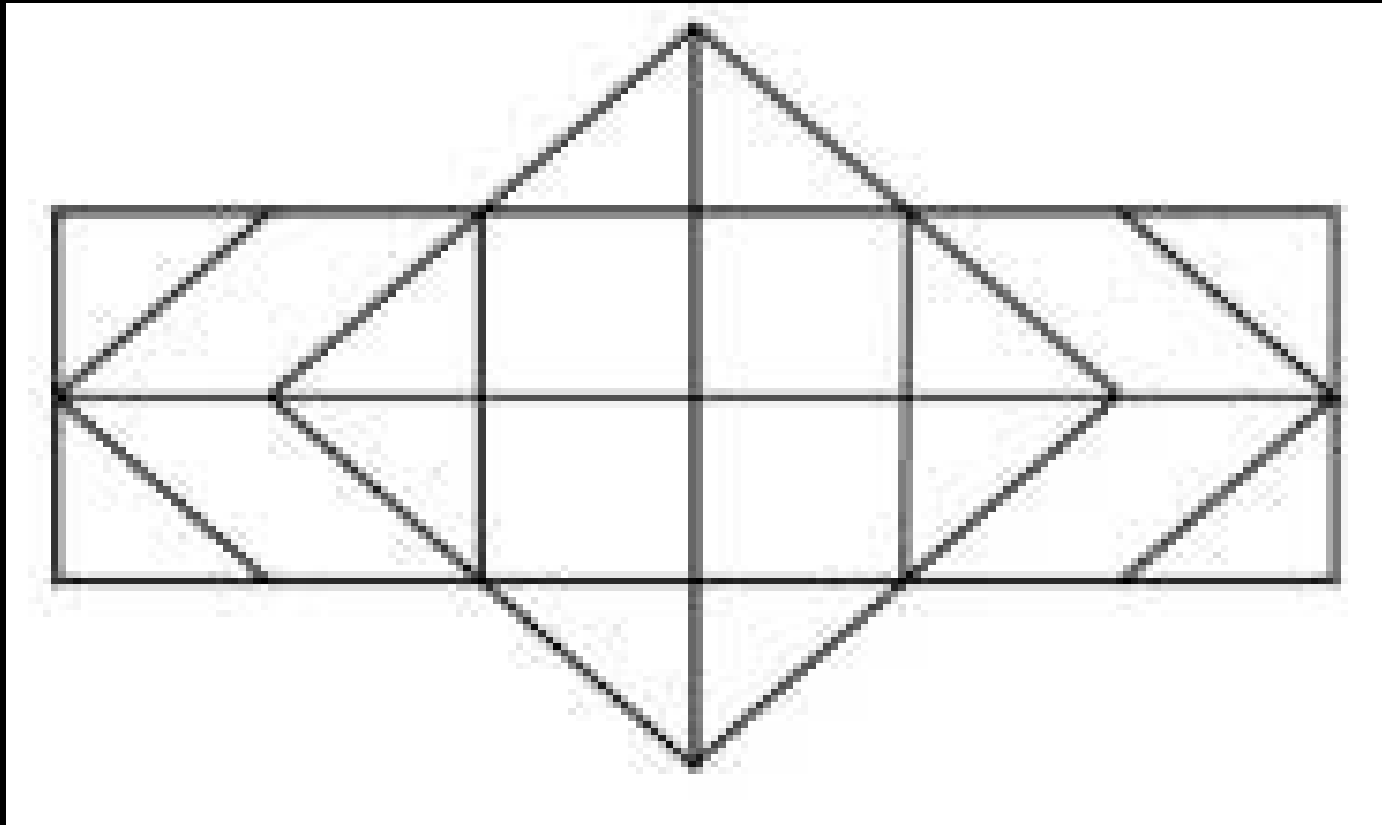


- A) 404 B) 180
C) 380 D) 425



MISSION SELECTION –SSC 2024

Q.28 दी गई आकृति में कितने षड्भुज हैं?/ How many Hexagonals are there in the given figure?



- A) 2 B) 4
C) 5 D) 6



MISSION SELECTION –SSC 2024

Q.29 दी गयी अनुक्रिया से लुप्त संख्या को चुनें।/Select the missing number from the given responses

6, 8, ?, 56, 226



A) 10

B) 14

C) 18

D) 24



MISSION SELECTION –SSC 2024

Q.30 निर्देश: प्रश्न संख्या में से उसे चुनिए जो अनुक्रम को पूरा करेगा।/DIRECTIONS: In question choose the correct alternative from the given ones that will complete the series.

BG, GC, HN, N ?



A) D

B) J

C) I

D) H



MISSION SELECTION –SSC 2024

THANK YOU