

The poster features the Mahendra's logo at the top center. Below it, the text 'SSC CGL/CPO/CHSL' is written in large, bold, black letters on a yellow background. Underneath, 'MATHS' is written in white on a black background. The main title in Hindi is 'कमीशन पर आधारित प्रश्न (PERCENTAGE)' in yellow and white. Below that, 'Most Asked Questions By SSC' is written in white on a black background. On the right side, there is a portrait of a man with a beard and glasses, wearing a dark suit and a blue tie. At the bottom left, there is a yellow crescent moon icon. At the bottom center, there is a 'LIVE' icon and the time '06:30 PM'.

दिए हुए प्रश्नों के Solution को देखने के लिए निचे दिए हुए लिंक को देखे और Like करें


SSC CGL 2021-22 | SSC 2022 | Maths | Tricks & Concepts : 6:30 PM

<https://youtu.be/90F-itCoqos>



Tanu Vishwakarma 10 hours ago

Homework answer
Option-A(7:12pm)
Great session sir


 2  REPLY

[View reply from Mahendras : Online Videos For Govt. Exams](#)



tarun singh 3 hours ago



Very Well explained

  REPLY



Mr Abhishek Shukla Shukla 22 hours ago

7:15

 1  REPLY



sakshi parate 21 hours ago

a option 7:12

 1  REPLY

[View reply from Mahendras : Online Videos For Govt. Exams](#)



Mohd Irfan 22 hours ago

7:12

 1  REPLY

[View reply from Mahendras : Online Videos For Govt. Exams](#)



priyanka 05 17 hours ago

7:12 pm



  REPLY

[View reply from Mahendras : Online Videos For Govt. Exams](#)



baderiya g 22 hours ago

7:12pm



  REPLY

[View reply from Mahendras : Online Videos For Govt. Exams](#)



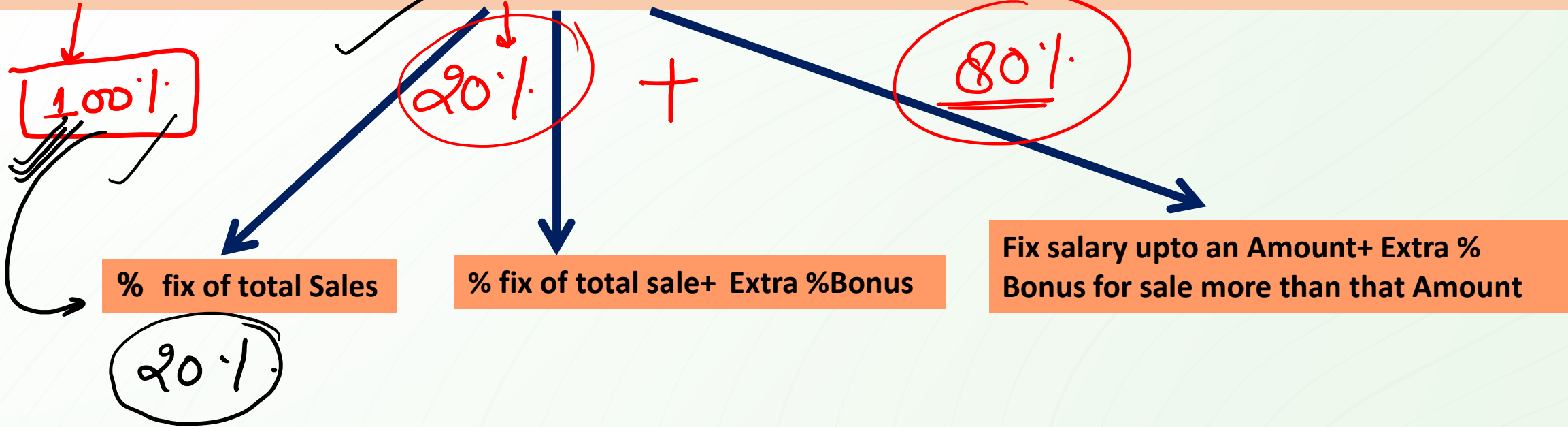
Somya Jain 10 hours ago

7:12

  REPLY

COMMISSION BASED QUESTION (कमीशन पर आधारित प्रश्न)

SALES (बिक्री) = Commission (कमीशन) + Deposit (कमीशन हटाकर कर शेष जमा धनराशि)



$$12\% = 3840$$

$$1\% = 320 \text{ Rs}$$

$$100\% = 32000 \text{ Rs}$$

A salesman is allowed 12% Commission on the total sales made by him. If the total earning of a salesman is Rs 3840. Find the total sales?

एक विक्रेता को उसके द्वारा की गई कुल बिक्री पर 12% कमीशन की अनुमति है। यदि सेल्समैन की कुल कमाई 3840 रु है तो कुल बिक्री का पता लगाएं?

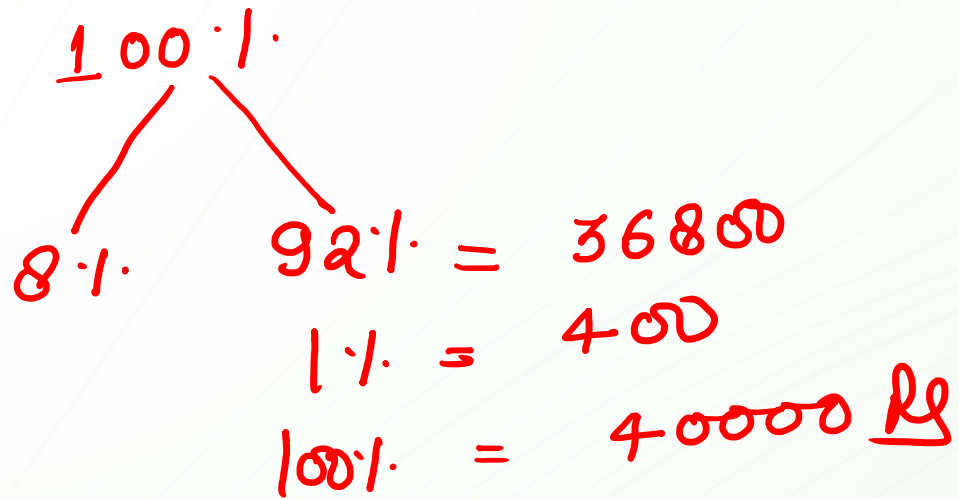
~~a) 32000~~

b) 25000

» c) 34000

d) 36000

01:00



A salesman is allowed 8% Commission on the total sales made by him. If the salesman deposited Rs. 36800 in the company after deducting his earning from the total sales made by him. Find the total sales?

एक विक्रेता को उसके द्वारा की गई कुल बिक्री पर 8% कमीशन की अनुमति है। यदि सेल्समैन कुल बिक्री से अपनी कमाई हटाकर शेष रु. 36800 कंपनी में जमा कर देता है। तो कुल बिक्री का पता लगाएं?

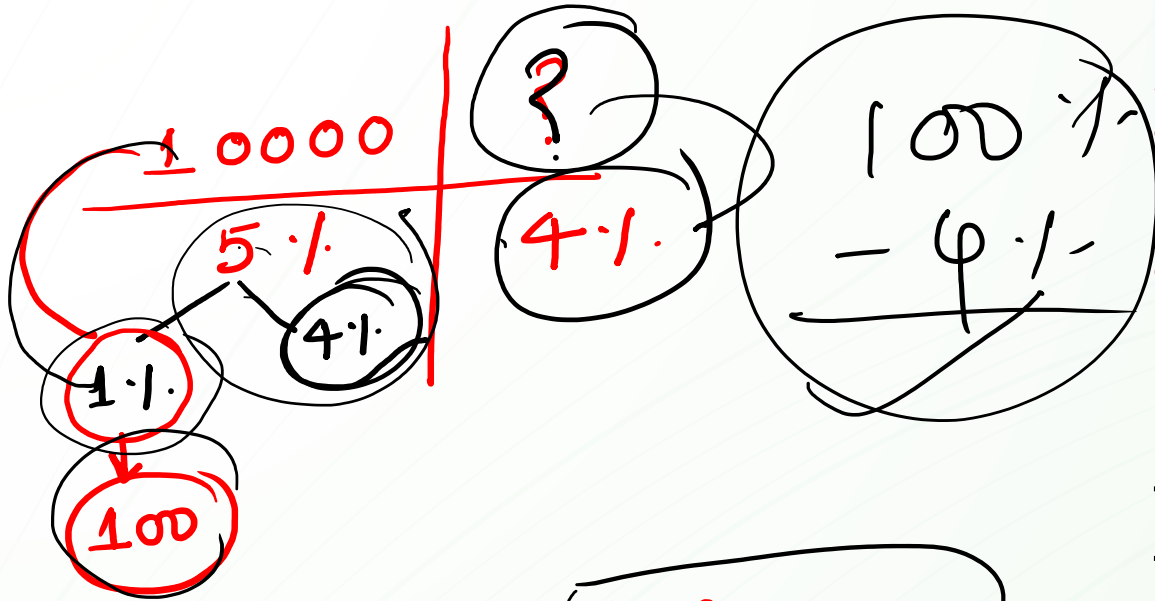
a) 32000

>>> ~~b) 40000~~

c) 46000

d) 27600₅

01:00



An agent gets 5% commission on all sales up to Rs.10000 and 4% commission on all sales exceeding this amount. He gives Rs.28700 from his sales to his company after deducting his commission. Find his total sales.

एक एजेंट को 10000 रु. की बिक्री तक 5% कमीशन मिलता है। इससे ऊपर की बिक्री पर 4% कमीशन मिलता है। यदि कुल बिक्री पर कमीशन काट कर कंपनी को 28700 रु. देता है। तो ज्ञात करो कि उसने कुल कितनी बिक्री की।

$$\begin{aligned}
 96\% &= 28700 + 100 \\
 1\% &= 300 \text{ Rs} \\
 100\% &= 30000 \text{ Rs}
 \end{aligned}$$

01:00

- » a) 30000
- b) 40000
- c) 35140
- d) 32800

A company allows 5% Commission to his salesman up to sales of 10000 and company allow only 4% commission and total sales above 10000. If salesman returns 31100 after deducting is income. Find total money?

एक कंपनी अपने विक्रेता को 10000 की बिक्री तक 5 % कमीशन की अनुमति देती है और कंपनी केवल 4 % कमीशन 10000 से ऊपर की कुल बिक्री पर देती है। अगर विक्रेता अपनी आय का कटौती करने के बाद 31100 कंपनी को लौटाता है तो कुल पैसा कितना होगा?

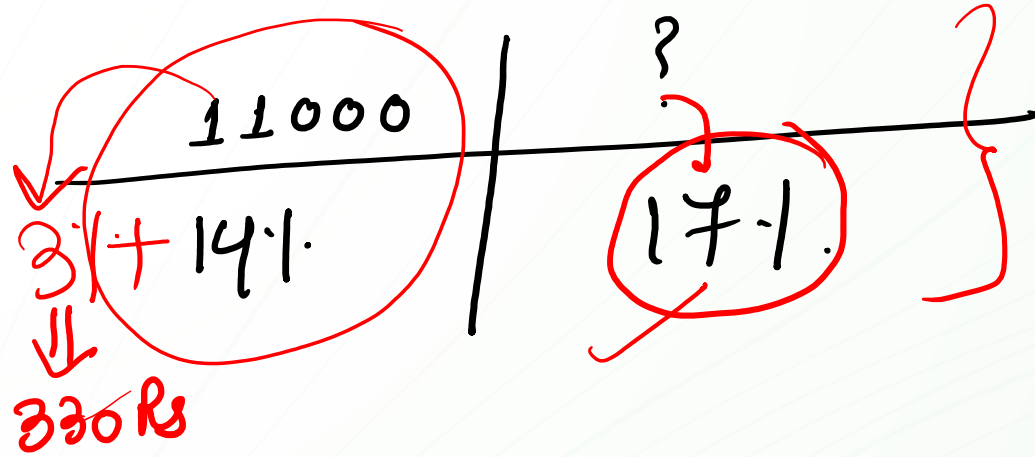
a) 37500

b) 34450

c) 45500

»»» d) 32500

01:00



$$17\% = ₹ 320 + 330$$

$$1\% = 450$$

$$100\% = 45000$$

A salesman is allowed 14% Commission on the total sales made by him and a bonus of 3% on the sales over 11000 .If the total earning of a salesman is Rs 7320. Find the total sales?

एक विक्रेता को उसके द्वारा की गई कुल बिक्री पर 14% कमीशन तथा रु 11000 से ऊपर की बिक्री पर 3% का बोनस भी देती है | यदि सेल्समैन की कुल कमाई रु 7320 है | तो कुल बिक्री का पता लगाएं?

01:00

a)54000

b)40000

»» c)45000

d)42000

$$\begin{aligned} 15\% &= 6960 + 240 \\ 15\% &= 7200 \text{ Rs} \\ 1\% &= 480 \\ 100\% &= 48000 \end{aligned}$$

A salesman is allowed 13% Commission on the total sales made by him and a bonus of 2% on the sales over 12000. If the total earning of a salesman is Rs 6960. Find the total sales?

एक विक्रेता को उसके द्वारा की गई कुल बिक्री पर 13% कमीशन तथा रु 12000 से ऊपर की बिक्री पर 2% का बोनस भी देती है। यदि सेल्समैन की कुल कमाई रु 6960 है। तो कुल बिक्री का पता लगाएं?

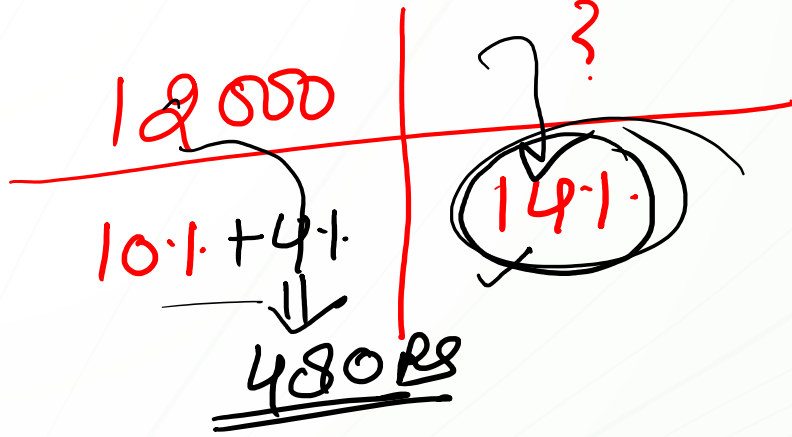
a) 69000

»» b) 48000

c) 45000

d) 52000

01:00



$$86\% = 60680 - 480$$

$$86\% = 60200$$

$$1\% = 700$$

$$100\% = 70000$$

A company allowed 10% commission on the total sales made by salesman and a bonus of 4% on the sales over 12000. If the salesman deposited Rs 60680 in the company after deducting his earning from the total sales made by him: Find total sales?

एक विक्रेता को उसके द्वारा की गई कुल बिक्री पर 10% कमीशन तथा रु 12000 से ऊपर की बिक्री पर 4% का बोनस भी देती है। यदि सेल्समैन कुल बिक्री से अपनी कमाई हटाकर शेष रु. 60680 कंपनी में जमा कर देता है। तो कुल बिक्री का पता लगाएं?

» a) 70000

b) 68800

c) 51600

d) 77400

01:00

$$\begin{array}{l}
 100\% \\
 \swarrow \quad \searrow \\
 17\% \quad 83\% = 58520 - 420 \\
 \\
 83\% = 58100 \\
 1\% = 700 \\
 100\% = 70000
 \end{array}$$

A company allowed 14% commission on the total sales made by salesman and a bonus of 3% on the sales over 14000. If the salesman deposited Rs 58520 in the company after deducting his earning from the total sales made by him: Find total sales?

एक विक्रेता को उसके द्वारा की गई कुल बिक्री पर 14% कमीशन तथा रु 14000 से ऊपर की बिक्री पर 3% का बोनस भी देती है। यदि सेल्समैन कुल बिक्री से अपनी कमाई हटाकर शेष रु.58520 कंपनी में जमा कर देता है। तो कुल बिक्री का पता लगाएं?

» a) 70000

b) 72800

c) 68000

d) 77000

01:00

H.W.

A company allowed 15% commission on the total sales to his salesman but if the salesman is appointed on a fixed salary of Rs 5400 and 8% commission on the sales more than Rs14000. If in the second condition salesman received Rs 780 more than 1st condition. Find the total sales?

एक कंपनी अपने सेल्समेन को उसकी बिक्री पर 15% कमीशन देती है , परन्तु यदि कंपनी अपने सेल्समेन को 5400 रु. वेतन तथा 14000 रु. से अधिक की बिक्री पर 8% कमीशन देती है तो सेल्समेन दूसरी में पहली से 780 रु. अधिक पाता है | तो कुल बिक्री का पता लगाएं?

a)56000

b)60000

»» c)50000

d)48000

01:00

$$\begin{array}{r}
 5000 \\
 \hline
 1200 \\
 - 150 \\
 \hline
 1050
 \end{array}$$

-135

?

31.

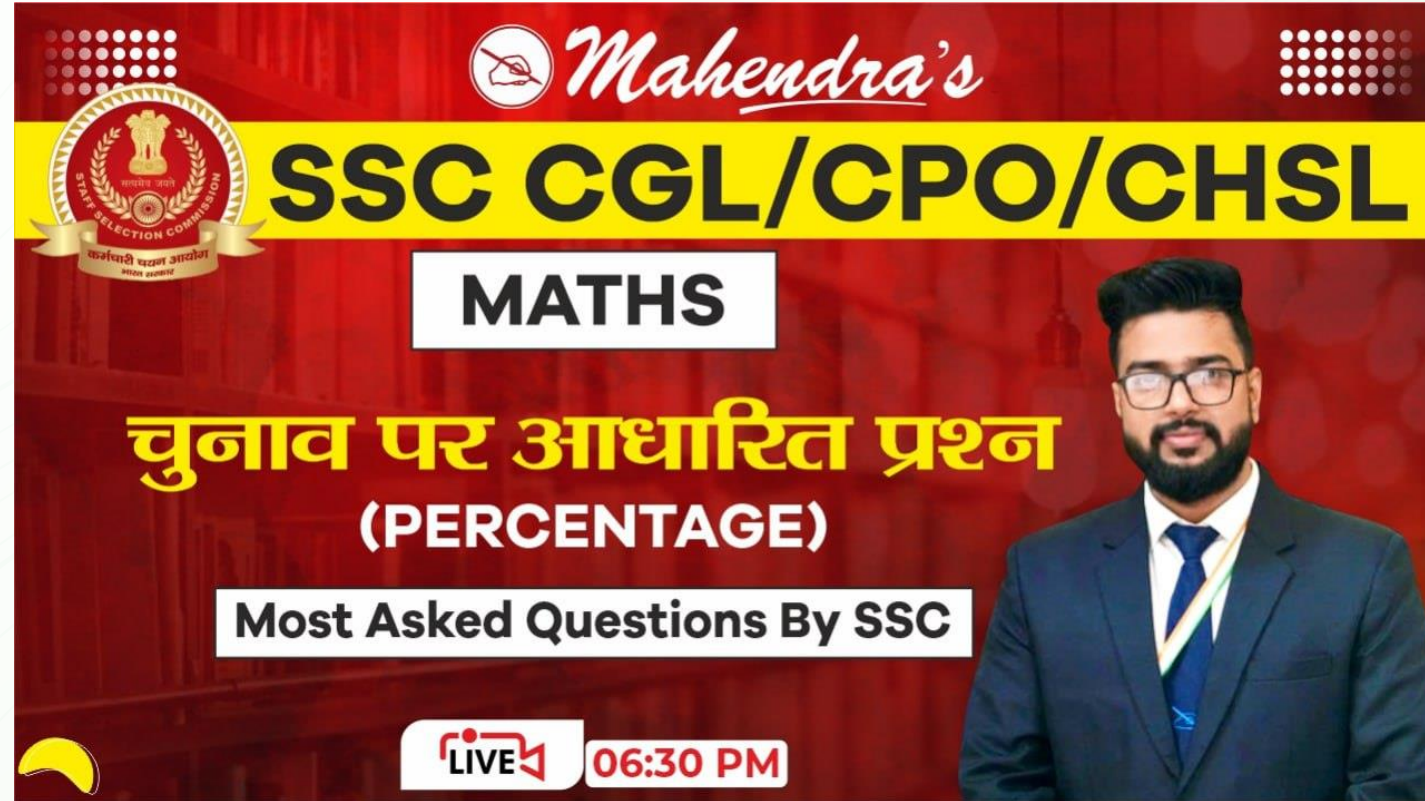
$$\begin{array}{r}
 -1350 \\
 -1050 \\
 \hline
 2400 \\
 \div 3 = 800 \\
 100\% = 80000
 \end{array}$$

A salesman was given job on the condition that he will receive 6% commission of his sale. Afterwards this condition was changed and made that he will get Rs1200 per month as salary and 3% commission on a sale beyond Rs5000 .If on the second condition he received Rs1350 less per month then what is the sale made by him per month?

एक सेल्समैन को इस शर्त पर नौकरी दी गयी की उसके द्वारा की गयी बिक्री पर उसे 6% कमीशन मिलेगा । बाद में इस शर्त को बदल कर यह तय किया गया की उसे प्रतिमाह 1200 रु वेतन दिया जायेगा तथा प्रतिमाह 5000रु से अधिक बिक्री पर 3% कमीशन दिया जायेगा। यदि दूसरी शर्त के अनुसार उसे पहले से प्रतिमाह 1350रु कम मिला हो, तो प्रतिमाह उसके द्वारा की गयी बिक्री क्या है ?

01:00

- » a)80000
- b)60000
- c)90000
- d)70000³



The thumbnail features a red background with a yellow banner at the top. On the left, there is a circular logo of the Staff Selection Commission (SSC) with the motto 'सत्यमेव जयते' and 'कर्मचारी चयन आयोग'. The text 'Mahendra's' is written in a cursive font at the top center. Below it, 'SSC CGL/CPO/CHSL' is written in large, bold, black letters on a yellow background. Underneath, 'MATHS' is written in bold black letters on a white rectangular background. The main title 'चुनाव पर आधारित प्रश्न (PERCENTAGE)' is written in large yellow and white Devanagari script. Below that, 'Most Asked Questions By SSC' is written in bold black letters on a white rectangular background. At the bottom center, there is a 'LIVE' icon and '06:30 PM' in white text on a red background. On the right side, there is a portrait of a man with a beard and glasses, wearing a dark suit and a blue tie with a white and green sash.

कल कि क्लास में जुड़ने के लिए दिए हुए लिंक को open करके like और Save करें

SSC CGL 2021-22 | SSC 2022 | Maths | Tricks & Concepts : 6:30 PM

<https://youtu.be/09P1IMyONPA>