



मिशन SSC 2023



REASONING

अभाषिक तर्कशक्ति (NON VERBAL REASONING)

**SSC CGL/CHSL पर आधारित
पिछली परीक्षा में पूछे गए प्रश्न**

हमारे **TOPIC EXPERT** के साथ

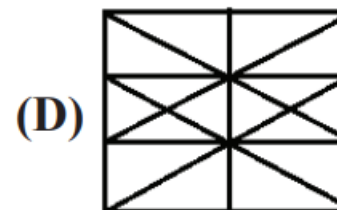
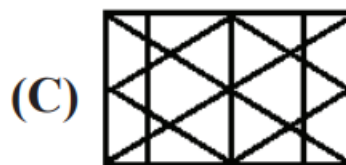
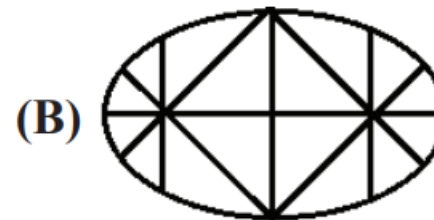
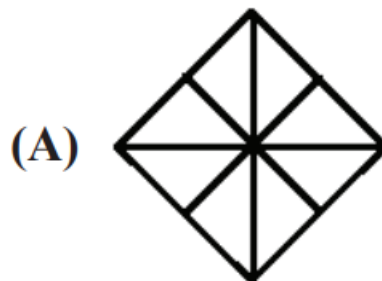
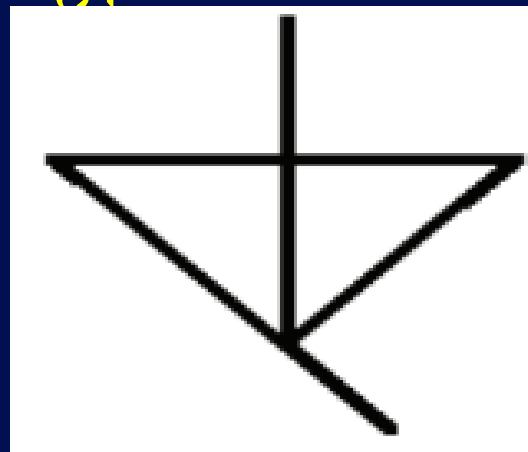
BY REASONING GURU

LIVE 4:00 PM



Q.1 Select the option in which the given figure is embedded.

उस विकल्प का चयन करें जिसमें दी गई आकृति सन्निहित है।



(A) A

(B) B

(C) C

(D) D

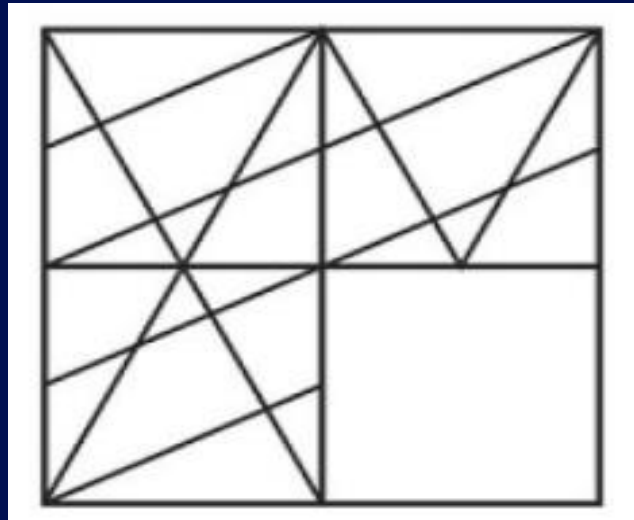


Q.2 Which answer figure will complete the pattern in the question figure?

कौन सी उत्तर आकृति प्रश्न आकृति के पैटर्न को पूरा करेगी?



SSC CGL - Pre - (21



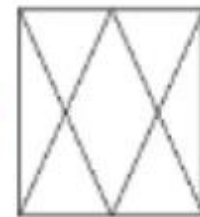
(A)



(B)



(C)



(D)



(A) A

(B) B

(C) C

(D) D

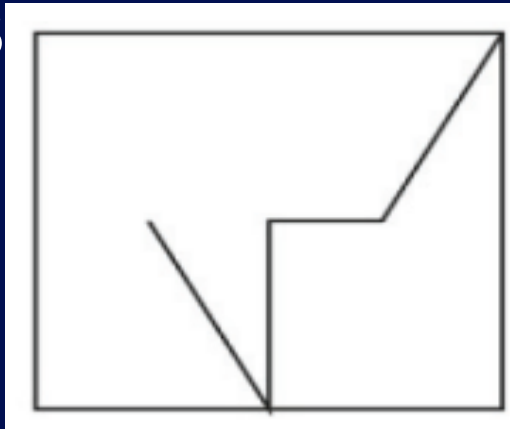


Q.3 From the given options select the one in which the question figure is hidden / embedded.

दिए गए विकल्पों में से उस विकल्प का चयन करें जिसमें प्रश्न आकृति छिपी/निहित है।

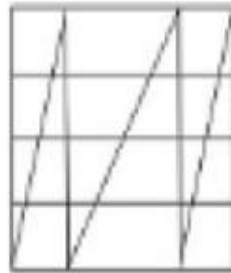


S

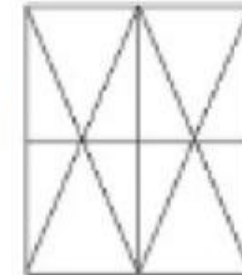


(2)

(A)



(B)



(C)



(D)



(A) A

(B) B

(C) C

(D) D



Q.4 Select the option in which Figure-X is embedded.
(Rotation is not allowed)

उस विकल्प का चयन करें जिसमें चित्र-X सन्निहित है। (रोटेशन की अनुमति नहीं है)

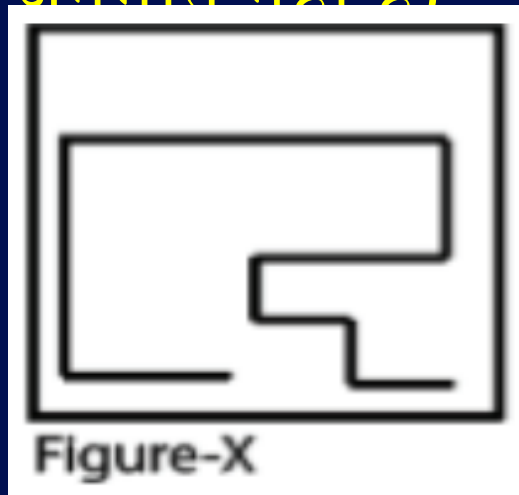
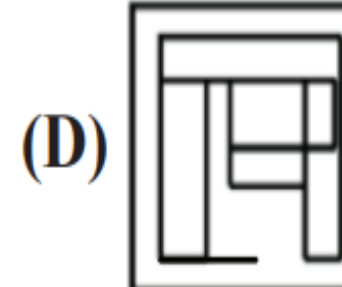
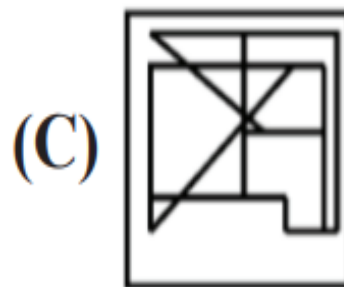
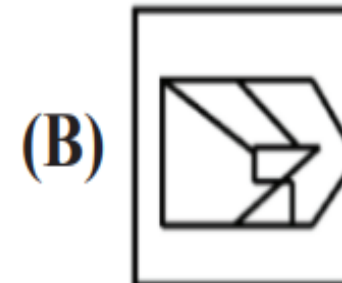
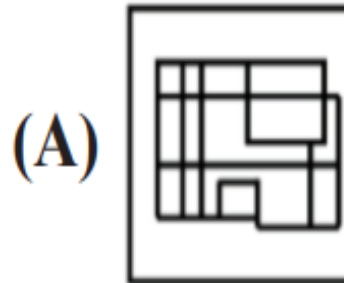


Figure-X

e- (0



(A) A

(B) B

(C) C

(D) D

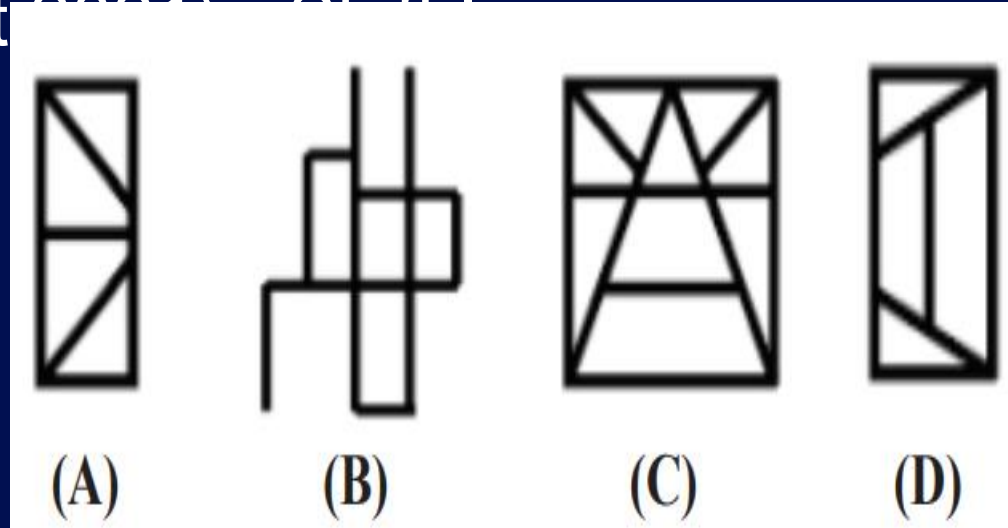


Q.5 Select the option figure that is embedded in the given figure (rotation is NOT allowed).

उस विकल्प आकृति का चयन करें जो दी गई आकृति में अंतर्निहित है (रोटेशन की अनुमति नहीं है)।



SSC CGL Pre (12 August 2021) - Shift 1

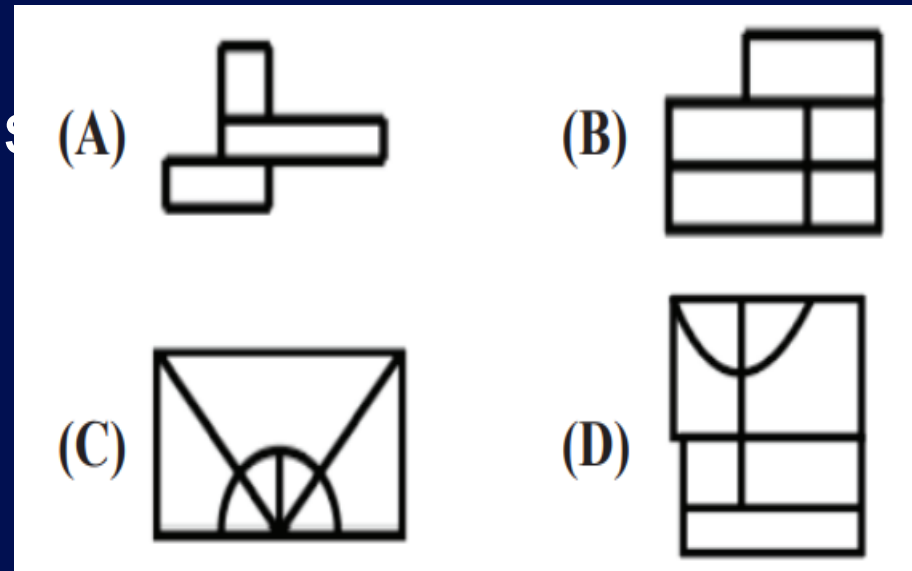
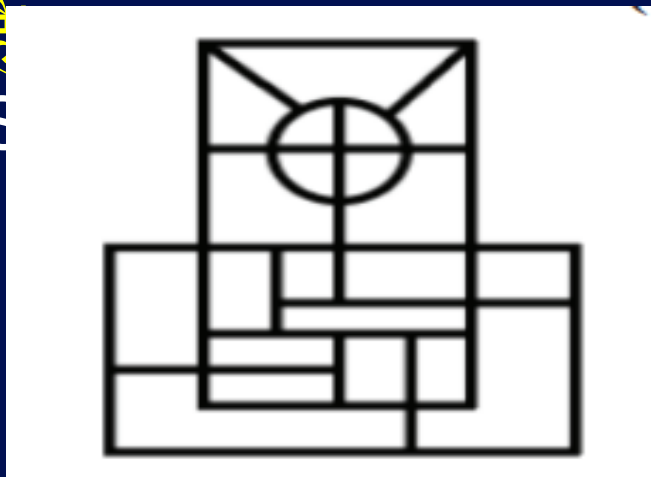


- (A) A
- (B) B
- (C) C
- (D) D



Q.6 Select the option that is embedded in the given figure (rotation is NOT allowed).

दिए गए चित्र में अंतर्निहित विकल्प का चयन करें (रोटेशन की अनुमति नहीं)




- (A) A
- (B) B
- (C) C
- (D) D



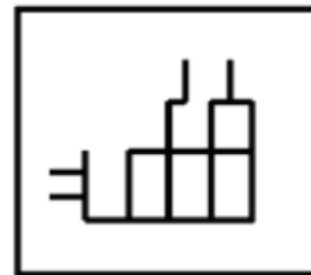
Q.7 Select the option in which the given figure is embedded (Rotation is NOT allowed).

उस विकल्प का चयन करें जिसमें दी गई आकृति अंतर्निहित है (रोटेशन की अनुमति नहीं है)।

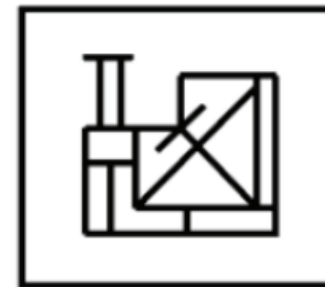


(12 April 2023)

(A)



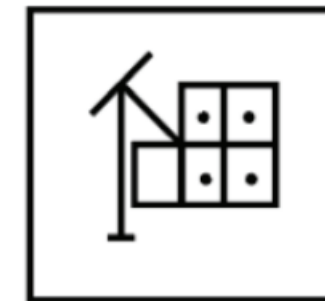
(B)



(C)



(D)



(A) A

(B) B

(C) C

(D) D

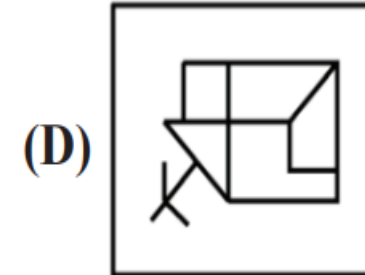
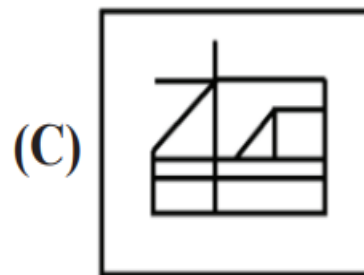
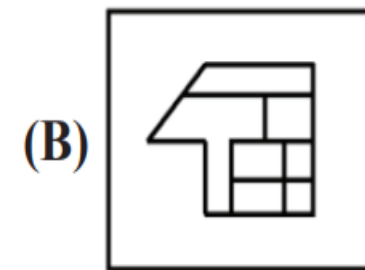
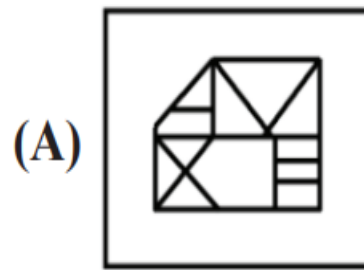


Q.8 Select the option in which the given figure is embedded (Rotation is NOT allowed).

उस विकल्प का चयन करें जिसमें दी गई आकृति अंतर्निहित है (रोटेशन की अनुमति नहीं है)।



3 A (1001) Shift 1

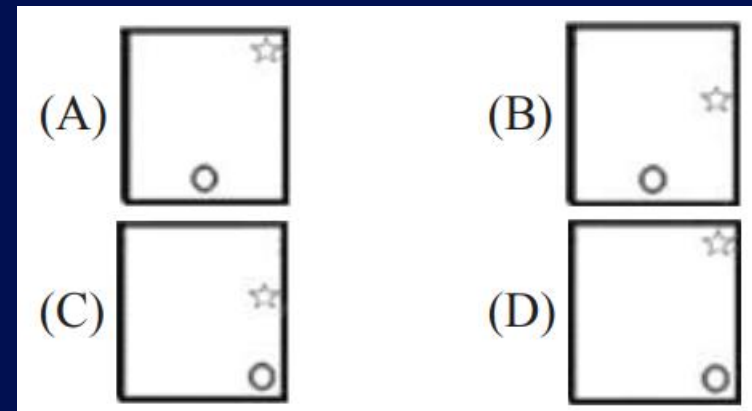
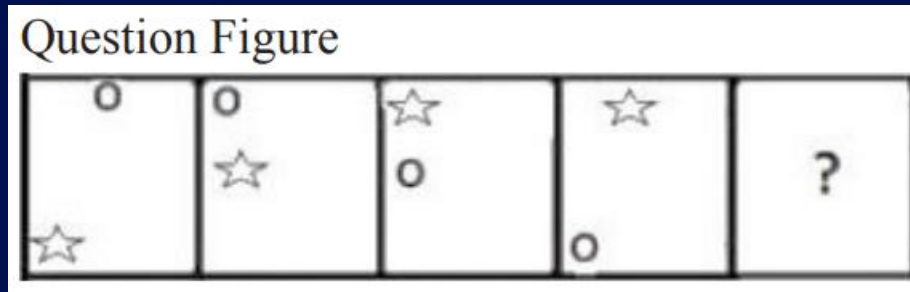


- (A) A
- (B) B
- (C) C
- (D) D



Q.9 Select the figure that can replace the question mark (?) in the following series.

उस आकृति का चयन करें जो निम्नलिखित श्रृंखला में प्रश्न चिह्न (?) को प्रतिस्थापित कर सकती है।



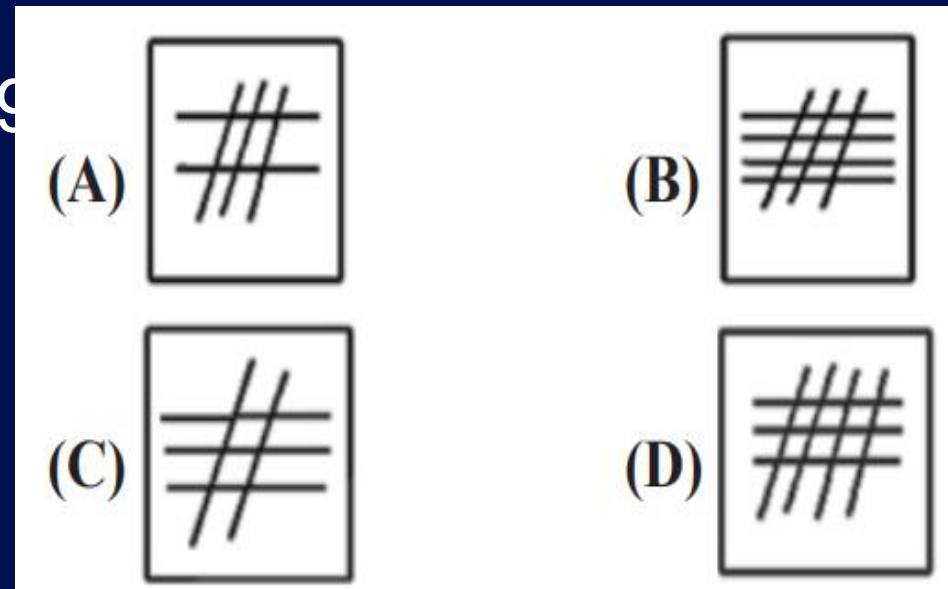
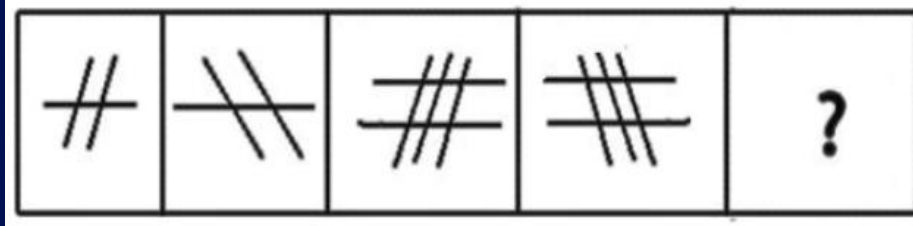
- (A) A
- (B) B
- (C) C
- (D) D



Q.10 Select the figure that will come next in the following figure series.

उस आकृति का चयन करें जो निम्नलिखित आकृति श्रृंखला में आगे आएगी।

SSC CGL - Pre (04 June 2019)



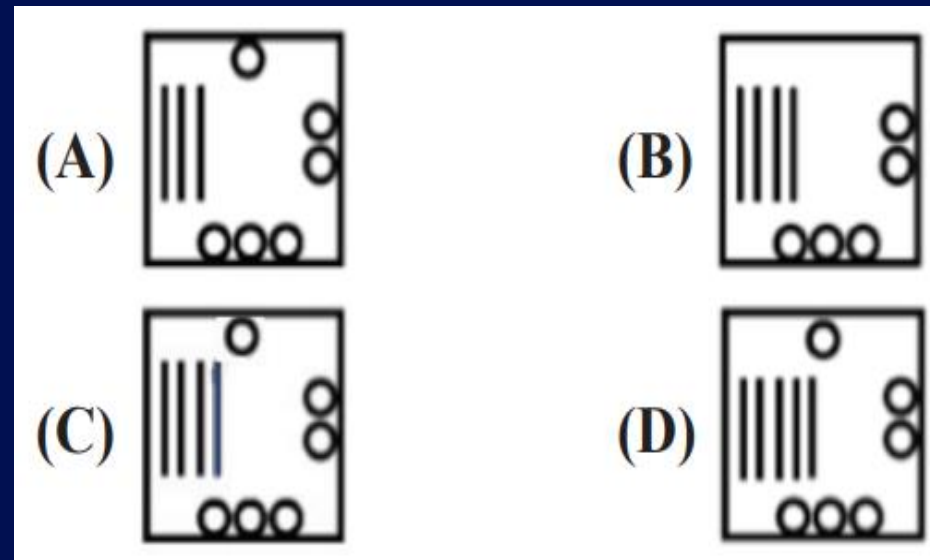
- (A) A
- (B) B
- (C) C
- (D) D





Q.11 Select the figure that will come next in the following figure series.

उस आकृति का चयन करें जो निम्नलिखित आकृति श्रृंखला में आगे आएगी।



- (A) A
- (B) B
- (C) C
- (D) D

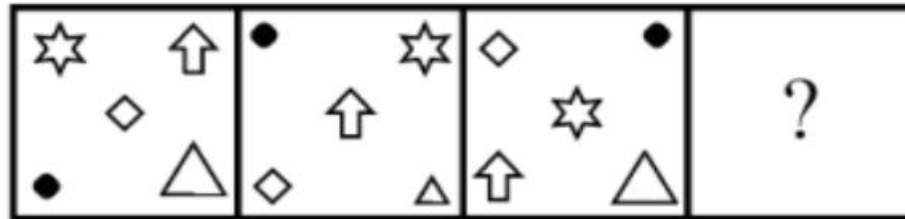


Q.12 Select the figure from among the given options that can replace the question mark (?) in the following series.

दिए गए विकल्पों में से उस आकृति का चयन करें जो निम्नलिखित श्रृंखला में प्रश्न चिह्न (?) को प्रतिस्थापित कर सके

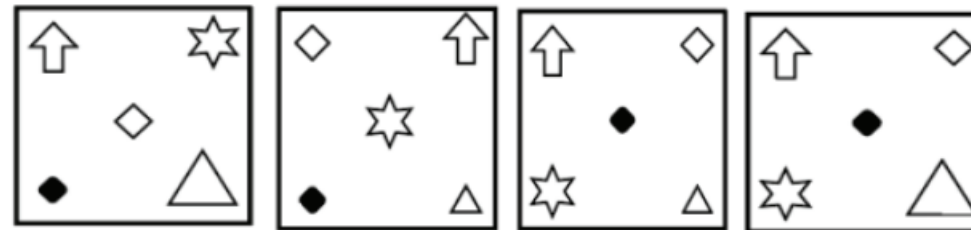


Question Figure



21) - Shift I

Answer Figure



(A)

(B)

(C)

(D)

(A) A

(B) B

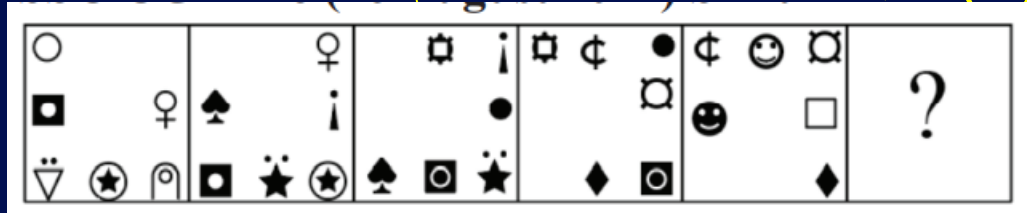
(C) C

(D) D

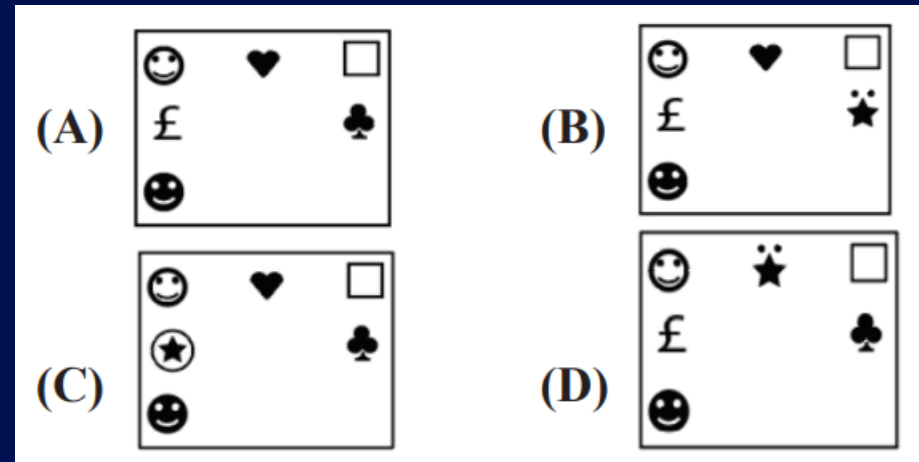


Q.13 Select the figure from among the given options that can replace the question mark (?) in the following series.

दिए गए विकल्पों में से उस आकृति का चयन करें जो निम्नलिखित श्रृंखला में प्रश्न चिह्न (?) को प्रतिस्थापित कर



1) Shift-I



(A) A

(B) B

(C) C

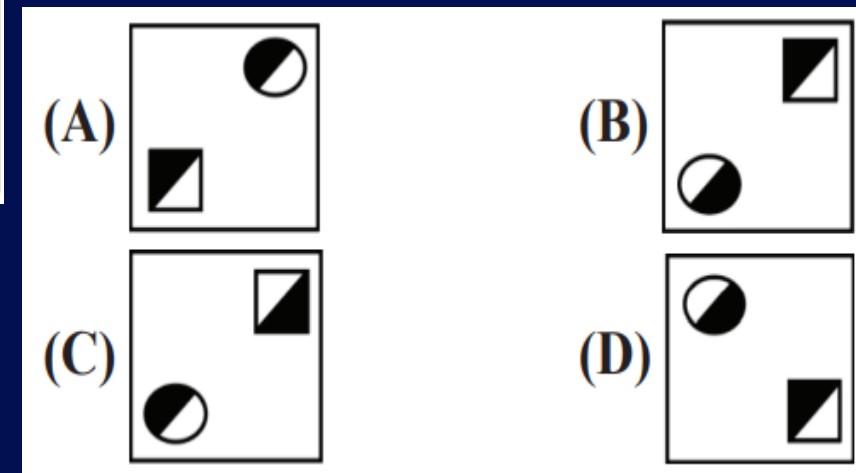
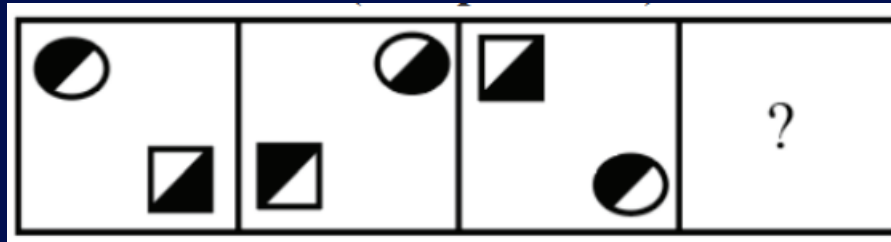
(D) D



Q.14 Select the figure that will come next (in place of the question mark [?]) in the following figure series.

निम्नलिखित आकृति श्रृंखला में आगे आने वाली आकृति (प्रश्न चिह्न [?] के स्थान पर) का चयन करें।

SSC CHSL Pre (12 April 2021) Shift-I



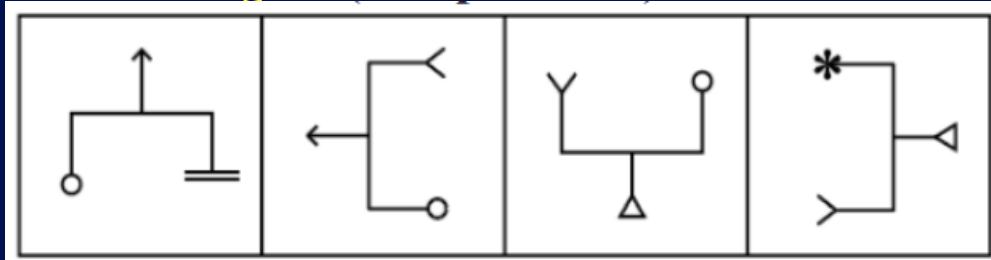
- (A) A
- (B) B
- (C) C
- (D) D



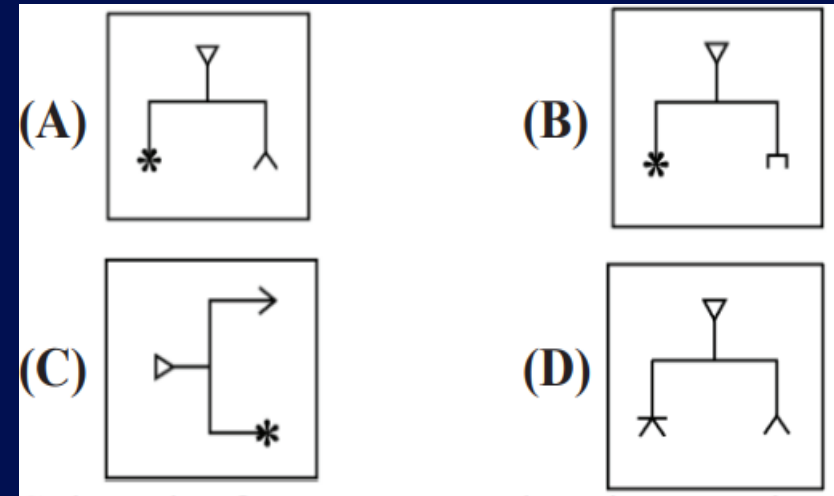


Q.15 Select the figure that will come next in the following series.

उस आकृति का चयन करें जो निम्नलिखित श्रृंखला में आगे



1) Shift-I



- (A) A
- (B) B
- (C) C
- (D) D



मिशन SSC 2023

REASONING



**THANK
YOU**