



MISSION SSC CGL & CHSL



REASONING

25

DAYS

HARD CHALLENGE

PRACTICE SET-11

हमसे पहले हल करके दिखाओ

LIVE

03:00 PM



Join my

TELEGRAM GROUP

 @reasoningbymohitsir

 Daily PDF of all YT sessions

 Discussion / Doubt Solving

 Direct Interaction with me


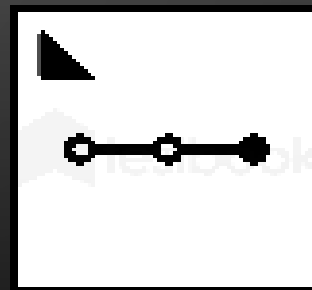
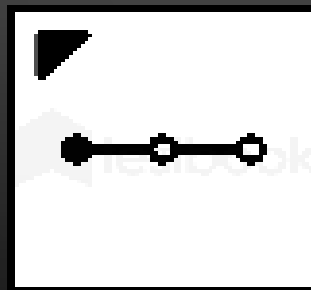
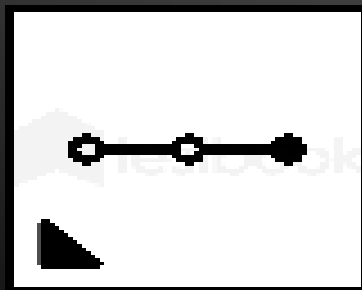
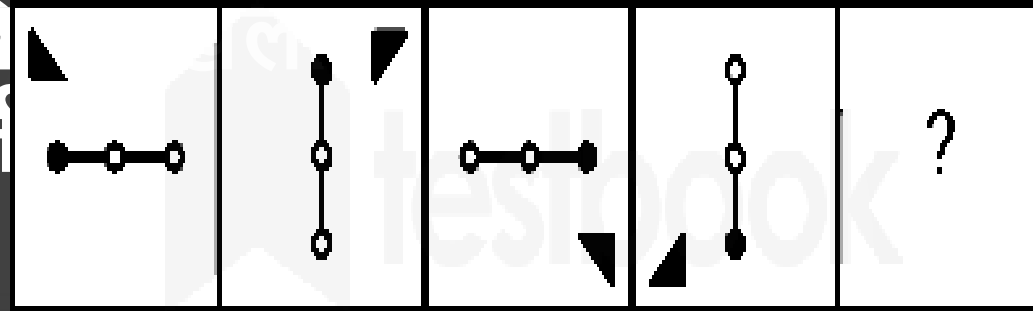
 Quiz

 Polls



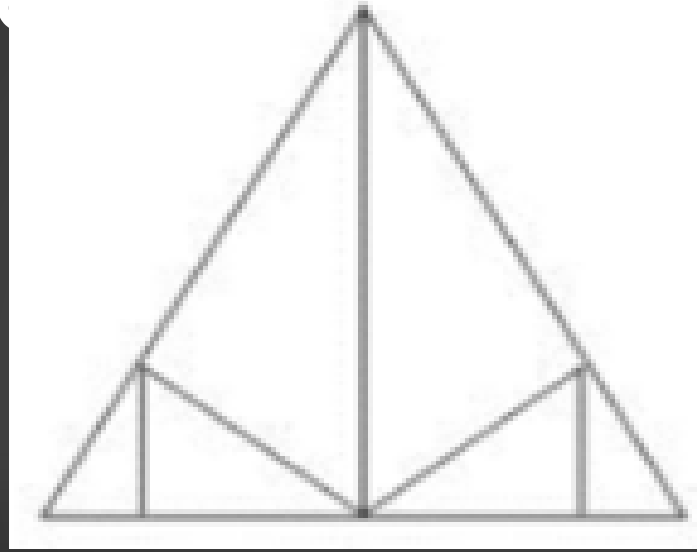
Q.1 Select the figure from among the given options that can replace the question mark (?) in the following series.

दिए गए विकल्पों में से उस आकृति का चयन कीजिए जो निम्नलिखित श्रृंखला में (?) को प्रतिस्थापित कर सकता है।



Q.2 How many triangles are there in the given figure?

दी गई आकृति में कितने त्रिभुज हैं?



- (a) 10 (b) 11
(c) 12 (d) 13

Q.3 Statement/ कथन:

All are cordially invited to participate in the entertainment program.

It's free.' An announcement in a newspaper.

'सभी मनोरंजन कार्यक्रम में भाग लेने के लिए प्रेमपूर्वक आमंत्रित हैं। यह निःशुल्क है।' एक समाचार पत्र में एक घोषणा।

Assumption / पूर्वानुमान:

I. A negligible number of readers read the announcements in the newspaper.

I. पाठकों की एक नगण्य संख्या समाचार पत्र में घोषणाएं पढ़ती है।

II. Generally people do not attend such entertainment programs

which are free of cost.

(a) Both Assumption I and Assumption II are implicit / पूर्वानुमान I और II आम तौर पर लोग ऐसे मनोरंजन कार्यक्रम में नहीं भाग लेते जो निःशुल्क होते हैं।

(b) Only assumption I is implicit /केवल पूर्वानुमान I अंतर्निहित है

(c) Neither Assumption I nor Assumption II is implicit /पूर्वानुमान I और पूर्वानुमान II में से कोई भी अंतर्निहित नहीं है

(d) Only assumption II is implicit /केवल पूर्वानुमान II अंतर्निहित है



Q.4 Select the correct combination of mathematical signs to replace the * signs and to balance the given equation.

*** चिह्नों को प्रतिस्थापित करने और दिए गए समीकरण को संतुलित करने के लिए गणितीय चिह्नों के सही संयोजन का चयन कीजिए।**



a) \div , +, \times , -, +, = b) +, =, -, +,

\times , \div

c) \div , -, =, +, \times , - d) =, -, \times , +,

-, \times

Q.5 Which of the following numbers will replace the question mark (?) in the given series?

निम्नलिखित में से कौन सी संख्या दी गई श्रृंखला में प्रश्नवाचक चिह्न (?) को प्रतिस्थापित करेगी?

78, 112, 64, ?, 50, 140



a) 134

b)

126

c) 108

d)

116

Q.6 In a certain code language, "ARE" is coded as "87", and "NOT" is coded as "4197". How will "CAT" be coded in that language?

एक निश्चित कूट भाषा में, "ARE" को "87" के रूप में कूटबद्ध किया जाता है, और "NOT" को "4197" के रूप में कूटबद्ध किया जाता है। उसी भाषा में "CAT" को किस प्रकार कूटबद्ध किया जाएगा?



a) 54 b)

60

c) 57 d)

63

Q.7 Select the option that represents the correct order of the given words as they would appear in an English dictionary./उस विकल्प का चयन कीजिए जो दिए गए शब्दों के उस सही क्रम का प्रतिनिधित्व करता है जैसे कि वे एक अंग्रेजी शब्दकोश में दिखाई देते हैं।

- 1. Potential**
- 2. Posthumous**
- 3. Postbox**
- 4. Polymer**
- 5. Popular**



**a) 5, 4, 3, 2, 1 b) 4, 5, 2, 3,
1**

**c) 4, 5, 3, 2, 1 d) 1, 2, 3, 4,
5**

Q.8 Select the option that represents the correct order of the given words as they would appear in an English dictionary.

उस विकल्प का चयन कीजिए जो दिए गए शब्दों के उस सही क्रम का प्रतिनिधित्व करता है जैसे कि वे एक अंग्रेजी शब्दकोश में दिखाई देंगे।



1. Sourced
2. Sorrow
3. Soulful
4. Soaking
5. Somewhere

a) 5, 4, 3, 2,
1

b) 4, 5, 2, 3,
1

c) 5, 4, 1, 2,
3

Q.9 In the following question, select the related letters from the given alternatives.

निम्नलिखित प्रश्न में दिए गए विकल्पों में से संबंधित अक्षरों को चुनिए।

KLMN : IJKL :: TUVW : ?



A) RSUT B)

VWXY

C) STUV D)

RSTU

Q.10 Statements:/कथन:

Some potatoes are onions./कुछ आलू
प्याज हैं।

Some onions are tomatoes./कुछ प्याज
टमाटर हैं।

Conclusions:/निष्कर्ष:

a) Only conclusion I follows/केवल निष्कर्ष I
अनुसरण करता है।

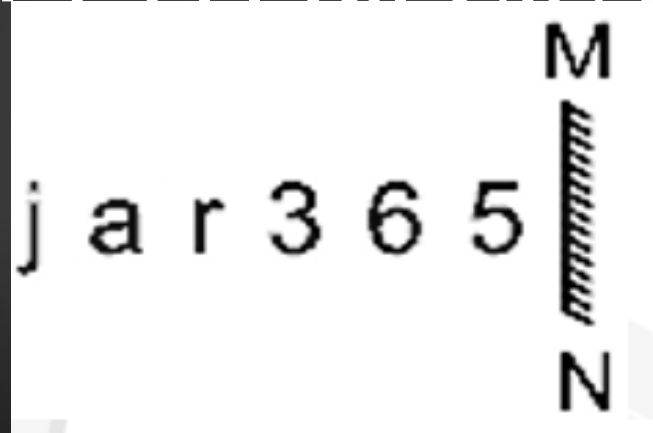
b) Only conclusion II follows/केवल निष्कर्ष II
अनुसरण करता है।

c) Either conclusion I or II follows/या तो निष्कर्ष I
या II अनुसरण करता है।



Q.11 Select the correct mirror image of the given combination when the mirror is placed at MN as shown.

दिए गए संयोजन के सही दर्पण प्रतिबिम्ब का चयन कीजिए जब दर्पण को निम्नानुसार MN पर रखा जाता है।



- a) 5 6 3 r a j !
- b) 5 6 3 r a j !
- c) 5 9 3 r a j
- d) 5 9 3 r a j

Q.12 statement / कथन :

Does practice make a man perfect?

क्या अभ्यास एक आदमी को निपुण बनाता है?



Argument / तर्क :

I. Yes, opportunists take advantage of every opportunity.

I. हां, अवसरवादी हर मौके का फायदा उठाते हैं।

II. No, some people hardly learn by practicing.

(a) Both नही, कुछ लोग शायद ही अभ्यास से सीखते हैं। दोनों मजबूत हैं।

(b) Neither argument I nor argument II is strong. तर्क I या तर्क II में से कोई भी मजबूत नहीं है।

(c) Only argument II is strong. केवल तर्क II मजबूत है।

Q.13 Which of the following letter-clusters will replace the question mark (?) in the given series to make it logically complete?

दी गई श्रृंखला को तार्किक रूप से पूर्ण बनाने के लिए निम्नलिखित में से कौनसा अक्षर-समूह प्रश्नवाचक चिह्न (?) को प्रतिस्थापित करेगा?



a) TRP b)

TQN

c) SQO d)

SPM

Q.14 Select the option that is related to the third number in the same way as the second number is related to the first number and the sixth number is related to the fifth number.

उस विकल्प का चयन कीजिए जो तीसरी संख्या से उसी प्रकार संबंधित है जिस प्रकार दूसरी संख्या पहली संख्या से संबंधित है और छठवीं संख्या पांचवीं संख्या से संबंधित है।

10 : 0 :: 12 : ? :: 16 : 3



a) 4 b)

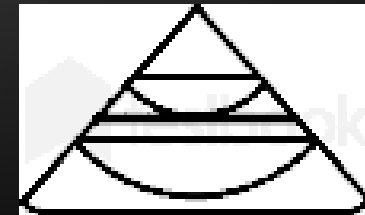
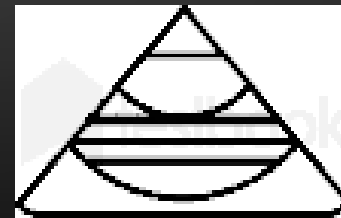
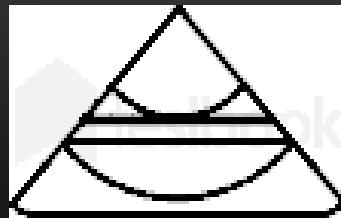
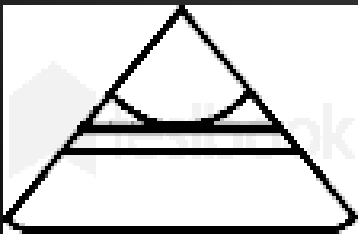
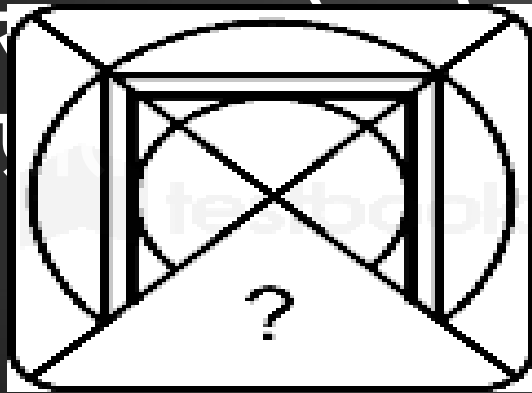
5

c) 3 d)

1

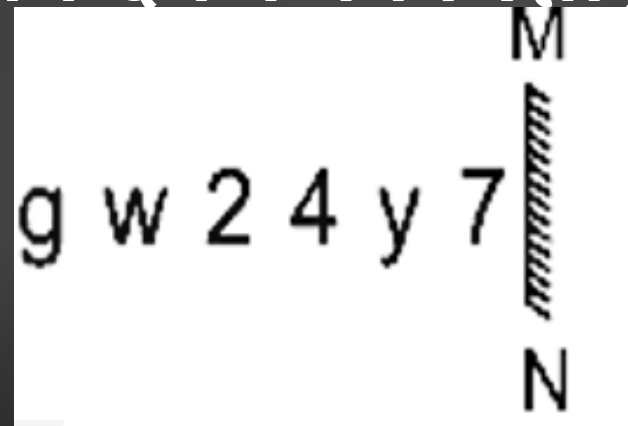
Q.15 Select the option figure that will replace the question mark (?) in the figure given below to complete the pattern.

उस विकल्प का चयन कीजिए जो नीचे दी गई आकृति में पूरक बनाने के लिए प्रश्नवाचक चिह्न (?) को पूरा करेगा।



Q.16 Select the correct mirror image of the given combination when the mirror is placed at MN as shown.

दिए गए संयोजन के सही दर्पण प्रतिबिम्ब का चयन कीजिए जब दर्पण को निम्नानुसार MN पर रखा गया है।



- a) 7 4 2 w g
- b) 7 4 2 w g
- c) 7 4 2 w g
- d) 7 4 2 w g



Q.17 Which of the following numbers will replace the question mark (?) in the given series?/निम्नलिखित में से कौन सी संख्या दी गई श्रृंखला में प्रश्नवाचक चिह्न (?) को प्रतिस्थापित करेगी?

11, 20, 43, 94, 187, 336, 555, ?



a) 777 b)

888

c) 858 d)

758

Q.18 Which letter cluster will replace the question mark (?) to complete the given series?

दी गई श्रृंखला को पूर्ण करने के लिए कौन सा अक्षर समूह प्रश्नवाचक चिह्न (?) को प्रतिस्थापित करेगा?

ANGE, DSBB, GXWY, ?




a) JBRV b) JCSV

c) JBSV d)

JCRV

Q.19 In a certain code language, 'RAIN' is written as '182915' and 'SUN' is written as '192214'. How will 'MOON' be written in that language?

एक निश्चित कूट भाषा में 'RAIN' को '182915' के रूप में लिखा जाता है और 'SUN' को '192214' के रूप में लिखा जाता है। उस भाषा में 'MOON' को कैसे लिखा जाएगा?



a)

13161415

b)

13161616

c)

Q.20 The second number in the given number pairs is obtained by performing certain mathematical operation(s) on the first number. The same operation(s) are followed in all the number pairs, EXCEPT one. Find that odd number pair.

दी गई संख्या युग्मों में दूसरी संख्या पहली संख्या पर कुछ गणितीय संक्रियाएँ करके प्राप्त की जाती है। एक को छोड़कर सभी संख्या युग्मों में समान संक्रिया का अनुसरण किया जाता है। वह बेजोड़ संख्या युग्म ज्ञात कीजिए।

a) 21 : 431 b) 15 :

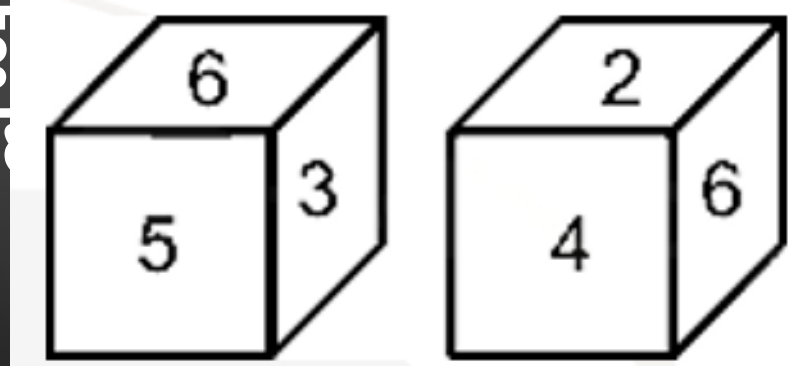
225

c) 13 : 169 d) 12 :

144

Q.21 Two different positions of the same dice are shown, the six faces of which are numbered from 1 to 6. Select the number that will be on the top if the dice is resting on '6'.

समान पासे की दो विभिन्न स्थितियाँ दर्शाई गई हैं, जिनमें छह फलक संख्या 1 से 6 तक क्रमांकित हैं। यदि पासा, '6' पर टिका हुआ है, तो चयन कीजिए जो शीर्ष फलक पर है।



a) 3

b) 2

c) 1

d) 4

4

Q.22 In a certain code language, 'APPROACH' is written as '116161815138' and 'APPROVAL' is written as '11616181522112'. How will 'POOL' be written in that language?

एक निश्चित कूट भाषा में, 'APPROACH' को '116161815138' के रूप में और 'APPROVAL' को '11616181522112' के रूप में लिखा जाता है। उसी भाषा में 'POOL' को कैसे लिखा जाएगा?



a) 16141412 b)

16171712

c) 16151512 d)

16131312

Q.23 Select the option that is related to the third word in the same way as the second word is related to the first word. (The words must be considered as meaningful English words and must NOT be related to each other based on the number of letters/number of consonants/vowels in the word

उस विकल्प का चयन कीजिए जो तीसरे शब्द से उसी प्रकार संबंधित है जिस प्रकार दूसरा शब्द पहले शब्द से संबंधित है। शब्दों को अर्थपूर्ण अंग्रेजी शब्दों के रूप में माना जाना चाहिए और शब्दों को अक्षरों की संख्या/व्यंजनों/स्वदों की संख्या के आधार पर एक दूसरे से संबंधित नहीं किया जाना चाहिए।


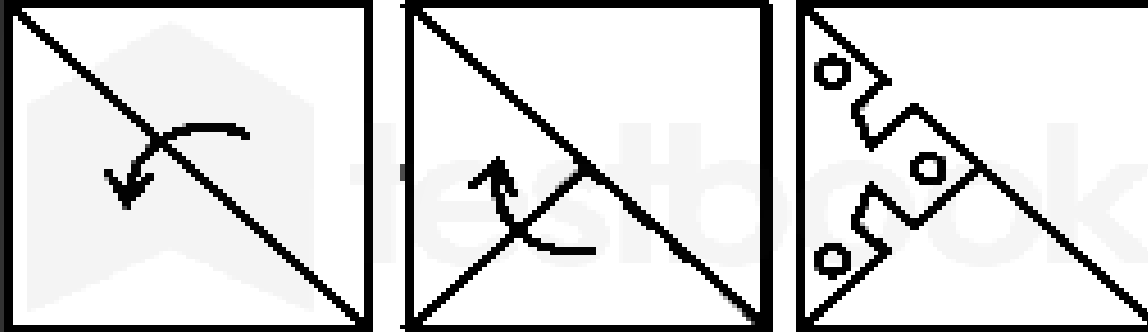
Sinister : ?

c) Ominous /अशुभ

d) दयालु /

Q.24 A paper is folded and cut as shown. How will it appear when unfolded?

एक कागज को मोड़ा जाता है और दिखाए गए अनुसार काटा जाता है। खोले जाने पर यह कैसा दिखाई देगा?



Q.25 Which of the following numbers will replace the question mark (?) in the given number series?

निम्नलिखित में से कौन सी संख्या दी गई संख्या श्रृंखला में प्रश्नवाचक चिह्न (?) को प्रतिस्थापित करेगी?

458, 462, 446, 482, ?, 518



a) 428 b)

432

c) 546 d)

418

THAN
K
YOU

Join my
TELEGRAM GROUP



@reasoningbymohitsir



Daily PDF of all YT sessions



Discussion / Doubt Solving



Direct Interaction with me



Quiz



Polls

