



MISSION SSC CGL & CHSL



REASONING

25

DAYS

HARD CHALLENGE

PRACTICE SET-4

हमसे पहले हल करके दिखाओ

LIVE 03:00 PM



Join my

TELEGRAM GROUP

 @reasoningbymohitsir

 Daily PDF of all YT sessions

 Discussion / Doubt Solving

 Direct Interaction with me

 Quiz

 Polls



Q.1 If "+" denotes "divided by", "x" denotes "added to", "÷" denotes "subtracted from" and "-" denotes "multiplied by", then

यदि "+" का अर्थ "भाग" है, "x" का अर्थ "जोड़" है, "÷" का अर्थ "घटाव" है तथा "-" का अर्थ "गुणा" है, तो



$$54 + 162 - 18 \times 12 \div 6 = ?$$


- A) 4 B) 16
C) 12 D) 10

Q.2 Find the answer figure in which the question figure is embedded.

वह उत्तर आकृति ज्ञात करें जिसमें प्रश्न आकृति निहित है।

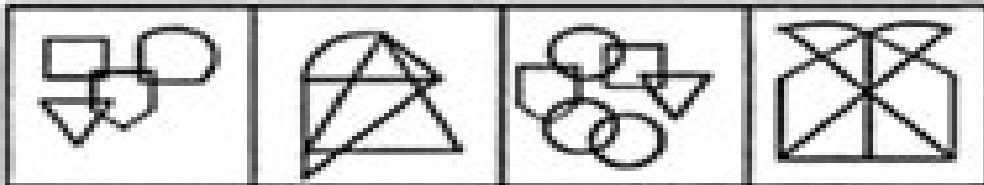


Question figure-



(X)

Answer figure-



(A)

(B)

(C)

(D)

Q.3 From the answer figures, find out the figure which is the exact image of the question figure, when the mirror is placed on the line 'MN' :

उत्तर आकृतियों में से उस आकृति को पहचानिए, जो प्रश्न आकृति का प्रतिबिंब है, यदि दर्पण को रेखा 'MN' पर रखा गया है



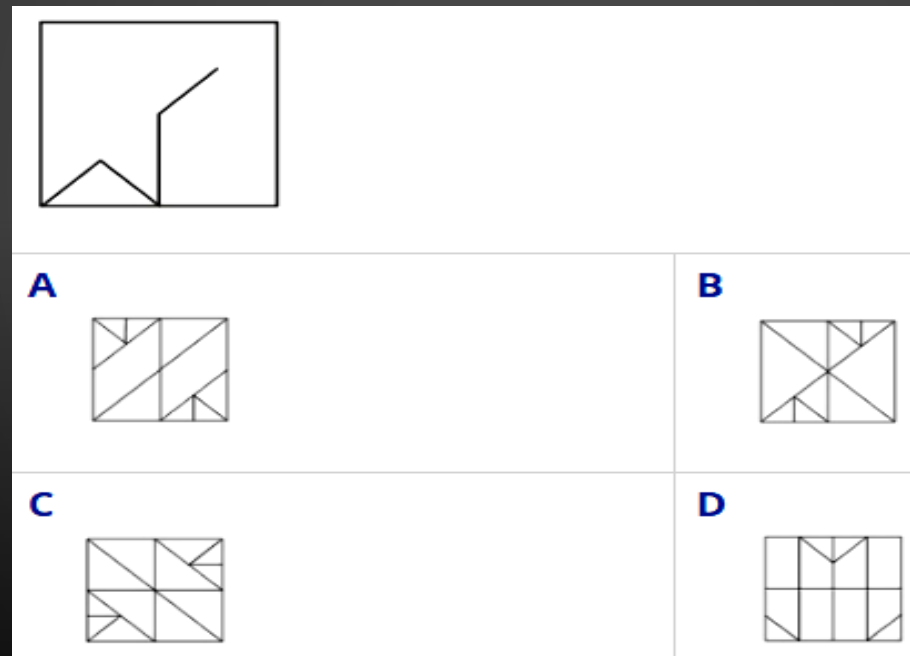
Question figure:

Answer figures:

(A) (B) (C) (D)


Q.4 From the given answer figure, select the one in which the question figure is hidden/embedded.

दी गई उत्तर आकृतियों में से उस उत्तर आकृति को चुनिए जिसमें प्रश्न आकृति निहित है।

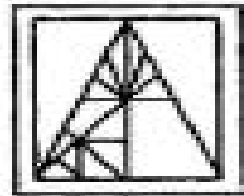


Q.5 Which answer figure will complete the pattern in the question figure?


कौन-सी उत्तर आकृति प्रश्न आकृति के प्रतिरूप को पूरा करेगी?



Question figure : / प्रश्न आकृति :



Answer figures : / उत्तर आकृतियां :



(a)

(b)

(c)

(d)

Q.6 If 'A + B' means 'A is father of B', 'A - B' means 'A is mother of B', 'A * B' means 'A is brother of B' and 'A % B' means 'A is sister of B', then how Q is related to S in 'P + Q * R - S' ?

यदि 'A + B' का अर्थ 'A, B का पिता है', 'A - B' का अर्थ 'A, B की माता है', 'A * B' का अर्थ 'A, B का भाई है' तथा 'A % B' का अर्थ 'A, B की बहन है',

तो 'P + Q * R - S' में Q, S से किस प्रकार संबंधित है?

- A) पति/ Husband B) मामा/ Uncle
C) भाई/ Brother D) पिता/ Father



Q.7 Find the analogous figure from the given alternatives

दिए गए विकल्पों में से समान रूप से सम्बंधित आकृति ज्ञात करें।



Question Figure:

Answer Figures:

(A) (B) (C) (D)

Q.8 In a certain code language, "MATERIAL" is written as "RIALMATE". How is "REMEMBER" written in that code language?

एक निश्चित कूट भाषा में, "MATERIAL" को "RIALMATE" के रूप में लिखा जाता है. उसी कूट भाषा में "REMEMBER" किस प्रकार लिखा जाएगा?



- (a) REMEREBM (b) MBEREMER
(c) MBERREME (d) MBERREEM

Q.9 If 'P 3 Q' means 'P is daughter of Q', 'P 5 Q' means 'P is father of Q', 'P 7 Q' means 'P is mother of Q' and 'P 9 Q' means 'P is sister of Q', then how is J related to K in J 3 L 9 N 3 O 5 K?

यदि 'P 3 Q' का अर्थ 'P ,Q की बेटी है', 'P 5 Q' का अर्थ 'P ,Q का पिता है', 'P 7 Q' का अर्थ 'P, Q की माँ है' और 'P 9 Q' का अर्थ 'P, Q की बहन है', तो J, K से किस प्रकार सम्बन्धित है इसमें J 3 L 9 N 3 O 5 K?

- (a) Mother/ माता (b) Wife/ पत्नी
(c) Niece/ भतीजा / भतीजी (d) Daughter/ बेटी



Q.10 A man is facing towards the east. He turns towards north and walks for 5 km, and then turns 270 degrees anticlockwise and walks for 12 km more. What is the minimum distance between his initial and final position?

एक आदमी पूर्व की ओर मुख करके बैठा है। वह उत्तर की ओर मुड़ता है और 5 किमी तक चलता है, और फिर 270 डिग्री एंटीकलॉकवाइज मुड़ता है और 12 किमी चलता है। उसकी प्रारंभिक और अंतिम स्थिति के बीच न्यूनतम दूरी क्या है?

- (a) 17 km (b) 13 km
(c) 11 km (d) 9 km



Q.11 In the following question, select the odd letter pair from the given alternatives.

निम्नलिखित प्रश्न में, दिए गये विकल्पों में से विषम वर्ण का चयन करें.

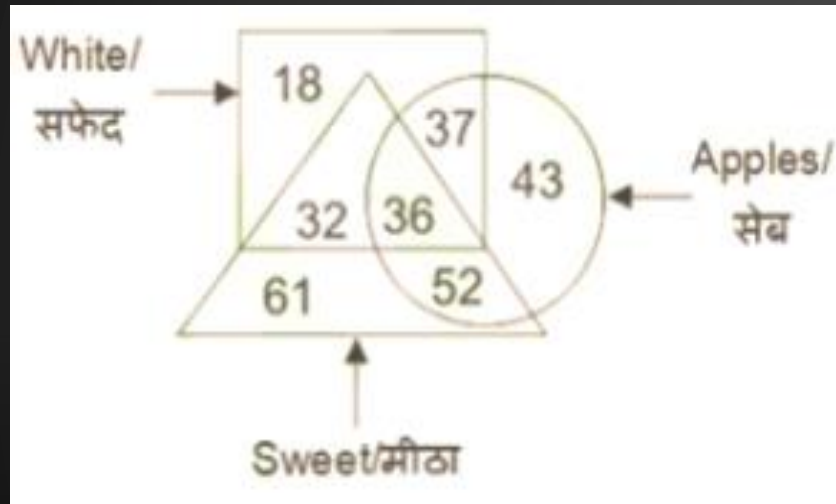


(a) BN – P (b) GI – R

(c) LM – Y (d) TA – U

Q.12 In the given figure, how many white apples are there?

दिए गए चित्र में कितने सफ़ेद सेब हैं ?



(a) 37

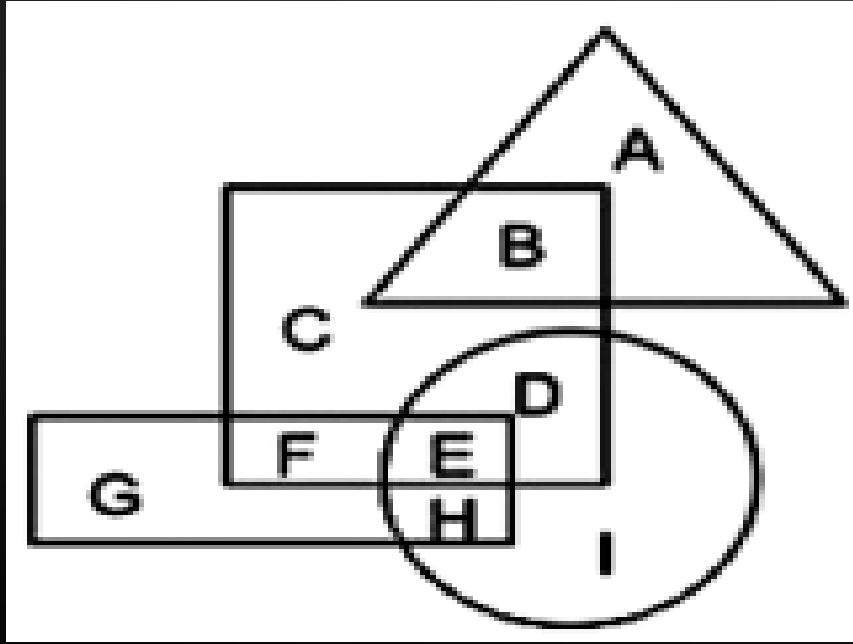
(b) 73

(c) 36

(d) 88

Q13 In the following figure, square represents athletes, triangle represents engineers, circle represents fathers and rectangle represents entrepreneurs. Which set of letters represent athletes who are either entrepreneurs or fathers?

निम्नलिखित आकृति में, वर्ग एथलीट का प्रतिनिधित्व करता है, त्रिभुज इंजीनियर का प्रतिनिधित्व करता है, सर्कल पिता और आयत उद्यमियों का प्रतिनिधित्व करता है. अक्षरों का कौन सा सेट एथलीट का प्रतिनिधित्व करता है जो या तो उद्यमी या पिता हैं?



- (a) F,E,D (b) D,E,F,G,H,I
(c) G,H,I (d) E,H

Q.14 Directions: Select the correct option for letters coming to the empty space in the given series-

निर्देश: नीचे दी गई अक्षर श्रृंखला में रिक्त स्थानों पर आने वाले अक्षरों के लिए सही विकल्प का चयन कीजिए

j b – s d b – s d j p – d j – s d
– b p



A) p p s b j

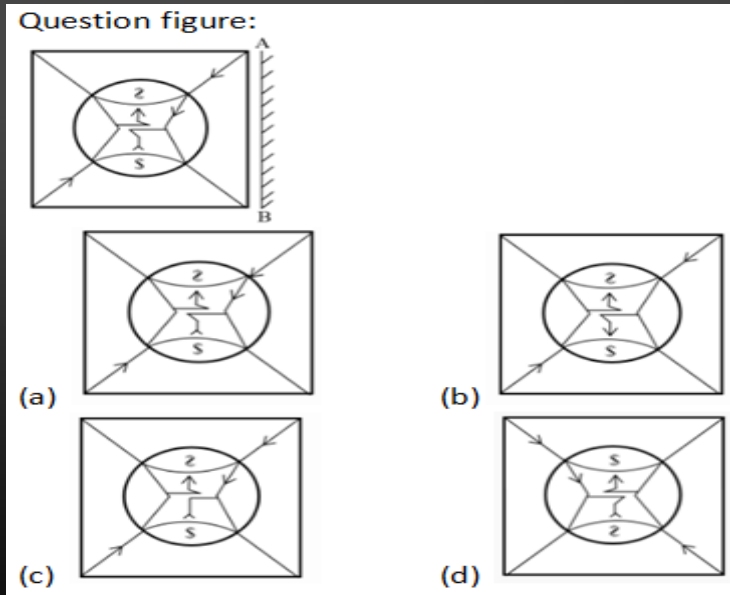
B) p s p b j

C) s d j p p

D) b p s b j

Q.15 Which of the answer figure is exactly the mirror image of the given question figure, when the mirror placed on the line AB ?

दी गई उत्तर उत्तर आकृतियों में से कौनसी प्रश्न आकृति का सटीक दर्पण प्रतिबिम्ब होगी ? जबकि दर्पण को AB पर रखा गया है।



Q.16 In a row of cars, red car is 14th from left and 23rd from right. How many cars are there in the row?

कारों की एक पंक्ति में, लाल कार बायें से 14 वें और दायें से 23 वें स्थान पर है। पंक्ति में कितनी कारें हैं?




(a) 36

(b) 37

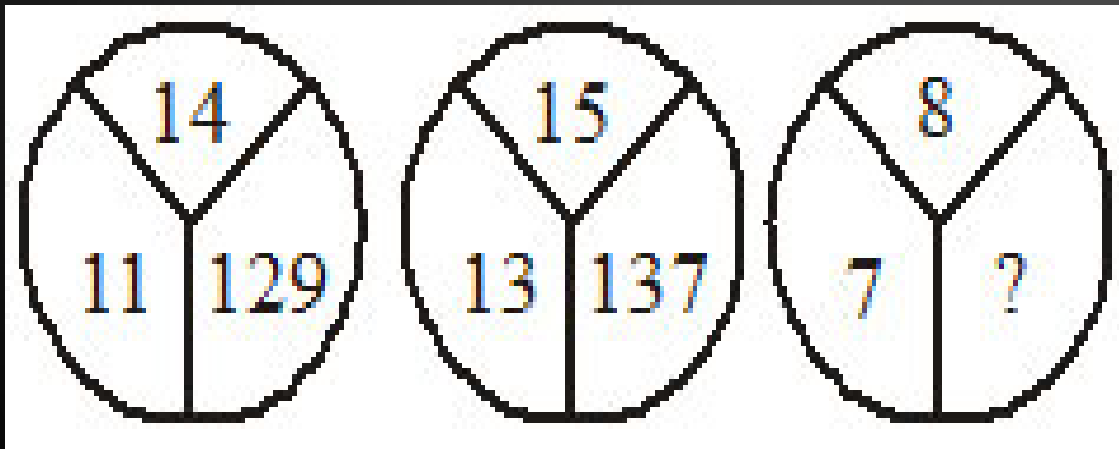
(c) 35

(d) 34

Q.17 What number will come in place of question mark?



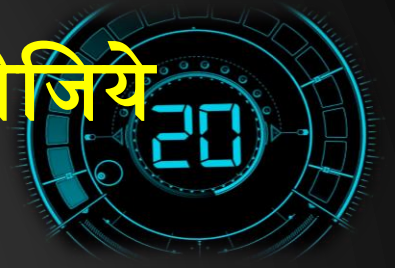
प्रश्नवाचक चिन्ह के स्थान पर कौन सी संख्या आयेगी?



- A) 56 B) 43
C) 73 D) 47

Q.18 Arrange the given words in the sequence in which they occur in the dictionary.

दिए गए शब्दों को शब्दावली के अनुसार व्यवस्थित कीजिये



1. Nature
2. National
3. Nurture
4. Nice
5. Niggle

(a) 21435

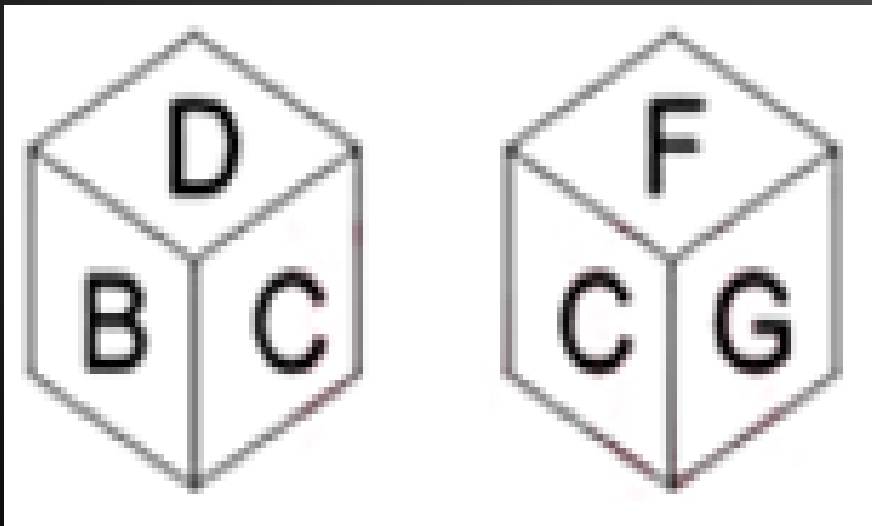
(b) 12435

(c) 12453

(d) 21453

Q.19 Two position of a cube are shown below.
What will come opposite to face containing 'B'?

नीचे एक घन की दो स्थितियां दिखाई गयी है. 'B' युक्त चेहरे के विपरीत क्या होगा?



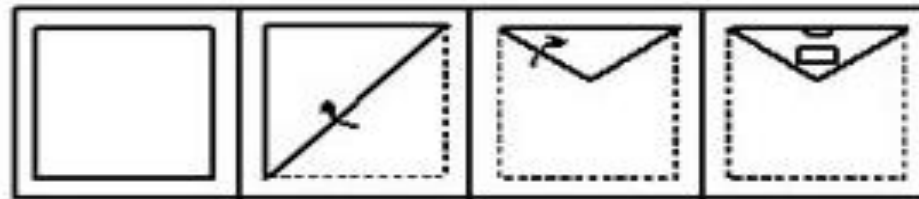
- (a) C (b) D
(c) F (d) G

Q.20 What shape will it look like when folding, punching and opening a paper?

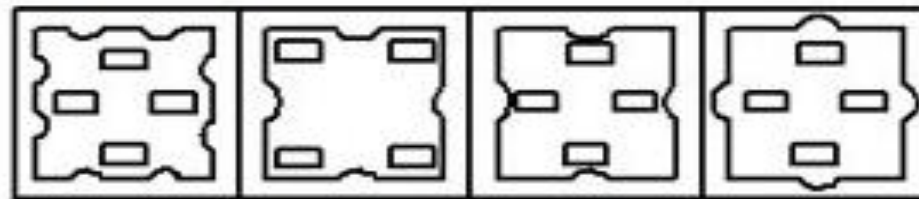
किसी कागज को मोड़ने, पंच करने तथा खोलने पर वह किस आकृति जैसा दिखाई देगा



Question Figure



Answer Figure



(A)


(B)

(C)

(D)

Q.21 How often will the clock needle parallel in one day?

एक दिन में घड़ी की सुई कितनी बार समान्तर होगी?



- A) 22 B) 25
C) 24 D) 30

Q.22 Find out from the given alternate answers that can not be created only by the use of the letters of the word- ORGANIZATION-

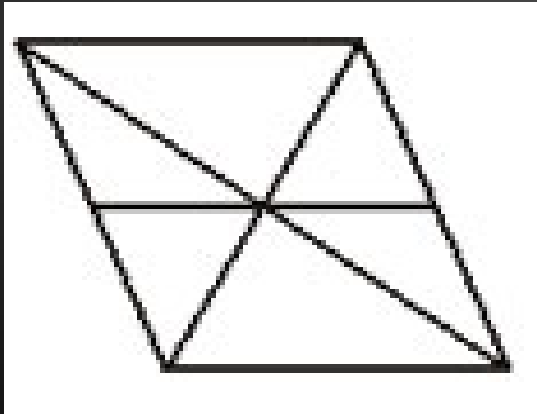
दिए गए वैकल्पिक उत्तरों में से उस शब्द को ज्ञात कीजिए जो केवल शब्द ORGANIZATION के अक्षरों के प्रयोग द्वारा नहीं बन सकता है



- A) GOAT B) NOT
C) RAT D) GUN

Q.23 What is the total number of triangles in the given figure?

दी गई आकृति में कुल त्रिभुजों की संख्या कितनी हैं?



- A) 10 B) 11
C) 12 D) 13

Q. 24 6 people are sitting in a row. A is sitting towards immediate left of B and immediate right of C. C is sitting to immediate right of F. D is immediate right of E who is to the left of F, then which two people are sitting in the center?

6 लोग एक पंक्ति में बैठे हैं। A, B के तत्काल बाएं ओर बैठा है और C के तत्काल दाएं ओर बैठा है। C, F के तुरंत दाईं ओर बैठा है। D, E के ठीक दायें बैठा है, जो F के बाईं ओर है, तो केंद्र में कौन से दो व्यक्ति बैठे हैं?



- (a) D and B/ D और B (b) A and B/ A और B
(c) F and C/ F और C (d) E and D/ E और D

THANK YOU

Join my

TELEGRAM GROUP



@reasoningbymohitsir



Daily PDF of all YT sessions



Discussion / Doubt Solving



Direct Interaction with me



Quiz



Polls

