



SSC CGL/CHSL TIER II 2023



REASONING

MOCK TEST

SET-2

पेपर बिलकुल ऐसा ही आयेगा






LIVE 03:00 PM



Join my

TELEGRAM GROUP

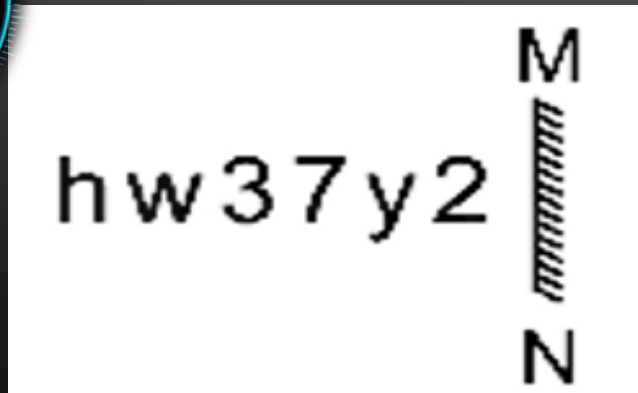
 @reasoningbymohitsir

-  Daily PDF of all YT sessions
-  Discussion / Doubt Solving
-  Direct Interaction with me
-  Quiz
-  Polls



1. Select the correct mirror image of the given combination when the mirror is placed at MN as shown.

दिए गए संयोजन के सही दर्पण प्रतिबिंब का चयन कीजिए जब दर्पण को MN पर रखा जाता है, जैसा कि दिखाया गया है।



- a) 2Y73w4
- b) hw37y2
- c) hw37y2
- d) 2Y73w4

2. The second number in the given number performing certain mathematical operation(s) on the first number. The same operation(s) are followed in all the number pairs except one. Find that odd number pair.

दी गई संख्या में दूसरी संख्या, पहली संख्या पर कुछ गणितीय संक्रिया/संक्रियाएं कर रही है। एक को छोड़कर सभी संख्या युग्मों में समान संक्रिया/संक्रियाओं का अनुसरण किया जाता है। विषम संख्या युग्म ज्ञात कीजिए।



- a) 47 : 2116 b) 53 : 2703
c) 24 : 528 d) 68 : 4488

3. In a certain code language, 'BASKET' is coded as '211911520' and 'BOX' is coded as '21524'. How will 'COVER' be coded in that language?

एक निश्चित कूट भाषा में, 'BASKET' को '211911520' और 'BOX' को '21524' के रूप में कूटबद्ध किया जाता है। उसी कूट भाषा में 'COVER' को कैसे कूटबद्ध किया जाएगा?



a) 31522519

b) 31522518

c) 21522519

d) 31822518

4. In certain code language, 'TRAIN' is written as 'WUDLQ' and 'ROAD' is written as "URDG'. How will 'TAXI' be written in that language?

एक निश्चित कूट भाषा में, 'TRAIN' को 'WUDLQ' और 'ROAD' को "URDG' के रूप में लिखा जाता है। उसी कूट भाषा में 'TAXI' को कैसे लिखा जाएगा?



a) WDAL

b) WEAL

c) WDBL

d) WFAL

5. The second number in the given number pairs is obtained by performing certain mathematical operation(s) on the first number. The same operation(s) are followed in all the number pairs EXCEPT one. Find that odd number pair.

दी गई संख्या युग्मों में दूसरी संख्या पहली संख्या पर कुछ गणितीय संक्रिया/संक्रियाएँ करके प्राप्त की जाती है। एक को छोड़कर सभी संख्या युग्मों में समान संक्रिया/संक्रियाओं का अनुसरण किया जाता है। विषम संख्या युग्म ज्ञात कीजिए।



a) 48 : 168

b) 52 : 182

c) 26 : 91

d) 34 : 118

6.If 01 March 2012 was Thursday, then was the day of the week on 01 February 2016?

यदि 01 मार्च 2012 को गुरुवार था, तब 01 फरवरी 2016 को सप्ताह का कौन-सा दिन था?



- a) रविवार / Sunday
- b) सोमवार / Monday
- c) शनिवार / Saturday
- d) शुक्रवार / Friday

7. Select the correct combination of mathematical signs to sequentially replace the * signs and to balance the given equation.

दिए गए समीकरण को संतुलित बनाने के लिए * चिह्नों को क्रमिक रूप से प्रतिस्थापित करने के लिए गणितीय चिह्नों के सही संयोजन का चयन कीजिए।

$$57 * 35 * 7 * 14 * 2 * 43$$

- a) $\times, +, \div, -, =$ b) $+, -, \times, \div, =$
c) $+, \div, -, \times, =$ d) $-, \div, +, \times, =$



8. Select the option that is related to the fifth term in the same way as the second term is related to the first term and fourth term related to third term.

उस विकल्प का चयन कीजिए जो पाँचवें पद से उसी प्रकार से संबंधित है जिस प्रकार से दूसरा पद, पहले पद से और चौथा पद, तीसरे पद से संबंधित है।

786 : 7 :: 645 : 5 :: 282 : ?



a) 6

b) 5

c) 8

d) 4

9. Select the option that is related to the fifth number in the same way as the second number is related to the first number and the fourth number is related to the third number.

उस विकल्प का चयन कीजिए जो पांचवीं संख्या से उसी प्रकार संबंधित है जिस प्रकार दूसरी संख्या पहली संख्या से और चौथी संख्या तीसरी संख्या से संबंधित है।

9 : 109 :: 7 : 71 :: 13 : ?



a) 238

b) 229

c) 218

d) 209

10. In a certain code language, 'MATHS' is written as '13320819' and 'HINDI' is written as '82714427'. How will 'PHYSICS' be written in that language"

एक निश्चित कूट भाषा में 'MATHS' को '13320819' और 'HINDI' को '82714427' के रूप में लिखा जाता है। उसी कूट भाषा में 'PHYSICS' को किस रूप में लिखा जाएगा"?

a) 168251928319

b) 168251923319

c) 168251937319

d) 168251927319



11. Which of the following numbers will replace the question mark(?) in the given series?

निम्नलिखित में से कौन सी संख्या दी गई श्रृंखला में प्रश्न चिह्न (?) को प्रतिस्थापित करेगी?

45, 55, 72, 97, 131, ?



a) 183

b) 189

c) 175

d) 179

12. Select the option that is related to the fourth term in the same way as the first term is related to the second term and the fifth term is related to the sixth term

उस विकल्प का चयन कीजिए जो चौथे पद से उसी प्रकार संबंधित है जिस प्रकार पहला पद दूसरे पद से और पांचवां पद छठे पद से संबंधित है।

$$8 : 512 :: ? : 1728 :: 18 : 5832$$

a) 8

b) 14

c) 12

d) 9

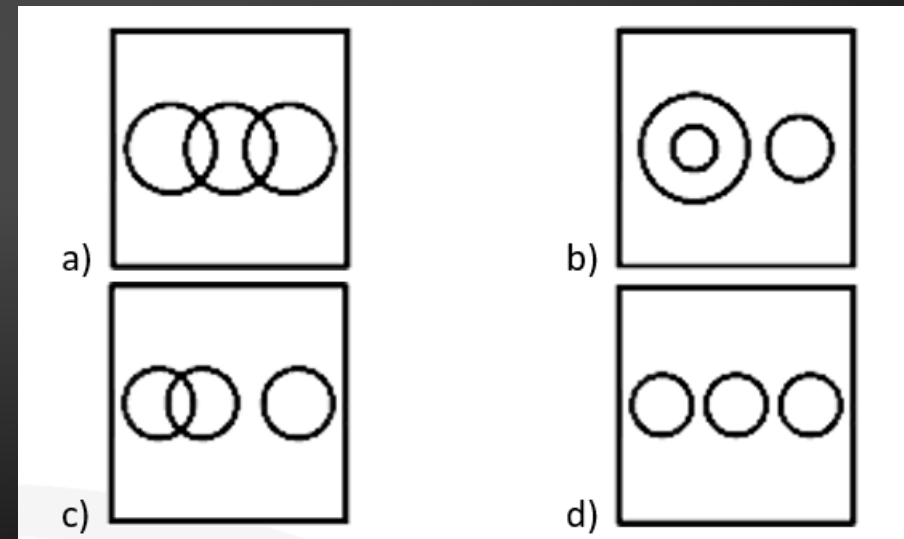


13. Select the Venn diagram that best illustrates the relationship between the following classes.

उस वेन आरेख का चयन कीजिए जो निम्नलिखित वर्गों के बीच के संबंध को सर्वोत्तम रूप से दर्शाता है।

Hand, Feet, Chin

हाथ, पैर, ठोड़ी



14. Select the option that represents the letters that when sequentially placed from left to right in the blanks below, will complete the letter series.

उस विकल्प का चयन कीजिए जो उन अक्षरों को दर्शाता है, जिसे नीचे दिए गए रिक्त स्थान में क्रमिक रूप से बाएं से दाएं रखने पर अक्षर-श्रृंखला पूर्ण हो जाएगी।


m n _ m n _ o m _ m _ n n o m _ m m _ n o



- a) m n n m n n b) o n n m n n
c) m n o m n n d) m n n m o o

15. Select the correct mirror image of the given combination when the mirror is placed at MN as shown.

दिए गए संयोजन के सही दर्पण प्रतिबिंब का चयन कीजिए जब दर्पण को दर्शाए अनुसार MN पर रखा गया है।



- a) UmberLLa
- b) UmbReLLa
- c) UmbReLL
- d) UmbReLLa



16. Which two numbers, from amongst the given options, should be interchanged to make the given equation correct?

दिए गए समीकरण को सही बनाने के लिए दिए गए विकल्पों में से किन दो संख्याओं को परस्पर बदला जाना चाहिए?

$$15 - 4 + (8 \times 6) \div 16 + 9 \times 3 - 7 = 31$$



- a) 6 and 16 b) 4 and 6
c) 8 and 16 d) 4 and 3

17.If 20 February 2013 was Wednesday, then what was the day of the week on 28 February 2016?

यदि 20 फरवरी 2013 को बुधवार था, तब 28 फरवरी 2016 को सप्ताह का कौन सा दिन था?



- a) बुधवार / Wednesday
- b) रविवार / Sunday
- c) सोमवार / Monday
- d) शुक्रवार / Friday

18 .Which of the following numbers will replace the question mark (?) in the given series?

निम्नलिखित में से कौन सी संख्या दी गई शृंखला में प्रश्न चिह्न (?) का स्थान लेगी

2, 22, 32, 42, 57, 87, 162, ?



a) 387


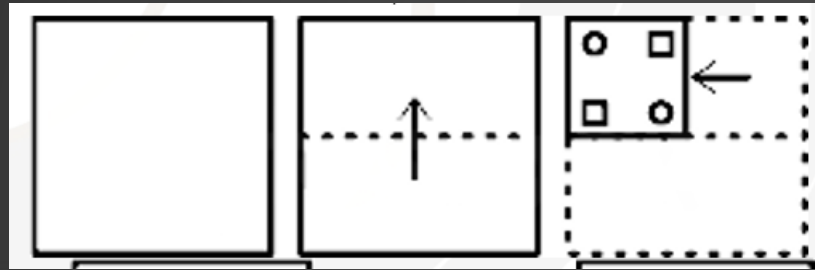
b) 356

c) 365

d) 378

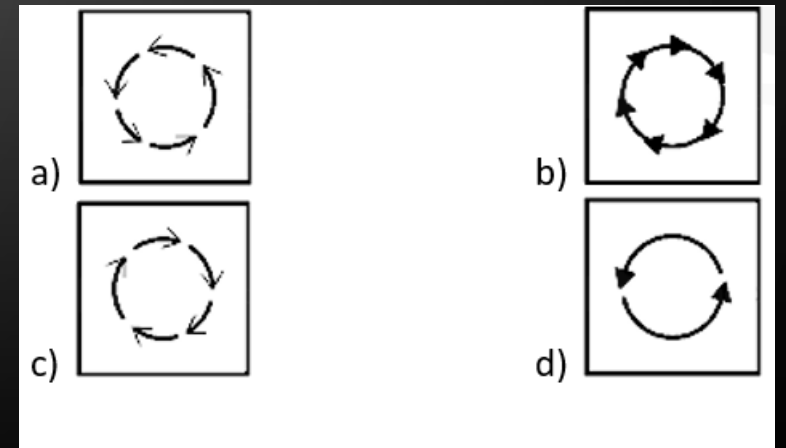
19. A paper is folded and cut as shown. How will it appear when unfolded?

एक कागज को मोड़ा जाता है और दिखाए गए अनुसार काटा जाता है। खोलने पर यह कैसा दिखाई देगा?



20. Select the figure that will replace the question mark (?) in the following figure series.

उस आकृति का चयन कीजिए जो निम्नलिखित आकृति श्रृंखला में प्रश्नवाचक चिह्न (?) को प्रतिस्थापित करेगी।



THANK YOU

Join my **TELEGRAM GROUP**



@reasoningbymohitsir



Daily PDF of all YT sessions



Discussion / Doubt Solving



Direct Interaction with me



Quiz



Polls

