



# SSC CGL/CHSL TIER II 2023



## REASONING

# MOCK TEST

## SET-4

पेपर बिलकुल ऐसा ही आयेगा

LIVE 03:00 PM 



Join my

# TELEGRAM GROUP

 @reasoningbymohitsir

 Daily PDF of all YT sessions

 Discussion / Doubt Solving

 Direct Interaction with me

 Quiz

 Polls



**Q.1 DIRECTIONS:** Choose the correct alternative from the given ones that will complete the series.

**निर्देश:** प्रश्न में से उसे चुनिए, जो अनुक्रम को पूरा करेगा।

6, 14, 36, 98, 276 ?



A] 546

B] 794

C] 693

D] 429

Q.2 Given that on 27th February 2003 is Thursday. What was the day on 27th February 1603?/

यदि 27 फरवरी 2003 को गुरुवार है, तो 27 फरवरी 1603 को क्या दिन था?



A] Monday

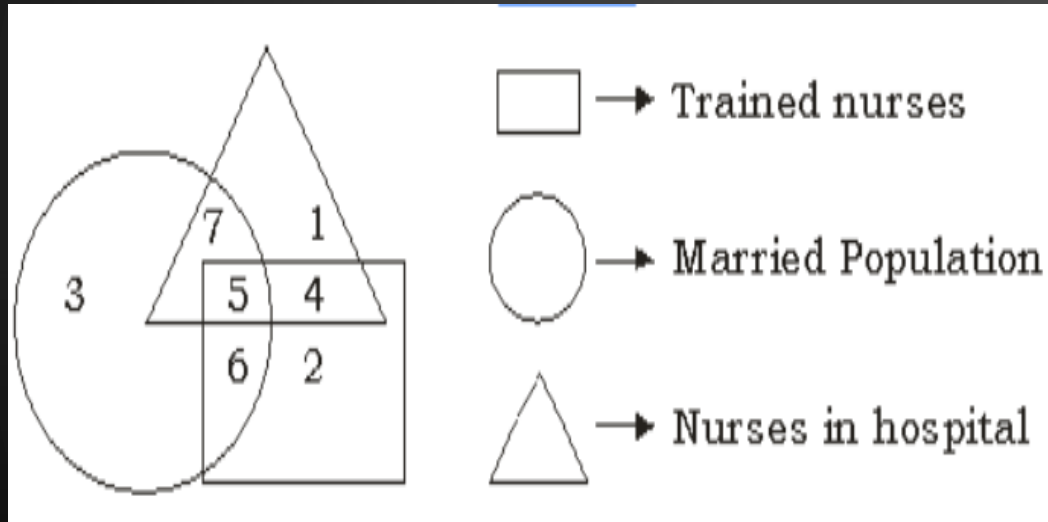
B] Thursday

C] Sunday

D] Tuesday

Q.3 Which of the following number represent unmarried nurses in hospital?

इनमें से कौन-सी संख्या अस्पताल की प्रशिक्षित अविवाहित नर्सों के प्रतिनिधित्व को दर्शाता है?



(a) 6

(b) 5

(c) 7 and 4 (d) 1 and 4

4. Complete the given series

दी गई श्रृंखला को पूरा करें?

jklklmnlmnopmnoqr \_ \_ \_

\_ \_ \_



A] opqnrst.

B] mnopqrs.

C] rstuvwxy.

D] nopqrst.

Q.5 Select the related word/letters/number from the given alternatives. दिए गए विकल्पों में से संबंधित शब्द/अक्षर/संख्या को चुनिए।

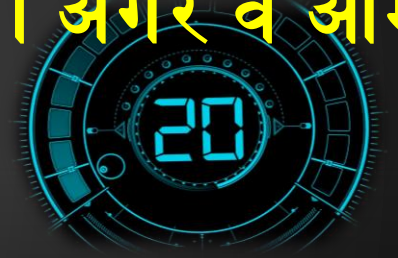
Convenient : Inconvenient :: Reveal : ? / उपयुक्त : अनउपयुक्त :: उजागर करना : ?



- A] Outspoken/ स्पष्टवादी
- B] Disclose / खुलासा करना
- C] Conceal / छिपाना
- D] Communicate/ संचारित करना

**Q.6 One morning after sunrise Prakash while going to school met Ravi at Boring road crossing. Ravi's shadow was exactly to the right of Prakash. If they were face to face, which direction was Prakash facing?**

सूर्योदय के बाद एक सुबह प्रकाश स्कूल जाने के दौरान सड़क पार करने पर रवि से मुलाकात की। रवि की छाया बिल्कुल प्रकाश के दायीं तरफ थी। अगर वे आमने-सामने थे, तो प्रकाश किस दिशा का सामना कर रहा था?



- A] East /पूर्व      B] South-West /दक्षिण-पश्चिम  
C] South-East /दक्षिण-पूर्व      D] South/दक्षिण



Q.7 If in a certain code language, 851 means 'good sweet fruit'; 783 means 'good red rose' and 341 means 'rose and fruit' which of the following digits stands for 'sweet' in that language?

यदि किसी कूट भाषा में 851 का मतलब 'good sweet fruit' है; 783 का मतलब 'good red rose' और 341 का मतलब 'rose and fruit' हैं, तो शब्द 'sweet' को कौन-सा अंक दर्शाता है।



(a) 8

(b) 5

(c) 1

(d) 3

**Q.8 DIRECTIONS:** Select the missing number from the given responses. निर्देश: : प्रश्न में, दिए गए विकल्पों में से लुप्त संख्या ज्ञात कीजिए।

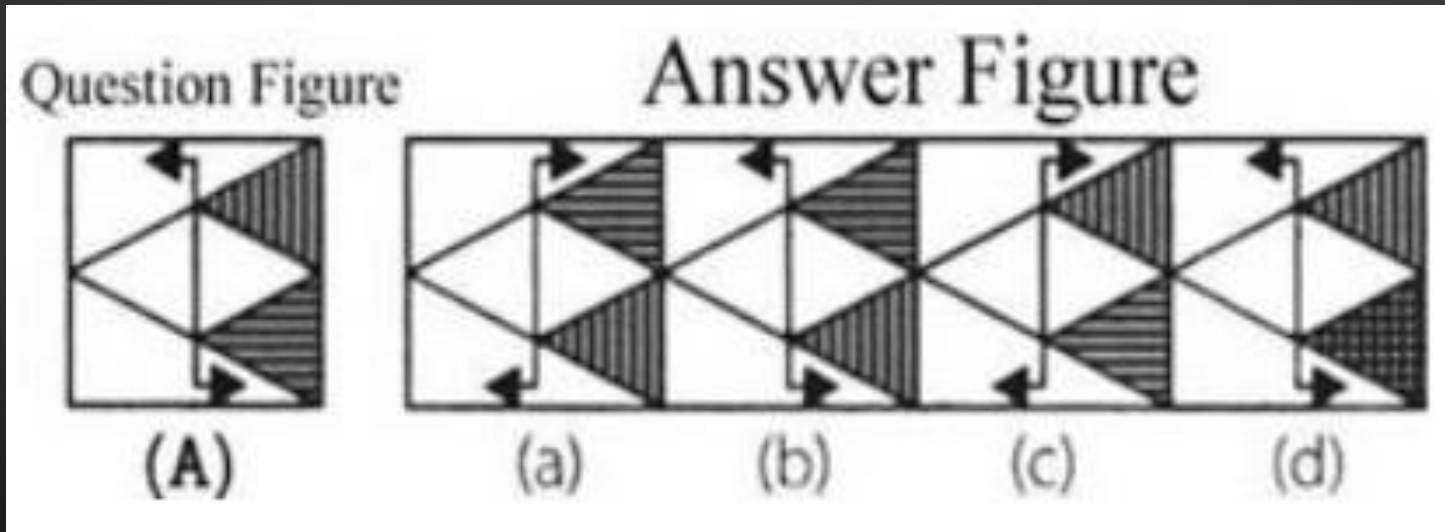
12	(47)	21
10	(52)	4
64	(?)	24



- (a) 40      (b) 64  
(c) 92      (d) 83

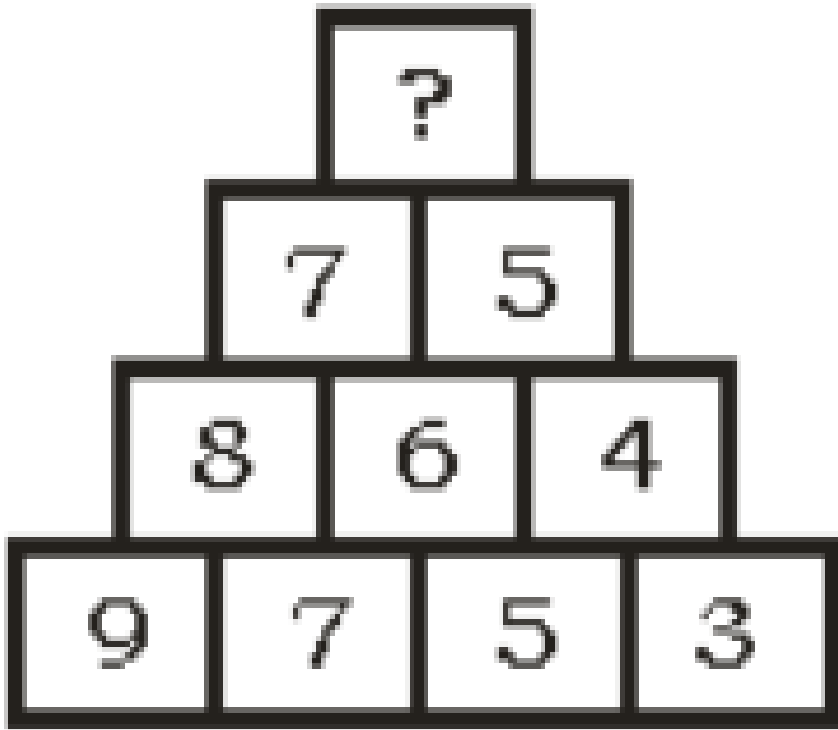
**Q.9 DIRECTIONS:** In the question below, choose the correct water image of the question figure from the answer figures.

निर्देश: नीचे दिए गए प्रश्न में, उत्तर आकृतियों में से प्रश्न आकृति का सही जल प्रतिबिंब का चयन करें।



**Q.10 DIRECTIONS:** Select the missing number from the given responses.

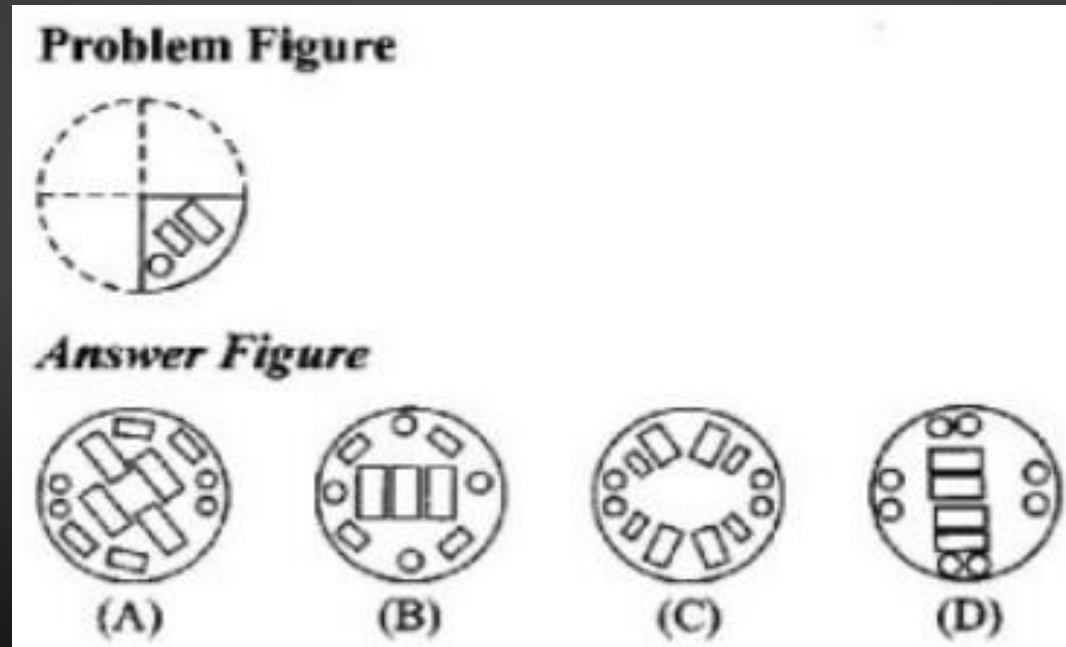
**निर्देश:** प्रश्न में, दिए गए विकल्पों में से लुप्त संख्या ज्ञात कीजिए।



- (a) 4      (b) 3  
(c) 5      (d) 6

**Q.11 DIRECTIONS:** In the following questions a piece of paper is folded in the manner shown in the question figure(s). Select the figure out of the answer choices showing the unfolded pattern after the punches (cut).

निर्देश: दिए गए प्रश्न में एक पेपर को कुछ निर्देशानुसार मोड़ा गया है और फिर उस पर कुछ कट लगाए गए हैं। आपको यह ज्ञात करना है कि इस पेपर को खोलने पर यह कैसा दिखेगा?



Q.12 The Monk told the Adom 'The bell is rung at regular intervals of 45 min. The last bell was rung 5 min. ago. The next bell is to be rung at 5: 45 am. At what time did the Monk give the information to the Adom?

भिक्षु ने ऐडम को बताया 'घंटी 45 मिनट के नियमित अंतराल पर बज रही है। आखिरी घंटी 5 मिनट पहले बजी थी। अगली घंटी 5: 45 बजे बजती है। भिक्षु ने किस समय ऐडम को जानकारी दी थी?

- A] सुबह 6:55 बजे।      B] सुबह 7:00 बजे।  
C] सुबह 5:05 बजे।      D] सुबह 7:40 बजे।

Q.13 A man pointing to a photograph says, " The lady in the photograph is my nephew's maternal grand mother." How is the lady in the photograph related to the man's sister who has no other sister?

एक आदमी एक तस्वीर की ओर इशारा करते हुए कहता है, "तस्वीर में जो महिला है वो मेरे भांजे की नानी है।" तस्वीर में जो लड़की है वह उस आदमी की बहन से किस प्रकार सम्बंधित है जिसकी कोई ओर बहन नहीं है?

A] कजिन/ Cousin. B] ननद/ भाभी / Sister-in-law.

C] माँ/ Mother. D] सास/ Mother-in-law.

Q.14. In the following question, select the related number from the given alternatives.

निम्नलिखित प्रश्न में दिए गए विकल्पों में से सम्बन्धित संख्या को चुनिए।

3222 : 7222 : 3327 : ?



A] 9949

B] 8838

C] 7327

D] 2212



Q.15 If  $264 * 2 = 6$ ,  $870 * 3 = 11$ , then  
 $735 * 5 = ?$

यदि  $264 * 2 = 6$ ,  $870 * 3 = 11$ , तो  $735$   
 $* 5 = ?$



- (a) 05      (b) 12  
(c) 16      (d) 03

Q.16 Each odd digit in the number 5263187 is substituted by the next higher digit and each even digit is substituted by the previous lower digit and the digits, so obtained are rearranged in ascending order, which of the following will be the third digit from the left end after the rearrangement?

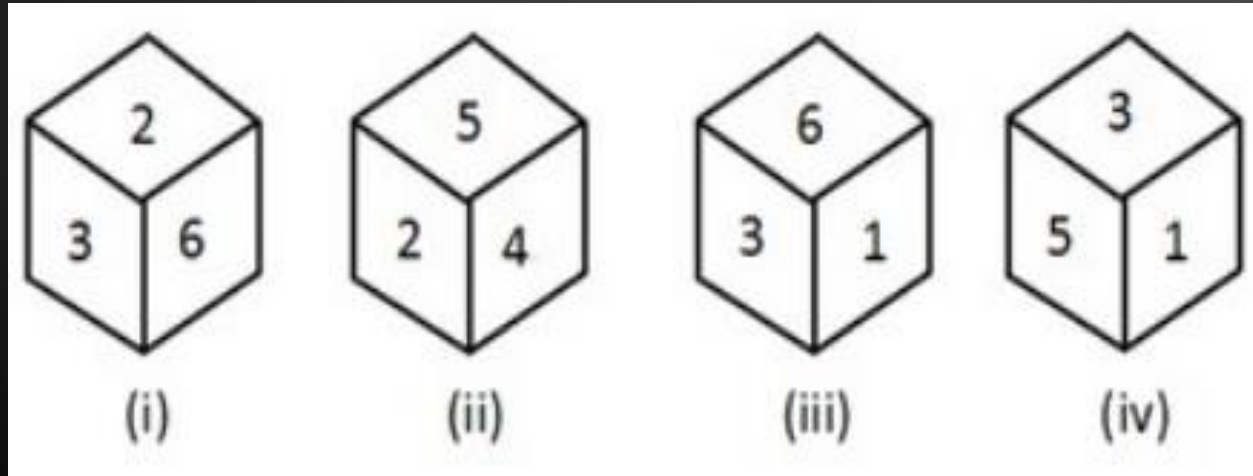
संख्या 5263187 में प्रत्येक विषय अंकों को अगले उच्च अंकों से प्रतिस्थापित किया गया है और प्रत्येक सम अंकों को पिछले कम अंको द्वारा प्रतिस्थापित किया गया है प्राप्त संख्या को पुनः बढ़ते क्रम में व्यवस्थित किया गया है, पुनर्व्यवस्था के बाद, बाएँ छोर से, तीसरा अंक निम्न में से कौन-सा होगा?



- (a) 2                      (b) 4  
(c) 5                      (d) 6

Q.17 Which number will be in opposite of 3, if four different positions of a dice are as shown below ?

यदि एक पासे को विभिन्न स्थितियों के अनुसार दर्शाया गया है तो 3 के विपरीत कौन सी संख्या होगी ?



(a) 6

(b) 4

(c) 3

(d) 2

**Q.18** Fernandel and Arletty starts from their office and walk in opposite direction each travelling 10 km. Fernandel then turns left and walks 10 km. Arletty turns right and walks 10 km. How far are they now from each other?

फेरनेन्डल और एरलेटी अपने दफतर से चलना शुरू करती है और विपरीत दिशा में प्रत्येक 10 किमी चलती है। फेरनेन्डल फिर बाँये मुड़ती है और 10 किमी चलती है। एरलेटी दाँये मुड़ती है और 10 किमी चलती है। वे दोनों एक दूसरे से कितनी दूरी पर है ?

- A] 10 किमी B] 5 किमी  
C] 8 किमी D] 20 किमी



Q.19 Find the 3rd word after arranging the following words in the order in which they appear in the English Dictionary

निम्नलिखित शब्दों को अंग्रेजी कोश के क्रमानुसार व्यवस्थित करके, उनमें से तीसरा शब्द ज्ञात कीजिए।



- A] Perceive      B] Percaline  
C] Percentiles    D] Perceptibility

Q.20 Select the related word/number from the given alternatives. प्रश्न में दिए गए विकल्पों में से सम्बन्धित शब्द/संख्या को चुनिए।



- A] Jeevan Raksha Padak /जीवन रक्षा पदक
- B] Param Vir Chakra /परम वीर चक्र
- C] Padma Bhushan /पद्म भूषण
- D] Bharat Ratna/भारत रत्न

# THANK YOU

Join my

## TELEGRAM GROUP



@reasoningbymohitsir



Daily PDF of all YT sessions



Discussion / Doubt Solving



Direct Interaction with me



Quiz



Polls

