



# MISSION SSC CGL & CHSL



## REASONING

25

DAYS

HARD CHALLENGE

PRACTICE SET-3

हमसे पहले हल करके दिखाओ

LIVE 03:00 PM





Join my

# TELEGRAM GROUP

 @reasoningbymohitsir

 Daily PDF of all YT sessions

 Discussion / Doubt Solving

 Direct Interaction with me

 Quiz

 Polls



Q.1 In the following question, select the missing number from the given series.

निम्नलिखित प्रश्न में दिए गए विकल्पों में से लुप्त अंक ज्ञात कीजिए।

?, 5, 15, 45, 113



- A) 1      B) 2  
C) 3      D) 4

Q.2 In a certain code language, "CAGES" is written as "NADYB" and "SILVER" is written as "LZRIGR". How is "WATER" written in that code language?

एक विशिष्ट कोड भाषा में, "CAGES" को "NADYB" लिखा जाता है तथा "SILVER" को "LZRIGR" लिखा जाता है। इस कोड भाषा में "WATER" को किस प्रकार लिखा जाएगा?



A) MAQYV

B) SGWEB

C) QCPVR

D) VYQAM



Q.3 A series is given with one term missing. Select the correct alternative from the given ones that will complete the series.

एक अनुक्रम दिया गया है, जिसमें से एक पद लुप्त है। दिए गए विकल्पों में से वह सही विकल्प चुनिए, जो अनुक्रम को पूरा करे।

AA, DB, IC, PD, ?



- A) WF      B) XE  
C) YE      D) WE

**Q.4 Select the odd word/letters/number/number pair from the given alternatives**

**दिए गए विकल्पों में से विषम शब्द/अक्षर/संख्या/संख्या युग्म को चुनिए।**



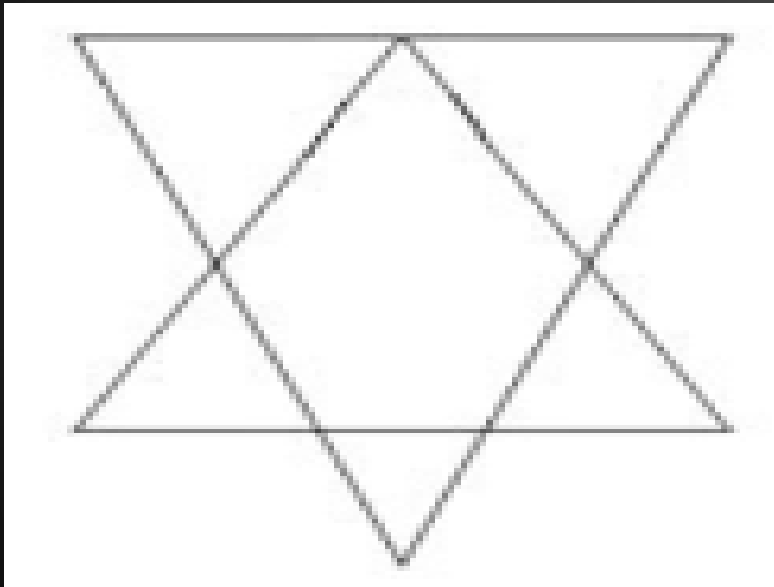
**A) 156**

**B) 200**

**C) 182**

**D) 240**

Q.5 How many triangles are there in the given figure? दी गई आकृति में कितने त्रिभुज हैं?



- A) 6      B) 7  
C) 8      D) 10

Q.6 In the following question, select the related letters from the given alternatives.

निम्नलिखित प्रश्न में दिए गए विकल्पों में से संबंधित अक्षरों को चुनिए।

GHI : DFH :: LMN : ?



A) IMK

B) JLM

C) ILM

D) IKM



Q.7 Find out the odd word/letters/number/number pair from the given alternatives.

दिए गए विकल्पों में से विषम शब्द/अक्षर/संख्या/संख्या युग्म को चुनिए।



A) 78, 26

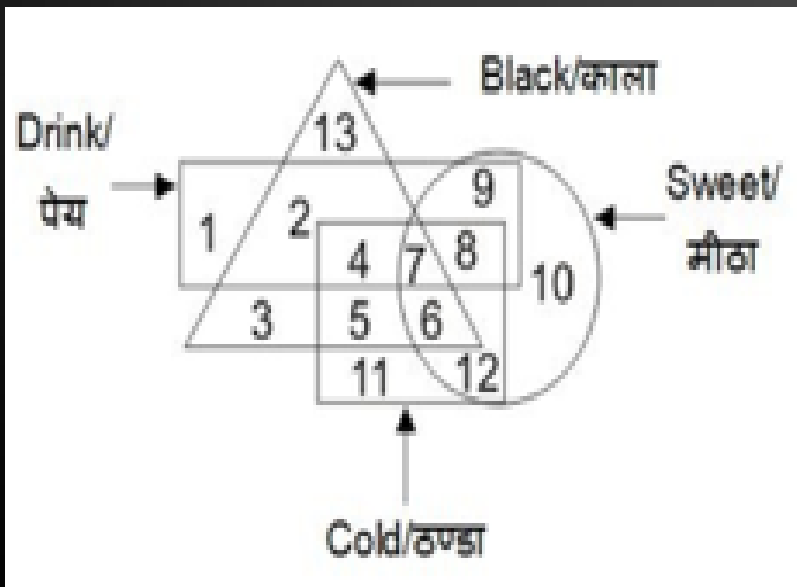
B) 19, 20

C) 20, 40

D) 36, 12

Q.8 Find out the odd word/letters/number/number pair from the given alternatives.

दिए गए विकल्पों में से विषम शब्द/अक्षर/संख्या/संख्या युग्म को चुनिए।



- A) 4      B) 8  
C) 7      D) 6

Q.9 In the following question, select the missing number from the given series.

निम्नलिखित प्रश्न में दिए गए विकल्पों में से लुप्त अंक ज्ञात कीजिए।

5	6	7
4	5	6
9	11	?



- A) 19      B) 1  
C) 21      D) 13





Q.10 X and Y both start from a same point. X walks 17 m West, then turns to his right and walks 13 m. At the same time, Y walks 9 m North, then turns East and walks 7 m, then turns to his left and walks 4 m. Where is Y now with respect to the position of X?

X और Y एक ही बिन्दु से शुरूआत करते हैं। X पश्चिम की ओर 17 मीटर तक चलता है, फिर अपने दाहिने ओर मुड़ जाता है और 13 मीटर तक चलता है। उसी समय, Y उत्तर की ओर 9 मीटर तक चलता है, फिर पूर्व की ओर मुड़ जाता है और 7 मीटर तक चलता है, फिर अपनी बाईं ओर मुड़ जाता है और 4 मीटर तक चलता है। X की स्थिति से अब Y कहाँ पर है?

- A) 24 मीटर पश्चिम / 24 m West
- B) 10 मीटर पूर्व / 10 m East
- C) 10 मीटर पश्चिम / 10 m West
- D) 24 मीटर पूर्व/ 24 m East

Q.11 In a certain code language “READAR” is written”123421” and “DIRTY” is written”49178”. How will “DEARER” be written in that code language?

किसी विशिष्ट कोड भाषा में “READER” को “123421” लिखा जाता है और “DIRTY” को “49178” लिखा जाता है। इस कोड भाषा में “DEARER” को किसी प्रकार लिखा जाएगा?



- A) 432121      B) 423212  
C) 423121      D) 412312

Q.12 If "S" denotes "multiplied by", "V" denotes "subtracted from", "M" denotes "added to" and "L" denotes "divided by", then

यदि "S" का अर्थ "गुणा" है, "V" का अर्थ "घटाना" है, "M" का अर्थ "जोड़" है और "L" का अर्थ "भाग" है,

$$12 \text{ V } 3 \text{ M } 441 \text{ L } 21 \text{ S } 8 = ?$$



- A) 661      B) 170  
C) 174      D) 177



Q.13 In the following question, select the odd word pair from the given alternatives.

निम्नलिखित प्रश्न में दिए गए विकल्पों में से विषम शब्द युग्म को चुनिए।



- A) साँप : सरीसृप/ Snakes : Reptiles
- B) भैंस : स्तनपायी/ Buffalo : Mammal
- C) कीवी : चिड़िया/ Kiwi : Bird
- D) तोता : स्तनपायी/ Parrot : Mammal

Q.14 Pointing towards a boy, Meena said, "He is the only son of the only child of my paternal grandfather."  
"How is that boy related to Meena ?

एक लड़के की ओर इशारा करते हुए मीना कहती है, "यह मेरे दादाजी की इकलौती संतान का इकलौता पुत्र है। वह लड़का मीना से किस प्रकार संबंधित है?"



- A) चचेरा भाई/ Cousin    B) चाचा/ Uncle  
C) बहन/ Sister            D) भाई/ Brother

Q.15 In a class of 45 students, a boy is ranked 20th. When two boys joined, his rank was dropped by one. What is his new rank from the end?

45 विद्यार्थियों की एक कक्षा में एक लड़के का स्थान 20वाँ है। जब दो और लड़के जुड़ जाते हैं तो उसका स्थान एक से कम हो जाता है। तो अंतिम से उसका नया स्थान क्या है?



- A) 25 वाँ      B) 26 वाँ  
C) 27 वाँ      D) 28 वाँ



Q.16 423 : 657 :: 534 : ?



A) 678      B)

867

C) 768      D)

876

Q.17 Find the odd word/ letters/ numbers/ figure from the given responses

दिए गए विकल्पों में से विषम शब्द/अक्षर/ संख्या चुनिए।



A) 626

B) 841

C) 962

D) 1090

**Q.18 DIRECTIONS:** In question choose the correct alternative from the given ones that will complete the series

**निर्देश:** प्रश्न संख्या में से उसे चुनिए जो अनुक्रम को पूरा करेगा।

**DCXW, FEVU, HGTS, ?**

**A) LKPO**

**B) JIRQ**

**C) ABYZ**

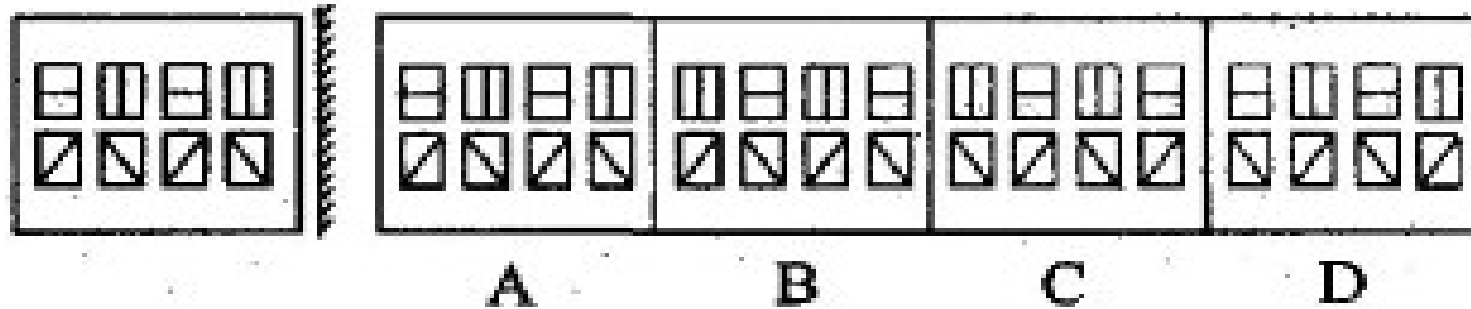
**D) LMRS**



Q.19 DIRECTIONS: Find the Mirror image of the figure  
निर्देश: आकृति का दर्पण प्रतिबिंब ज्ञात करें



**Main Figure**





**Q.20 DIRECTIONS:** Arrange the following words according to the English dictionary.

**निर्देश:** अंग्रेजी शब्दकोश के अनुसार, निम्न शब्दों को व्यवस्थित करें



(1) Protein

(2) Problem

(3) Proverb

(4) Property

(5) Project

A) 1, 2, 3, 4, 5    B) 2, 1, 4, 3, 5

C) 2, 5, 4, 1, 3    D) 3, 4, 5, 2, 1

# THANK YOU

Join my

## TELEGRAM GROUP



@reasoningbymohitsir



Daily PDF of all YT sessions



Discussion / Doubt Solving



Direct Interaction with me



Quiz



Polls

