



MISSION SSC CGL & CHSL



REASONING

25

DAYS

HARD CHALLENGE

PRACTICE SET-1

हमसे पहले हल करके दिखाओ

LIVE

03:00 PM



Join my

TELEGRAM GROUP

 @reasoningbymohitsir

 Daily PDF of all YT sessions

 Discussion / Doubt Solving

 Direct Interaction with me

 Quiz

 Polls



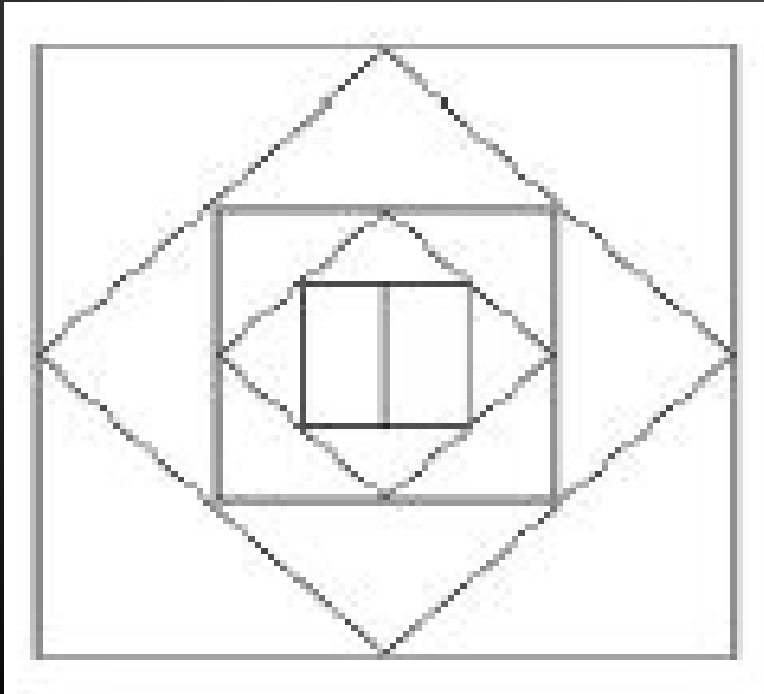
Q.1 MODERATE : INTENSIFY : : NOMINAL : ? मध्यम : तीव्र
करना :: नाम-मात्र : ?



- A) Memorial/ यादगार B) Expensive/ बहुमूल्य
C) Distance/ दूरी D) Chaos/ अव्यवस्था

Q.2 How many quadrilaterals are there in the given figure?

दी गई आकृति में कितने चतुर्भुज है?



A) 6

B) 7

C) 8

D) 9

Q.3 What is the letter group that will fill the letter series by filling the blank spaces?

कौन-सा अक्षर समूह ऐसा है जो क्रमिक रूप से रिक्त स्थानों को भरकर अक्षर सीरिज को पूरा करेगा?

r _ m m a r _ a m _ a r r _ _ m a r



A) r a m m a B) m r

a m r

C) a r m a m D) a r a

m r

Q.4 If GUJRATHA is written as 53814274, then in same language what is the code for AHTARJUG?

यदि GUJRATHA को 53814274 लिखा जाता है, तो उसी कूट-लिपि में AHTARJUG को कैसे लिखेंगे?



- A) 47243518 B) 47421853
C) 47214835 D) 47241835**

Q.5 DIRECTIONS: Choose the missing term out of the given alternatives.

निर्देश :दिए गए विकल्पों में से लुप्त पदों का चयन करें।

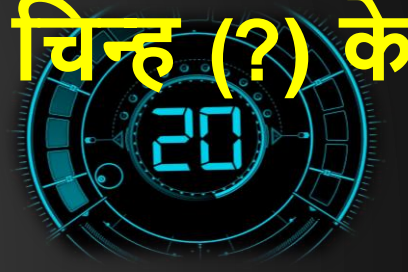
W-144, ?, S-100, Q-81, O-64



- A) U-121
- B) U-122
- C) V-121
- D) V-128

Q.6 In the following question, select the number which can be placed at the sign of question mark (?) from the given alternatives.

निम्नलिखित प्रश्न में दिए गए विकल्पों में से प्रश्न चिह्न (?) के स्थान पर आने वाली संख्या को चुनिए।



3	10	6	186
9	5	3	138
5	7	1	36
3	2	5	?

- A) 35 B) 42**
C) 45 D) 95

Q.7 Prakash walked 30 meters towards West, took a left turn and walked 20 meters. He again took a left turn and walked 30 meters. He then took a right turn and stopped. Towards which direction was he facing when he stopped? प्रकाश पश्चिम की ओर 30 मीटर चला, फिर बाएं मुड़ा और 20 मीटर चला। वह फिर से बाएं मुड़ा और 30 मीटर चला वह फिर दाएं मुड़ा और रूक गया। जब वह रूका तो उसका मुख किस दिशा की ओर था?



- A) दक्षिण/South B) उत्तर/North
C) पूर्व/East D) डाटा उपर्याप्त/Data inadequate

Q.8 In the following question, select the word which cannot be formed using the letters of the given word.

निम्नलिखित विकल्पों में से वह शब्द चुनिए जो दिए गए शब्द के अक्षरों का प्रयोग करके नहीं बनाया जा सकता।



BROADCASTING

- A) STAR B) CAPS**
C) GRAND D) BROAD

Q.9 Raghunath reached a place on Saturday. He came to know that he has arrived three days before the due date. If he reaches there on Monday, how many days later he or she will reach?

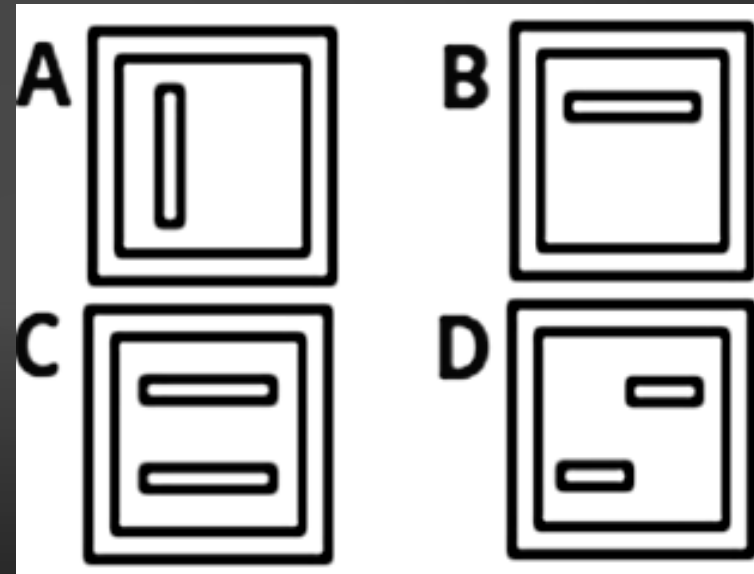
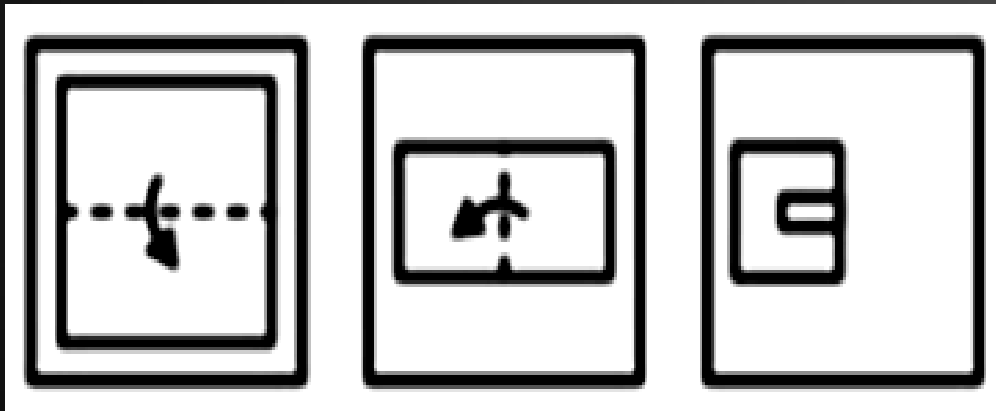
रघुनाथ किसी स्थान पर शनिवार को पहुँचा। उसे पता चला कि वह नियत दिन से तीन दिन पहले आ गया है। यदि वह वहाँ सोमवार को पहुँचता तो वह कितने दिन बाद या पहले पहुँचता?



- A) एक दिन पहले / One day before**
- B) दो दिन पहले / Two days ago**
- C) दो दिन बाद / Two days later**
- D) एक दिन बाद / One day later**

Q.10 A piece of paper is folded and punched as shown below in the question figure. From the given answer figures. Indicate how it will appear when opened?

नीचे के प्रश्न आकृतियों में दिखाए अनुसार कागज को मोड़कर छेदने तथा खोलने के बाद वह किस उत्तर आकृति जैसा दिखाई देगा?



Q.11 Find out the letters / words / numbers related to the given options.

दिए गए विकल्पों में से संबंधित अक्षर/शब्द/ संख्या ज्ञात कीजिए।

HILD : SROW :: MIXED : ?

A) MRCVW

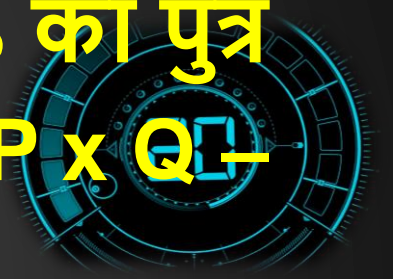
B) MRCUW

C) NVRCID

D) NRCVW



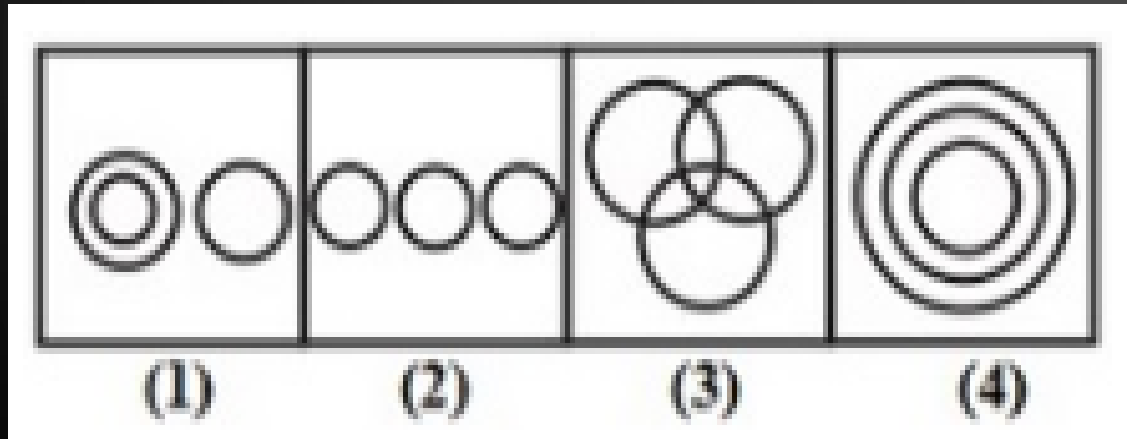
Q.12 If $A + B$ means A is the daughter of B, $A \times B$ means A is the son of B and $A - B$ means A is the wife of B then $P \times Q - S$ means **यदि $A + B$ का अर्थ है 'A, B की पुत्री है', $A \times B$ का अर्थ है 'A, B का पुत्र है' और $A - B$ का अर्थ है 'A, B की पत्नी है', तो $P \times Q - S$ का अर्थ है?**



- A) S, P का पिता है | S is the father of P.
- B) Q, P के पिता है | Q is the father of P.
- C) A, Q का पुत्र है | A is the son of Q.
- D) इनमें से कोई नहीं | None of these

Q.13 Which of the following Venn Diagram gives the relationship between Friend, Guide and Philosopher?

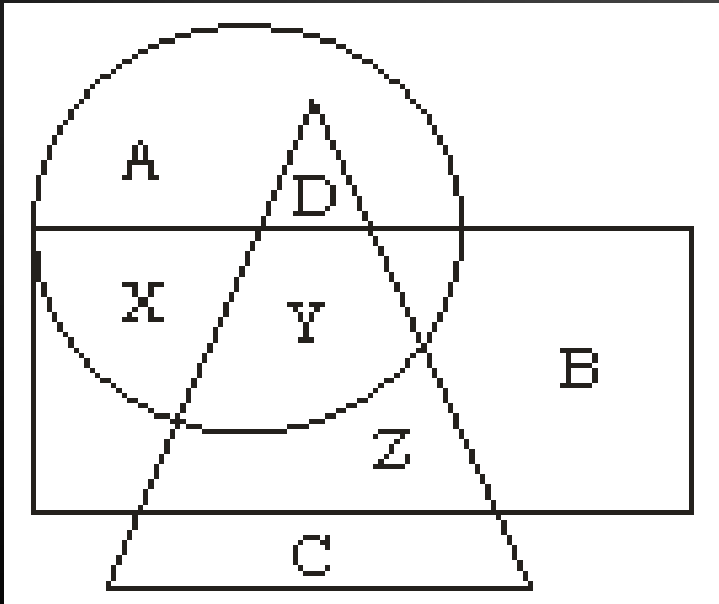
निम्न में से कौन सा वेन आरेख मित्र, मार्गदर्शक और दार्शनिक को दर्शाता है?



- A) 1 B) 2
C) 3 D) 4

Q.14 In the diagram given below, the circle represents professors in a Medical college; the triangle stands for Surgical Specialists while the rectangle represents the Medical Specialists.

नीचे दिए गए आरेख में, वृत्त एक मेडिकल कॉलेज के प्रोफेसर को दर्शाता है, त्रिभुज शल्य चिकित्सा विशेषज्ञ को दर्शाता है, जबकि आयत चिकित्सा विशेषज्ञ को दर्शाता है।



A) X

B) Y

C) Z

D) B



Q.15 If $9 \# 4 \# 1 = 419$ and $9 \# 1 \# 6 = 169$,
then $5 \# 3 \# 1 = ?$

यदि $9 \# 4 \# 1 = 419$ तथा $9 \# 1 \# 6 = 169$ हो,
तो $5 \# 3 \# 1 = ?$



A) 315

B) 153

C) 351

D) 135

Q.16 Archana is older than Suman, Aarti is older than Archana but younger than Kusum. Kusum is older than Suman. Suman is younger than Aarti and Geeta is the oldest. Then, who is the youngest?

अर्चना सुमन से बड़ी है, आरती अर्चना से बड़ी है, परन्तु कुसुम से छोटी है। कुसुम सुमन से बड़ी है। सुमन आरती से छोटी है और गीता सबसे बड़ी है। तो, सबसे छोटी कौन है?



- A) अर्चना/ Archana B) सुमन/ Suman
C) आरती/ Aarti D) कुसुम/ Kusum

Q.17 Select the odd letters from the given alternatives.

दिए गए विकल्पों में से विषम अक्षरों को चुनिए।



A) DFH

B) KMO

C) QTW

D) SUW

Q.18 In a class of 45 students, a boy is ranked 20th. When two boys joined, his rank was dropped by one. What is his new rank from the end?

45 विद्यार्थियों की एक कक्षा में एक लड़के का स्थान 20वाँ है। जब दो और लड़के जुड़ जाते हैं तो उसका स्थान एक से कम हो जाता है। तो अंतिम से उसका नया स्थान क्या है?



- A) 25 वाँ B) 26 वाँ**
C) 27 वाँ D) 28 वाँ

Q.19 Pointing towards a boy, Meena said, "He is the only son of the only child of my paternal grandfather. "How is that boy related to Meena

एक लड़के की ओर इशारा करते हुए मीना कहती है, "यह मेरे दादाजी की इकलौती संतान का इकलौता पुत्र है। वह लड़का मीना से किस प्रकार संबंधित है?



- A) चचेरा भाई/ Cousin B) चाचा/ Uncle**
C) बहन/ Sister D) भाई/ Brother

Q.20 In a queue of boys, Sohan is 9th from the back Ramesh's place is 8th from the front. Rohit is standing in between the two. What could be the minimum number of boys standing in the queue?

लड़कों की एक पंक्ति में, सोहन पीछे से 9वें स्थान पर हैं, रमेश आगे से 8वें स्थान पर है। रोहित उन दोनों के बीच में है। पंक्ति में खड़े लड़कों की न्यूनतम संख्या क्या हो सकती है?



[a] 10

[b] 12

[c] 14

[d] 15

THAN
K
YOU

Join my
TELEGRAM GROUP



@reasoningbymohitsir



Daily PDF of all YT sessions



Discussion / Doubt Solving



Direct Interaction with me



Quiz



Polls

