



MISSION SSC GD CONSTABLE 2023



Reasoning

Day-10

FOUNDATION BATCH

TOP
25
QUESTIONS

NON VERBAL REASONING



LIVE 03:00 PM  



Q.1 Select a suitable figure from the Answer Figures that would replace the question mark (?).

उत्तर आकृतियों में से एक उपयुक्त आकृति का चयन करें जो प्रश्न चिह्न (?) का स्थान ले ले।

PROBLEM FIGURES

(1)	(2)	(3)	(4)

ANSWER FIGURES

(A)	(B)	(C)	(D)

- a)A
- b)B
- c)C
- d)D

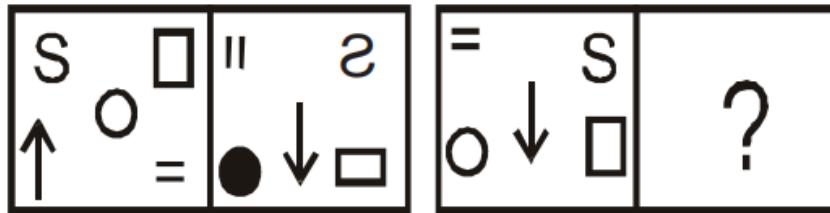




Q.2 Select a suitable figure from the Answer Figures that would replace the question mark (?).

उत्तर आकृतियों में से एक उपयुक्त आकृति का चयन करें जो प्रश्न चिह्न (?) का स्थान ले ले।

PROBLEM FIGURES



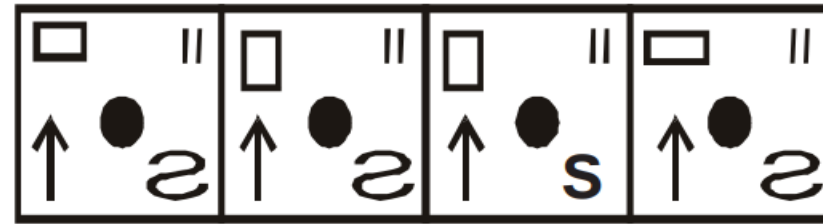
(1)

(2)

(3)

(4)

ANSWER FIGURES



(A)

(B)

(C)

(D)

- a)A
- b)B
- c)C
- d)D

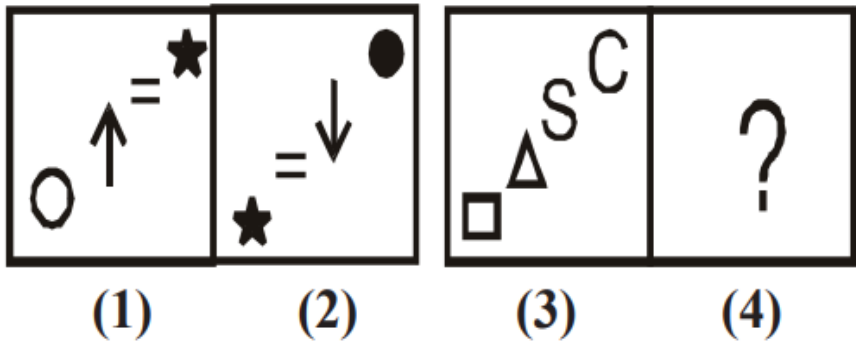




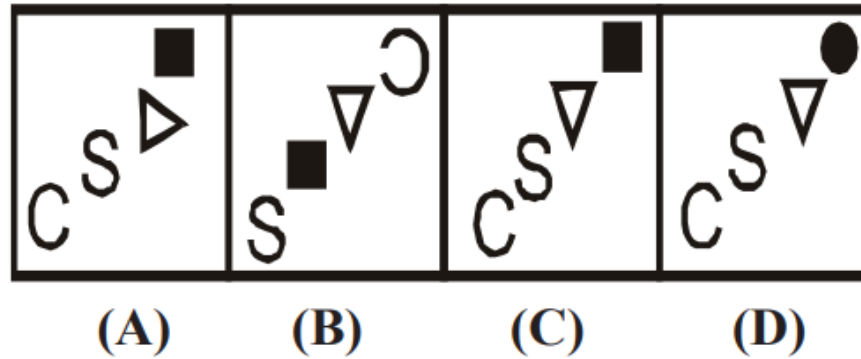
Q.3 Select a suitable figure from the Answer Figures that would replace the question mark (?).

उत्तर आकृतियों में से एक उपयुक्त आकृति का चयन करें जो प्रश्न चिह्न (?) का स्थान ले ले।

PROBLEM FIGURES



ANSWER FIGURES



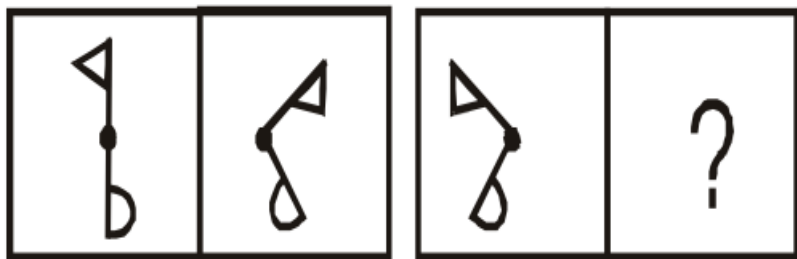
- a)A
- b)B
- c)C
- d)D



Q.4 Select a suitable figure from the Answer Figures that would replace the question mark (?).

उत्तर आकृतियों में से एक उपयुक्त आकृति का चयन करें जो प्रश्न चिह्न (?) का स्थान ले ले।

PROBLEM FIGURES



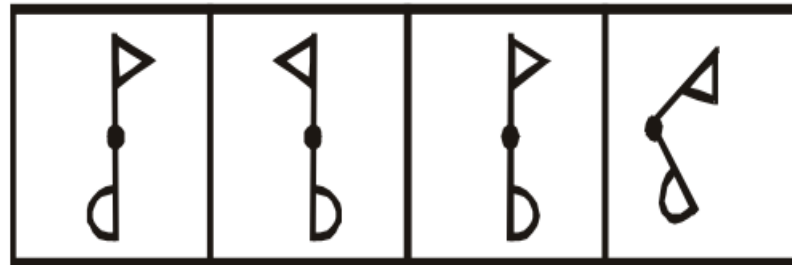
(1)

(2)

(3)

(4)

ANSWER FIGURES



(A)

(B)

(C)

(D)

a)A

b)B

c)C

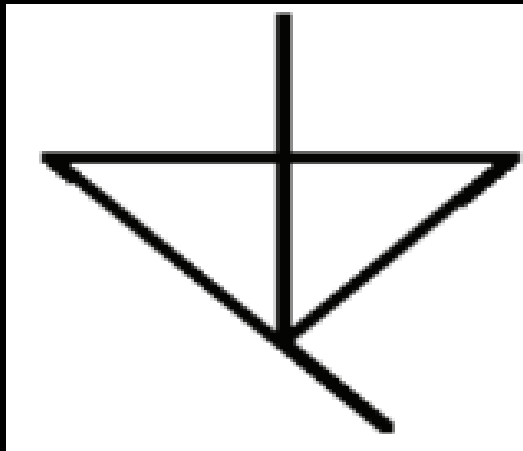
d)D





Q.5 Select the option in which the given figure is embedded.

उस विकल्प का चयन करें जिसमें दी गई आकृति सन्निहित है।
(Rotation is not allowed) / (रोटेशन की अनुमति नहीं है)



(A)

(B)

(C)

(D)

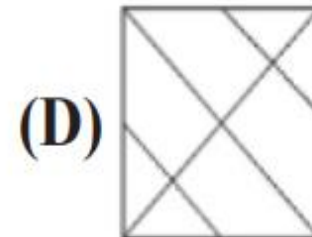
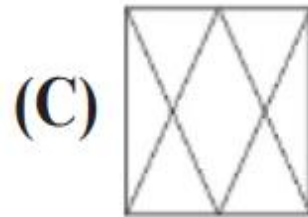
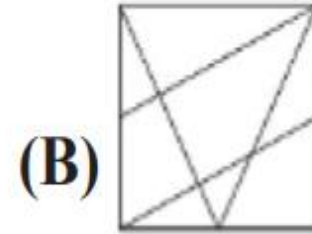
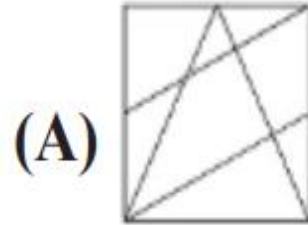
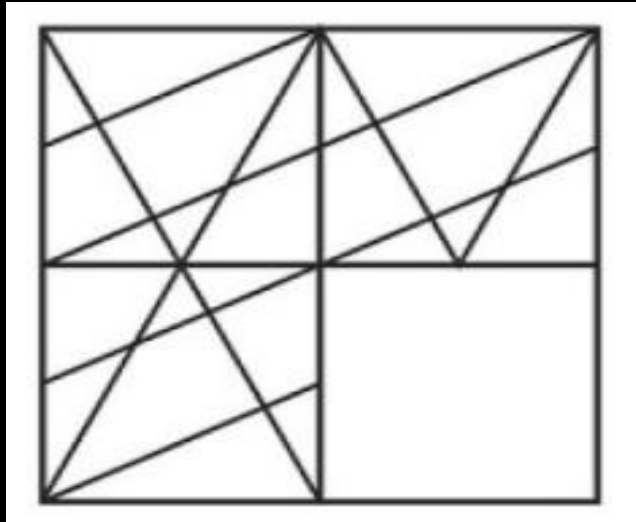
- (A) A
- (B) B
- (C) C
- (D) D





Q.6 Which answer figure will complete the pattern in the question figure?

कौन सी उत्तर आकृति प्रश्न आकृति के पैटर्न को पूरा करेगी?

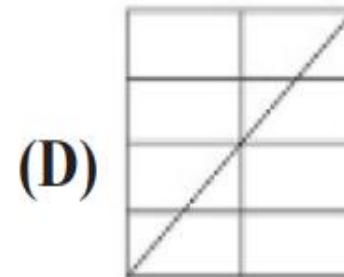
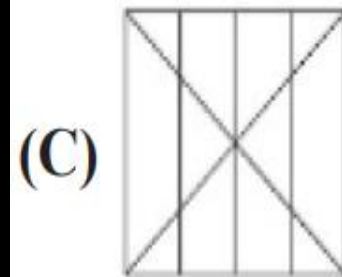
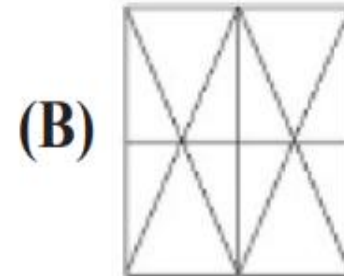
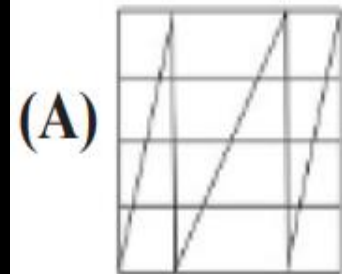
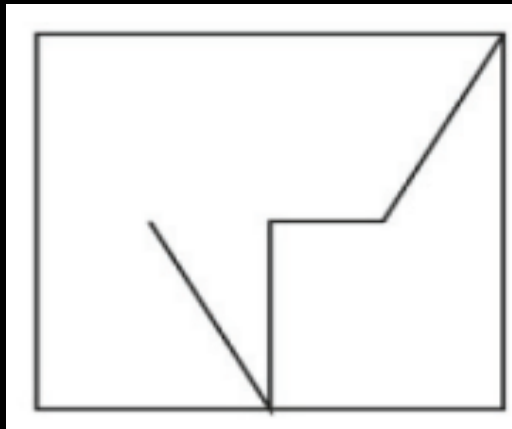


- (A) A
- (B) B
- (C) C
- (D) D





Q.7 From the given options select the one in which the question figure is hidden / embedded.
दिए गए विकल्पों में से उस विकल्प का चयन करें जिसमें प्रश्न आकृति छिपी/निहित है।



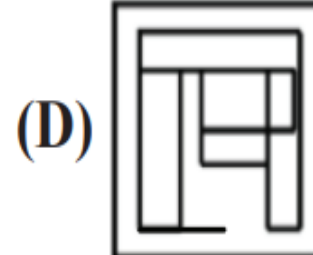
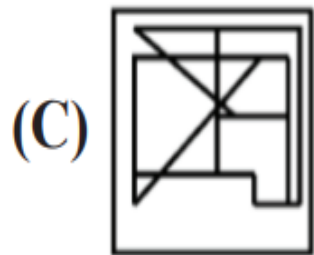
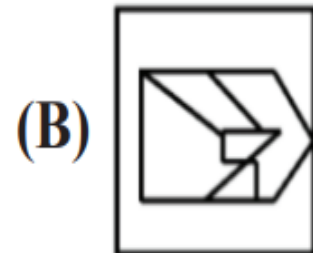
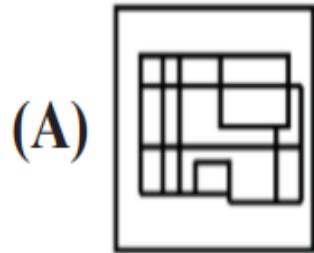
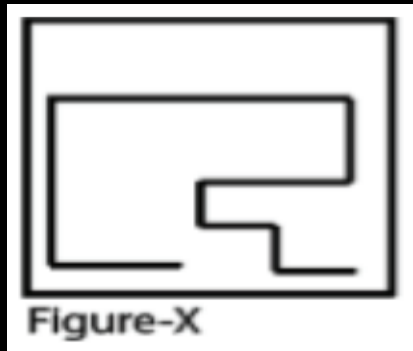
- (A) A
- (B) B
- (C) C
- (D) D





Q.8 Select the option in which Figure-X is embedded.
(Rotation is not allowed)

उस विकल्प का चयन करें जिसमें चित्र-X सम्मिहित है। (रोटेशन की अनुमति नहीं है)

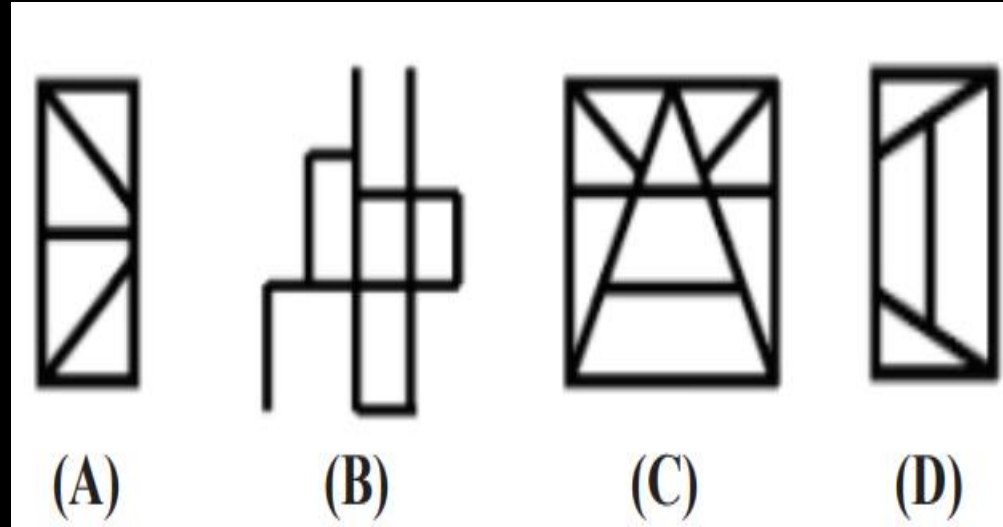


- (A) A
- (B) B
- (C) C
- (D) D



Q.9 Select the option figure that is embedded in the given figure (rotation is NOT allowed).

उस विकल्प आकृति का चयन करें जो दी गई आकृति में अंतर्निहित है (रोटेशन की अनुमति नहीं है)।



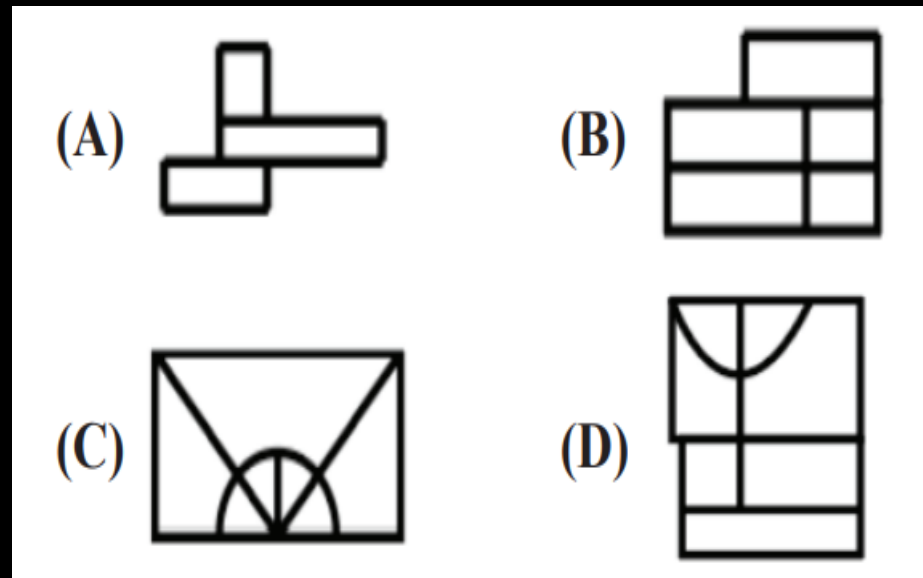
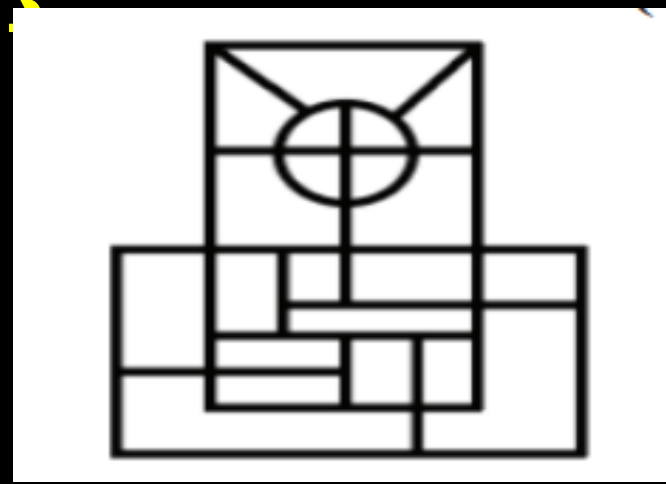
- (A) A
- (B) B
- (C) C
- (D) D





Q.10 Select the option that is embedded in the given figure (rotation is NOT allowed).

दिए गए चित्र में अंतर्निहित विकल्प का चयन करें (रोटेशन की अनुमति नहीं है)



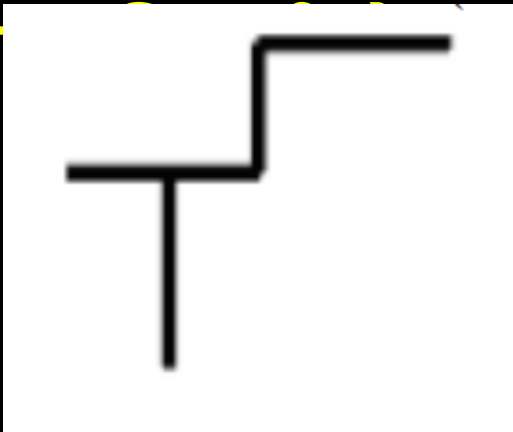
- (A) A
- (B) B
- (C) C
- (D) D





Q.11 Select the option in which the given figure is embedded (Rotation is NOT allowed).

उस विकल्प का चयन करें जिसमें दी गई आकृति अंतर्निहित है (रोटेशन की अनुमति नहीं है)



(A)

(B)

(C)

(D)

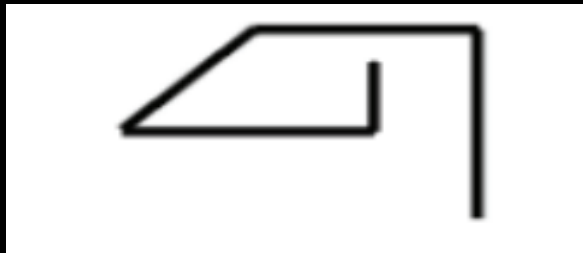


- (A) A
- (B) B
- (C) C
- (D) D



Q.12 Select the option in which the given figure is embedded (Rotation is NOT allowed).

उस विकल्प का चयन करें जिसमें दी गई आकृति अंतर्निहित है (रोटेशन की अनुमति नहीं है)।



(A)

(B)

(C)

(D)

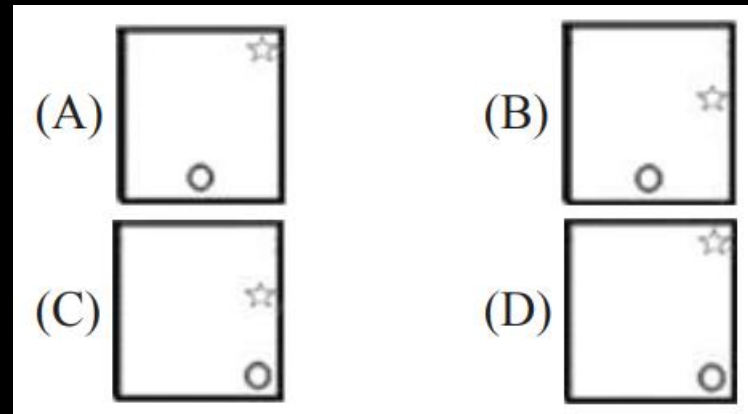
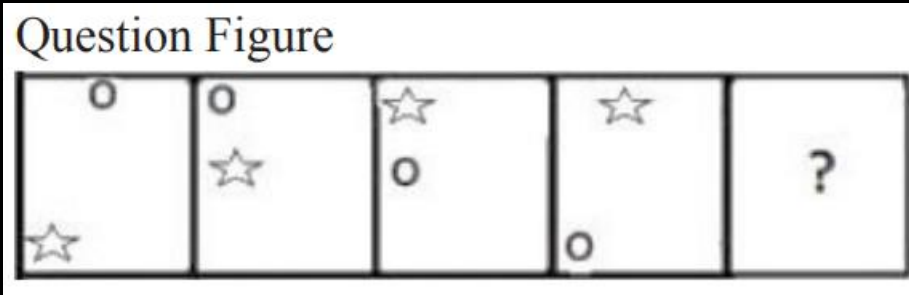
- (A) A
- (B) B
- (C) C
- (D) D





Q.13 Select the figure that can replace the question mark (?) in the following series.

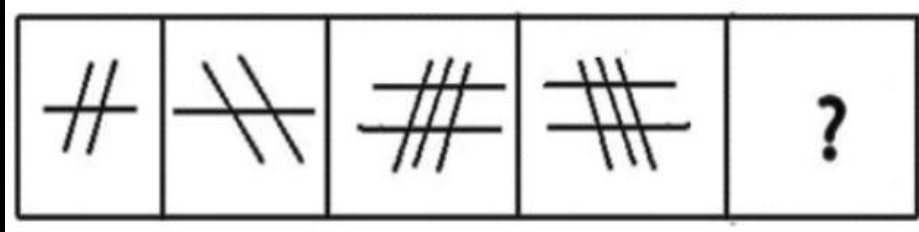
उस आकृति का चयन करें जो निम्नलिखित श्रृंखला में प्रश्न चिह्न (?) को प्रतिस्थापित कर सकती है।



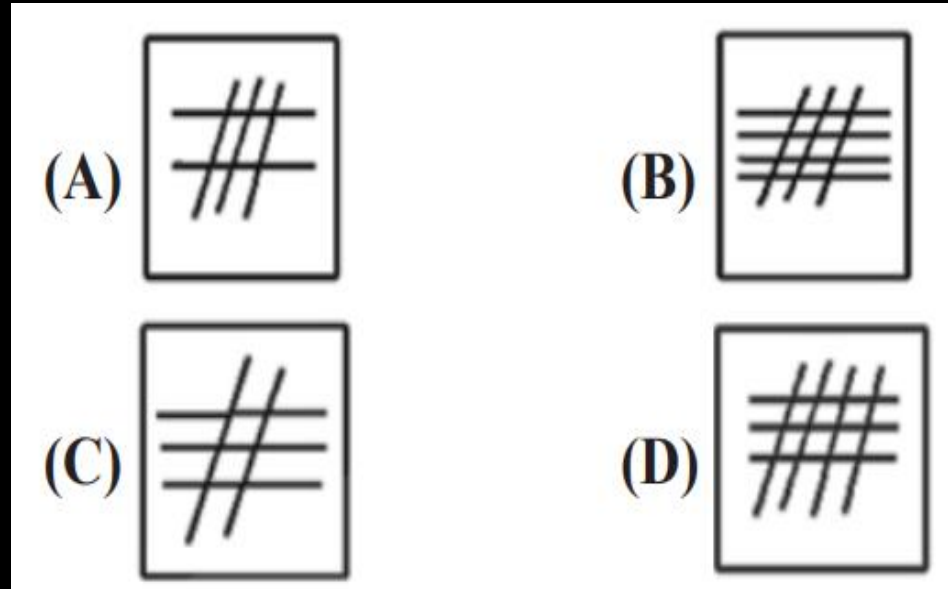
- (A) A
- (B) B
- (C) C
- (D) D



Q.14 Select the figure that will come next in the following figure series.



निम्नलिखित आकृति श्रृंखला में आगे

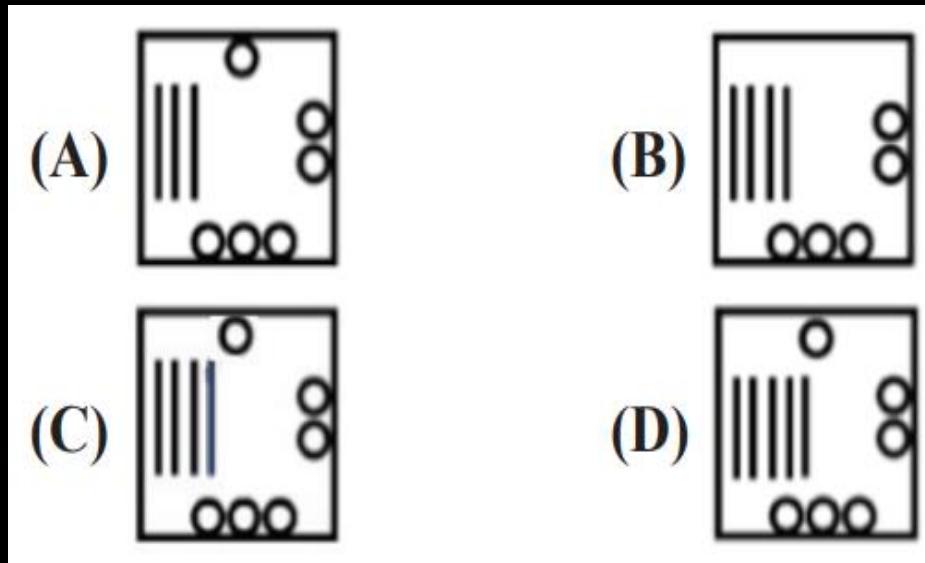
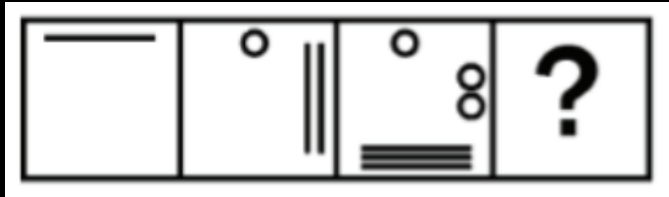


- (A) A
- (B) B
- (C) C
- (D) D



Q.15 Select the figure that will come next in the following figure series.

उस आकृति का चयन करें जो निम्नलिखित आकृति श्रृंखला में आगे आएगी।



- (A) A
- (B) B
- (C) C
- (D) D

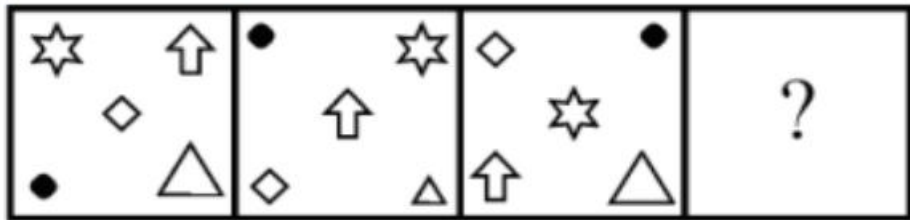


Q.16 Select the figure from among the given options that can replace the question mark (?) in the following series.

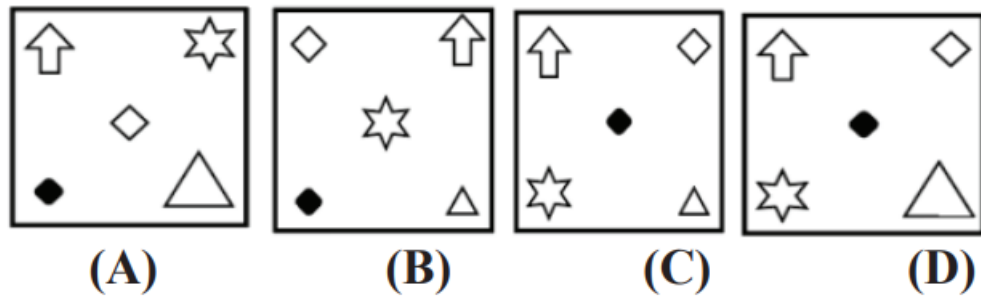
दिए गए विकल्पों में से उस आकृति का चयन करें जो निम्नलिखित श्रृंखला में प्रश्न चिह्न (?) को प्रतिस्थापित कर सके



Question Figure



Answer Figure

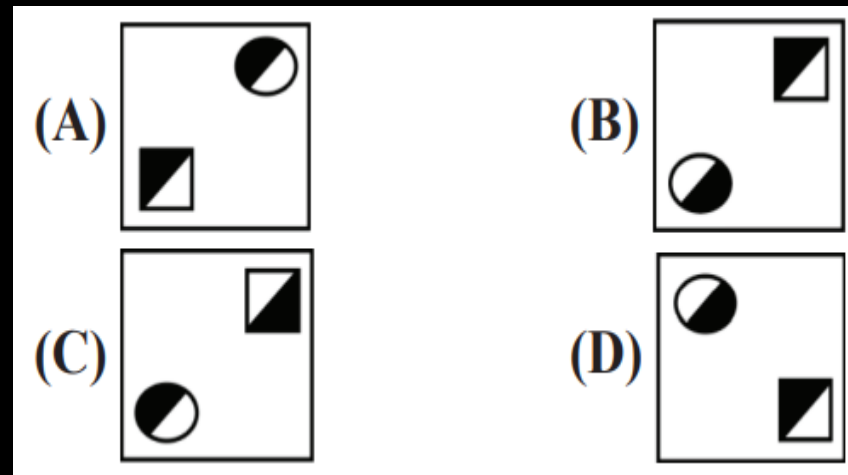
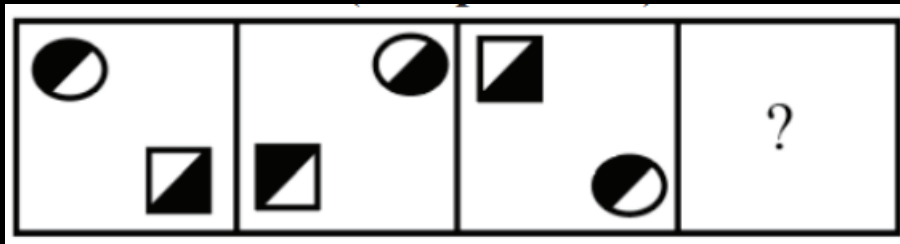


- (A) A
- (B) B
- (C) C
- (D) D



Q.18 Select the figure that will come next (in place of the question mark [?]) in the following figure series.

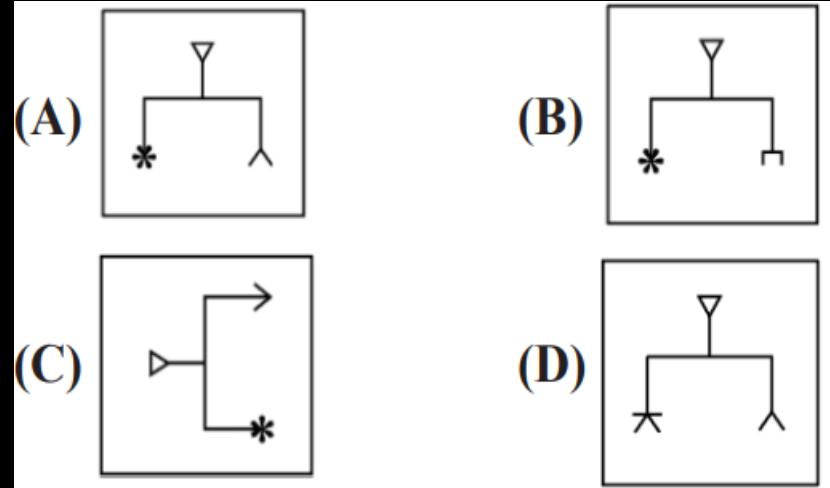
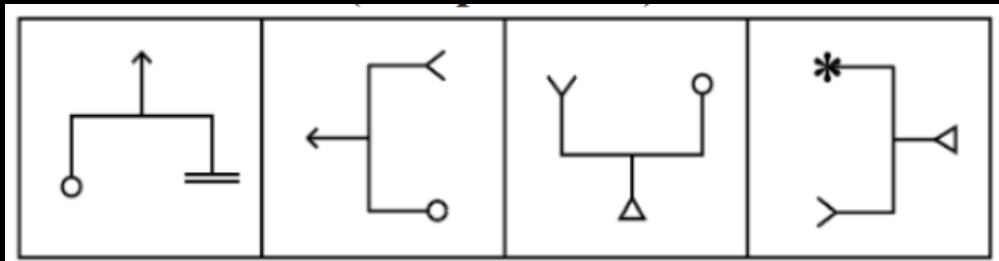
निम्नलिखित आकृति श्रृंखला में आगे आने वाली आकृति (प्रश्न चिह्न [?] के स्थान पर) का चयन करें।



- (A) A
- (B) B
- (C) C
- (D) D

Q.19 Select the figure that will come next in the following series.

उस आकृति का चयन करें जो निम्नलिखित श्रृंखला में आगे आएगी।

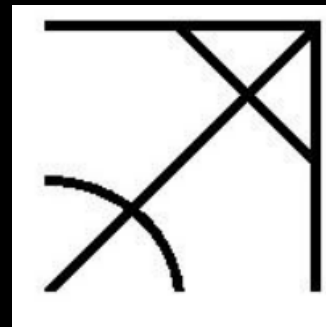
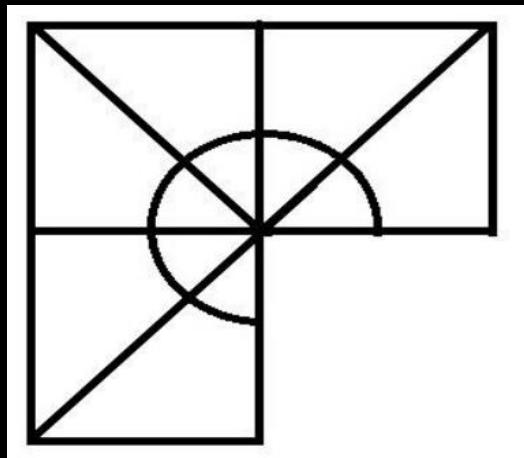


- (A) A
- (B) B
- (C) C
- (D) D

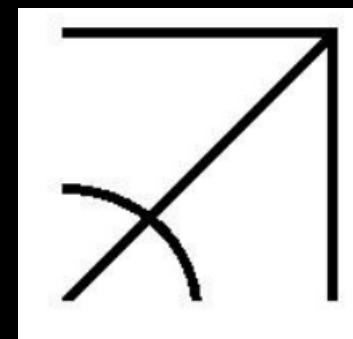
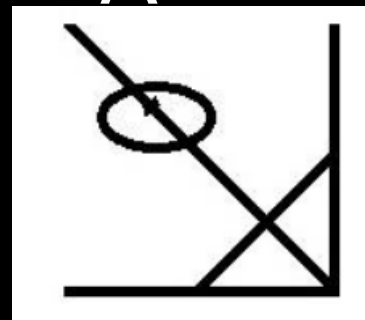
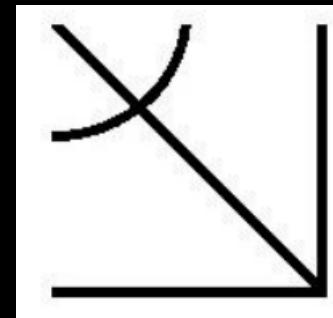


Q.20 Which one of the following alternatives will perfectly complete the given figure?

निम्नलिखित में से कौन सा विकल्प दिए गए आकृति को पूरी तरह से पूरा करेगा?



A

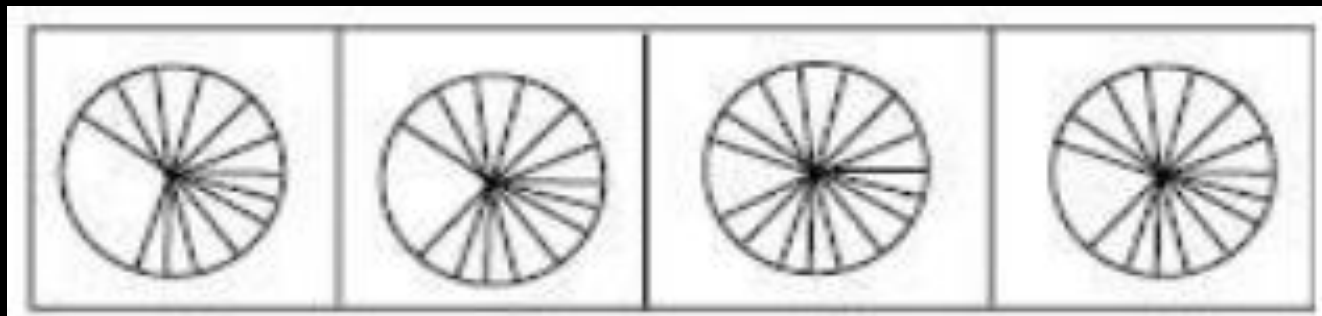
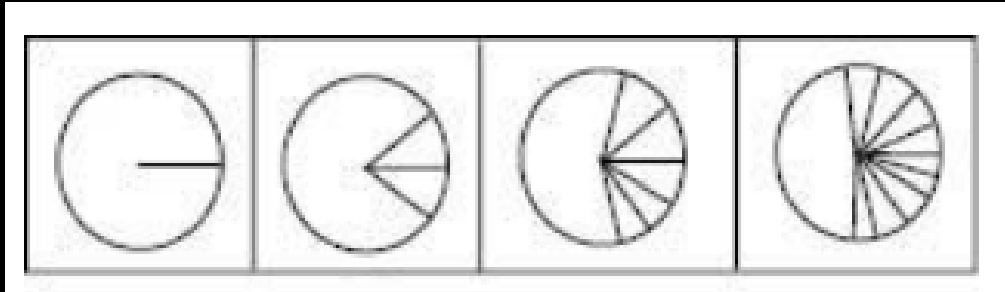


- (A) A
- (B) B
- (C) C
- (D) D



Q.21 Which one of the following images as (A), (B), (C), (D) will be the next image for the given series?

निम्नलिखित छवियों में से कौन सी (A), (B), (C), (D) दी गई श्रृंखला की अगली छवि होगी?



A

B

C

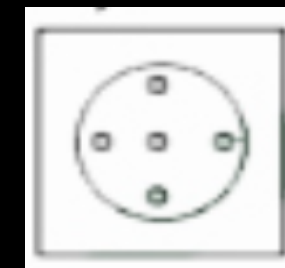
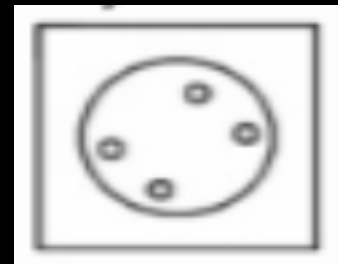

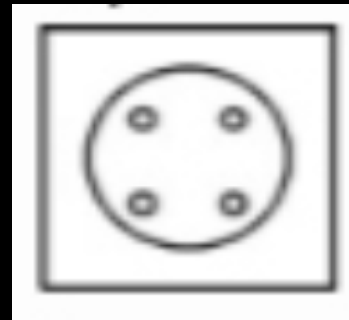
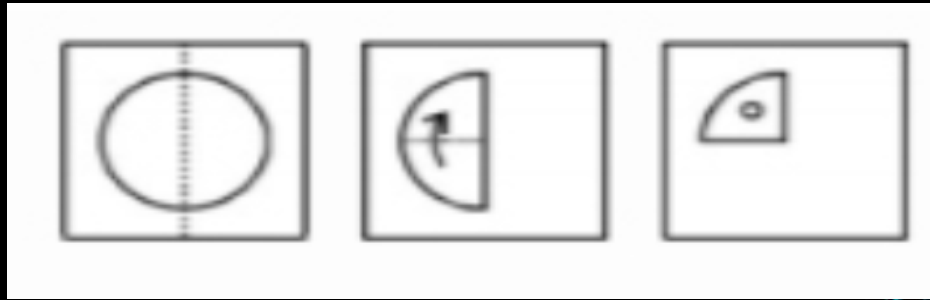
D

- (A) A
- (B) B
- (C) C
- (D) D



Q.22 A piece of paper is folded and cut as shown below in the question figures. From the given answer figures, indicate how it will appear when opened.

कागज के एक टुकड़े को नीचे प्रश्न आकृतियों में दर्शाए अनुसार मोड़ा और काटा जाता है। दिए गए उत्तर आकृतियों से बताइए कि खोलने पर यह कैसा दिखाई देगा।

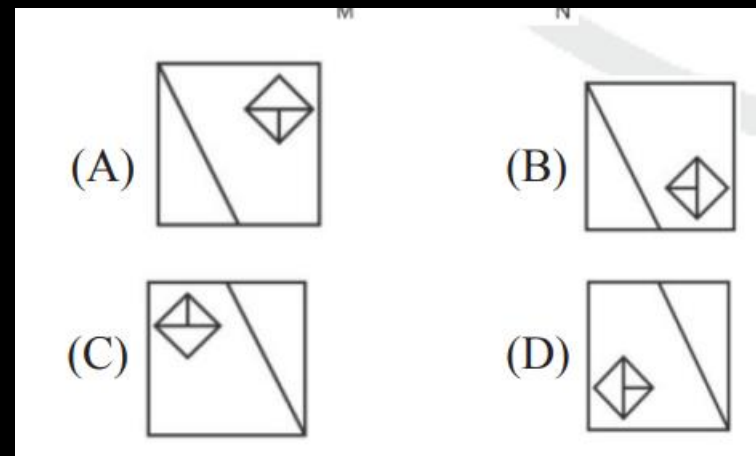
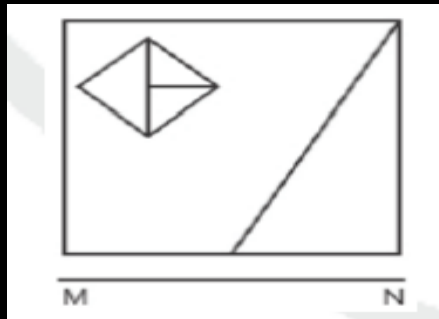


- (A)A
- (B)B
- (C)C
- (D)D



Q.23 If a mirror is placed on the line MN, then which of the answer figures is the right image of the given figure?

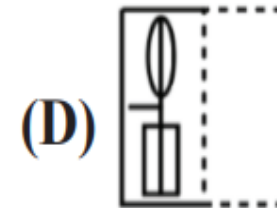
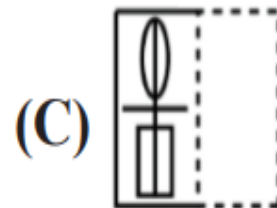
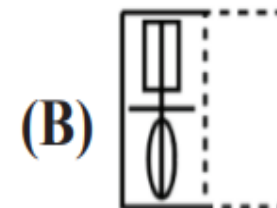
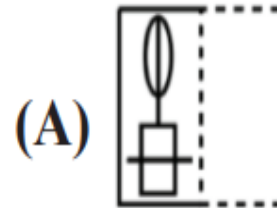
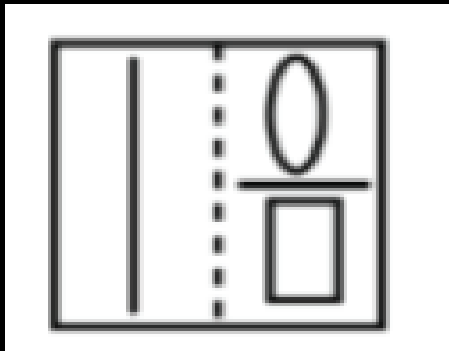
यदि एक दर्पण को रेखा MN पर रखा जाए, तो उत्तर आकृतियों में से कौन सी आकृति दी गई आकृति का सही प्रतिबिम्ब है?



- (A)A
- (B)B
- (C)C
- (D)D

Q.24 A figure of the transparent sheet with a pattern is given below. Select the option that shows how the pattern would appear when the transparent sheet is folded at the dotted line.

एक पैटर्न के साथ पारदर्शी शीट का चित्र नीचे दिया गया है। उस विकल्प का चयन करें जो दर्शाता है कि पारदर्शी शीट को बिंदीदार रेखा पर मोड़ने पर पैटर्न कैसा दिखाई देगा।

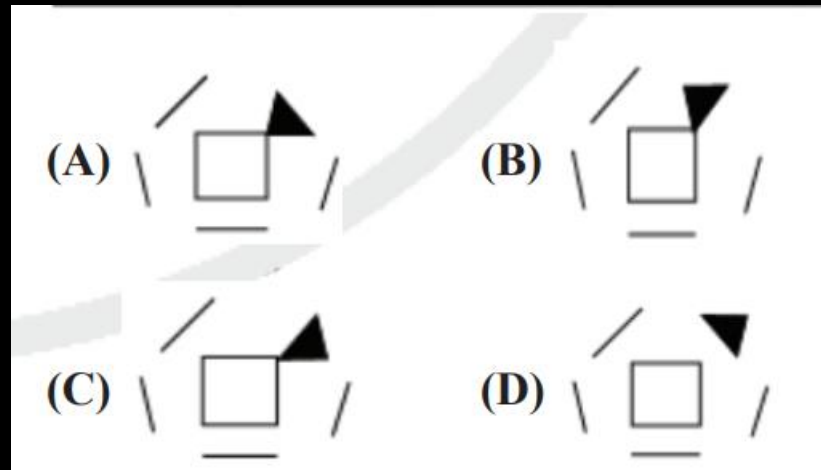
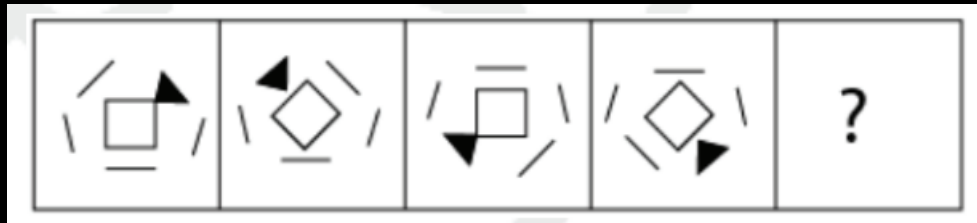


- (A)A
- (B)B
- (C)C
- (D)D



Q.25 Choose the correct option that will replace the question mark and continue the given figure series

उस सही विकल्प का चयन करें जो प्रश्न चिह्न को प्रतिस्थापित करेगा और दी गई आकृति श्रृंखला को जारी रखेगा



- (A) A
- (B) B
- (C) C
- (D) D



THANK YOU