



MISSION SSC GD CONSTABLE 2023



Reasoning

MOST EXPECTED PAPER-1

इससे बाहर कुछ भी नहीं


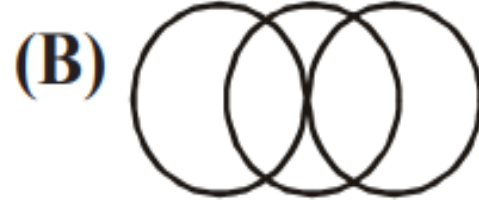
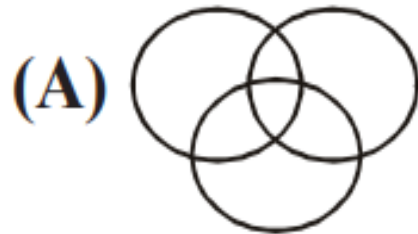
LIVE

03:00 PM



Q.1. Which Venn diagram best represents the given set of classes?

कौन सा वेन आरेख दिए गए वर्गों के समूह का सबसे अच्छा प्रतिनिधित्व करता है? Animals, Mammals, Goat/ पशु, स्तनधारी, बकरी



(A) A

(B) B

(C) C

(D) D



Q.2. Which one set of letters when sequentially placed at the gaps in the given letter series would complete it?

अक्षरों का कौन सा समूह दी गई अक्षर श्रृंखला में रिक्त स्थानों पर क्रमिक रूप से रखे जाने पर इसे पूरा करेगा?

fgg ___ gff ___ f ___ gfg ___ fgf



- (A)fggf
- (B)ccfc
- (C)fgfg
- (D)ffgg



Q.3. Select the correct option that will fill in the blank and complete the series.

उस सही विकल्प का चयन करें जो रिक्त स्थान को भरेगा और श्रृंखला को पूरा करेगा।

0, 2, 3, 5, 10, 18, 33, 61, 112, ___



- (A) 178
- (B) 198
- (C) 186
- (D) 206

Q.4. Vilas went from his home to his college. He started his journey facing East. First, he went 2 km straight; then he turned to his right and went 3 km: finally, he turned left and walked 4 km to reach his college. To which direction is Vilas's home located respect to his college?

विलास अपने घर से अपने कॉलेज गया। उन्होंने अपनी यात्रा पूर्व की ओर मुख करके प्रारंभ की। सबसे पहले, वह 2 किमी सीधे चला गया; फिर वह दाईं ओर मुड़ा और 3 किमी चला: अंत में, वह बाईं ओर मुड़ गया और अपने कॉलेज तक पहुंचने के लिए 4 किमी चला। विलास का घर उसके कॉलेज के संबंध में किस दिशा में स्थित है?

- (A) South-west
- (B) North-east
- (C) South-east
- (D) North-west





Q.5. Select the correct option that will fill in the blank and complete the series.

उस सही विकल्प का चयन करें जो रिक्त स्थान को भरेगा और श्रृंखला को पूरा करेगा।

1, 0, 5, 124, 11, 1330, 17,



(A)4129

(B)4138

(C)4912

(D)4813



Q.6. Select the option that is related to the third term in the same way as the second term is related to the first term.

उस विकल्प का चयन करें जो तीसरे पद से उसी प्रकार संबंधित है जैसे दूसरा पद पहले पद से संबंधित है।

VEGT : SHJQ :: FGCM : ?



- (A)BJFJ
- (B)CJPJ
- (C)CJFJ
- (D)DJJP



Q.7 Find the missing number from the below options.

नीचे दिए गए विकल्पों में से लुप्त संख्या ज्ञात कीजिए



4	9	9
7	4	?
11	13	19

- (A) 11
- (B) 9
- (C) 8
- (D) 10

Q.8. In morning after sunrise a boy rode his bicycle 4 km towards North then he took right turn and rode 6 km then he took left turn and rode 5 km to reach his school. In which direction the starting point is with respect to location of School?

सुबह सूर्योदय के बाद एक लड़का अपनी साइकिल 4 किमी उत्तर की ओर चलाता है, फिर वह दाएँ मुड़ता है और 6 किमी चलता है, फिर वह बाएँ मुड़ता है और 5 किमी चलता है अपने स्कूल तक पहुँचने के लिए। स्कूल के स्थान के संबंध में प्रारंभिक बिंदु किस दिशा में है?

(A) South-east



- (B) South-west
- (C) North-west
- (D) North-east

9. Select the correct option that will fill in the blank and complete the series.

उस सही विकल्प का चयन करें जो रिक्त स्थान को भरेगा और श्रृंखला को पूरा करेगा

L, K, I, F, B, W,

(A) S

(B) Q

(C) P

(D) R





Q.10. Four pairs of words have been given, out of which three are alike in some manner, while one is different. Choose out the odd one.

शब्दों के चार जोड़े दिए गए हैं, जिनमें से तीन किसी तरह से समान हैं, जबकि एक अलग है। बेजोड़ को चुनें।

(A) Photo : Frame

(B) House : Compound wall

(C) Garden : Fence

(D) Room : Door



Q.11. Chlorine is related to Halogen in the same way as Neon is related to

क्लोरीन हैलोजन से उसी प्रकार संबंधित है जिस प्रकार नियॉन संबंधित है...

- (A) Metal
- (B) Radio Active
- (C) Gas
- (D) Inert Gas





Q.12. Select the option that is related to the third term in the same way as the second term is related to the first term.

उस विकल्प का चयन करें जो तीसरे पद से उसी प्रकार संबंधित है जैसे दूसरा पद पहले पद से संबंधित है।

Jurist : Law :: Orator : ?/ विधिवेत्ता : कानून ::
वक्ता : ?



- (A) Lawyer
- (B) Writing
- (C) Acting
- (D) Speech



Q.13 Statements: Some tents are cones./कुछ टेंट शंकु हैं.

All cones are motels/ सभी कोन मोटल हैं

Conclusions: I. All the motels are cones./ सभी मोटल कोन हैं।

II. Some tents are motels./ कुछ टेंट मोटल हैं.



- (A) Neither conclusion (I) nor (II) follows
- (B) Only conclusion (II) follows.
- (C) Either conclusion (I) or (II) follows
- (D) Only conclusion (I) follows



Q.14. If 'A' is replaced by '+' if 'B' is replaced by '-'; 'C' is replaced by '÷'; and 'D' replaced by '×' then find the value of the following equation.

यदि 'A' को '+' से प्रतिस्थापित किया जाता है यदि 'B' को '-' से प्रतिस्थापित किया जाता है; 'C' को '÷' से प्रतिस्थापित किया गया है; और 'D' को '×' से प्रतिस्थापित करें तो निम्नलिखित समीकरण का मान ज्ञात कीजिए।

$$20 A 15 C 3 D 8 B 9$$



- (A)65
- (B)51
- (C)55
- (D)53



Q.15. If moon is called sea, sea is called water, water is called air, air is called sun, sun is called river, river is called salt and salt is known as neem, then from where do we get SALT?

यदि चंद्रमा को समुद्र कहा जाता है, समुद्र को पानी कहा जाता है, जल को वायु कहा जाता है, वायु को सूर्य कहा जाता है, सूर्य को नदी कहा जाता है, नदी को नमक कहा जाता है और नमक को नीम कहा जाता है, तो हमें नमक कहाँ से मिलता है?



- (A) Sea
- (B) Salt
- (C) Water
- (D) Neem



Q.16. Replace the question mark (?) with a suitable option to complete the series.

श्रृंखला को पूरा करने के लिए प्रश्न चिह्न (?) को उपयुक्त विकल्प से बदलें।

AKT, BLU, CMV, D?W, EOX



(A)M

(B)P

(C)N

(D)O



Q.17. In a shopping mall, five water bottles labeled as A, B, C, D and E were placed in a rack. The bottle A has less price than the bottle B. The bottle C has less price than the bottle D. The bottle B has less price than the bottle C and bottle A has more price than the bottle E. If a costumer want to buy a bottle of maximum price, then which bottle he/she has to buy?

एक शॉपिंग मॉल में, A, B, C, D और E लेबल वाली पांच पानी की बोतलें एक रैक में रखी गई थीं। बोतल A की कीमत बोतल B से कम है। बोतल C की कीमत बोतल D से कम है। बोतल B की कीमत बोतल C से कम है और बोतल A की कीमत बोतल E से अधिक है। यदि कोई ग्राहक खरीदना चाहता है अधिकतम कीमत की बोतल, तो उसे कौन सी बोतल खरीदनी होगी?



- (A) D
- (B) B
- (C) C
- (D) A



Q.18. Find out the two signs to be interchanged for making following equation correct.

निम्नलिखित समीकरण को सही बनाने के लिए परस्पर बदले जाने वाले दो चिह्नों का पता लगाएँ।

$$25 + 5 \times 7 - 12 \div 3 = 26$$



- (A) + and -
- (B) + and ×
- (C) + and ÷
- (D) - and ÷



Q.19. Select the correct option that will fill in the blank and complete the series.

उस सही विकल्प का चयन करें जो रिक्त स्थान को भरेगा और श्रृंखला को पूरा करेगा।

___, XEE, VGG, TII, RKK



- (A)DCC
- (B)ZCC
- (C)BCC
- (D)ACC



Q.20. If in a code language, LAPTOP is written as PNSOZL and NOTEBOOK and KNNADSNN, then which letter will be there in first and seventh letter from left after coding NEDICINE in the same way

यदि किसी कूट भाषा में LAPTOP को PNSOZL तथा NOTEBOOK तथा KNNADSNN लिखा जाता है, तो NEDICINE को इसी प्रकार कूटबद्ध करने पर बाएं से पहले तथा सातवें अक्षर में कौन सा अक्षर होगा



- (A)ED
- (B)BD
- (C)HM
- (D)DM

Q.21. Find the missing term in the given analogous pair.

दिए गए अनुरूप युग्म में लुप्त पद ज्ञात कीजिए
 $1 : 4, 3 : 14 :: 5 : 32, 7 : \dots$

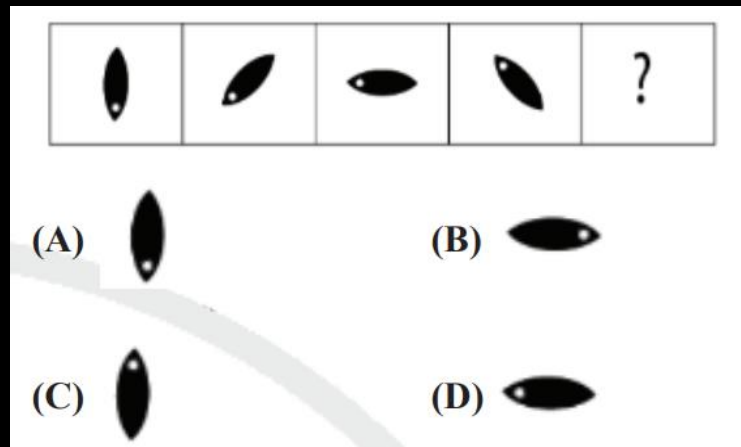


- (A) 58
- (B) 79
- (C) 85
- (D) 97



Q.22. Choose the correct option that will replace the question mark and continue the given figure series.

उस सही विकल्प का चयन करें जो प्रश्न चिह्न को प्रतिस्थापित करेगा और दी गई आकृति श्रृंखला को जारी रखेगा।



- (A)A
- (B)B
- (C)C
- (D)D



SSC GD CONSTABLE 2023 - FOUNDATION BATCH

Q.23. In an automobile showroom, seven two-wheelers of seven different companies, viz. H, M, T, V, Y, B and S are displayed in a row, facing east such that . The H vehicle is to the immediate right of the S vehicle. The S is fourth to the right of T. The V is between the M and the B. The T, which is third to the left of the M, is at one of the ends. Which vehicle is second to the left of the M?

एक ऑटोमोबाइल शोरूम में, सात अलग-अलग कंपनियों के सात दोपहिया वाहन हैं। H, M, T, V, Y, B और S को एक पंक्ति में पूर्व की ओर मुख करके इस प्रकार प्रदर्शित किया गया है कि . H वाहन, S वाहन के ठीक दाईं ओर है। . S, T के दाईं ओर चौथा है। V, M और B के बीच है। T, जो M के बाईं ओर तीसरा है, किसी एक छोर पर है। कौन सा वाहन M के बायीं ओर से दूसरे स्थान पर है?



- (A)V
- (B)S
- (C)B
- (D)T



Q.24. Find the missing number from the below options

नीचे दिए गए विकल्पों में से लुप्त संख्या ज्ञात कीजिए



16	25	81
36	49	9
10	12	?

- (A) 15
- (B) 12
- (C) 21
- (D) 36

Q.25. Select the option that is related to the third term in the same way as the second term is related to the first term.

उस विकल्प का चयन करें जो तीसरे पद से उसी प्रकार संबंधित है जैसे दूसरा पद पहले पद से संबंधित है।

Grief : Anguish :: Pique : ?/दुःख : वेदना :: मनमुटाव : ?

- (A) Joy
- (B) Anger
- (C) Jealous
- (D) Tensed



THANK YOU