



MISSION SSC GD CONSTABLE 2023



Reasoning

MOST EXPECTED PAPER-2

इससे बाहर कुछ भी नहीं

LIVE 03:00 PM



Q.1 Three of the following four numbers are alike in a certain way and one is different. Pick the number that is different from the rest.

निम्नलिखित चार संख्याओं में से तीन एक निश्चित तरीके से समान हैं और एक भिन्न है। वह संख्या चुनें जो बाकियों से भिन्न हो।



(A)336

(B)224

(C)226

(D)448

Q.2. Arrange the following activities in a logical and meaningful order.

निम्नलिखित गतिविधियों को तार्किक और सार्थक क्रम में व्यवस्थित करें।

1. Setting up alarm clock
2. Solving question paper
3. Alarm Bell ringing
4. Reach examination centre.
5. Getting dressed and be ready
6. Returning answer book



(A) 3, 1, 5, 4, 2, 6

(B) 1, 3, 4, 5, 2, 6

(C) 1, 3, 5, 4, 6, 2

(D) 1, 3, 5, 4, 2, 6

Q.3. Select the set in which the numbers are related in the same way as are the numbers of the following set.

उस सेट का चयन करें जिसमें संख्याएँ उसी प्रकार संबंधित हैं जैसे निम्नलिखित सेट की संख्याएँ हैं।

(8, 39, 5)



(A)(11, 67, 8)

(B)(10, 60, 6)

(C)(9, 55, 4)

(D)(14, 115, 9)

Q.4 Statements: Some plants are vegetable./ कुछ पौधे वनस्पति हैं।

All vegetables are vitamins./सभी सब्जियाँ विटामिन हैं।

Conclusions: I. Some vitamins are plants./कुछ विटामिन पौधे हैं।

II. Some vitamins are vegetables. / कुछ विटामिन सब्जियाँ

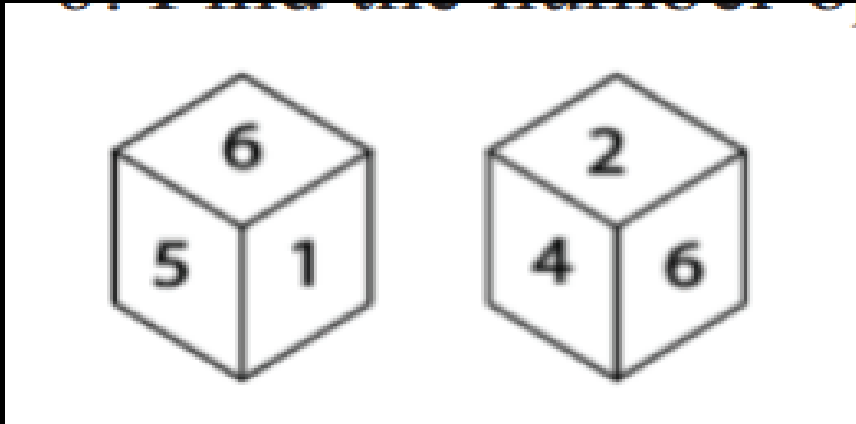
और

III. No vitamin is plant. कोई विटामिन पौधा नहीं है



- (A) Either conclusion I or III follows.
- (B) Only conclusions II and III follow.
- (C) Only conclusions I and II follow.
- (D) Only conclusions I and III follow.

Q.5 Two different positions of the same dice are shown below, the six faces of which are numbered 1 to 6. Find the number opposite to the face having 3
 एक ही पासे की दो अलग-अलग स्थितियाँ नीचे दिखाई गई हैं, जिनके छह फलकों पर 1 से 6 तक क्रमांक हैं। 3 वाले फलक के विपरीत संख्या ज्ञात कीजिए।



- (A) 2
- (B) 6
- (C) 4
- (D) 5



SSC GD CONSTABLE 2023 - FOUNDATION BATCH

Q.6 . A + B means 'A is the sister of B'./ A + B का अर्थ है 'A, B की बहन है'।

A - B means 'A is the son of B'./A - B का अर्थ है 'A, B का पुत्र है'।

A Σ B means 'A is the father of B'./A Σ B का अर्थ है 'A, B का पिता है'।

A \ddot{y} B means 'A is the brother of B'./A \ddot{y} B का अर्थ है 'A, B का भाई है'।

If S Σ M \ddot{y} U + L Σ Z - I is true then how is L related to I?

यदि S Σ M \ddot{y} U + L Σ Z - I सत्य है तो L, I से कैसे संबंधित है?



(A) Husband

(B) Son

(C) Father

(D) Brother

Q. 7 Three of the following four words are alike in a certain way and one is different. Pick the odd word out.
निम्नलिखित चार में से तीन शब्द एक निश्चित तरीके से समान हैं और एक अलग है।



- (A)Ulcer**
- (B)Anaemia**
- (C)Hormone**
- (D)Hypertension**

Q. 8 If CALLOSUM is coded as 31336134, then how will CEREMONY be coded as?

यदि CALLOSUM को 31336134 के रूप में कोडित किया गया है, तो CEREMONY को किस प्रकार कोडित किया जाएगा?



(A)259457

57

(B)358546

56

(C)359545

Q. 9 Select the option that is related to the third letter cluster in the same way as the second letter-cluster is related to the first letter-cluster.

उस विकल्प का चयन करें जो तीसरे अक्षर समूह से उसी प्रकार संबंधित है जैसे दूसरा अक्षर-समूह पहले अक्षर-समूह से संबंधित है।

DHMR : BJKT :: XCOE : ?

- (A) VFMH
- (B) VENNG
- (C) UENG
- (D) VEMG

Q.10 Select the correct mirror image of the given figure when the mirror is placed to the right of the figure.

जब दर्पण को आकृति के दाईं ओर रखा जाए तो दी गई आकृति की सही दर्पण छवि का चयन करें।



64EKPC92

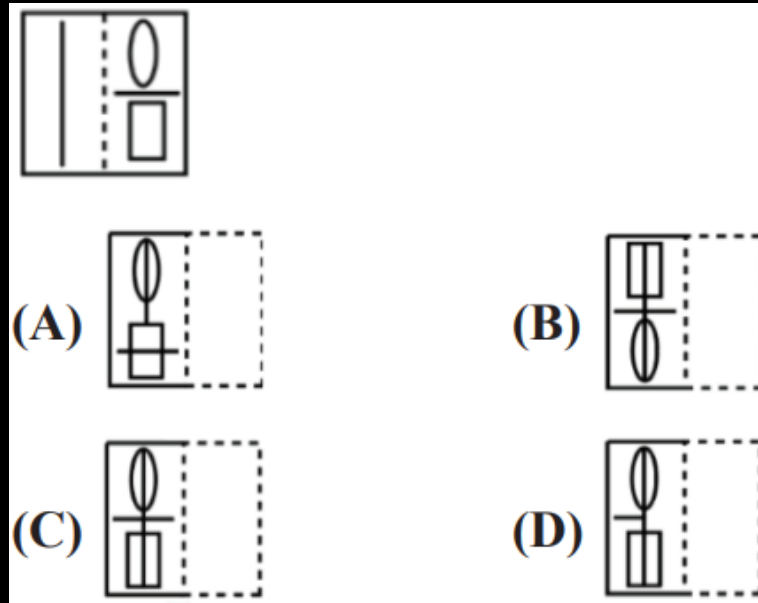
(A) 20CPKE40

(B) 20CPKE40

(C) 20CPKE40

(D) 20CPKE40

Q.11 A figure of the transparent sheet with a pattern is given below. Select the option that shows how the pattern would appear when the transparent sheet is folded at the dotted line
 एक पैटर्न के साथ पारदर्शी शीट का चित्र नीचे दिया गया है। उस विकल्प का चयन करें जो दर्शाता है कि पारदर्शी शीट को बिंदीदार रेखा पर मोड़ने पर पैटर्न कैसा दिखाई देगा



Q.12 'Mercury' is related to 'Metal' in the same way as 'Frog' is related to

' _____ ' से उसी प्रकार संबंधित है जैसे 'बुध', 'धातु' से 'मेढक', ' _____ ' से संबंधित है।



- (A) Rodent / कृतक
- (B) Reptilian / सरीसृप
- (C) Amphibian/ उभयचर
- (D) Mammal/ स्तनपायी

Q.13 Select the number-pair in which the two numbers are related in the same way as are the two numbers of the following number-pairs

उस संख्या-जोड़ी का चयन करें जिसमें दो संख्याएँ उसी प्रकार संबंधित हैं जैसे निम्नलिखित संख्या-जोड़ियों की दो संख्याएँ हैं

11 : 120



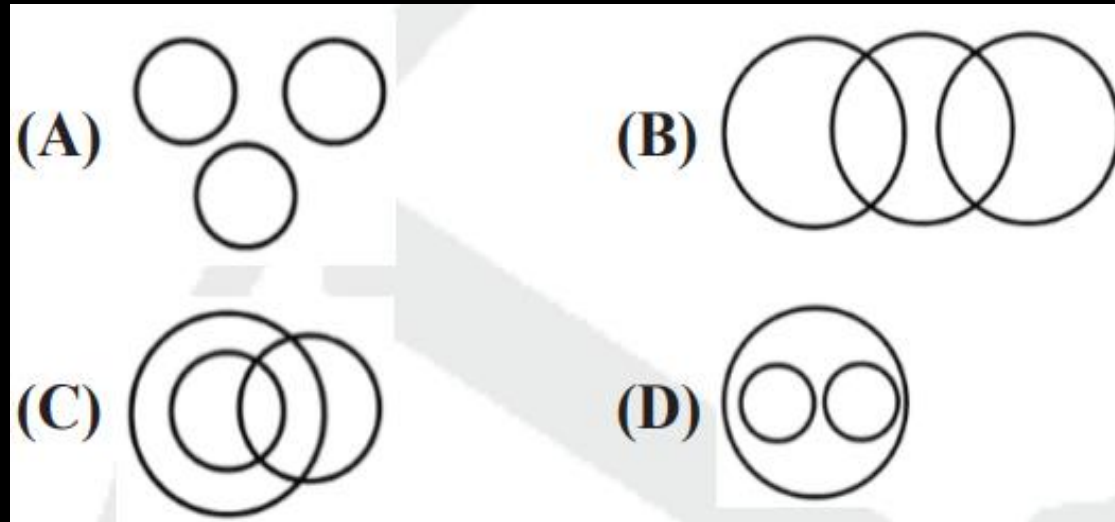
- (A) 17 : 289
- (B) 12 : 144
- (C) 2 : 3
- (D) 8 : 65

Q.14 Select the Venn diagram that best illustrates the relationship between the following classes.

Women, Lawyers, Sons

उस वेन आरेख का चयन करें जो निम्नलिखित वर्गों के बीच संबंध को सर्वोत्तम रूप से दर्शाता है।

महिलाएं, वकील, बेटे



Q.15 Which number will replace the question mark (?) in the following series?

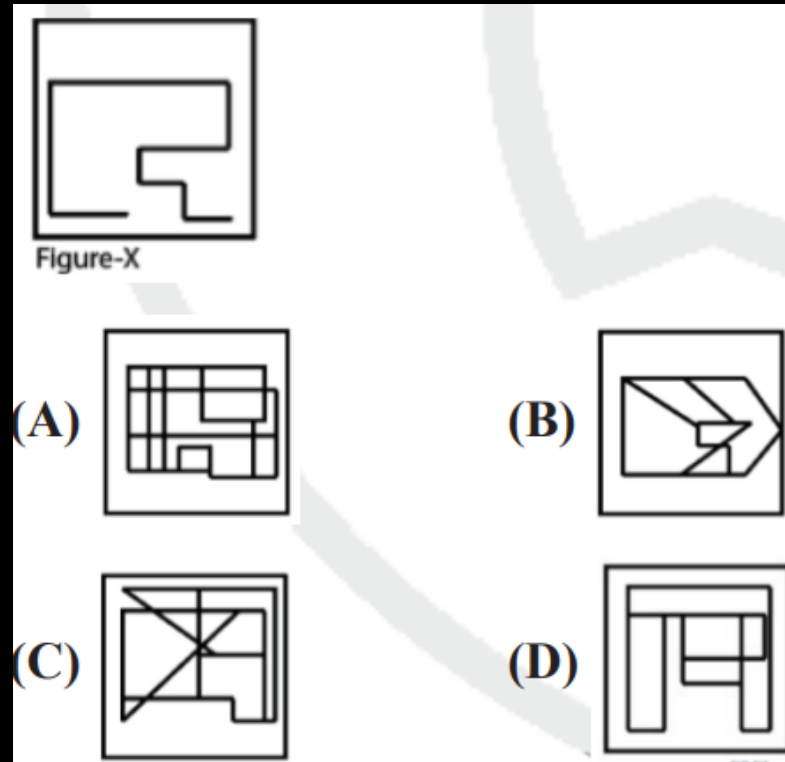
निम्नलिखित श्रृंखला में कौन सी संख्या प्रश्न चिह्न (?) का स्थान लेगी?

55, 56, 64, 91, 155, ?



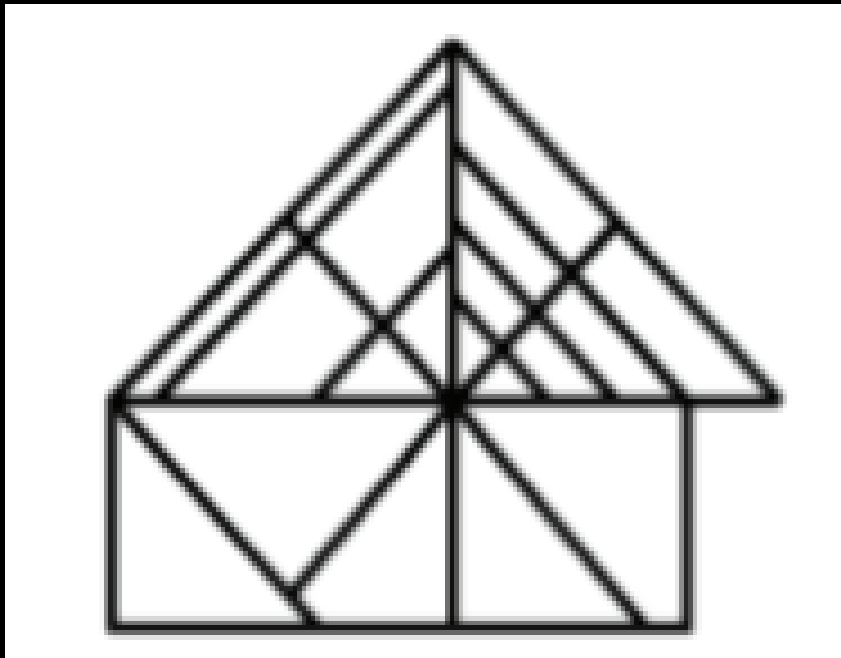
- (A) 280
- (B) 265
- (C) 275
- (D) 270

Q.16 Select the option in which Figure-X is embedded. (Rotation is not allowed)
उस विकल्प का चयन करें जिसमें चित्र-X सन्निहित है। (रोटेशन की अनुमति नहीं है)



Q.17 How many triangles are present in the given figure?

दी गई आकृति में कितने त्रिभुज मौजूद हैं?



- (A) 27
- (B) 26
- (C) 24
- (D) 25

Q.18 Three of the following four letter-clusters are alike in a certain way and one is different. Pick the odd one out.

निम्नलिखित चार अक्षर-समूहों में से तीन एक निश्चित तरीके से समान हैं और एक भिन्न है। बेजोड़ को चुनें।

(A) DGJM

(B) BDGJ

(C) TWZC

(D) KNQT

Q.19 Pointing towards a boy veena said "he is the son of only son of my grandfather". How is that boy related to veena?

एक लड़के की ओर इशारा करते हुए वीना ने कहा, "वह मेरे ग्रांडफादर के इकलौते बेटे का बेटा है"। वह लड़का वीणा से किस प्रकार संबंधित है?



- A. UNCLE
- B. BROTHER
- C. COUSIN
- D. DATA INADEQUATE

Q.20 Select the combination of letters that when sequentially placed in the gaps of the given letter series will complete the series.

अक्षरों के उस संयोजन का चयन करें जिसे दी गई अक्षर श्रृंखला के अंतराल में क्रमिक रूप से रखने पर श्रृंखला पूरी हो जाएगी।

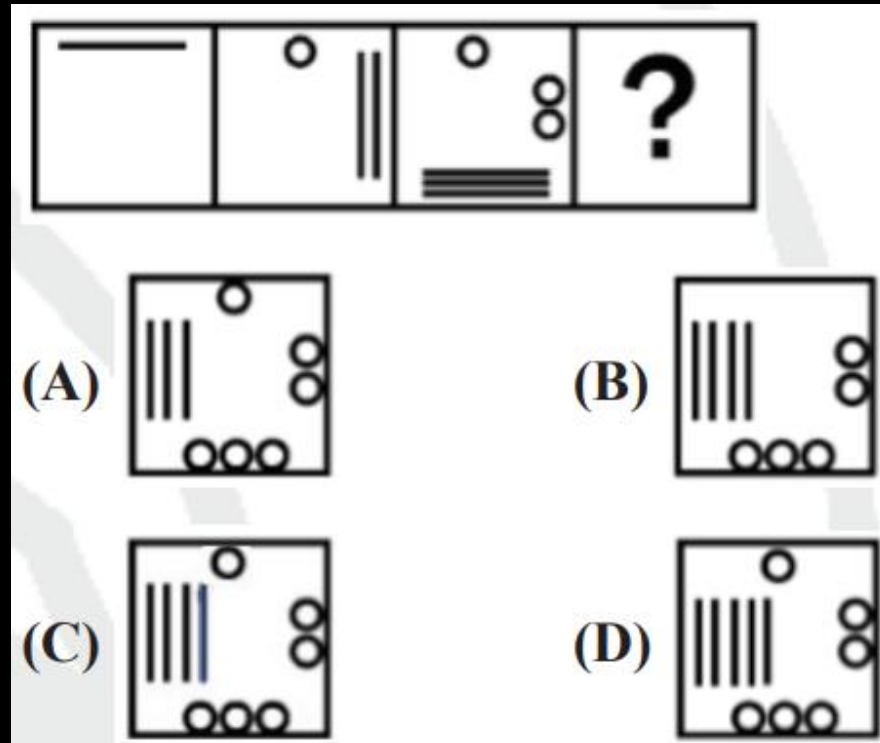
u _ _ m p m _ _ u u c m _ m m j _ u c _ p m m _



- (A) u c m j p u m j
- (B) u c m j u u m m
- (C) u c u j p m m j
- (D) p c j m p u m j

Q.21 Select the figure that will come next in the following figure series.

उस आकृति का चयन करें जो निम्नलिखित आकृति श्रृंखला में आगे आएगी



Q.22 Select the set in which the numbers are related in the same way as are the numbers of the following set.

उस सेट का चयन करें जिसमें संख्याएँ उसी प्रकार संबंधित हैं जैसे निम्नलिखित सेट की संख्याएँ हैं।

(145, 65, 115)



(A) (185, 65, 170)

(B) (80, 50, 110)

(C) (185, 70, 95)

(D) (130, 70, 100)

Q.23 Select the word-pair in which the two words are related in the same way as are the two words in the following word-pair.

उस शब्द-जोड़ी का चयन करें जिसमें दो शब्द उसी प्रकार संबंधित हैं जैसे निम्नलिखित शब्द-जोड़ी में दो शब्द हैं

Temple : Worship / मंदिर: पूजा



- (A) School : Education/ स्कूल: शिक्षा
- (B) University : Professor / विश्वविद्यालय: प्रोफेसर
- (C) Hotel : Expenditure / होटल: व्यय
- (D) Hospital : Doctor/अस्पताल: डॉक्टर

Q.24 In a code language, PROXIMITY is written as ZQTRKAVKO. How will ILLOGICAL be written as in that language?

एक कूट भाषा में, PROXIMITY को ZQTRKAVKO लिखा जाता है। उस भाषा में ILLOGICAL कैसे लिखा जाएगा?

- (A) QNNKINCEK
- (B) QMMKIMCEK
- (C) RNNLINCEK
- (D) QNNLINBEL



Q.25 Which two numbers should be interchanged in the following equation to make it correct?

निम्नलिखित समीकरण को सही बनाने के लिए इसमें किन दो संख्याओं को आपस में बदला जाना चाहिए?

$$779 + 14 \times 21 - 532 \div 41 = 807$$



- (A) 779 and 21
- (B) 532 and 779
- (C) 21 and 41
- (D) 532 and 41



THANK YOU