



# SSC GD 2022-23



# MOST EXPECTED PAPER

**16 JAN** की सभी **SHIFT** पर आधारित

**दोपहर 03:00 बजे से लगातार**



- Statement :
- Some A are B.
- No A are B.
- All C are D.
- Conclusion:
- (I) Some A being D is a assumption.
- (II) All A being D is a given.



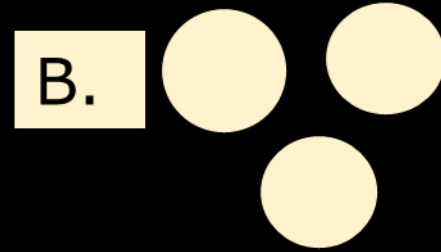
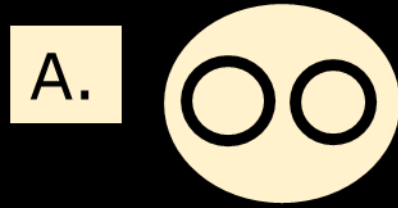




# SSC GD 2022-23



- Which of the following diagrams indicates the relationship between profit, dividend and bonus?
- निम्नलिखित में से कौन सा चित्र लाभ, लाभांश और बोनस के बीच संबंध इंगित करता है?





# SSC GD 2022-23



- Six persons A, B, C, D, E & F are standing in a circle. B is between D & C. A is between E & C. F is at the right of D. Who is between A & F?

छह व्यक्ति A, B, C, D, E और F एक वृत्त में खड़े हैं। B, D और C के बीच में है। A, E और C के बीच में है। F, D के दाईं ओर है। A और F के बीच में कौन है?



A. C

B. D

C. E

D. None of these



# SSC GD 2022-23



- Which two signs should be interchanged to make the following equation correct?
- निम्नलिखित में से कौन सा चिह्नों और संख्याओं का परस्पर विनिमय दिए गए समीकरण को सही बनाएगा?
- $18 + 12 \times 8 - 6 \div 3 = 9$



- A. + and  $\div$
- B.  $\times$  and  $\div$
- C. + and -
- D. - and  $\times$



# SSC GD 2022-23



- What was the day on 26 November 1949?
- 26 नवंबर 1949 को कौन सा दिन था?



- A. Sunday
- B. Saturday
- C. Thursday
- D. Wednesday

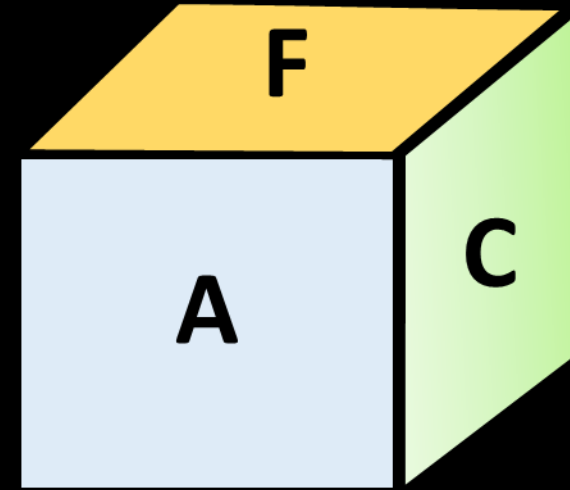
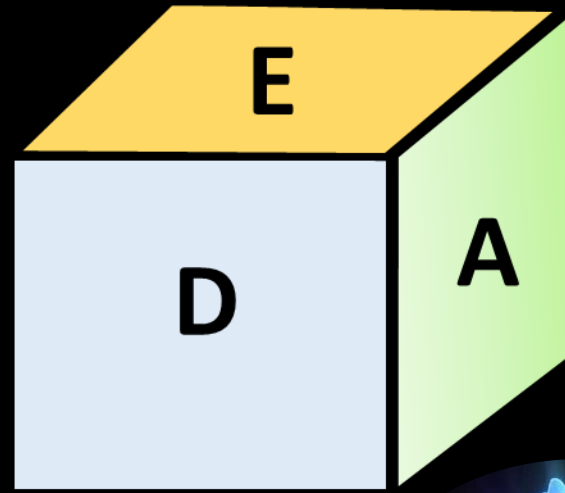
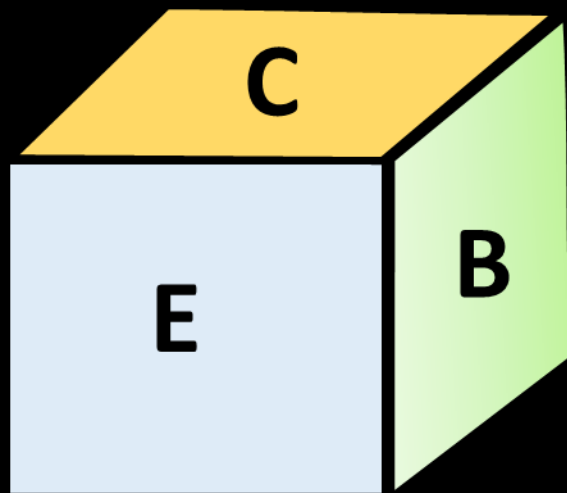


# SSC GD 2022-23



Three positions of dice are shown. What will appear on the opposite to the face containing A?

पासे की तीन स्थितियाँ दिखाई गई हैं। A वाले फलक के विपरीत क्या दिखाई देगा?



- A. C
- B. D
- C. B
- D. E





- **Statements:**

- No Spiderman is Superman. कोई स्पाइडरमैन सुपरमैन नहीं है।
- No Superman is Batman. कोई सुपरमैन बैटमैन नहीं है।
- Some Spiderman are Batman. कुछ स्पाइडरमैन बैटमैन हैं।

- **Conclusions:**

- I. No Batman is Spiderman. कोई बैटमैन स्पाइडरमैन नहीं है।
- II. No Batman is Superman. कोई बैटमैन सुपरमैन नहीं है।
- III. Some Supermen are Spiderman. कुछ सुपरमैन स्पाइडरमैन हैं।
- IV. All Batmen are Spiderman. सभी बैटमैन स्पाइडरमैन हैं।







# SSC GD 2022-23



- The age of the mother is thrice the age of her daughter. Six years ago, the age of the mother was five times that of the daughter. What was the age of the daughter 6 years ago?
- माँ की आयु उसकी पुत्री की आयु से तीन गुनी है। छः वर्ष पहले, माँ की आयु पुत्री की आयु से पाँच गुनी थी। 6 वर्ष पहले पुत्री की आयु क्या थी?



- A. 36
- B. 12
- C. 6
- D. 30



# SSC GD 2022-23



- Direction: What number will come in place of the question mark (?) in the number series in each of the following questions?
- निर्देश: निम्नलिखित दिये गये प्रत्येक प्रश्न के अंकों की श्रृंखला में प्रश्नवाचक चिह्न (?) के स्थान पर कौन-सी संख्या आएगी ?
- 14, 21, 29, 38, 48, 59, ?



A. 75

B. 71

C. 81

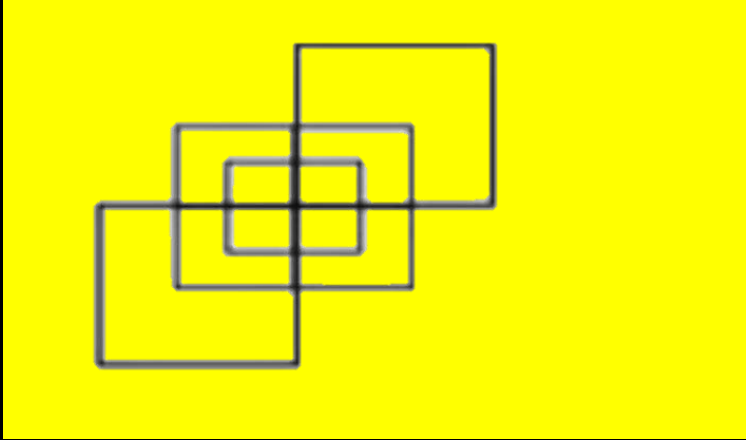
D. 79



# SSC GD 2022-23



- Find the square in this figure
- इस आकृति में वर्ग ज्ञात कीजिए



- A. 15
- B. 12
- C. 7
- D. 14



# SSC GD 2022-23



- In a certain code PERSON is coded as 724163, SHARE is coded as 18542.  
How is HERO coded in that code ?
- एक निश्चित कोड में PERSON को 724163, SHARE को 18542 के रूप में कोडित किया गया है। उस कोड में HERO को कैसे कोडित किया गया है?



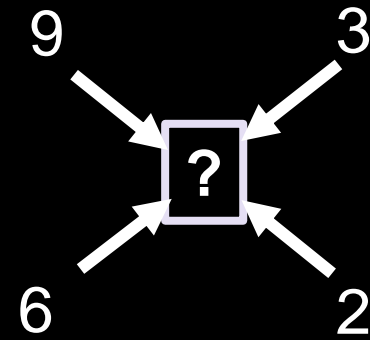
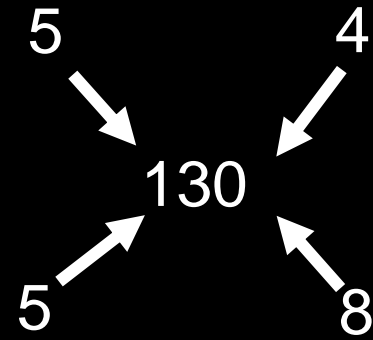
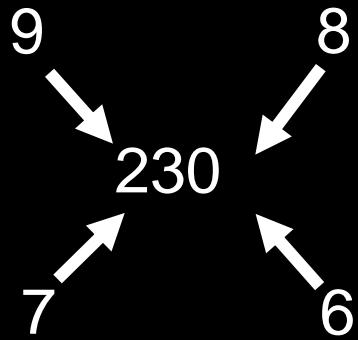
- A. 8246
- B. 8244
- C. 8264
- D. 2846



# SSC GD 2022-23



- Which number will replace the question mark ?
- प्रश्न चिन्ह के स्थान पर कौन सी संख्या आएगी ?



- A. 120
- B. 130
- C. 126
- D. 225