



14 July Reasoning Analysis

Coding Decoding	2Q
Analogy	2Q
Classification	3Q
Number Set	1Q
Series	3Q
Missing Number	3Q
Mathematical Operations	2Q
Venn Diagram	1Q
Syllogism	1Q



Reasoning Analysis

Seating Puzzle **1Q**

Blood Relations **1Q**

Dice **2Q**

Image based Series **1Q**

Mirror Image **1Q**

Embedded Figure **1Q**



Replace the question mark (?) with appropriate word from the following:

निम्नलिखित में से प्रश्नवाचक चिन्ह (?) को उपयुक्त शब्द से प्रतिस्थापित कीजिए

Cruel : Kind :: Lethargy : ?

क्रूर : दयालु :: सुस्ती : ?

- a) Sharpness / कुशाग्रता
- b) Alertness / सतर्कता
- c) Interest / दिलचस्पी
- d) Shrewdness / धूर्तता



Select the option that is related to the third letter-cluster in the same way as the second letter-cluster is related to the first letter-cluster.

उस विकल्प का चयन कीजिये जो तीसरे अक्षर-समूह से उसी प्रकार संबंधित है जैसे दूसरा अक्षर-समूह पहले अक्षर-समूह से संबंधित है।

DUST : WFHG :: BASE : ?

- a) HZHE
- b) YZHV
- c) VHZY
- d) DWES



Arrange the given words in the sequence in which they occur in the dictionary.
दिए गए शब्दों को शब्दकोश क्रम के अनुसार व्यवस्थित कीजिये।

1. Kingdom
2. Kingly
3. Kingfisher
4. Kirk
5. Kindle

- a) 5, 1, 4, 2, 3
- b) 5, 1, 4, 3, 2
- c) 5, 1, 3, 4, 2
- d) 5, 1, 3, 2, 4



Choose the correct option that will be filled in the blanks, in order to balance the following equation.

निम्न समीकरण को भरने के लिए, सही विकल्प का चयन कीजिए जो रिक्त स्थान में भरा जाएगा।

$$6 _ 8 _ 9 _ 4 _ 20 = 4$$

- a) +, +, -, -
- b) +, ÷, -, ×
- c) +, ×, -, ÷
- d) +, ×, ÷, -



Which two signs should be interchanged to make the given equation correct?

दिए गए समीकरण को सही बनाने के लिए किन दो प्रतीकों को परस्पर बदला जाना चाहिए?

$$12 \div 4 + 148 \times 4 - 18 = 67$$

- a) + and - / + और -
- b) - and \div / - और \div
- c) \times and \div / \times और \div
- d) \times and + / \times और +



Statements/कथन:

All ice are water./सभी बर्फ पानी हैं।

Some water are juice./कुछ पानी जूस हैं।

Conclusions/निष्कर्ष:

I. Some juice are not water.


II. Some juice can be ice.

1) Only I follows / केवल I अनुसरण करता है।

2) Only II follows / केवल II अनुसरण करता है।

3) Both I and II follow / I और II दोनों अनुसरण करते हैं।


4) None follows / कोई अनुसरण नहीं करता है।



If TABLE is coded as WDEOH, then the code for BOARD is

यदि TABLE को WDEOH के रूप में कूटबद्ध किया जाता है, तो BOARD के लिए कूट क्या होगा?

- a) CPBSE
- b) ERDUG
- c) ERFUH
- d) ESDVG



In a certain code language, STAR is written as 1819017 and PLANET is written as 1511013419. How will MOON be written as in that language?

एक निश्चित कूट भाषा में, STAR को 1819017 और PLANET को 1511013419 के रूप में लिखा जाता है। उस कूट भाषा में MOON को किस प्रकार लिखा जायेगा?

- 1) 12131314
- 2) 12131414
- 3) 12141413
- 4) 13121414



P % Q means P is the mother of Q, P & Q means P is the husband of Q, P @ Q means P is the sister of Q. If L % T & N, R @ T, which of the following statement is false?

P % Q का अर्थ है P, Q की माता है, P & Q का अर्थ है P, Q का पति है, P @ Q का अर्थ है P, Q की बहन है।
यदि L% T & N, R @ T है, तो निम्नलिखित में से कौन सा कथन असत्य है?

- a) L is mother of R. / L, R की माता है।
- b) T is brother of L. / T, L का भाई है।
- c) R is sister – in – law of N. / R, N की सिस्टर-इन-लॉ है।
- d) N is daughter – in – law of L. / N, L की डॉटर-इन-लॉ है।



Choose the inconsistent term from the following.
निम्नलिखित में से असंगत शब्द का चयन कीजिये।

- a) DVW
- b) GST
- c) JPQ
- d) MNK



Select the odd words from the given alternatives.
दिए गये विकल्पों में से बेजोड़ शब्द का चयन कीजिये।

- a) Catastrophe / तबाही
- b) Calamity / विपत्ति
- c) Tragedy / त्रासदी
- d) Miracle / चमत्कार



Select the odd pair from the given alternatives:
दिए गए विकल्पों में से विषम जोड़ी का चयन करें:

- a) 10-90
- b) 14-182
- c) 9-80
- d) 17-272



Choose the appropriate option to complete the following series.

निम्नलिखित श्रृंखला को पूरा करने के लिए उपयुक्त विकल्प चुनें।

123, 147, 173, 201, ?

- a) 275
- b) 298
- c) 231
- d) 248




Select the number that can replace the question mark (?) in the following series.

निम्नलिखित श्रृंखला में प्रश्न संख्या (?) को प्रतिस्थापित करने वाली संख्या का चयन करें।

23, 33, 51, 85, 143, ?

- a) 231
- b) 235
- c) 237
- d) 233




Select the number that can replace the question mark (?) in the following series.

निम्नलिखित श्रृंखला में प्रश्न संख्या (?) को प्रतिस्थापित करने वाली संख्या का चयन करें।

50, 30, 40, 75, ?

- a) 214
- b) 147
- c) 170
- d) 132



Directions: Find the missing number from the below options.

निर्देश: नीचे दिए गए विकल्पों में से लुप्त संख्या ज्ञात कीजिए।

4	6	5
7	11	8
33	85	?

- 1) 37
- 2) 46
- 3) 45
- 4) 39



Select the option in which the numbers are related in the same way as are the numbers of the following set.

उस विकल्प का चयन करें, जिसमें संख्याएँ उसी प्रकार संबंधित हैं, जिस प्रकार निम्न समुच्चय (सेट) की संख्याएँ संबंधित हैं।



(9, 12, 18)

- a) (5, 12, 24)
- b) (13, 19, 31)
- c) (21, 29, 44)
- d) (7, 13, 27)



Which of the following represents best relation between **Professors, Doctors and Men**

निम्नलिखित में से कौन प्रोफेसरों, डॉक्टरों और पुरुषों के बीच सबसे अच्छे संबंध को दर्शाता है





Thank
you!