



SSC CGL EXAM DAY- REASONING

14 July Reasoning Analysis

Coding Decoding	3Q
Analogy	2Q
Classification	2Q
Number Set	3Q
Series (Letter & Number)	1+1 Q
Missing Number	1Q
Mathematical Operations	2Q
Venn Diagram	1Q
Logical Order	1Q



SSC CGL EXAM DAY- REASONING

14 July Reasoning Analysis

Paper cutting folding	1Q
Blood Relations	1Q
Dice	1Q
Image based Series	1Q
Mirror Image	2Q
Embedded Figure	1Q
Syllogism	1Q

If in a certain code PANDEMIC is coded as OBQEFDJN, then what would be the code for ABSOLUTE?

यदि एक निश्चित कूट भाषा में PANDEMIC को OBQEFDJN के रूप में कूटबद्ध किया जाता है, तो ABSOLUTE को किस प्रकार कूटबद्ध किया जाएगा?

- a) TBPLMNGU
- b) MBLITERN
- c) WERTBHJK
- d) TCBPMFUV

Identify the odd pair of numerals among the given options.

विकल्पों में से विषम संख्याओं के युग्म को पहचानिए।

- a) 9 - 160
- b) 6 - 72
- c) 5 - 50
- d) 11 - 242

Statements:

- I. Some beds are pillows.
II. No pillow is door.

Conclusions:

- I. Some beds are doors.
II. Some beds are not doors.

- a) Only I follows / केवल I अनुसरण करता है
b) Only II follows / केवल II अनुसरण करता है
c) Both I and II follow / I और II दोनों अनुसरण करते हैं
d) Neither I nor II follows / न तो I और न ही II अनुसरण करता है

कथन:

- I. कुछ बेड तकिया हैं।
II. कोई तकिया दरवाजा नहीं है।

निष्कर्ष:

- I. कुछ बेड दरवाजा हैं।
II. कुछ बेड दरवाजा नहीं हैं।



Select the set of relationship of classes that is best represented in the Venn diagram.

उस वर्गों के संबंध के समूह का चयन कीजिये जो वेन आरेख में सबसे बेहतर रूप से दर्शाया गया है।

- a) Bulldogs, Dogs, Animals / बुलडॉग, कुत्ते, जानवर
- b) Eagle, Frog, Spider / बाज़, मेंढक, मकड़ी
- c) Temple, Mosque, Church / मंदिर, मस्जिद, चर्च
- d) Red, Pink, Black / लाल, गुलाबी, काला

In a certain code language, 'EMPTY' is written as '1026324050'. How will 'TEACH' be written as in that language?

एक निश्चित कूट भाषा में, 'EMPTY' को '1026324050' के रूप में लिखा जाता है। उस भाषा में 'TEACH' को किस प्रकार लिखा जायेगा?

- a) 50112516
- b) 40102616
- c) 30926151
- d) 240103656

Which of the following Venn diagrams best represents the classes given here?

Moong, Pulses, Food

निम्नलिखित में से कौन सा वेन आरेख यहां दी गई क्लासेज का सबसे अच्छा प्रतिनिधित्व करता है?

a)




मूंग, दालें, खाना


b)



c)



d)



Select the alternative which has the same relation to the third word as the second word is to the first word.

उस विकल्प का चयन कीजिए जिसका तीसरे शब्द से वही संबंध है, जो दूसरे शब्द का पहले शब्द से है।

Condemn : Approve :: Hinder : ?

निंदा करना : स्वीकृत करना :: बाधा डालना : ?

- a) Suppress / दबाना
- b) Stuck / अटकाना
- c) Help / सहयोग करना
- d) Block / रुकावट करना

If $A @ B$ means A is the sister of B, $A \# B$ means A is the mother of B and If $A * B$ means A is the father of B, then what does $P * Q @ R \# S$ mean?

यदि $A @ B$ का अर्थ है कि A, B की बहन है, $A \# B$ का अर्थ है कि A, B की माता है और यदि $A * B$ का अर्थ है कि A, B का पिता है, तो $P * Q @ R \# S$ का क्या अर्थ है?

- a) P is the father of S. / P, S का पिता है।
- b) P is the son of S. / P, S का पुत्र है।
- c) P is the son-in-law of S. / P, S का सन-इन-लॉ है।
- d) P is the grandfather of S. / P, S के ग्रैंडफादर है।

Select the combination of letters that when sequentially placed in the blanks of the given letter series will complete the series

अक्षरों के उस संयोजन का चयन कीजिये जो कि दी गई अक्षर श्रृंखला के रिक्त स्थानों में क्रमिक रूप से रखे जाने पर श्रृंखला को पूरा करेगा

cc_e_ _gccdeff_ _ _cd_ _fgc

- a) dffgccef
- b) eececfce
- c) cffeccef
- d) ffceefde

Select the set in which the numbers are related in the same way as are the numbers in the given set.

उस समुच्चय का चयन कीजिये जिसमें संख्याएँ उसी तरह से संबंधित हैं जिस तरह दिए गए समुच्चय में संख्याएँ संबंधित हैं।

(6, 17, 612)

a) (5, 18, 452)

b) (7, 15, 735)

c) (8, 13, 414)

d) (4, 19, 204)

What is the missing number in the following number sequence?

निम्नलिखित संख्या अनुक्रम में लापता संख्या कौन है ?

2, 9, 28, 65, ?, 217

- a) 124
- b) 144
- c) 135
- d) 126

In question given below find the odd one from the given responses.

नीचे दिए गए प्रश्न में दिए गए विकल्पों में से बेजोड़ को ज्ञात कीजिए।

- a) (FS, 1438)
- b) (EV, 1044)
- c) (WH, 4616)
- d) (PO, 3230)

Find the odd pair of words.

शब्दों की बेजोड़ जोड़ी ज्ञात कीजिए।

- a) Moon : Earth / चाँद : पृथ्वी
- b) Wheel : Axle / पहिया : धुरा
- c) Star : Galaxy / तारा : आकाशगंगा
- d) Mercury : Sun / बुध : सूर्य

Direction: The following questions, consist of two words / numbers having a certain relationship to each other, followed by same pair of words / numbers select the related pair that has the same relationship as the original pair of words.

निर्देश: निम्नलिखित प्रश्नों में दो शब्दों / संख्याओं का एक-दूसरे से एक निश्चित संबंध है, उसके बाद शब्दों / संख्याओं के समान युग्म का चयन कीजिये, जिसका संबंध मूल शब्दों के युग्म के समान है।

Pigeon : Peace :: ?

कबूतर : शांति :: ?

- a) Crown : Head / ताज : सिर
- b) White Flag : Surrender / सफेद झंडा : समर्पण
- c) Laurels : Victory / ख्याति : विजय
- d) War : Liberty / युद्ध : आजादी

Select the number which can be placed at the sign of the question mark (?) from the given alternatives.

दिए गए विकल्पों में से वह संख्या चुनिए जिसे प्रश्नवाचक चिन्ह (?) के स्थान पर रखा जा सकता है

	14	15	9
	7	5	3
a) 27			
b) 26	28	45	?
c) 24			
d) 28			

Select the option that is related to the third term in the same way as the second term is related to the first term.

उस विकल्प का चयन कीजिये जो तीसरे पद से उसी प्रकार संबंधित है जिस प्रकार दूसरा पद पहले पद से संबंधित है।

CROCIN : RCTXNI :: SIGNAL : ?

- a) ISILAL
- b) ISLLIA
- c) ISLILA
- d) IILLAS

Direction: In each of the following questions, various terms of a letter series are given with one term missing as shown by (?). Choose the missing term out of the given alternatives.

निर्देश: निम्नलिखित में से प्रत्येक प्रश्न में, एक अक्षर श्रृंखला के विभिन्न पद दिए गए हैं जिनमें से एक शब्द लुप्त है जिसे (?) द्वारा दर्शाया गया है। दिए गए विकल्पों में से लुप्त पद का चयन कीजिये।

PDJ, UEE, YGA, ?, DNV

- a) BJX
- b) CXJ
- c) BXJ
- d) XJB

Select the set in which the numbers are related in the same way as are the numbers in the given set.

उस समुच्चय का चयन कीजिये जिसमें संख्याएँ उसी तरह से संबंधित हैं जिस तरह दिए गए समुच्चय में संख्याएँ संबंधित हैं।

(21, 13, 17)

- a) (11, 21, 140)
- b) (25, 35, 38)
- c) (22, 57, 81)
- d) (32, 46, 39)

Select the option in which the numbers are related in the same way as are the numbers of the following set.

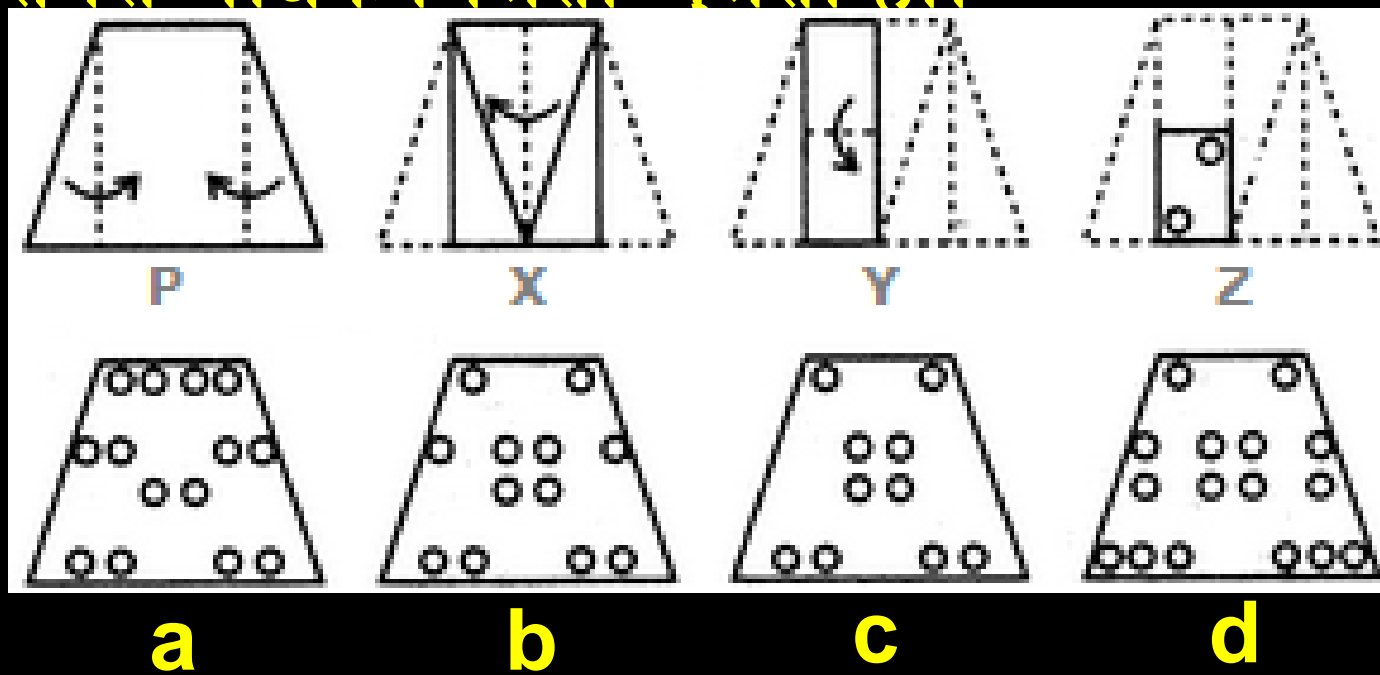
उस विकल्प का चयन करें जिसमें संख्याएँ उसी प्रकार संबंधित हैं जैसे निम्नलिखित सेट की संख्याएँ हैं।

1442 : 1339 :: 1560 : ?

- a) 1664
- b) 1236
- c) 1648
- d) 1456

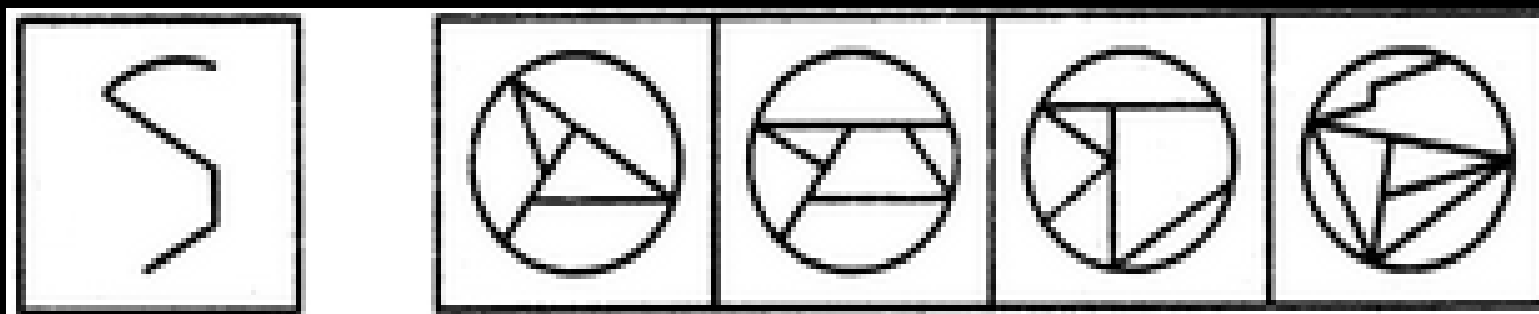
Choose a figure which would most closely resemble the unfolded form of Figure (Z)

ऐसी आकृति चुनें जो आकृति (Z) के खुले रूप से सबसे अधिक मिलती-जलती हो।



Find out the alternative figure which contains figure (X) as its part

उस वैकल्पिक आकृति को ज्ञात कीजिए जिसमें आकृति (X) भाग के रूप में शामिल है



x

a

b

c

d



SSC CGL EXAM DAY- REASONING

Thank
you!