



# SSC CGL EXAM DAY- REASONING

## 14 July Reasoning Analysis

<b>Coding Decoding</b>	<b>3Q</b>
<b>Analogy</b>	<b>2Q</b>
<b>Classification</b>	<b>2Q</b>
<b>Number Set</b>	<b>2Q</b>
<b>Series</b>	<b>2Q</b>
<b>Missing Number</b>	<b>1Q</b>
<b>Mathematical Operations</b>	<b>2Q</b>
<b>Venn Diagram</b>	<b>0Q</b>
<b>Logical Order</b>	<b>1Q</b>



# SSC CGL EXAM DAY- REASONING

## 14 July Reasoning Analysis

<b>Seating Puzzle</b>	<b>0Q</b>
<b>Blood Relations</b>	<b>1Q</b>
<b>Dice</b>	<b>1Q</b>
<b>Image based Series</b>	<b>1Q</b>
<b>Mirror Image</b>	<b>2Q</b>
<b>Embedded Figure</b>	<b>1Q</b>

Which number will replace the question mark(?) in the following?

निम्नलिखित में प्रश्न चिह्न (?) के स्थान पर कौन-सी संख्या आएगी?

75, 76, 72, 81, 65, ?

- a) 90
- b) 95
- c) 85
- d) 80

Which number will replace the question mark(?) in the following?

निम्नलिखित में प्रश्न चिह्न (?) के स्थान पर कौन-सी संख्या आएगी?

8, 40, 160, 480, 960, ?

- a) 960
- b) 1920
- c) 2880
- d) 3840

$A + B$  means 'A is husband of B'

$A - B$  means 'A is son of B'

$A \times B$  means 'A is mother of B'

$A \div B$  means 'A is sister of B'

If  $P - K + D \times S \div T$ , then how is P related to T?

$A + B$  का अर्थ है 'A, B का पति है'

$A - B$  का अर्थ है 'A, B का पुत्र है'

$A \times B$  का अर्थ है 'A, B की मां है'

$A \div B$  का अर्थ है 'A, B की बहन है'

यदि  $P - K + D \times S \div T$  है, तो P, T से किस प्रकार संबंधित है?

- a) Sister
- b) Son
- c) Brother
- d) Mother

Statements:

Some phones are keyboards/कुछ फोन कीबोर्ड हैं।

All phones are computers./सभी फोन कंप्यूटर हैं।

Conclusions:

I. Some keyboards are computers./कुछ कीबोर्ड कंप्यूटर हैं।

II. Some computers are phones./कुछ कंप्यूटर फोन हैं।

III. No keyboard is computer/कोई भी कीबोर्ड कंप्यूटर नहीं है।

- a) Only conclusion II follows
- b) Only Conclusion I and II follows
- c) Only conclusion I follows
- d) Either Conclusion I or III follows

In a code language, if 'MEAGRE' is coded as '98', then how will 'REMOTE' be coded in the same language?

एक कूट भाषा में, यदि 'MEAGRE' का कूट, '98' किया जाता है, तो उस भाषा में 'REMOTE' का कूट किस प्रकार किया जाएगा?

- a) 145
- b) 150
- c) 152
- d) 154

In a code language, 'VICIOUS' is written as 'ERXRLFH'. How will 'RADIUM' be written as in that language?

एक कूट भाषा में, 'VICIOUS' का कूट 'ERXRLFH' लिखा जाता है, तो उस भाषा में 'RADIUM' का कूच किस प्रकार लिखा जाएगा?

- a) IZWRFN
- b) HZWRGM
- c) IZCQFN
- d) IZVQFN



Select the option that is related to the third word in the same way as the second word is related to the first word.

उस विकल्प का चयन कीजिये जो तीसरे शब्द से उसी प्रकार संबंधित है जिस प्रकार दूसरा शब्द पहले शब्द से संबंधित है।

Ampere: Electric current :: Kelvin : ?

एम्पियर : विद्युत प्रवाह :: केल्विन : ?

- a) Luminosity
- b) Ammeter
- c) Pressure
- d) Temperature

Which option represents the correct order of the given words as they would appear in English dictionary?

उस विकल्प का चयन कीजिये जो अंग्रेजी शब्दकोश के क्रमानुसार दिए गए शब्दों के सही क्रम को दर्शाता है?

1. Tentative
2. Tenderer
3. Tenant
4. Tendency
5. Tentacle

- a) 3, 4, 2, 1, 5
- b) 3, 2, 4, 5, 1
- c) 3, 4, 2, 5, 1
- d) 4, 3, 2, 5, 1

Which two signs and two numbers should be interchanged to make the given equation correct?

दिए गए समीकरण को सही बनाने के लिए कौन से दो चिन्हों और दो संख्याओं को परस्पर बदला जाना चाहिए?

$$81 + 15 \div 5 - 23 \times 27 = 95$$

- a) 27 and 81, + and  $\times$
- b) 81 and 23,  $\div$  and  $\times$
- c) 81 and 27,  $\div$  and -
- d) 5 and 23, + and  $\div$

Which letter cluster will replace the question mark (?) to complete the given series?

दी गई श्रृंखला को पूरा करने के लिए कौन-सा अक्षर समूह प्रश्न चिह्न (?) के स्थान पर रखा जा सकता है?

EFFECT, GHFECT, GHHGCT, ?

- a) GHHGEV
- b) GHHGFU
- c) GHJIFU
- d) GHJIEU

Select the option that is related to the third number in the same way as the second number is related to the first number.

उस विकल्प का चयन कीजिये जो तीसरी संख्या से उसी प्रकार संबंधित है जिस प्रकार दूसरी संख्या पहली संख्या से संबंधित है।

17 : 204 :: 21 : ?

- a) 251
- b) 250
- c) 252
- d) 253

'Starvation' is related to 'FOOD' in the same way as 'Injustice' is related to '\_\_\_\_\_'.  
'भुखमरी' उसी प्रकार 'भोजन' से संबंधित है जिस प्रकार 'अन्याय' '\_\_\_\_\_ ' से संबंधित है।

- 1) Fairness / निष्पक्षता
- 2) Court / न्यायालय
- 3) Resources / साधन
- 4) Judge / न्यायाधीश

In a certain Code language STATES is coded as CSTPHR then what will be code for UNITED?

एक निश्चित कोड भाषा में STATES को CSTPHR के रूप में कोड किया जाता है तो UNITED को क्या कोड किया जाएगा?

- a) VMKRHA
- b) KMAVHR
- c) RHAVMK
- d) KMVAHR

Which letter cluster will replace the question mark (?) to complete the given series?

दी गई श्रृंखला को पूरा करने के लिए कौन-सा अक्षर समूह प्रश्न चिह्न (?) का स्थान लेगा?

PZQC, TDMY, XHIU, ?

- a) BLEQ
- b) BKEP
- c) CLDQ
- d) CKDP



Choose the alternative which is closely resembles the mirror image of the given combination ?

वह विकल्प चुनें जो दिए गए संयोजन की दर्पण छवि से काफी मिलता-जुलता हो?

NATIONAL

(1) JANOILAI

(2) JANOITAI

(3) JANOITAI

(4) LANOITAI

- a) 1
- b) 2
- c) 3
- d) 4



# SSC CGL EXAM DAY- REASONING

Find the missing number

7	8	9
3	6	7
80	?	64

- a) 55
- b) 53
- c) 56
- d) 51



# SSC CGL EXAM DAY- REASONING

Find the missing number

0      -1      -2

2      1      0

1      ?      -1

- a) 01
- b) -2
- c) -1
- d) 00

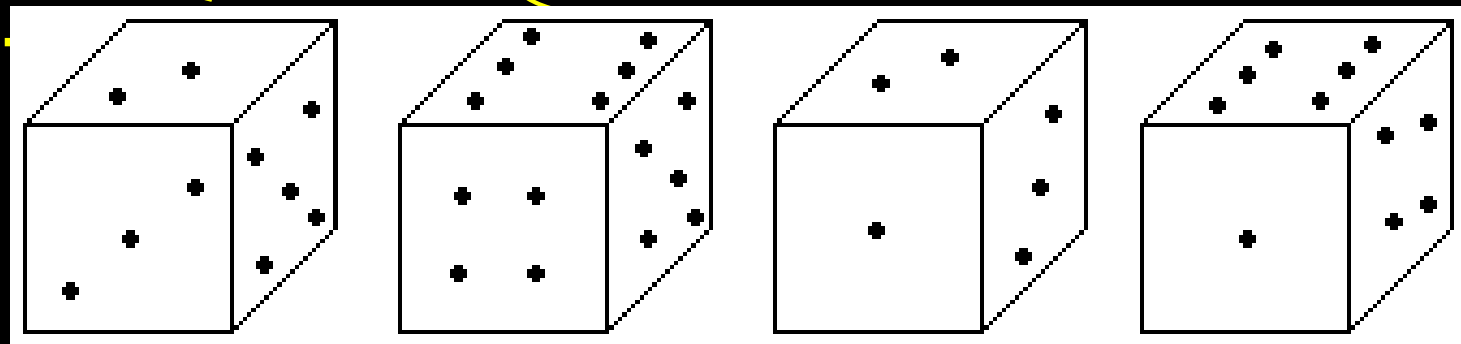
Choose the odd one out.

विषम चुनें।

- a) 16 - 56
- b) 32 - 30
- c) 12 - 12
- d) 41 - 25

Which symbol will be on the face opposite to the face with symbol 5 ?

+ चिह्न वाले चेहरे के विपरीत फलक पर कौन सा




- a) 1
- b) 5
- c) 4
- d) 6

Which of the following represents best relation between Teacher, Parent, Guardian

निम्नलिखित में से कौन शिक्षक, माता-पिता, अभिभावक के बीच सबसे अच्छे संबंध को दर्शाता है


a)




b)



c)

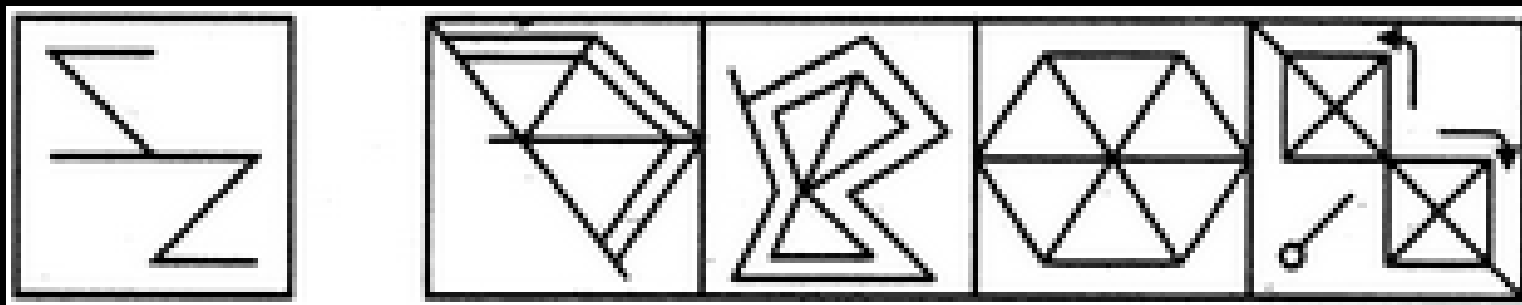


d)



Find out the alternative figure which contains figure (X) as its part

उस वैकल्पिक आकृति को ज्ञात कीजिए जिसमें आकृति (X) भाग के रूप में शामिल है



x

a

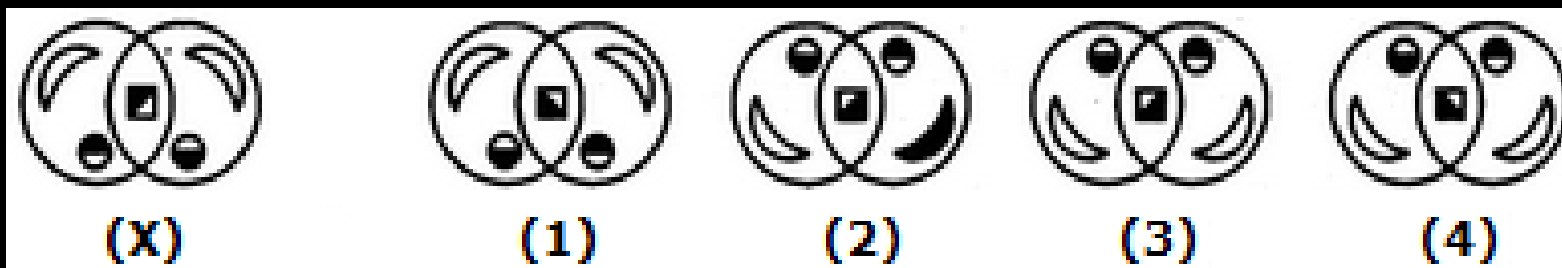
b

c

d

Find out the alternative figure which contains figure (X) as its part

उस वैकल्पिक आकृति को ज्ञात कीजिए जिसमें आकृति (X) भाग के रूप में शामिल है



(X)

(1)

(2)

(3)

(4)

x

a

b

c

d





# SSC CGL EXAM DAY- REASONING

Thank  
you!