



MISSION SSC 2023



TARGET: CGL • CHSL • MTS • CPO

REASONING

DICE

(BASIC CONCEPTS & TRICKS)

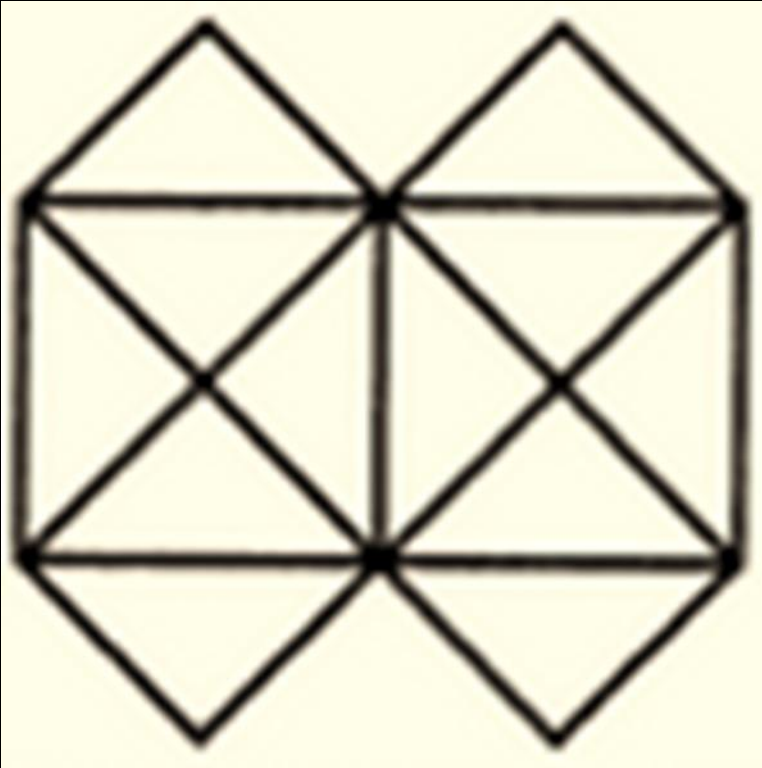


BY MANDEEP MAHENDRAS

(((•))) LIVE | 05:30 PM



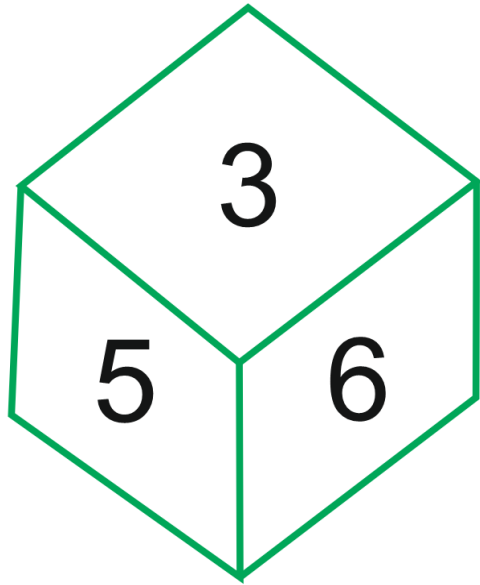
- Find minimum number of straight lines in figure?
- आकृति में सीधी रेखाओं की न्यूनतम संख्या ज्ञात कीजिए?



- A. 11
- B. 13**
- C. 15
- D. 19



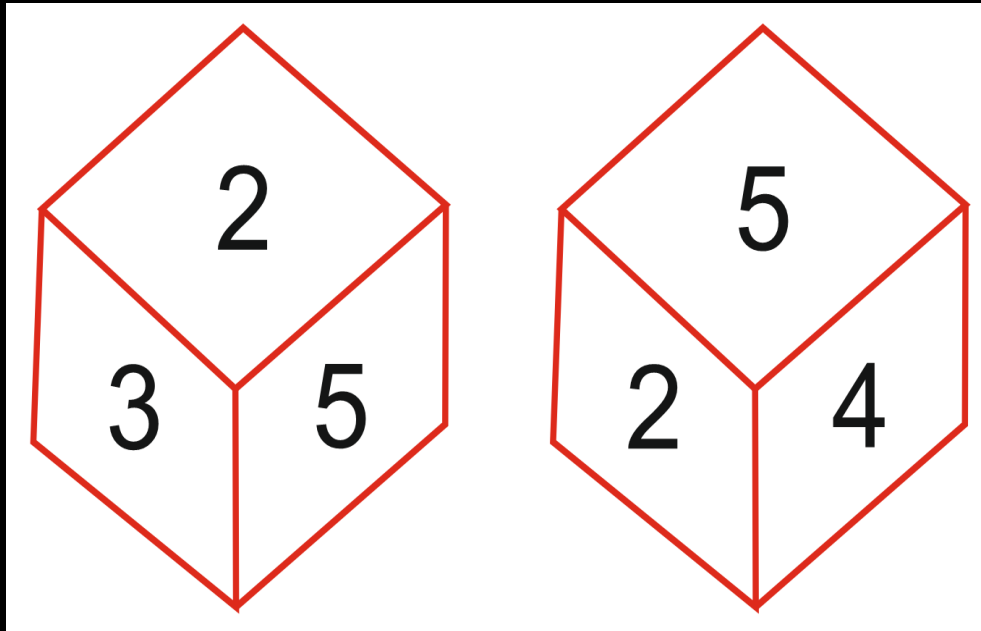
- Which number is in opposite plane of 3?
- कौन सी संख्या 3 के विपरीत तल में है?



- A. 2
- B. 4
- C. 1
- D. None



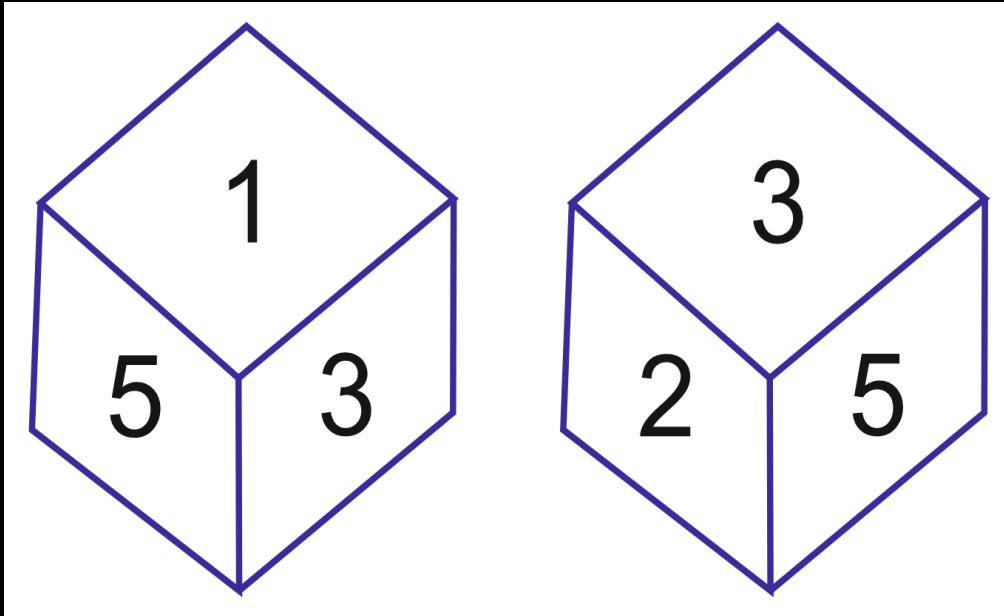
- Which number is in opposite plane of 3?
- कौन सी संख्या 3 के विपरीत तल में है?



- A. 1
- B. 4
- C. 6
- D. 5



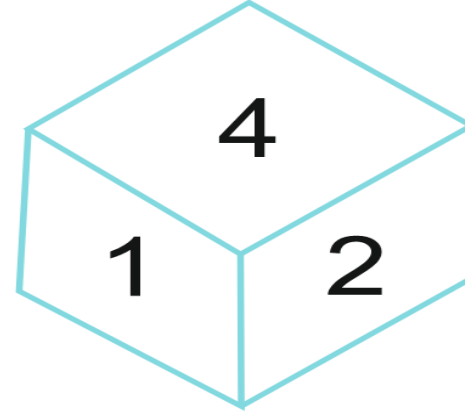
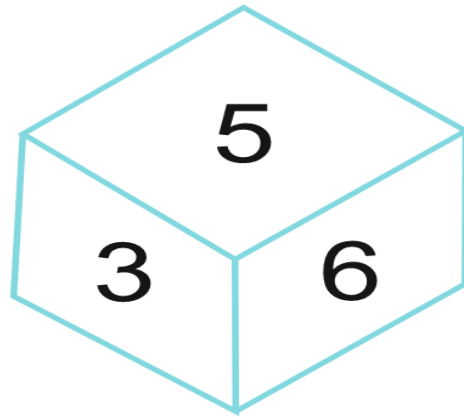
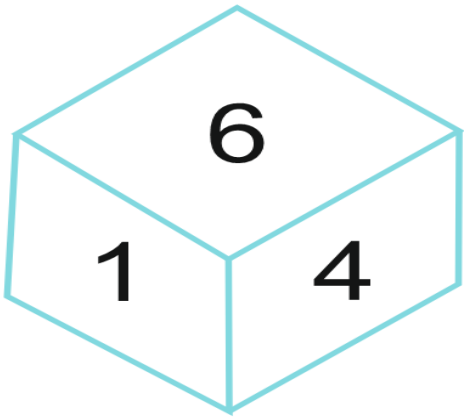
- Which number is in opposite plane of 2?
- कौन सी संख्या 2 के विपरीत तल में है?



- A. 1
B. 4
C. 6
D. 2



- If number 2 is in bottom, then which number is on top?
- यदि अंक 2 तल में है, तो शीर्ष पर कौन-सा अंक है?



A. 5

B. 3

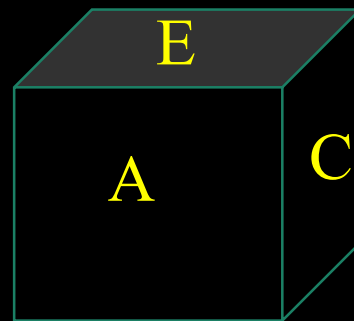
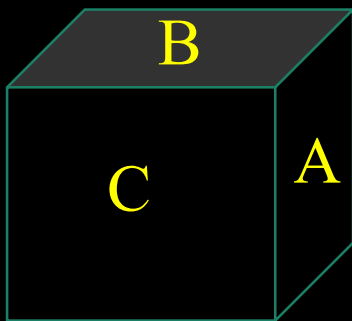
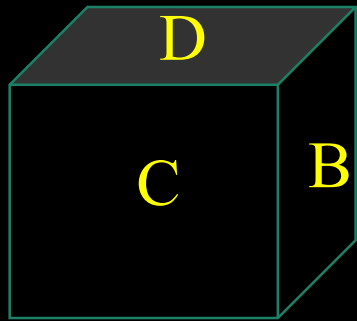
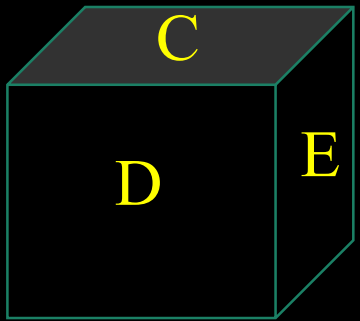
C. 1

D. 6





- Four positions of dice are given below. Which letter will be opposite to D ?
- पासों की चार स्थितियाँ नीचे दी गई हैं। D के विपरीत कौन सा अक्षर होगा?

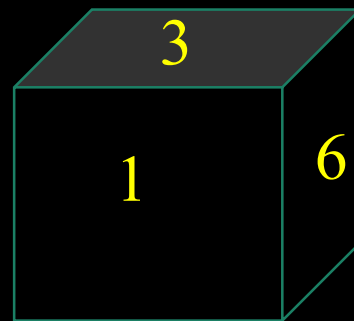
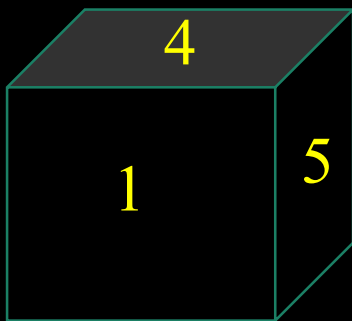
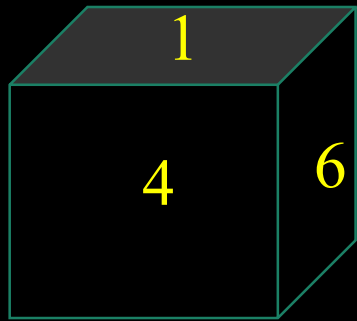
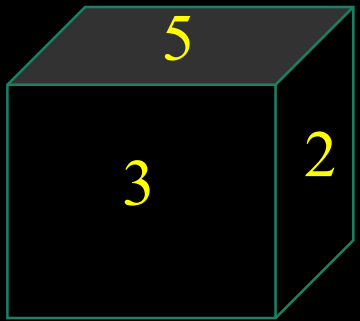


1. B
2. C
3. D
4. A





- Four positions of dice are given below. Which letter will be opposite to 1 ?
- पासों की चार स्थितियाँ नीचे दी गई हैं। 1 के विपरीत कौन सा अक्षर होगा?



1. 6

2. 3

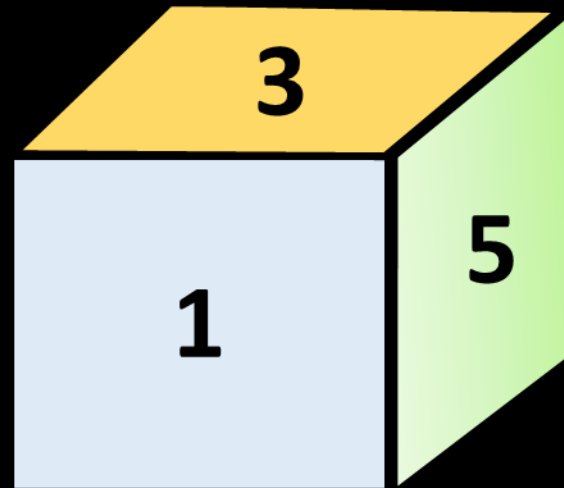
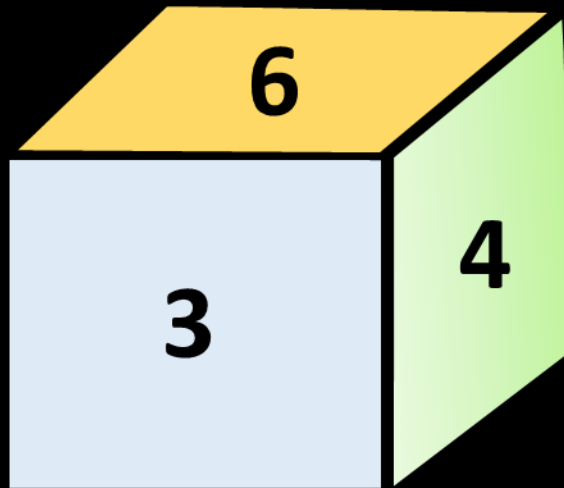
3. 2

4. 5





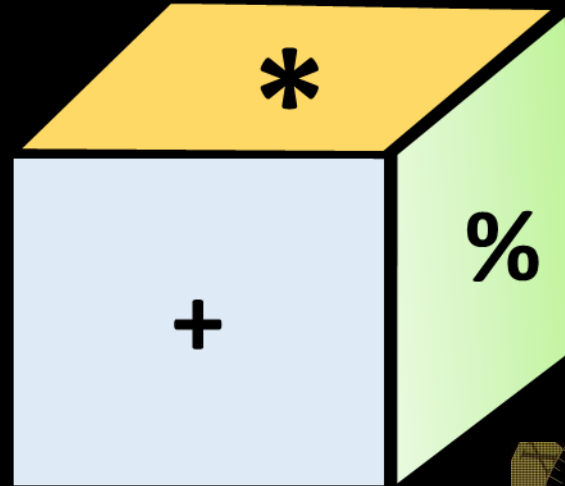
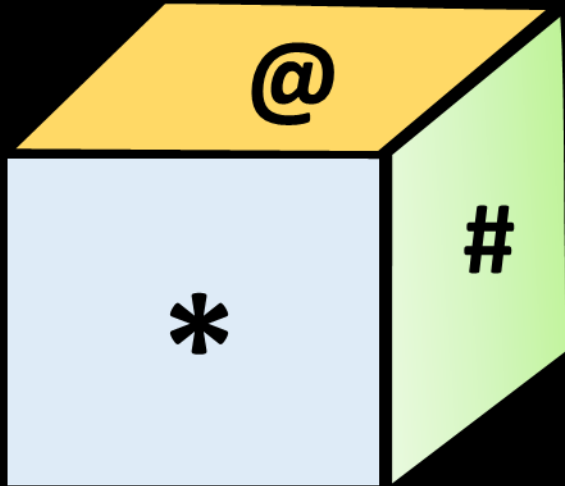
- Two positions of dice are shown then find out what will happen on the opposite side of 3?
- पासा की दो स्थितियां दिखाई गई है तो ज्ञात कीजिए की 3 के विपरीत सतह पर क्या होगा?



- 1. 3
- 2. 1
- 3. 2
- 4. 4



- Two positions of the dice are shown then find out what will happen on the surface opposite to *?
- पासा की दो स्थितियां दिखाई गई है तो ज्ञात कीजिए की * के विपरीत सतह पर क्या होगा?

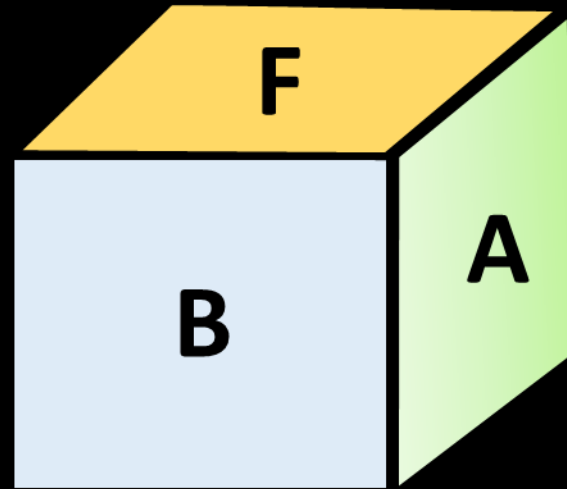
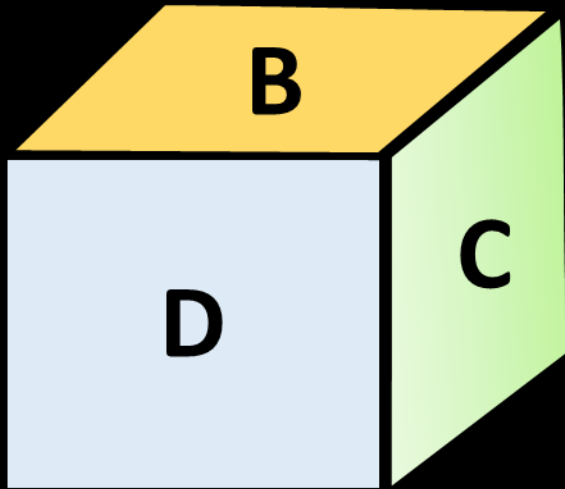


1. @
2. %
3. \$
4. Cannot decide





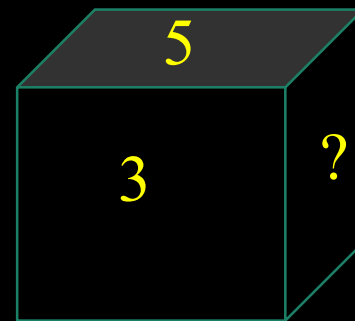
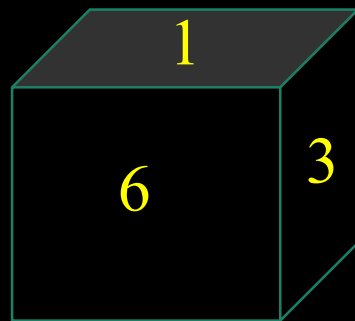
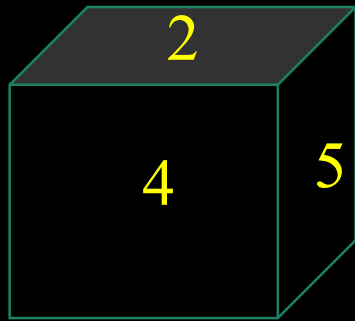
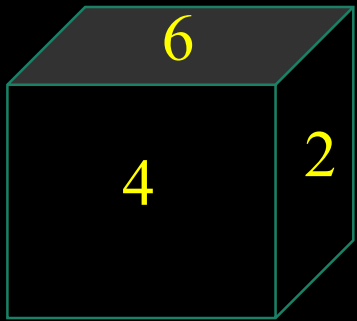
- Two positions of dice are shown from A to F then find what will be on the opposite side of B?
- पासों की दो स्थितियाँ A से F तक दर्शाई गई हैं तो ज्ञात कीजिए कि B के विपरीत दिशा में क्या होगा?



1. F
2. E
3. C
4. CND



- Four positions of dice are given below. What is the missing number.
- पासों की चार स्थितियाँ नीचे दी गई हैं। लुप्त संख्या क्या है।



A. 1

B. 3

C. 2

D. CND



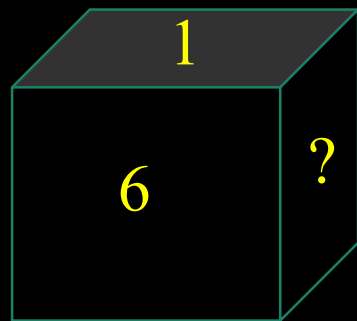
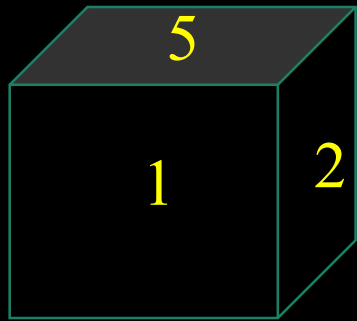
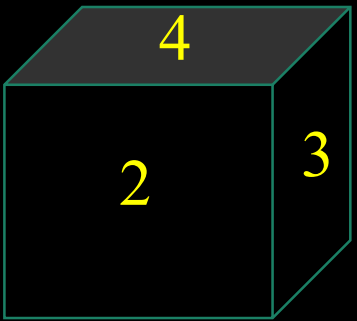


MISSION SSC 2023

REASONING



- Three positions of dice are given below. What is the missing number.
- पासों की तीन स्थितियाँ नीचे दी गई हैं। लुप्त संख्या क्या है।



- A. 2
- B. 3
- C. 4
- D. 5

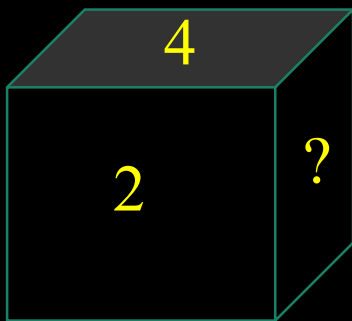
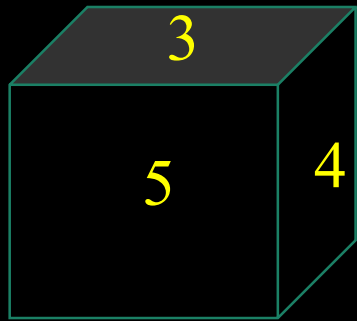
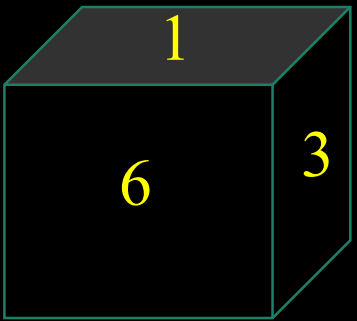


MISSION SSC 2023

REASONING



- Three positions of dice are given below. What is the missing number.
- पासों की तीन स्थितियाँ नीचे दी गई हैं। लुप्त संख्या क्या है।



- A. 1
B. 3
C. 6
D. 5

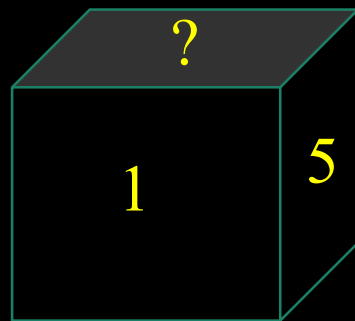
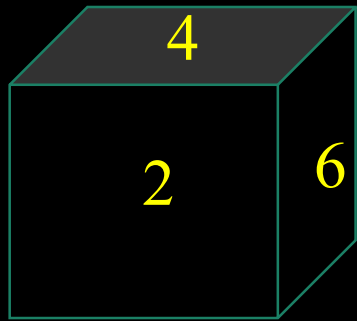
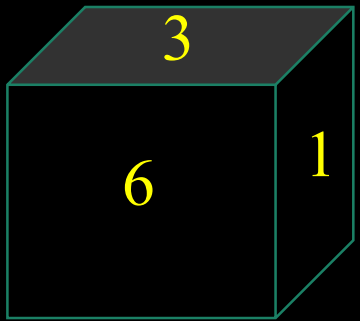


MISSION SSC 2023

REASONING



- Three positions of dice are given below. What is the missing number.
- पासों की तीन स्थितियाँ नीचे दी गई हैं। लुप्त संख्या क्या है।



A. 3

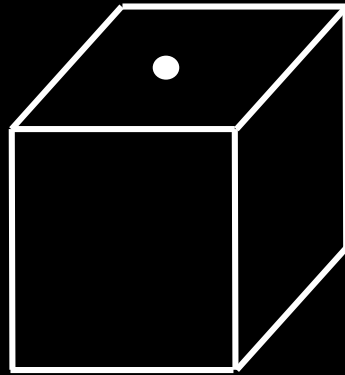

B. 2

C. 6


D. 4




- In each of the following questions, a cube is formed when the figure given on the left hand side is closed. Choose the option made up of options (1), (2), (3) and (4) from the picture?
- निम्नलिखित में से प्रत्येक प्रश्न में बाएं हाथ की ओर दिए गए चित्र को बंद करने पर एक घन बनता है। विकल्प (1), (2), (3) और (4) चित्र से बने विकल्प को चुनें?




1



2





3



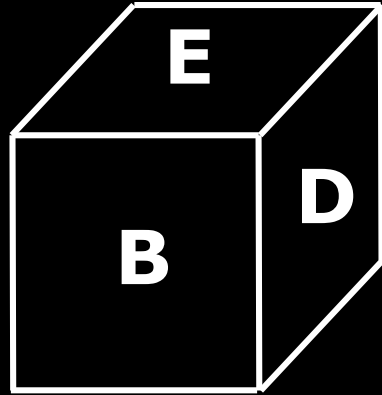
4



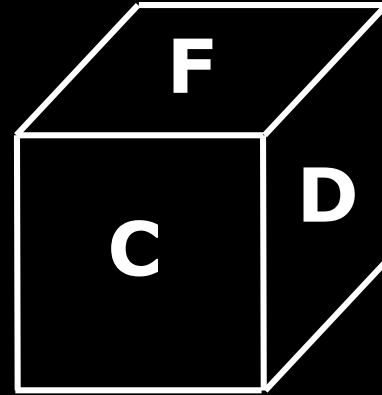
- In each of the following questions, a cube is formed when the figure given on the left hand side is closed. Choose the option made up of options (1), (2), (3) and (4) from the picture?
- निम्नलिखित में से प्रत्येक प्रश्न में बाएं हाथ की ओर दिए गए चित्र को बंद करने पर एक घन बनता है। विकल्प (1), (2), (3) और (4) चित्र से बने विकल्प को चुनें?



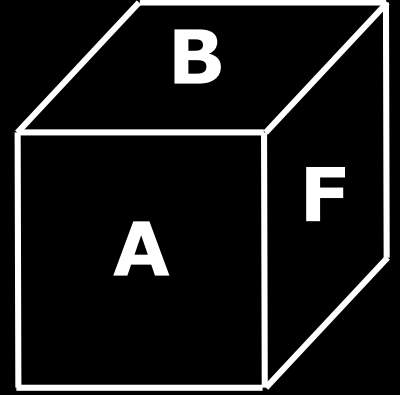
1



2



3


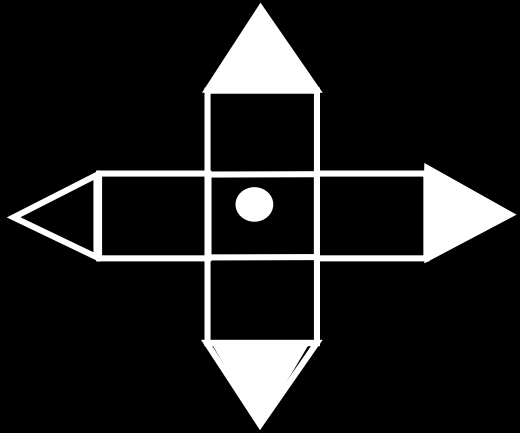


4

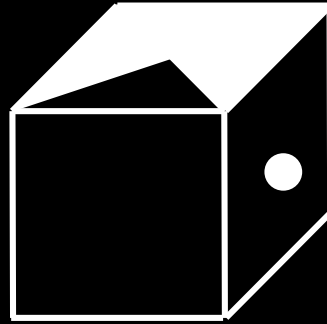




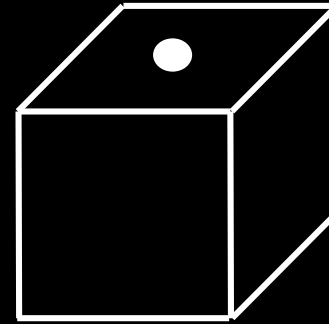
- In each of the following questions, a cube is formed when the figure given on the left hand side is closed. Choose the option made up of options (1), (2), (3) and (4) from the picture?
- निम्नलिखित में से प्रत्येक प्रश्न में बाएं हाथ की ओर दिए गए चित्र को बंद करने पर एक घन बनता है। विकल्प (1), (2), (3) और (4) चित्र से बने विकल्प को चुनें?




1



2



3



4

