

मिशन STATE 2023

REASONING

आकृति गिनना (COUNTING FIGURES)

UPSSSC VDO पर आधारित
पिछली परीक्षा में पूछे गए प्रश्न

BY REASONING GURU



● LIVE

05:00 PM





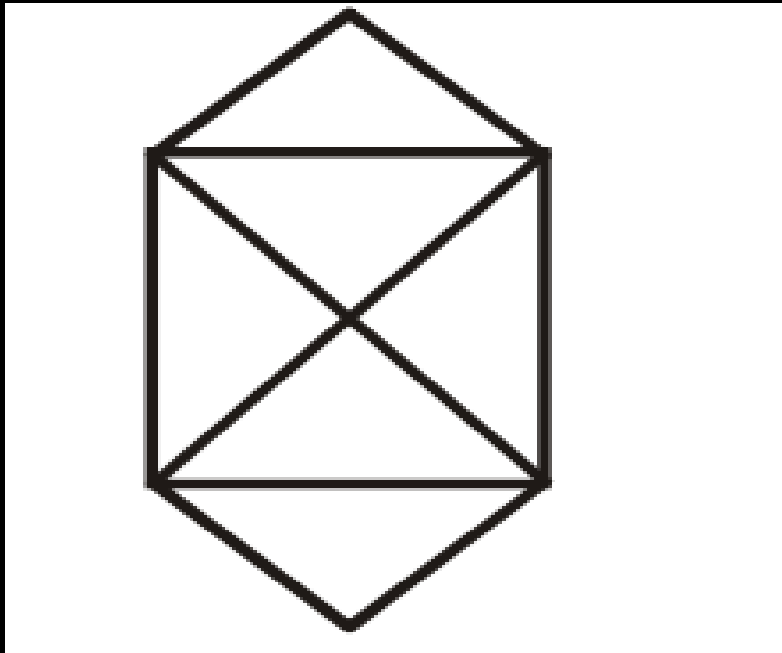
मिशन STATE 2023



Q.1 दी गई आकृति में कितने त्रिभुज हैं?

HOW MANY TRIANGLES ARE THERE IN THE GIVEN FIGURE?

(UPSSSC VDO 2018)



(A) 6

(B) 8

(C) 10

(D) 12



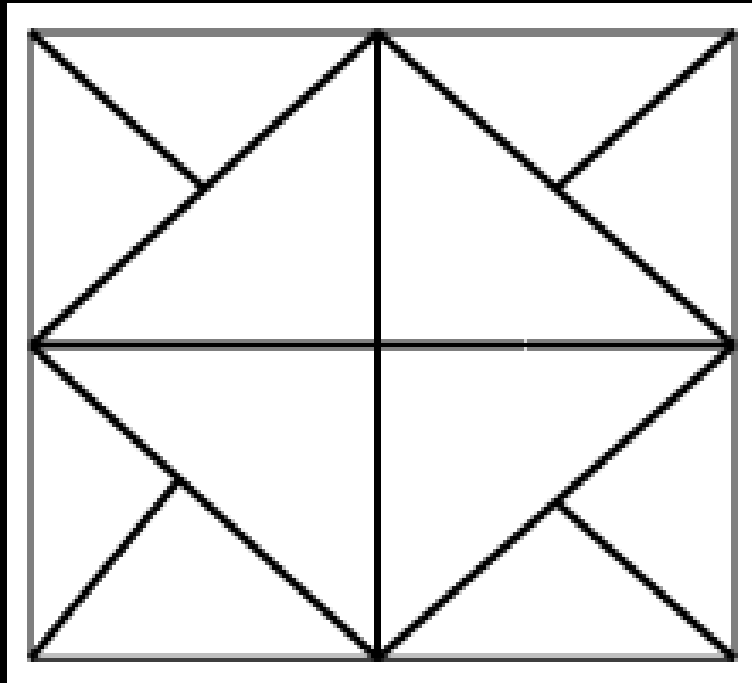


मिशन STATE 2023



Q.2 दी गई आकृति में कितने त्रिभुज हैं?

HOW MANY TRIANGLES ARE THERE IN THE GIVEN FIGURE?



(UPSSSC VDO 2015)

(A) 12

(B) 16

(C) 18

(D) 20



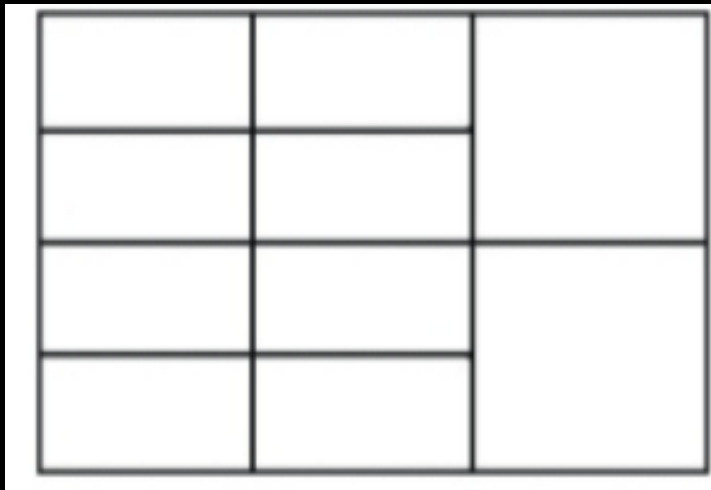


मिशन STATE 2023



Q.3 इस आकृति में कितने आयत हैं?

HOW MANY RECTANGLES ARE THERE IN THIS FIGURE?



(UPSSSC VDO 2016)

(A) 20

(B) 22

(C) 27

(D) 29

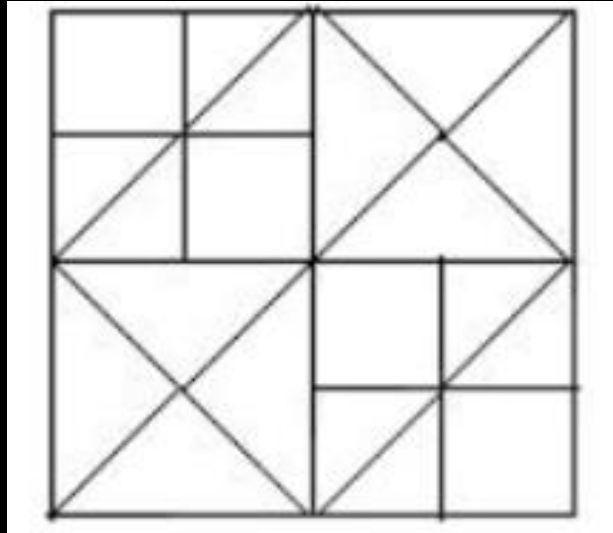




Q. इस आकृति में कितने वर्ग हैं?

4 HOW MANY SQUARES ARE THERE IN THIS FIGURE?

(UP POLICE 2019)



(A) 12

(B) 16

(C) 13

(D) 14

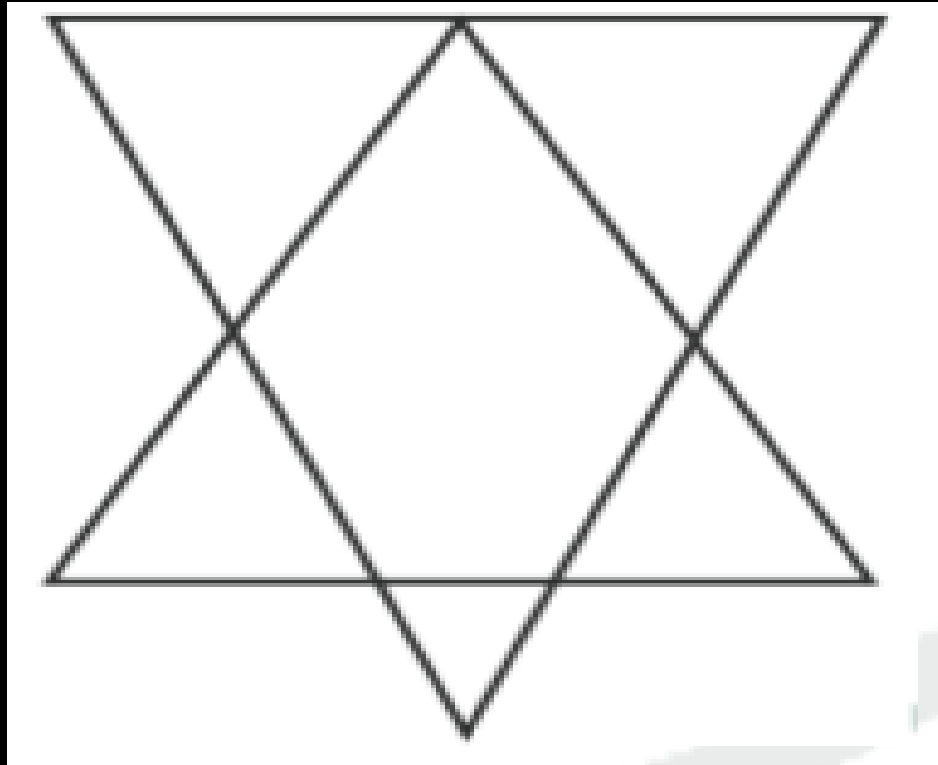




Q.5 इस आकृति में कितने त्रिभुज हैं?

HOW MANY TRIANGLES ARE THERE IN THIS FIGURE?

(UPSSSC VDO 2016)



(A) 5

(B) 7

(C) 8

(D) 10





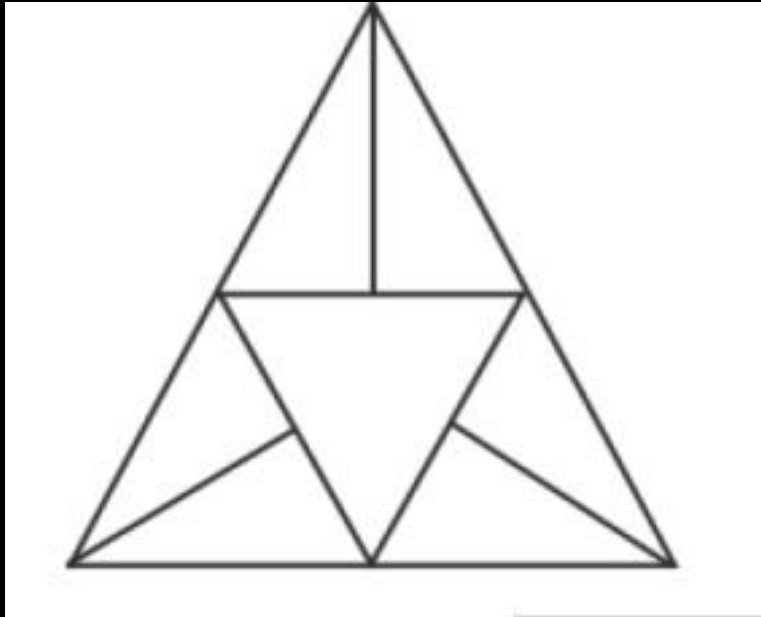
मिशन STATE 2023



Q. 6 इस आकृति में कितने त्रिभुज हैं?

HOW MANY TRIANGLES ARE THERE IN THIS FIGURE?

(UPSSSC VDO 2016)



(A) 10

(B) 11

(C) 12

(D) 14



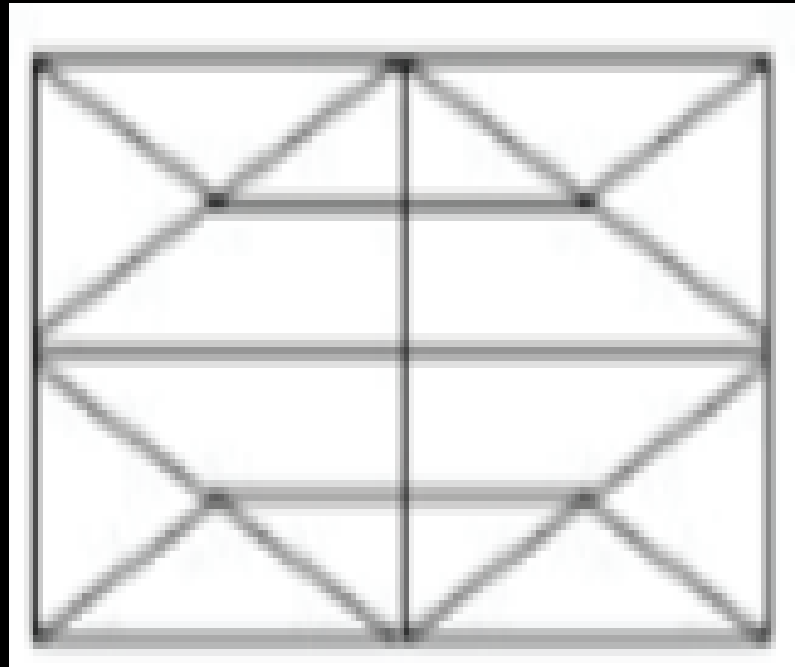


मिशन STATE 2023



Q.7 इस आकृति में कितने त्रिभुज हैं?

HOW MANY TRIANGLES ARE THERE IN THIS FIGURE?



(UP POLICE 2019)

(A) 27

(B) 26

(C) 20

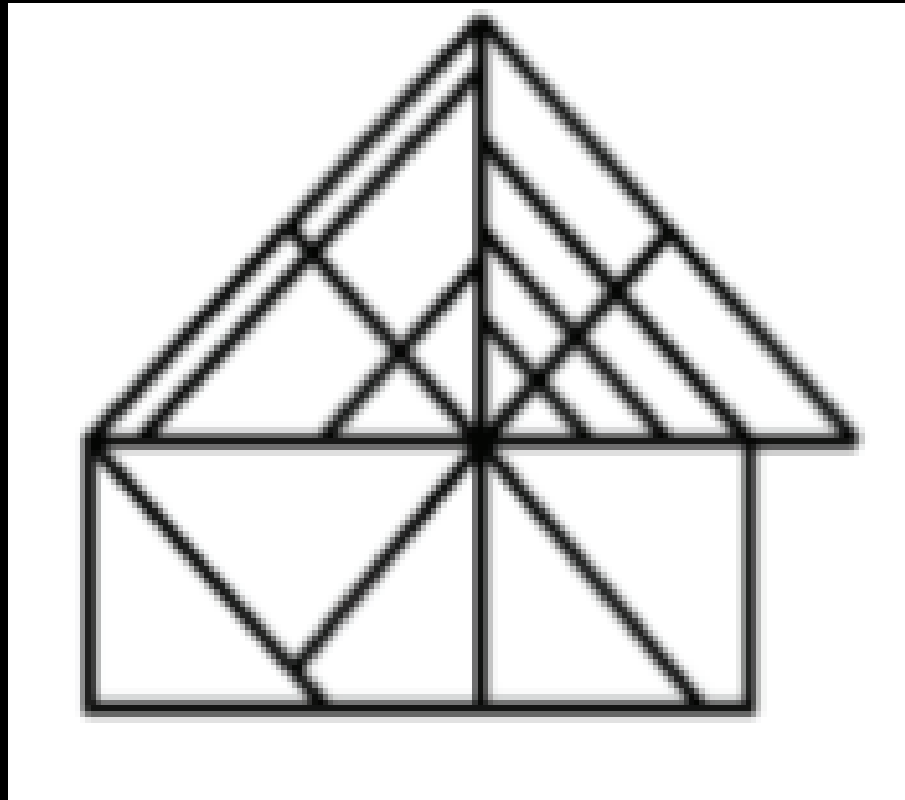
(D) 24





Q.8 इस आकृति में कितने त्रिभुज हैं?

HOW MANY TRIANGLES ARE THERE IN THIS FIGURE?



(UPSSSC VDO 2016)

(A) 27

(B) 26

(C) 24

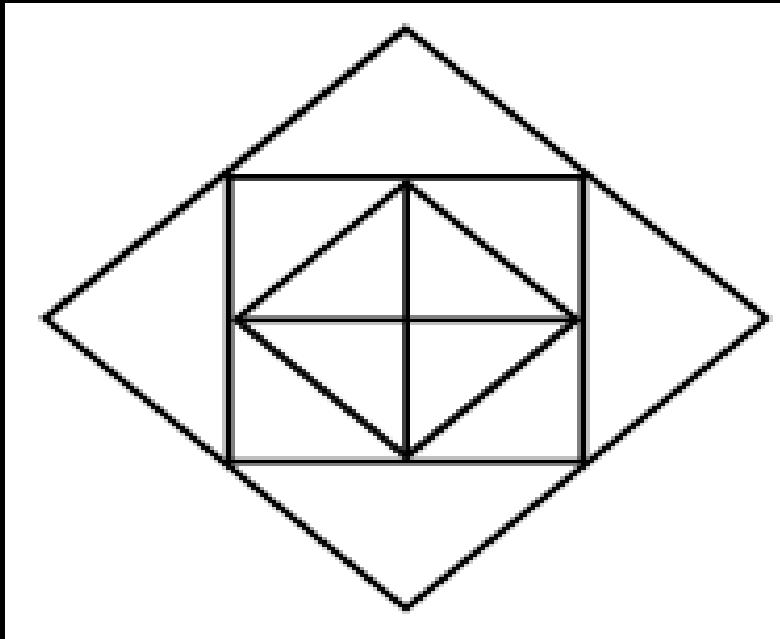
(D) 25





Q.9 इस आकृति में कितने त्रिभुज हैं?

HOW MANY TRIANGLES ARE THERE IN THIS FIGURE?



(UP CONSTABLE 2019)

(A) 12

(B) 16

(C) 9

(D) 9

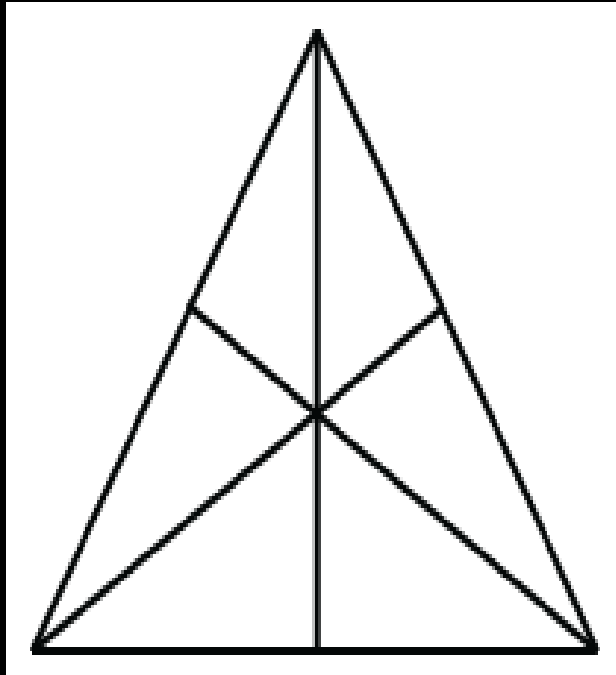




Q.10 इस आकृति में कितने त्रिभुज हैं?

HOW MANY TRIANGLES ARE THERE IN THIS FIGURE?

(UPSSSC VDO 2016)



(A) 6

(B) 10

(C) 12

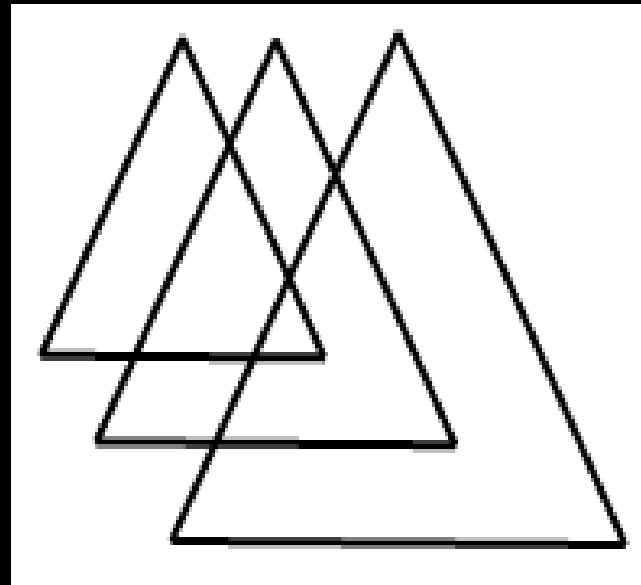
(D) 16





Q.11 इस आकृति में कितने त्रिभुज हैं?

HOW MANY TRIANGLES ARE THERE IN THIS FIGURE?



(UP POLICE 2019)

(A) 6

(B) 10

(C) 12

(D) 16

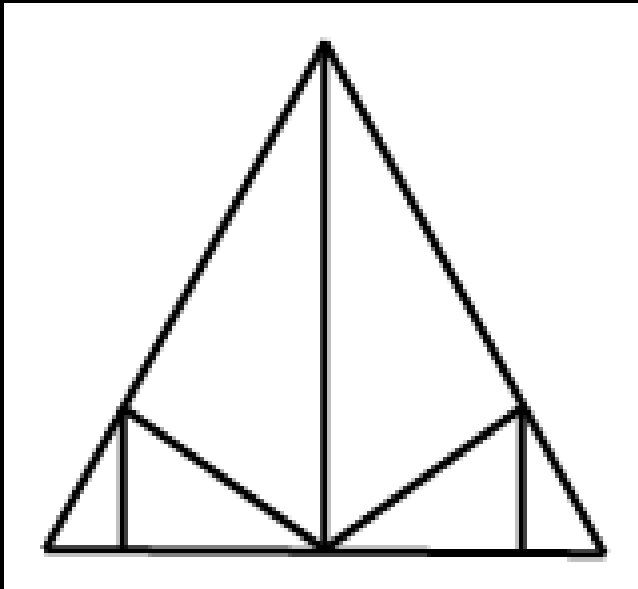




Q.12 इस आकृति में कितने त्रिभुज हैं?

HOW MANY TRIANGLES ARE THERE IN THIS FIGURE?

(UP CONSTABLE 2019)



(A) 10

(B) 11

(C) 12

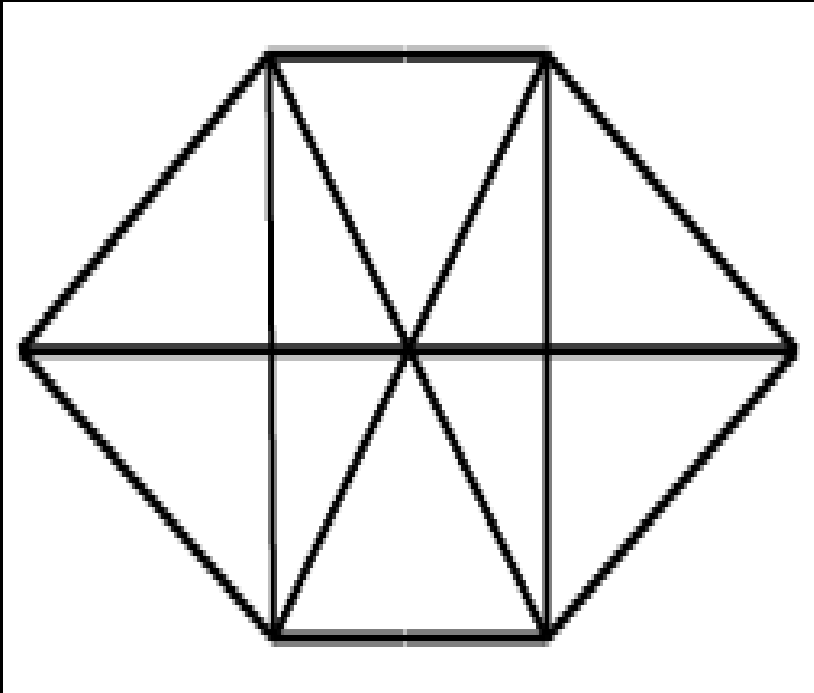
(D) 13





Q.13 इस आकृति में कितने त्रिभुज हैं?

HOW MANY TRIANGLES ARE THERE IN THIS FIGURE?



(UP CONSTABLE 2019)

(A) 16

(B) 20

(C) 22

(D) 24

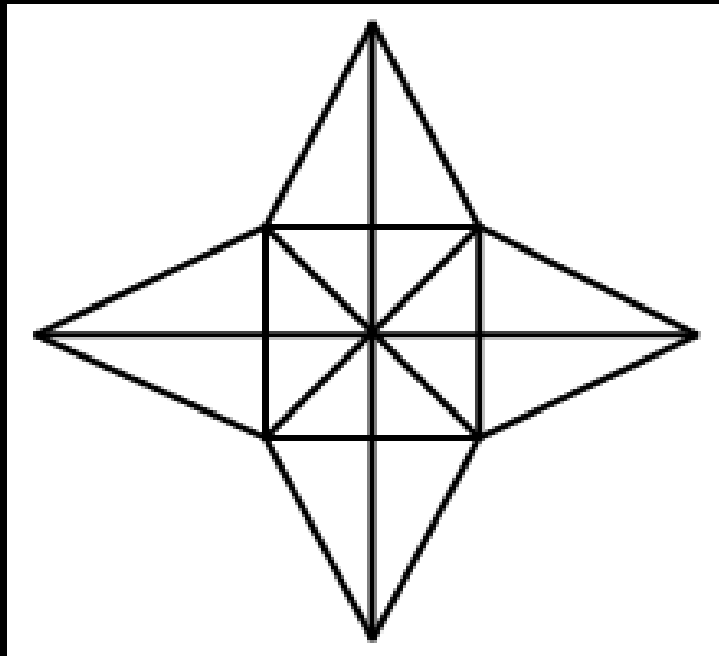




Q.14 इस आकृति में कितने त्रिभुज हैं?

HOW MANY TRIANGLES ARE THERE IN THIS FIGURE?

(UP POLICE 2016)



(A) 28

(B) 36

(C) 40

(D) 48

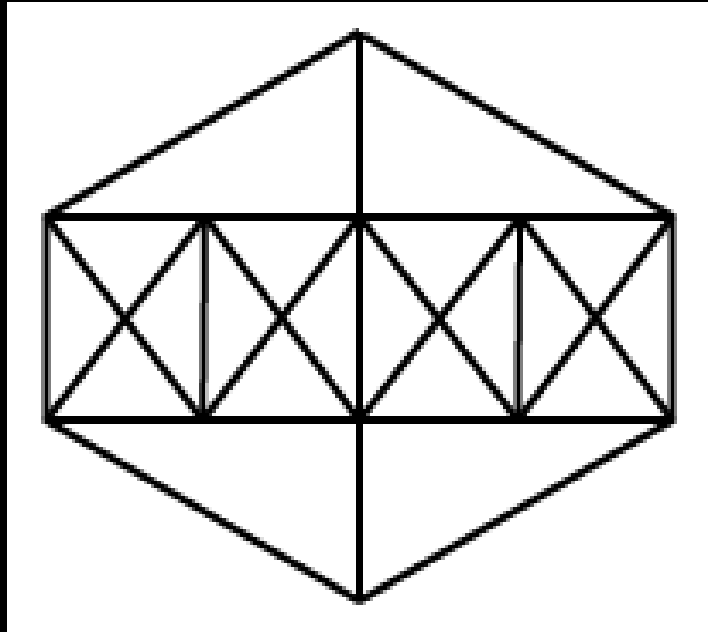




Q.15 इस आकृति में कितने त्रिभुज हैं?

HOW MANY TRIANGLES ARE THERE IN THIS FIGURE?

(UPSSSC VDO 2016)



(A) 38

(B) 44

(C) 46

(D) 54

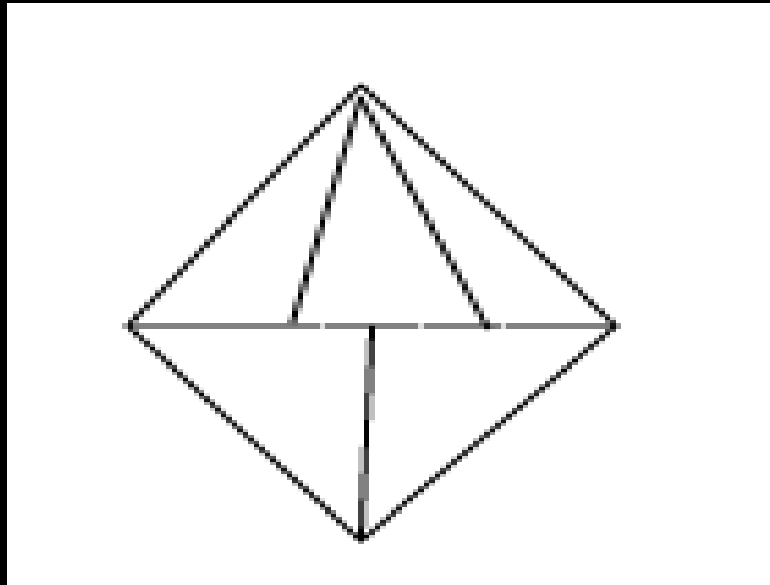




Q.16 इस आकृति में कितने त्रिभुज हैं?

HOW MANY TRIANGLES ARE THERE IN THIS FIGURE?

(UPSSSC VDO 2016)



(A) 8

(B) 9

(C) 10

(D) 12





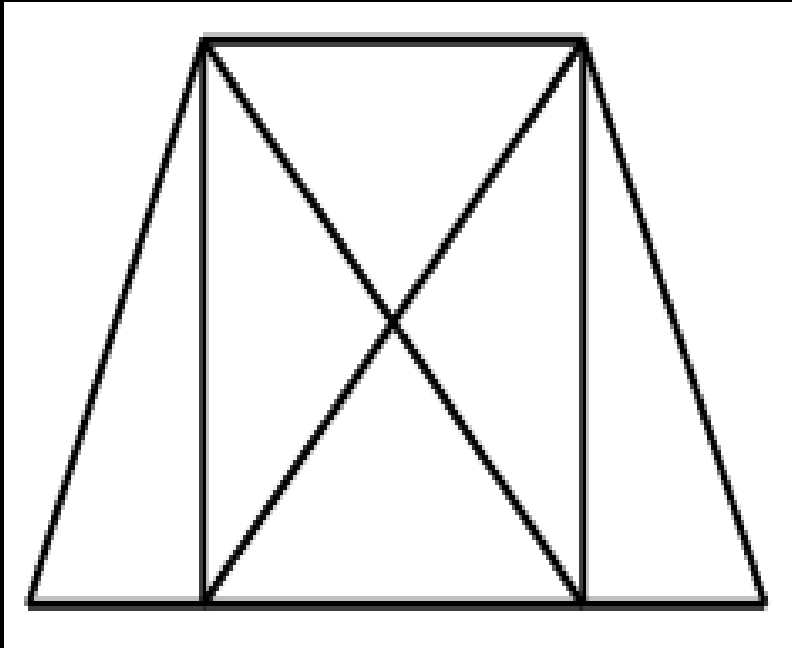
मिशन STATE 2023



Q.17 इस आकृति में कितने त्रिभुज हैं?

HOW MANY TRIANGLES ARE THERE IN THIS FIGURE?

(UP POLICE 2017)



(A) 8

(B) 9

(C) 10

(D) 12

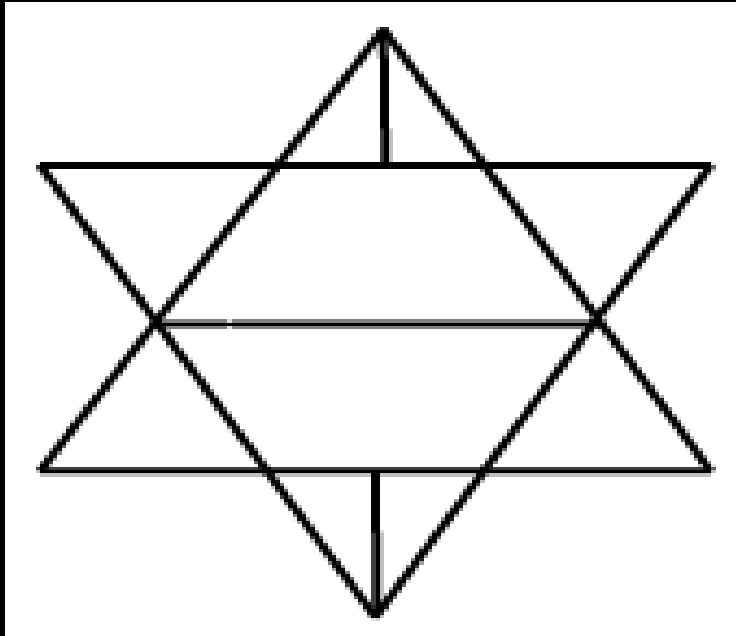




Q.18 इस आकृति में कितने त्रिभुज हैं?

HOW MANY TRIANGLES ARE THERE IN THIS FIGURE?

(UPSSSC VDO 2016)



(A) 10

(B) 12

(C) 14

(D) 16





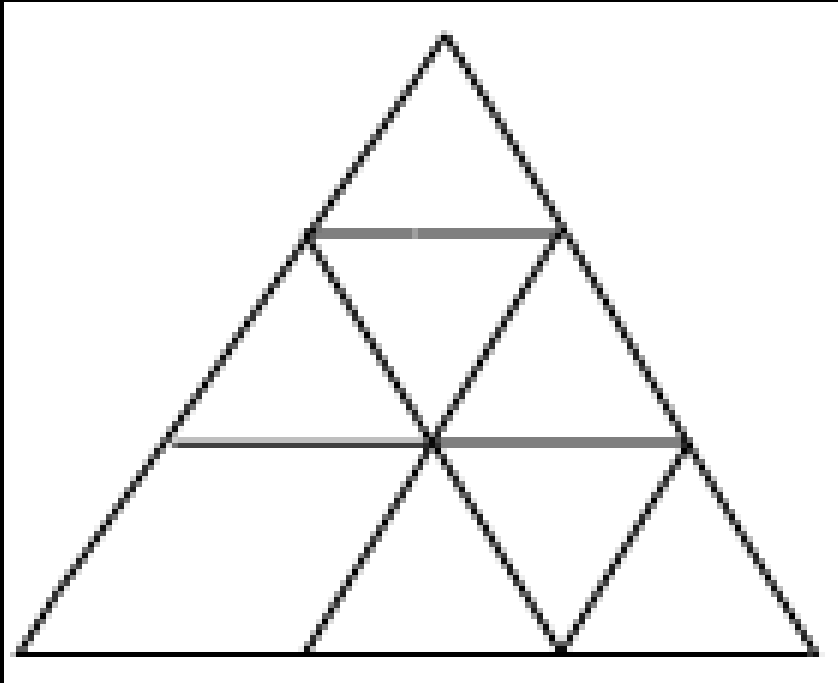
मिशन STATE 2023



Q.19 इस आकृति में कितने त्रिभुज हैं?

HOW MANY TRIANGLES ARE THERE IN THIS FIGURE?

(UP POLICE 2017)



(A) 12

(B) 11

(C) 10

(D) 15





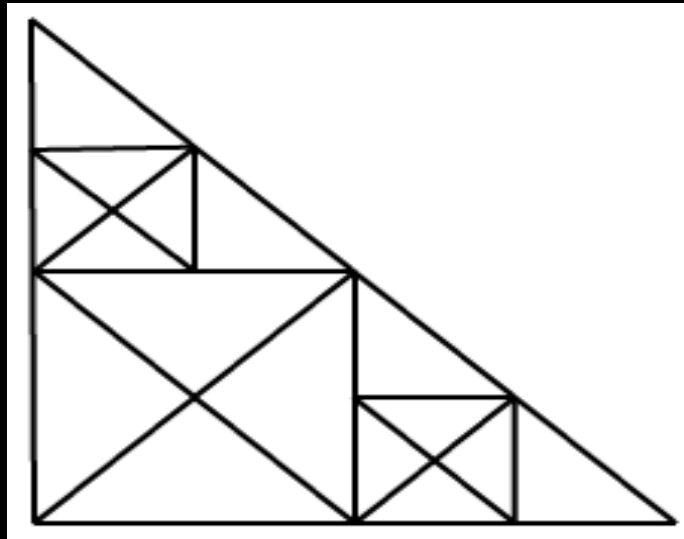
मिशन STATE 2023



Q.20 इस आकृति में कितने त्रिभुज हैं?

HOW MANY TRIANGLES ARE THERE IN THIS FIGURE?

(UPSSSC VDO 2018)



(A) 32

(B) 34

(C) 37

(D) 40





मिशन STATE 2023



Q.21 इस आकृति में कितने वर्ग हैं?

HOW MANY SQUARES ARE THERE IN THIS FIGURE?

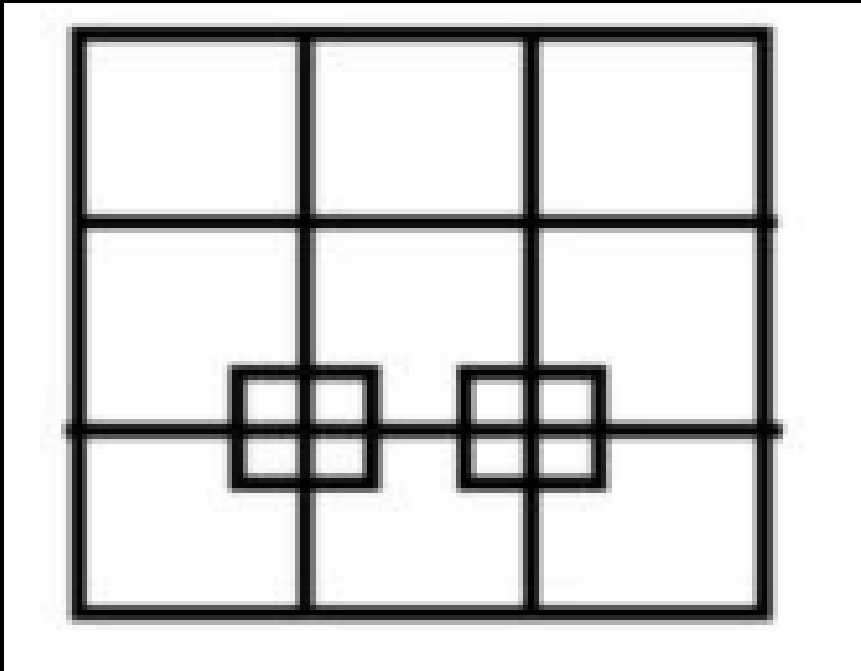
(UP POLICE 2017)

(A) 24

(B) 26

(C) 30

(D) 32



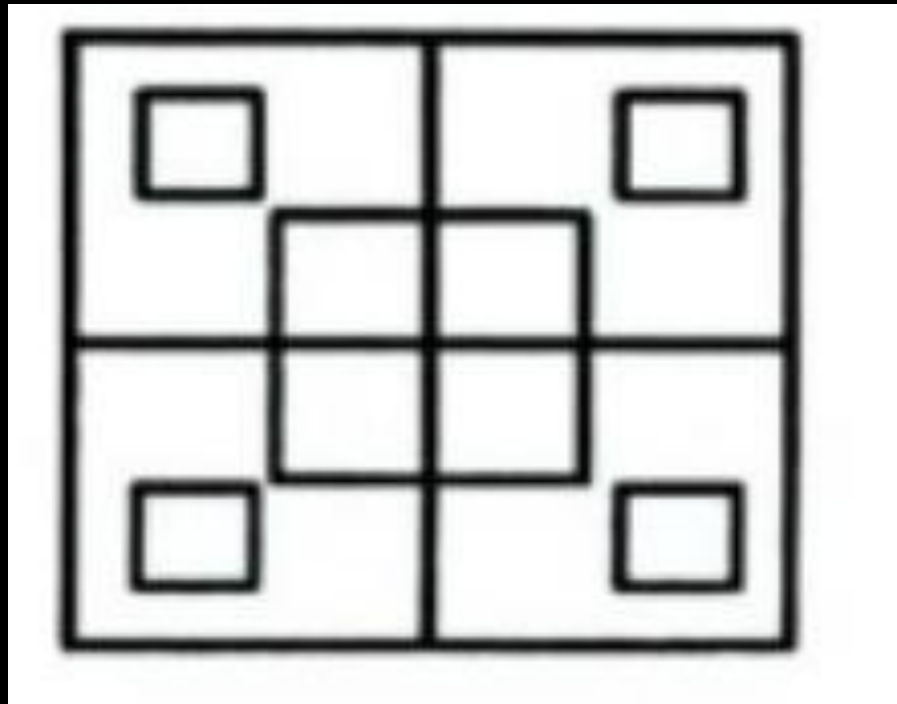


मिशन STATE 2023



Q.22 इस आकृति में कितने वर्ग हैं?

HOW MANY SQUARES ARE THERE IN THIS FIGURE?



(UP POLICE 2018)

(A) 12

(B) 14

(C) 16

(D) 18

