



# SSC CHSL 2022-23



**REASONING**

अंतिम बार

**#21**

**महा MOCK TEST**   
**TARGET 50/50**  
(अबकी बार **CHSL** पार)



 **LIVE** | 05:30 PM

**BY MANDEEP MAHENDRAS**



# SSC CHSL (10+2) 2022



- In the following question, select the word which cannot be formed using the letters of the given word.
- निम्नलिखित प्रश्न में, उस शब्द का चयन करें जो दिए गए शब्द के अक्षरों का उपयोग करके नहीं बनाया जा सकता है।
- MACHINERY



- A. NEAR
- B. MICE
- C. MIND
- D. HAIRY



# SSC CHSL (10+2) 2022



- In a certain language, KUNAL is written as MWPCN, then how is KISHORE written in same language?
- किसी भाषा में कुणाल को MWPCN लिखा जाता है, तो उसी भाषा में KISHORE को कैसे लिखा जाएगा?



- A. MKJUTQG
- B. KMUJTQG
- C. MKUJQTG
- D. MKUJQGT



# SSC CHSL (10+2) 2022



• 21 : 3 :: 574 : ?



A. 23

B. 82

C. 97

D. 113



# SSC CHSL (10+2) 2022



- ba\_ abab\_ b\_ ba\_ aba



A. abab

B. aabb

C. baab

D. bbaa



# SSC CHSL (10+2) 2022



- In a row of 25 boys, when Rahul was shifted three places towards right, he becomes 8th from the right end. What was his earlier position from the left end in the row?
- 25 लड़कों की एक पंक्ति में, जब राहुल को तीन स्थान दाईं ओर स्थानांतरित किया गया, तो वह दायें छोर से 8वां हो जाता है। पंक्ति में बायें छोर से उसका पहले का स्थान क्या था?



A.14

B.16

C.15

D.17



# SSC CHSL (10+2) 2022



- Harish walks 10 km towards East. He turns to his left and walks 8 km. He turns to his left and walks 6 km. He takes a final left turn and walks 5 km. How far is he now from his starting point?
- हरीश पूर्व की ओर 10 किमी चलता है। वह अपने बाएं मुड़ता है और 8 किमी चलता है। वह अपने बाएं मुड़ता है और 6 किमी चलता है। अंतिम बार वह अपने बाएं मुड़ता है और 5 किमी चलता है। अब वह अपने शुरुआती बिंदु से कितना दूर है?



- A. 2
- B. 5
- C. 15
- D. 12



# SSC CHSL (10+2) 2022



- Ram's age is twice of Shyam's age and half of Suresh's age. If the sum of their ages is 70, then what will be the age of Ram?
- राम की आयु श्याम की आयु से दोगुनी है और सुरेश की आयु से आधी है। यदि उनकी आयु का योग 70 हो, तो राम की आयु कितनी होगी?



- A. 30
- B. 10
- C. 40
- D. 20






# SSC CHSL (10+2) 2022



- COUNT THE TRINGLE



A.40

B.41

C.39



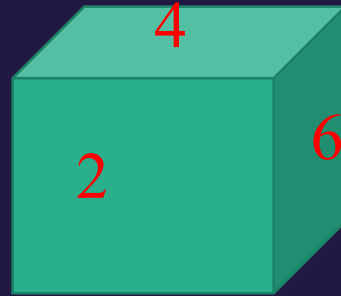
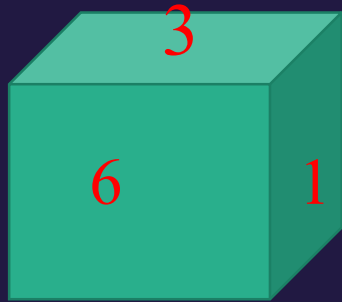
D.42



# SSC CHSL (10+2) 2022



- FIND THE VALUE OF MISSING



A.3

B.2

C.6

D.4



# SSC CHSL (10+2) 2022



- Time of 2: 12: 20 is being seen in the mirror, what time will it show?
- 2: 12 : 20 का समय हो रहा है यदि इसे दर्पण में देखा जाए तो क्या समय दर्शाएगी ?



- A. 3:57:40
- B. 10:45:12
- C. 8:49:30
- D. 9:47:40



# SSC CHSL (10+2) 2022



- T is the sister of D. D is married to P. P is the son of M. T is the mother of J. Y is the father of U. Y has only one son and only one daughter. U is the daughter of T. Q is the son of D. How is P related to T ?
- T, D की बहन है। D, P से विवाहित है। P, M का पुत्र है। T, J की माता है। Y, U का पिता है। Y का केवल एक पुत्र और केवल एक पुत्री है। U, T की पुत्री है। Q, D का पुत्र है। P, T से किस प्रकार संबंधित है?





# SSC CHSL (10+2) 2022



- In a certain code VINIT is coded as 49490, HARSHIT is coded as 8189890.  
How is SOYA coded in that code ?
- एक निश्चित कोड में VINIT को 49490 के रूप में कोडित किया गया है, HARSHIT को 8189890 के रूप में कोडित किया गया है। उस कोड में SOYA को कैसे कोडित किया गया है?



A. 95101

B. 95011

C. 95110

D. 90511