



SSC MTS 2022-23



REASONING

SESSION-I

FIGURE COUNTING

सारे CONCEPT बस एक क्लास में



📡 **LIVE** | 03:00 PM

BY KULDEEP MAHENDRAS



UPCOMING ONLINE BATCHES

MARCH 2023

01 MARCH 2023

10:30 AM to 12:30 PM

SSC ONLINE LIVE CLASS

BILINGUAL

15 MARCH 2023

08:00 AM to 10:00 AM

BANK ONLINE LIVE CLASS

BILINGUAL

22 MARCH 2023

02:00 PM to 04:00 PM

BANK ONLINE LIVE CLASS

English & Bengali



www.mahendras.org •  7052477777/7052577777

Find number of triangle in figure?

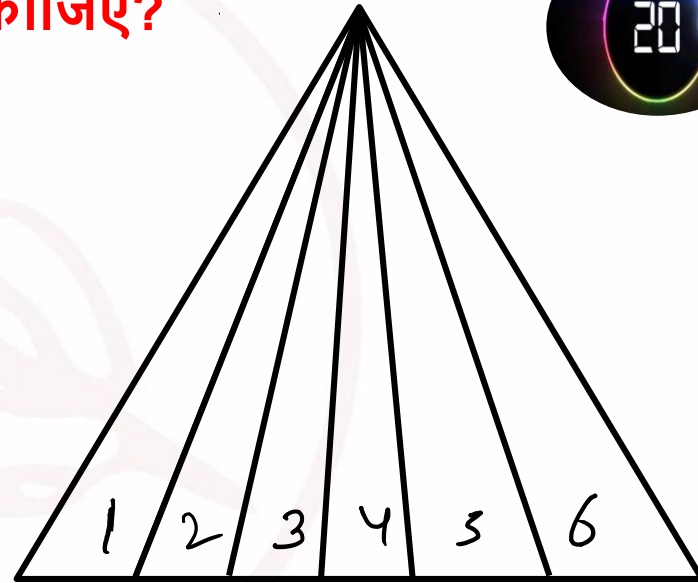
दी गई आकृति में त्रिभुज की संख्या ज्ञात कीजिए?

(A) 20

(B) 24

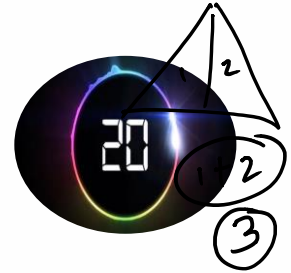
(C) 21

(D) 23



$$(1+2+3+4+5+6)$$

21



Find number of triangle in figure?

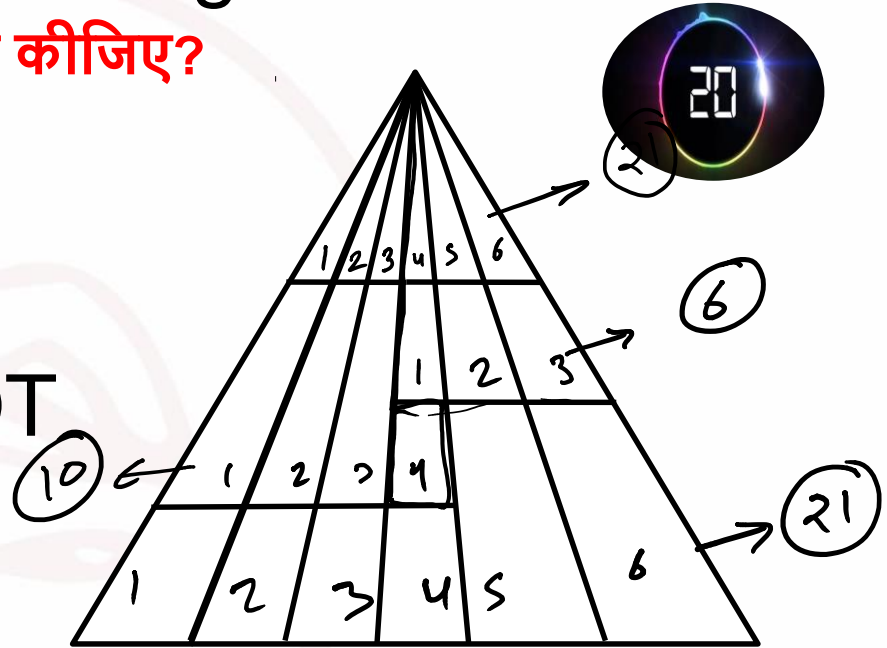
दी गई आकृति में त्रिभुज की संख्या ज्ञात कीजिए?

(A) 50

(B) 42

(C) 58

(D) NOT



$$21 + 21 + 10 + 6$$

Find number of triangle in given figure ?

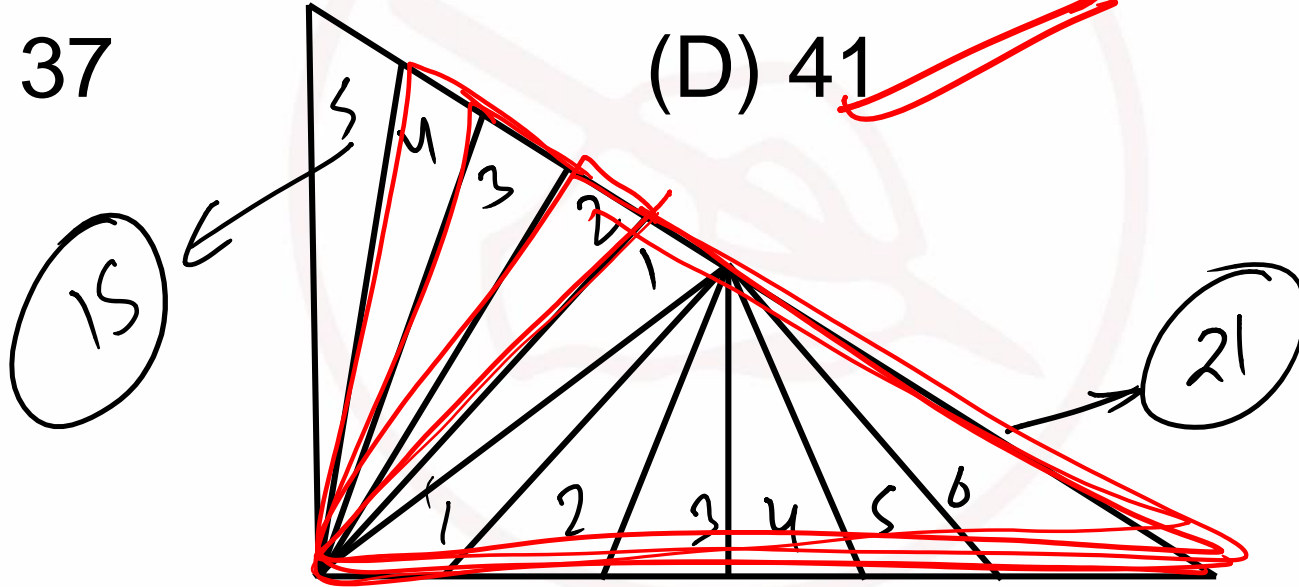
दी गई आकृति में त्रिभुज की संख्या ज्ञात कीजिए?

(A) 32

(B) 27

(C) 37

(D) 41



Find number of triangle in given figure ?

दी गई आकृति में त्रिभुज की संख्या ज्ञात कीजिए?



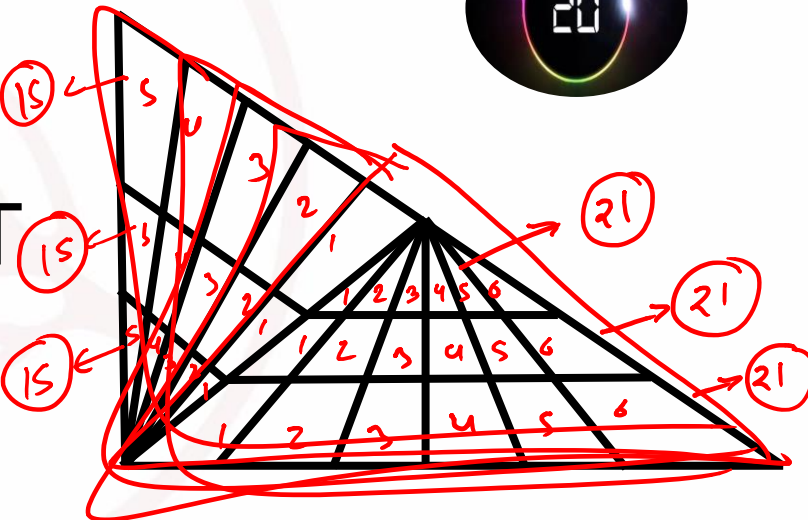
(A) 109

(B) 94

(C) 96

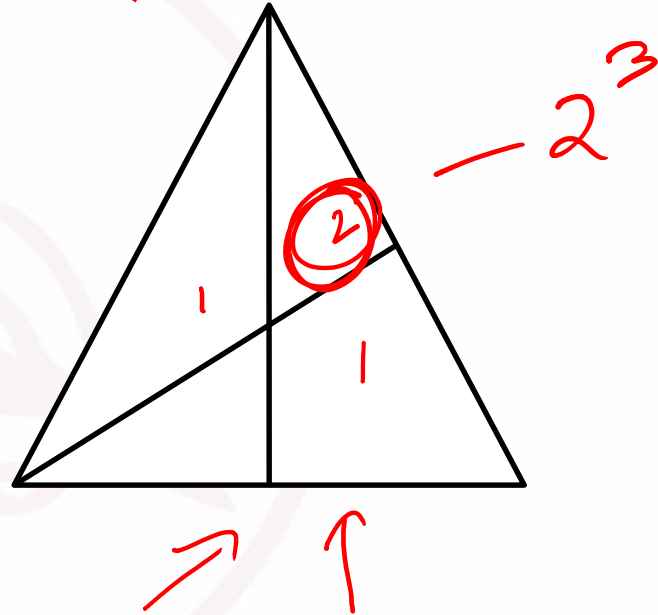
~~(D) NOT~~

$108 + 5 = 113$



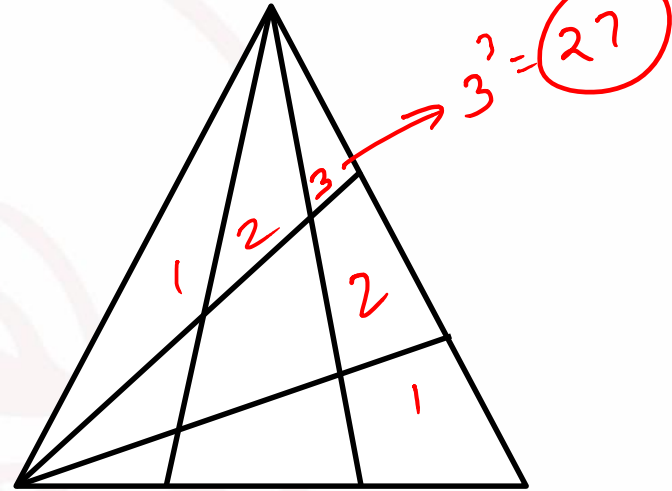
Find number of triangle in the given figure ?
दी गई आकृति में त्रिभुज की संख्या ज्ञात कीजिए?

- (A) 20
(B) 8
(C) 28
(D) 16



Find number of triangle in the given figure ?
 दी गई आकृति में त्रिभुज की संख्या ज्ञात कीजिए?

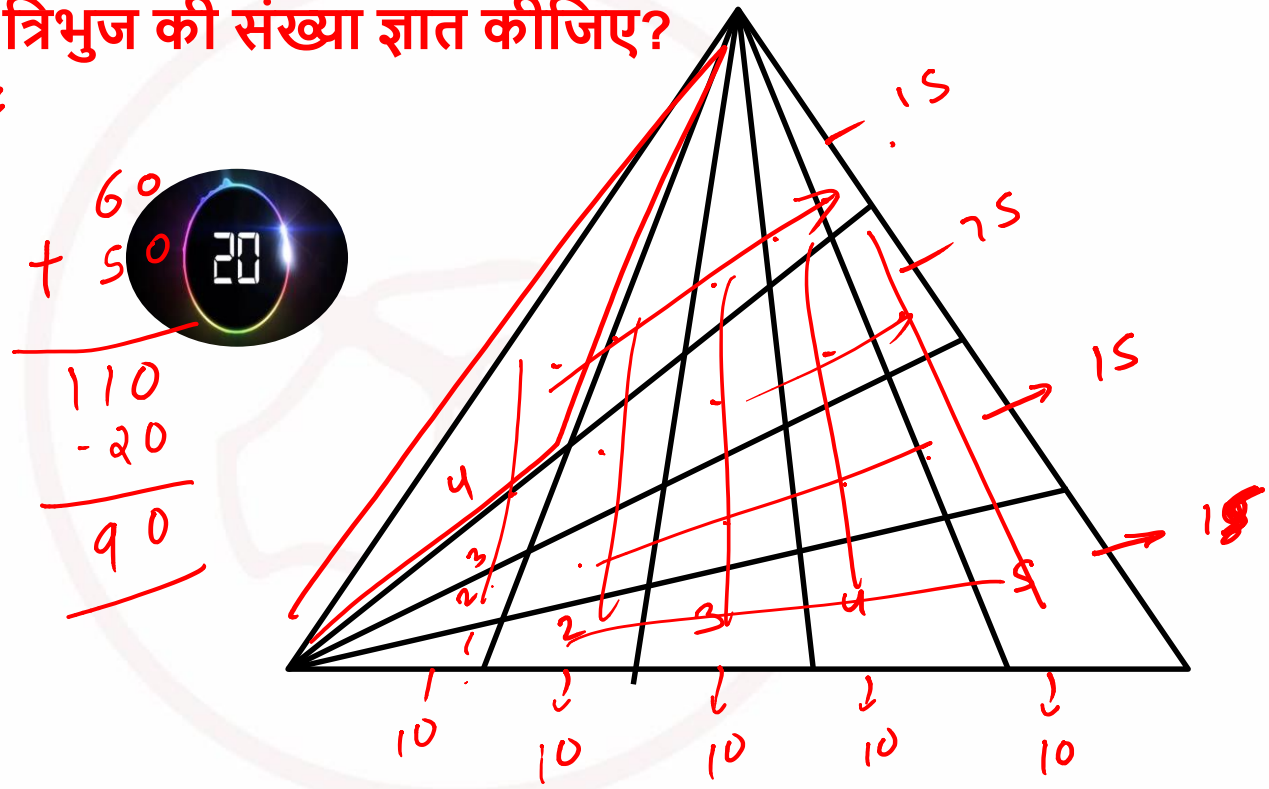
- (A) 27 ✓
 (B) 28
 (C) 29
 (D) NOT



Find number of triangle in the given figure ?

दी गई आकृति में त्रिभुज की संख्या ज्ञात कीजिए?

- (A) 90
- (B) 98
- (C) 110
- (D) NOT



$$\begin{array}{r}
 60 \\
 + 50 \\
 \hline
 110 \\
 - 20 \\
 \hline
 90
 \end{array}$$

Find number of triangle in figure?

दी गई आकृति में त्रिभुज की संख्या ज्ञात कीजिए?



(A) 27

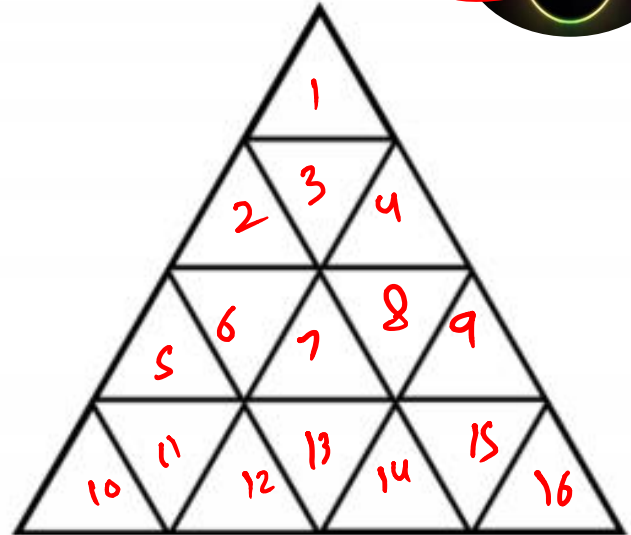
(B) 26

(C) 16

(D) 23

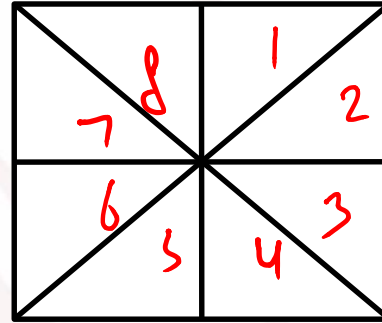
$$2 \times 16 - 5$$
$$32 - 5$$

27



Find number of triangle in the given figure ?
दी गई आकृति में त्रिभुज की संख्या ज्ञात कीजिए?

- (A) 20
- (B) 18
- (C) 28
- (D) 16



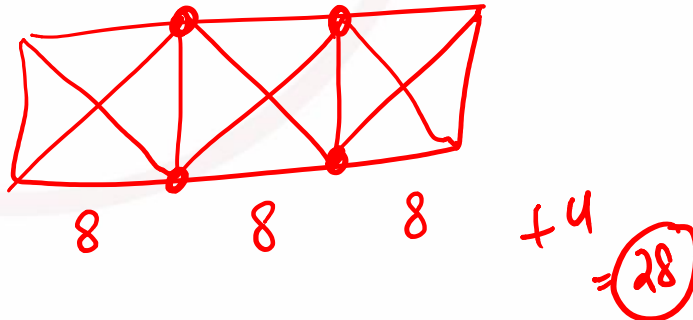
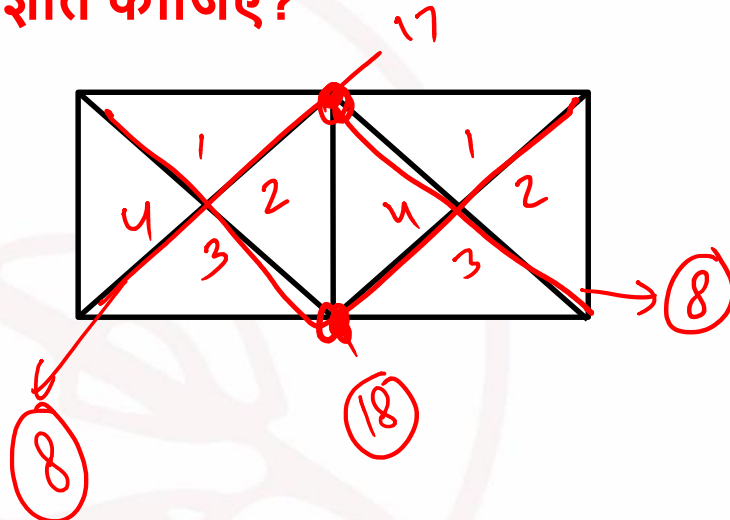
highest $\times 2$

8×2

16

Find number of triangle in the given figure ?
 दी गई आकृति में त्रिभुज की संख्या ज्ञात कीजिए?

- (A) 20
 (B) 18
 (C) 28
 (D) 16



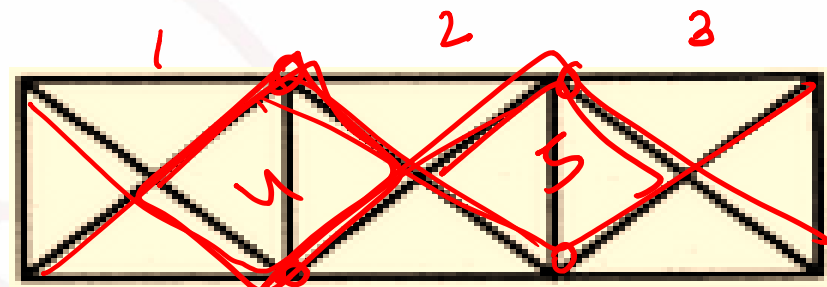
Count the number of triangles and squares in the given figure.

~~(A) 28 triangles, 3 squares~~

~~(B) 24 triangles, 5 squares~~

~~(C) 28 triangles, 5 squares~~

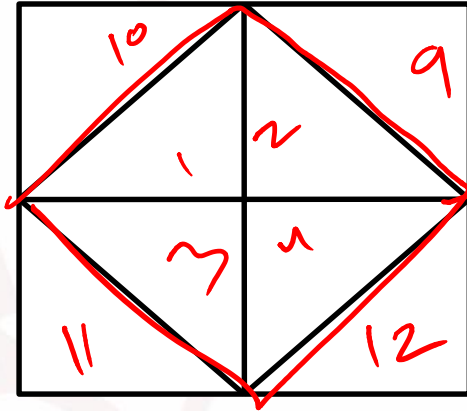
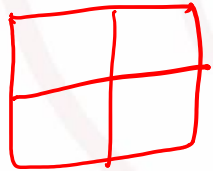
~~(D) 24 triangles, 3 squares~~



$8 + 4 = 28$

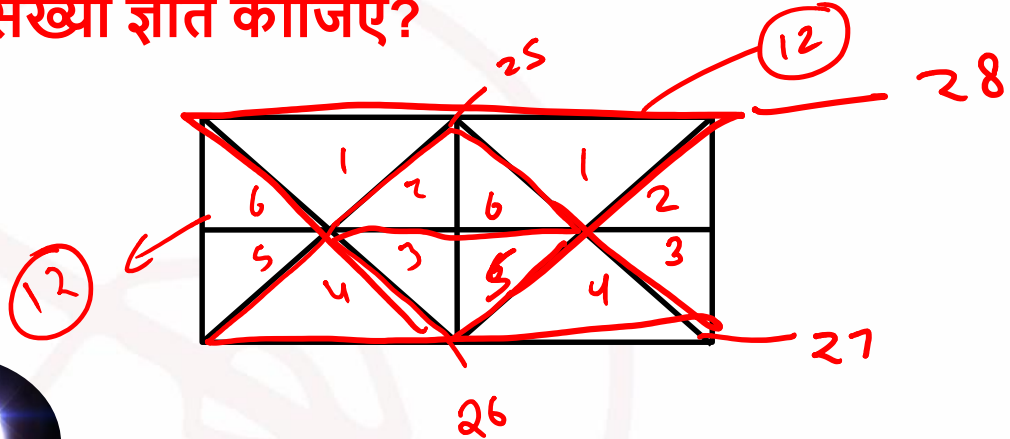
Find number of triangle in the given figure ?
 दी गई आकृति में त्रिभुज की संख्या ज्ञात कीजिए?

- (A) 12
 (B) 18
 (C) 28
 (D) 16



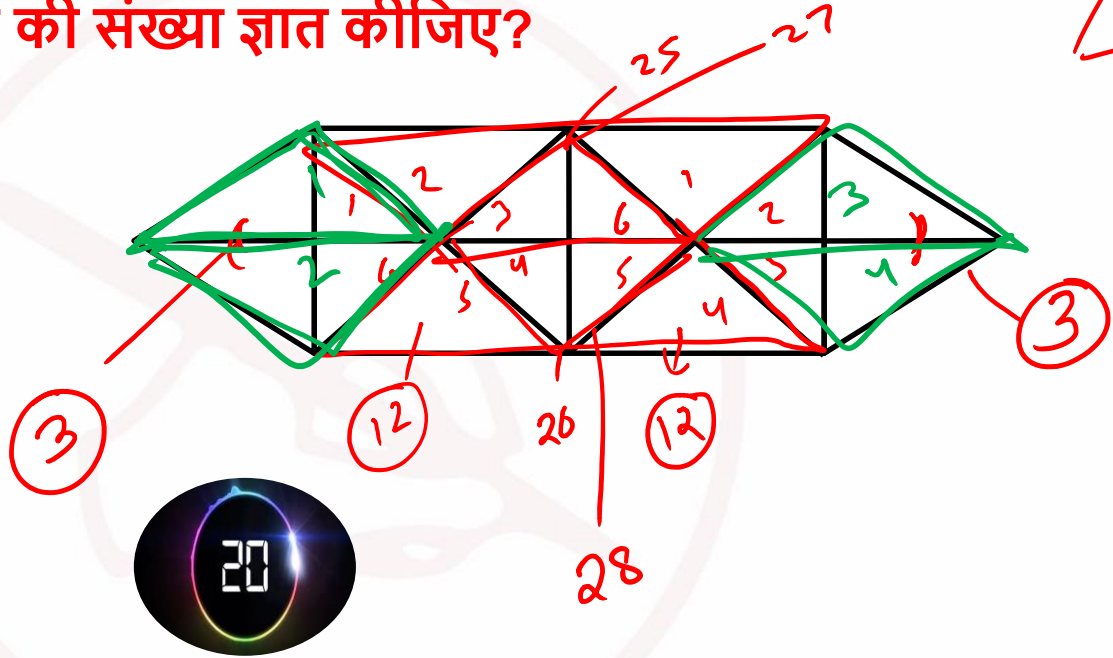
Find number of triangle in the given figure ?
 दी गई आकृति में त्रिभुज की संख्या ज्ञात कीजिए?

- (A) 20
 (B) 18
 (C) 28
 (D) 16



Find number of triangle in the given figure ?
 दी गई आकृति में त्रिभुज की संख्या ज्ञात कीजिए?

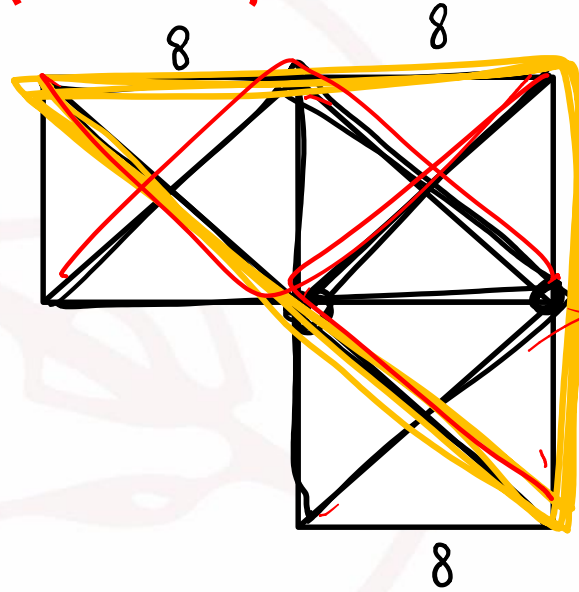
- (A) ~~20~~
 (B) 38
 (C) ~~28~~
 (D) 36



$$28 + 6 + 4 = 38$$

Find number of triangle in the given figure ?
 दी गई आकृति में त्रिभुज की संख्या ज्ञात कीजिए?

- (A) 20
 (B) 28
 (C) 29
 (D) 30

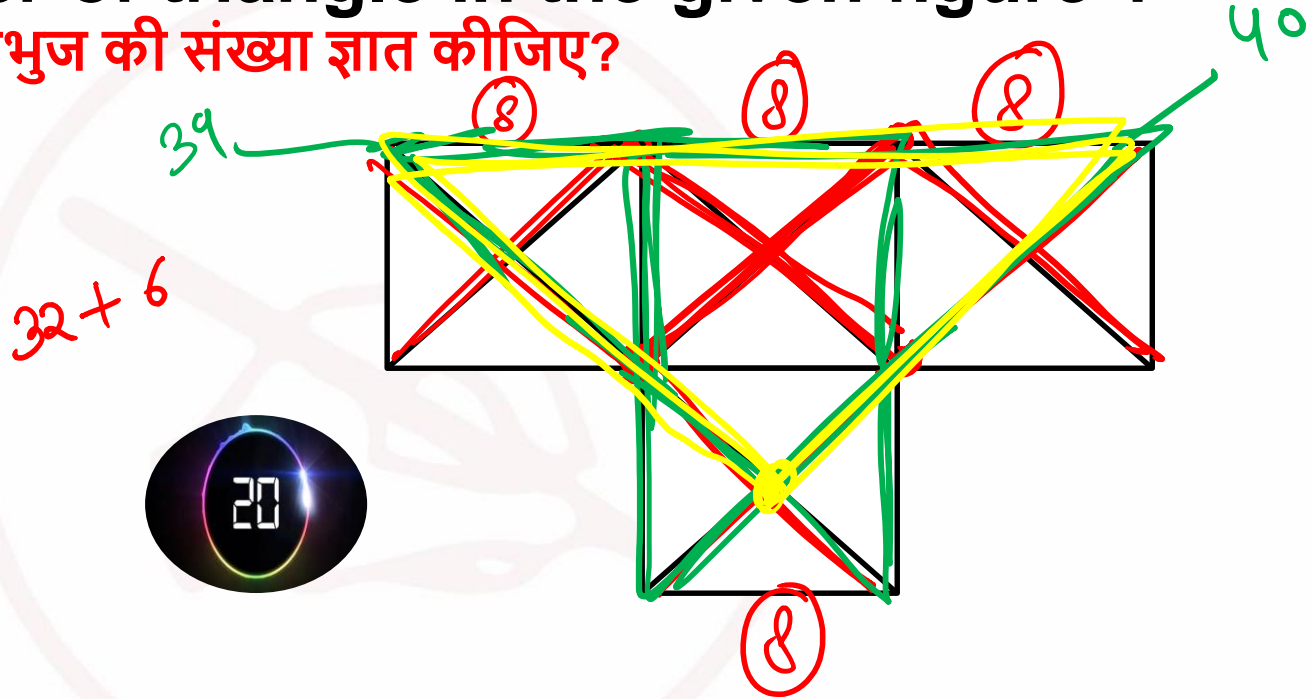


$$24 + 4 = 28$$

$$28 + 1 = 29$$

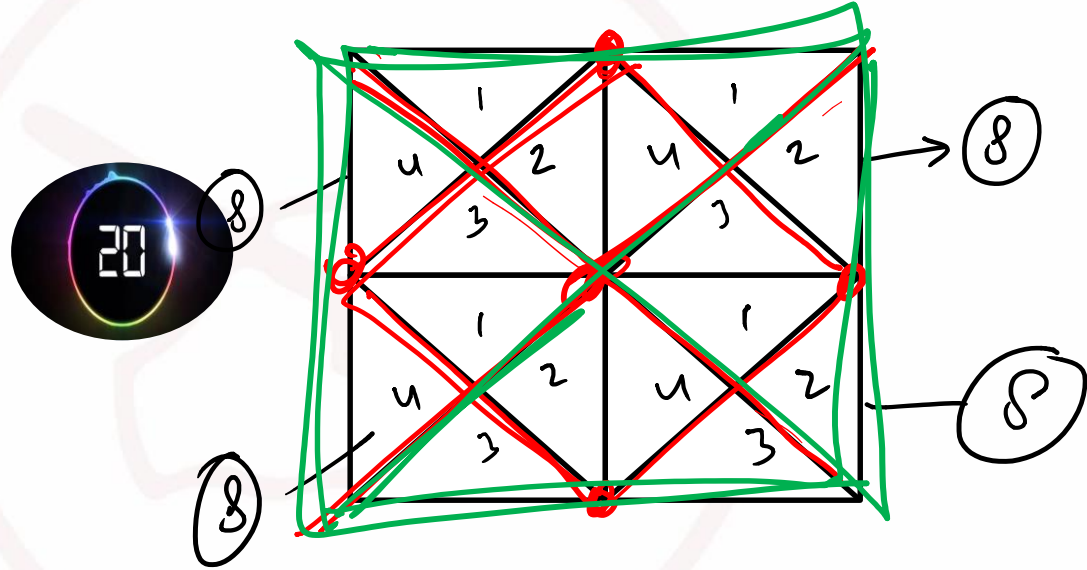
Find number of triangle in the given figure ?
 दी गई आकृति में त्रिभुज की संख्या ज्ञात कीजिए?

- (A) 40
 (B) 41 ✓
 (C) 38
 (D) 25



Find number of Triangle in the given figure ?
 दी गई आकृति में त्रिभुज की संख्या ज्ञात कीजिए?

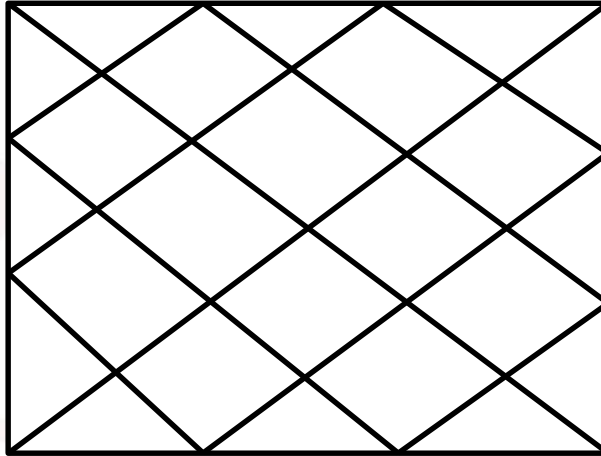
- (A) 40
 (B) 41
 (C) 44 ✓
 (D) 38




$$32 + 8 + 4 = 44$$

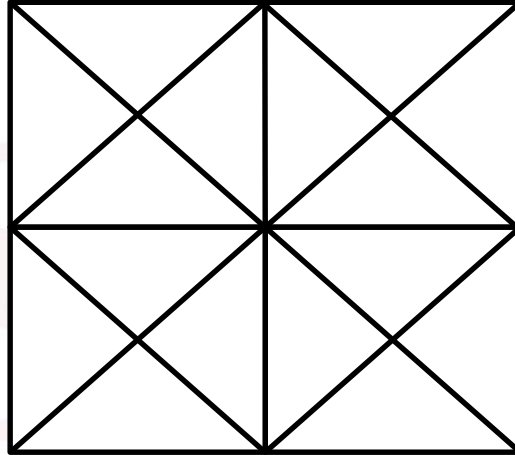
Find number of minimum number of lines in the given figure ?
दी गई आकृति में न्यूनतम रेखाओं की संख्या ज्ञात कीजिए?

- (A) 20
(B) 18
(C) 28
(D) 14



Find number of minimum number of lines in the given figure ?
दी गई आकृति में न्यूनतम रेखाओं की संख्या ज्ञात कीजिए?

- (A) 12 
- (B) 13
- (C) 14
- (D) NOT



Find minimum number of straight lines in figure?

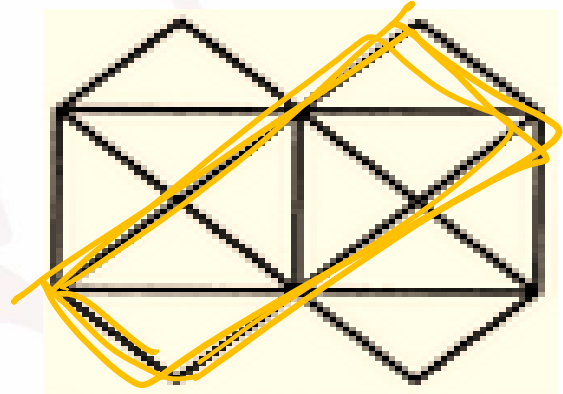

दी गई आकृति में न्यूनतम रेखाओं की संख्या ज्ञात कीजिए?

(A) 11

(C) 15

(B) 13

(D) 21



Find minimum number of straight lines in figure?


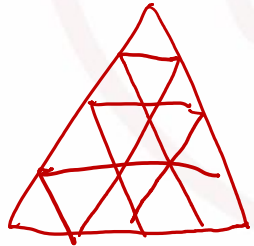
दी गई आकृति में न्यूनतम रेखाओं की संख्या ज्ञात कीजिए?

(A) 9

~~(B) 11~~

(C) 15

(D) 16



Find minimum number of straight lines in figure?

दी गई आकृति में न्यूनतम रेखाओं की संख्या ज्ञात कीजिए?

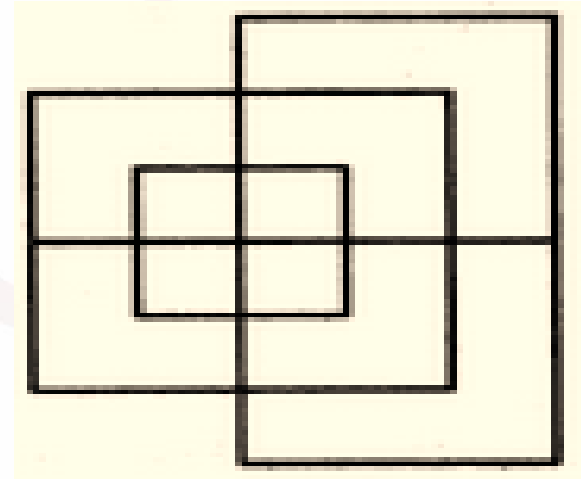
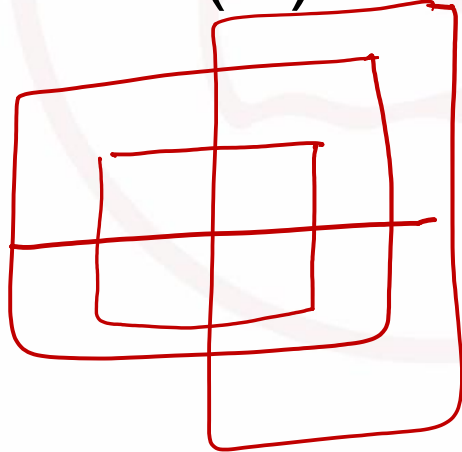


~~(A) 13~~

(B) 15

(C) 17

(D) 19



Find number of triangle in figure?

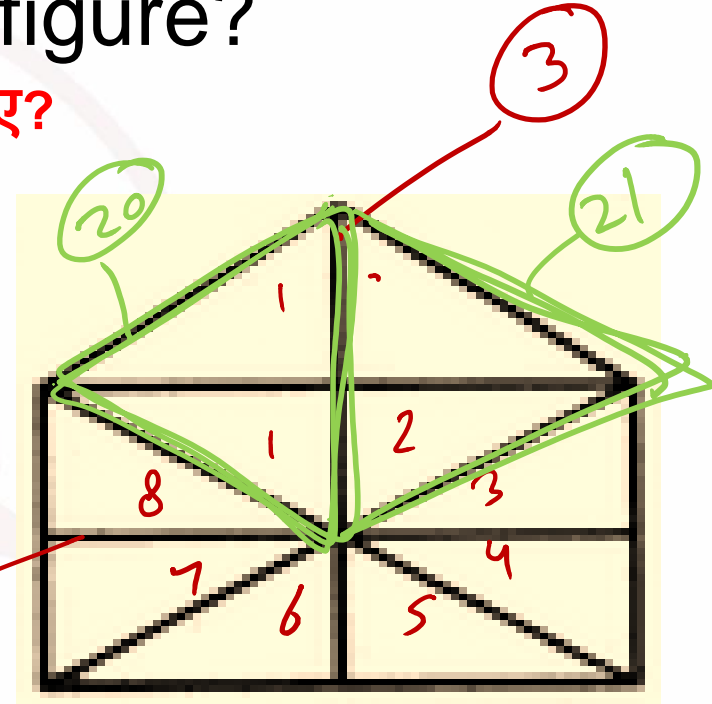
दी गई आकृति में त्रिभुज की संख्या ज्ञात कीजिए?

(A) 10

(B) 19

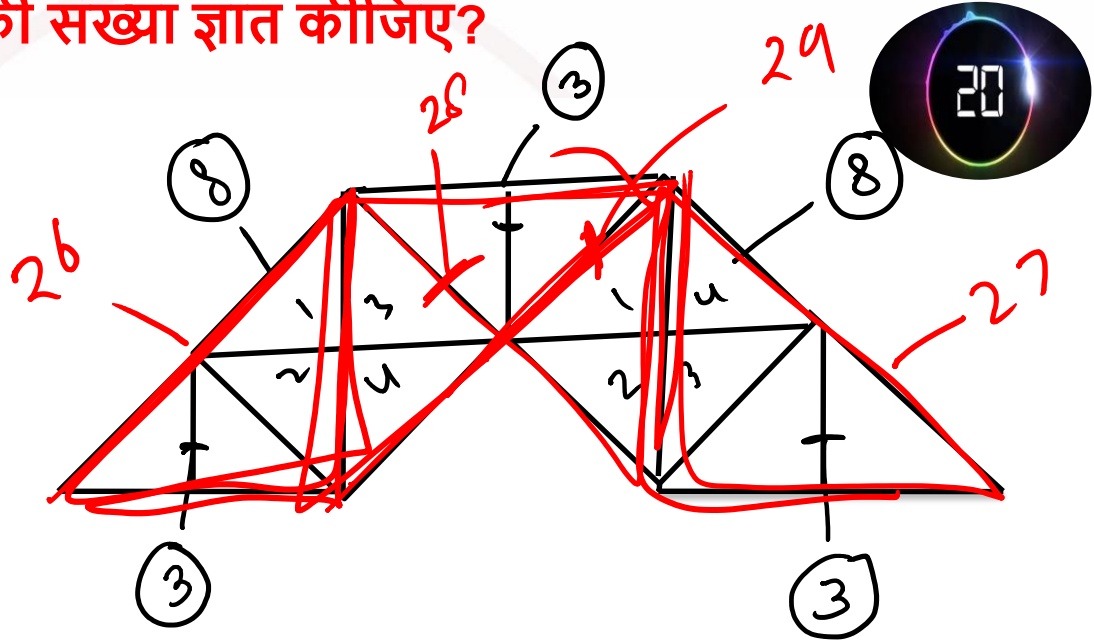
(C) 21

(D) 23



Find number of triangle in the given figure ?
 दी गई आकृति में त्रिभुज की संख्या ज्ञात कीजिए?

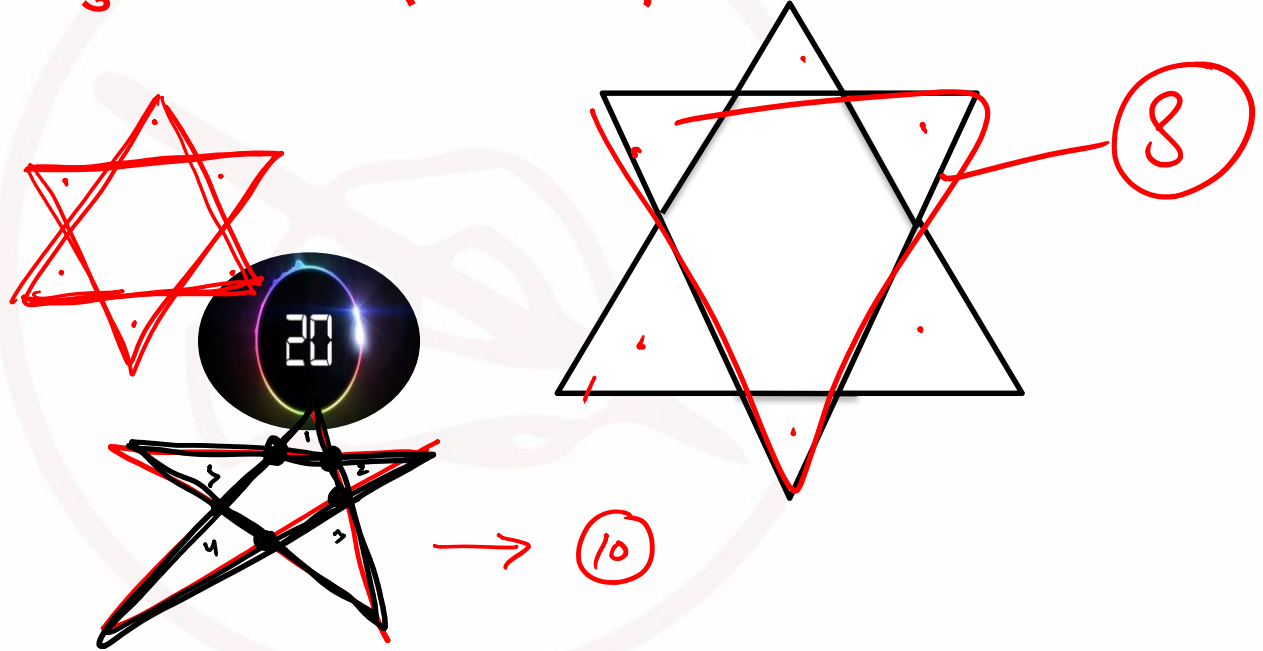
- (A) 29 ✓
 (B) 28
 (C) 25
 (D) 16



$$16 + 9 = 25$$

Find number of triangle in the given figure ?
 दी गई आकृति में त्रिभुज की संख्या ज्ञात कीजिए?

- (A) 10
 (B) 8 ✓
 (C) 12
 (D) 9



Find number of triangle in figure?


आकृति में त्रिभुज की संख्या ज्ञात कीजिये?

(A) 5

(B) 6

(C) 8

(D) 10



like!

