

# SSC MTS/HAWALDAR/CHSL



GK/GS

## TOP 25+

### QUESTIONS OF GEOGRAPHY



तैयारी जीत की...

LIVE

05:30 PM




• Which of the following is the largest lake in India?

- A. Nainital Lake
- B. Sambhar Lake
- C. Sishram Lake
- D. Chilka Lake

• निम्नलिखित में से कौन भारत की सबसे बड़ी झील है?

- A. नैनीताल झील
- B. सांभर झील
- C. शीशम झील
- D. चिल्का झील


**D**

• Which of the following region receives rainfall by Wertern Disturbances?

- A. Punjab
- B. Kerala
- C. Tamil Nadu
- D. Karnataka coast

• निम्नलिखित में से कौन सा क्षेत्र वर्टेन डिस्टर्बेंस द्वारा वर्षा प्राप्त करता है?

- ए पंजाब
- बी केरल
- सी तमिलनाडु
- D. कर्नाटक तट

**A**

• Consider the following statement (s) is/are related to the semi-arid regions of India

- I. North-Eastern Madhya Pradesh
- II. South-Western Andhra Pradesh
- III. Saurashtra

• Which of the above regions is/are correct?

- A. Both I & II
- B. II Only
- C. Both II & III
- D. I, II and III


• निम्नलिखित कथनों पर विचार करें जो भारत के अर्ध-शुष्क क्षेत्रों से संबंधित हैं/हैं

- I. उत्तर-पूर्वी मध्य प्रदेश
- द्वितीय. दक्षिण-पश्चिमी आंध्र प्रदेश
- III. सौराष्ट्र

• उपरोक्त में से कौन-सा/से क्षेत्र सही है/हैं?

- A. I और II दोनों
- बी II केवल
- C. II और III दोनों
- डी I, II और III

C




• Which of the following state has the Hydel Power Project Nathpa Jhakri ?

- A. Himachal Pradesh
- B. Uttarakhand
- C. Jammu & Kashmir
- D. Madhya Pradesh

• निम्नलिखित में से किस राज्य में जल विद्युत परियोजना नाथपा झाकरी है?

- ए हिमाचल प्रदेश
- बी उत्तराखंड
- सी जम्मू और कश्मीर
- डी मध्य प्रदेश




**A**

• Which of the following river originates near Mahabaleshwar, Maharashtra ?

- A. Godavari
- B. Krishna
- C. Koyna
- D. Both B & C

• निम्नलिखित में से कौन सी नदी महाबलेश्वर, महाराष्ट्र के पास से निकलती है?

- ए गोदावरी
- बी कृष्णा
- सी. कोयना
- D. B और C दोनों


**D**

▪ Which of the following is the largest lake in India?

- A. Nainital Lake
- B. Sambhar Lake
- C. Sishram Lake
- D. Chilka Lake

▪ निम्नलिखित में से कौन भारत की सबसे बड़ी झील है?

- A. नैनीताल झील
- B. सांभर झील
- C. शीशम झील
- D. चिल्का झील

**D**

• Which of the following is/ are related to the India's Coastal strips?


A. The Deccan Plateau is flanked, on its west and east, by narrow coastal plains along the Arabian Sea and the Bay of Bengal.

B. The western Coastal Plain lies between the Western Ghats and the Arabian Sea.

C. The southern part of the Western coastal Plain, called the Malabar Coast, is narrow, uneven and gradually dissected by a number of fast flowing streams and rivers.

D. All of the above


• निम्नलिखित में से कौन भारत की तटीय पट्टियों से संबंधित है/हैं? A. दक्कन का पठार इसके पश्चिम और पूर्व में अरब सागर और बंगाल की खाड़ी के साथ संकीर्ण तटीय मैदानों से घिरा है। B. पश्चिमी तटीय मैदान पश्चिमी घाट और अरब सागर के बीच स्थित है। C. पश्चिमी तटीय मैदान का दक्षिणी भाग, जिसे मालाबार तट कहा जाता है, संकरा, असमान है और कई तेज बहने वाली नदियाँ और नदियाँ द्वारा धीरे-धीरे विच्छेदित है। D। उपरोक्त सभी

**B**

- Which of the following is not the feature of the India's West Coastal Plain?
  - A. Located between the Western Ghats and the Arabian Sea coast
  - B. Narrow plain (average width 64 km)
  - C. Drained by several short and swift streams which are unable to form deltas
  - D. Mostly of emergent type, characterized by offshore bars, fine sea beaches, sand ridges and lagoons

- निम्नलिखित में से कौन भारत के पश्चिमी तटीय मैदान की विशेषता नहीं है?
  - A. पश्चिमी घाट और अरब सागर तट के बीच स्थित B. संकीर्ण मैदान (औसत चौड़ाई 64 किमी) C. कई छोटी और तेज धाराओं द्वारा सुखा जो डेल्टा बनाने में असमर्थ हैं D. अधिकतर आकस्मिक प्रकार, अपतटीय सलाखों की विशेषता, ठीक समुद्र तट, रेत की लकीरें और लैगून




**D**

• Which of the following imaginary line almost divides India into two equal parts?

- A. Equator
- B. Tropic of Cancer
- C. Tropic of Capricorn
- D. Arctic Circle


• निम्नलिखित में से कौन सी काल्पनिक रेखा भारत को लगभग दो बराबर भागों में विभाजित करती है?

- ए भूमध्य रेखा
- B. कर्क रेखा
- C. मकर रेखा
- D. आर्कटिक सर्कल

**B**

- Which of the following region supports the Karewa formation?
- A. North-eastern Himalayas
- B. Himachal-Uttaranchal Himalayas
- C. Eastern Himalayas
- D. Kashmir Himalayas

- निम्नलिखित में से कौन सा क्षेत्र करेवा गठन का समर्थन करता है?
- A. उत्तर-पूर्वी हिमालय
- B. हिमाचल-उत्तरांचल हिमालय
- C. पूर्वी हिमालय
- D. कश्मीर हिमालय

**D**


• Where is the Loktak Lake situated?

- A. Kerala
- B. Uttarakhand
- C. Manipur
- D. Rajasthan

• लोकतक झील कहाँ स्थित है ?

- ए केरल
- बी उत्तरांचल
- सी मणिपुर
- डी राजस्थान

C



• Which of the following water bodies separates the Andaman from the Nicobar?


- A. 11° Channel
- B. Gulf of Mannar
- C. 10° Channel
- D. Andaman Sea

• निम्नलिखित में से कौन सा जल निकाय अंडमान को निकोबार से अलग करता है?

- ए 11 डिग्री चैनल
- B. मन्नारी की खाड़ी
- सी. 10 डिग्री चैनल
- D. अंडमान सागर



C




· Which of the following hill ranges dominated by the 'Doddabetta' peak?

- A. Nilgiri hills
- B. Anaimalai hills
- C. Cardamom hills
- D. Nallamala hills

· निम्नलिखित में से कौन सी पहाड़ी श्रृंखला 'डोड्डाबेट्टा' चोटी पर हावी है?

- A. नीलगिरि की पहाड़ियाँ
- B. अन्नामलाई पहाड़ियाँ
- C. इलायची की पहाड़ियाँ
- D. नल्लामाला हिल्स


**A**

• Which of the following river has the largest river basin in India?

- A. The Indus
- B. The Ganga
- C. The Brahmaputra
- D. The Krishna

• निम्नलिखित में से किस नदी में भारत का सबसे बड़ा नदी बेसिन है?

- ए सिंधु
- बी गंगा
- C. ब्रह्मपुत्रः
- डी कृष्णा


**B**

▪ Which of the following rivers is not part of 'Panchnad'?

- A. The Ravi
- B. The Indus
- C. The Chenab
- D. The Jhelum

▪ निम्नलिखित में से कौन सी नदी 'पंचनाड' का हिस्सा नहीं है?

- ए. रावी
- B. सिंधु
- C. चिनाब
- D. झेलम

**B**

• Which of the following rivers flows in a rift valley?


- A. The Son
- B. The Yamuna
- C. The Narmada
- D. The Luni

• निम्नलिखित में से कौन सी नदी भ्रंश घाटी में बहती है?

- ए. सोन
- बी यमुना
- सी. नर्मदा
- D. लूनिआ




C




- The first non-stop air-conditioned 'DURANTO' train was flagged off between (SSC CGL 2010)
- (a) Sealdah - New Delhi
- (b) Mumbai - Howrah
- (c) Bangalore - Howrah
- (d) Chennai - New Delhi

- पहली नॉन-स्टॉप वातानकलित 'दुरंतो' ट्रेन को (एसईएससी सीजीएल 2010) के बीच हरी झंडी दिखाकर रवाना किया गया था।
- (ए) सियालदह - नई दिल्ली (बी) मुंबई - हावड़ा (सी) बैंगलोर - हावड़ा (डी) चेन्नई - नई दिल्ली

**A**

- Which one of the following states does not form part of Narmada River basin ?  
(SSC CGL 2010)
- (a) Madhya Pradesh  
(b) Rajasthan  
(c) Gujarat  
(d) Maharashtra

- निम्नलिखित में से कौन सा राज्य नर्मदा नदी बेसिन का हिस्सा नहीं है?  
(एसएससी सीजीएल 2010)
- (ए) मध्य प्रदेश (बी) राजस्थान (सी) गुजरात (डी) महाराष्ट्र


**B**

• Which of the following is called the 'ecological hot spot of India'? (SSC CGL 2010)

- (a) Western Ghats
- (b) Eastern Ghats
- (c) Western Himalayas
- (d) Eastern Himalayas

• निम्नलिखित में से किसे 'भारत का पारिस्थितिक हाट स्पॉट' कहा जाता है? (एसएससी सीजीएल 2010)

- (ए) पश्चिमी घाट (बी) पूर्वी घाट (सी) पश्चिमी हिमालय (डी) पूर्वी हिमालय

**A**


• The age of the Earth can be determined by (SSC CGL2010)

- (a) Geological Time Scale
- (b) Radio-Metric Dating
- (c) Gravity method
- (d) Fossilization method

• पृथ्वी की आयु (SSC CGL2010) द्वारा निर्धारित की जा सकती है

- (ए) भूवैज्ञानिक समय स्केल (बी) रेडियो-मीट्रिक डेटिंग (सी) गुरुत्वाकर्षण विधि (डी) जीवाश्म विधि




**B**

• How much of the Earth's land surface is desert? (SSC CGL 2011)

- (a)  $\frac{1}{10}$ th
- (b)  $\frac{1}{5}$ th
- (c)  $\frac{1}{3}$ rd
- (D)  $\frac{1}{6}$ th

• पृथ्वी के धरातल का कितना भाग मरुस्थल है? (एसएससी सीजीएल 2011)

- (ए)  $\frac{1}{10}$  वां (बी)  $\frac{1}{5}$  वां (सी)  $\frac{1}{3}$  (डी)  $\frac{1}{6}$  वां

**B**


• The common tree species in nilgiri hills is (SSC CGL 2010)

- (a) Sal
- (b) Pine
- (c) Eucalyptus
- (d) Teak

• नीलगिरी पहाड़ियों में आम पेड़ की प्रजाति है (एसएससी सीजीएल 2010)

- (ए) साल (बी) पाइन (सी) नीलगिरी (डी) सागौन

C




· **Wheat, Barley, Lemon, Orange, rye and pearl millet belong to: (SSC CGL 2012)**

- **(a) the same plant family**
- **(b) two plant families**
- **(c) three plant families**
- **(d) four plant families**

· **गेहूं, जौ, नींबू, संतरा, राई और बाजरा निम्नलिखित से संबंधित हैं: (एसएससी सीजीएल 2012)**


- **(ए) एक ही संयंत्र परिवार**
- **(बी) दो संयंत्र परिवार (सी) तीन संयंत्र परिवार (डी) चार संयंत्र परिवार**

**B**

- Earth is a very big magnet. In which direction does its magnetic field extend?  
(SSC CGL 2012)
- (a) west to east  
(b) north to south  
(c) south to north  
(d) east to west

- पृथ्वी एक बहुत बड़ा चुंबक है। यह चुंबकीय क्षेत्र किस दिशा में विस्तारित होता है? (एसएससी सीजीएल 2012)
- (ए) पश्चिम से पूर्व (बी) उत्तर से दक्षिण (सी) दक्षिण से उत्तर (डी) पूर्व से पश्चिम



**B**

- Peninsular India has the following zonal soil types: (SSC CGL 2012)
- (a) Red and yellow soil
- (b) Forest soil
- (c) Saline soil
- (d) Alluvial soil

- प्रायद्वीपीय भारत में निम्नलिखित क्षेत्रीय मिट्टी के प्रकार हैं: (एसएससी सीजीएल 2012)
- (ए) लाल और पीली मिट्टी (बी) वन मिट्टी (सी) लवणीय मिट्टी (डी) जलोढ़ मिट्टी

**A**