

SSC MTS/HAWALDAR/CHSL



REASONING

LIVE EXAM

तैयारी जीत की...

LIVE

08:30 PM





UPCOMING ONLINE BATCHES

June 2022

01 June 2022

08:00 AM to 10:00 AM

BANK ONLINE LIVE CLASS

03:00 PM to 05:00 PM

SSC ONLINE LIVE CLASS

BILINGUAL

08 June 2022

01:00 PM to 03:00 PM

BANK ONLINE LIVE CLASS

07:30 PM to 09:30 PM

SSC ONLINE LIVE CLASS

BILINGUAL

15 June 2022

05:30 PM to 07:30 PM

BANK ONLINE LIVE CLASS

10:30 AM to 12:30 PM

SSC ONLINE LIVE CLASS

BILINGUAL

 www.mahendras.org

 7052477777/7052577777



Mohit.. 18 hours ago 1 subscribers

Thank-you Sir for this Super Amazing Class Session of today's.. 🙏 😊

And

My answer for today's homework is like-

Option C- 10 yrs....

Read more



REPLY



▶ [View reply from Mahendras : Online Videos For Govt. Exams](#)



🌸 PUJA KUNDU 🌸 18 hours ago 8 subscribers

The answer is -10yrs.....thank you soo much sir for the session 🙏



REPLY



▶ [View reply from Mahendras : Online Videos For Govt. Exams](#)



Vishnu Gupta 18 hours ago 3 subscribers

10 years the right ans

Very super Dhashu session sir thank you 🙏 sir love ❤️ you sir ❤️ 🙏



REPLY



▶ [View reply from Mahendras : Online Videos For Govt. Exams](#)



RIYA 😊 😊 18 hours ago

Wonderful session sir 😊

10 years



REPLY



▶ [View reply from Mahendras : Online Videos For Govt. Exams](#)



arun ch mandal 18 hours ago

10 YEARS
thank you sir
nice session



[View reply from Mahendras : Online Videos For](#)



Ankit Vish 18 hours ago **110** subscribers

Answer. CCC
Lajwab session sir 🙏🙏



[View reply from Mahendras : Online Videos For](#)



HRX _____ 18 hours ago **27** subscribers

SORRY SIR JI ab tak ki glati ki wajah se 🙏



[View 2 replies](#)



Bhavya thakur _____ 18 hours ago **14** subscribers

10



[View reply from Mahendras : Online Videos For Govt. Exams](#)



HRX _____ 7 hours ago

10



[View reply from Mahendras : Online Videos For Govt. Exams](#)



GUDIYA SHARMA 8 hours ago **1** subscribers

10



[View reply from Mahendras : Online Videos For Govt. Exams](#)



puspranjan singh 19 hours ago

10



[View reply from Mahendras : Online Videos For Govt. Exams](#)



Your age is 10 years less than half of your mother's age . Mother is 5 years younger than your father , if your father is 45 years old , then what is your age ?

आपकी उम्र आपकी माँ की उम्र के आधे से 10 साल कम है। माँ आपके पिता से 5 साल छोटी है, अगर आपके पिता की उम्र 45 साल है, तो आपकी उम्र क्या है?

- (A) 20 years
- (B) 15 years
- (C) 10 years
- (D) 5 years





Q.Statement: We offer employment oriented courses and that too at lowest cost – an advertisement by “ X College”

Conclusion:

- (I) No other College offers employment oriented courses.
- (II) People are attracted towards employment oriented courses.

प्र. कथन : हम रोजगार उन्मुख पाठ्यक्रम प्रदान करते हैं और वह भी सबसे कम लागत पर - " X कॉलेज " द्वारा विज्ञापन

निष्कर्ष:

- (I) कोई अन्य कॉलेज रोजगार उन्मुख पाठ्यक्रम प्रदान नहीं करता है।
- (II) लोग रोजगार उन्मुख पाठ्यक्रमों के प्रति आकर्षित होते हैं।





Q. Statement: Indian economy has been growing steadily, year by year since last decade.

Conclusion:

- (I) Indian economy has grown more this year as compared to the last year.
- (II) Indian economy has grown last year as well.

प्र.कथन : पिछले दशक से हर साल भारतीय अर्थव्यवस्था लगातार बढ़ रही है।

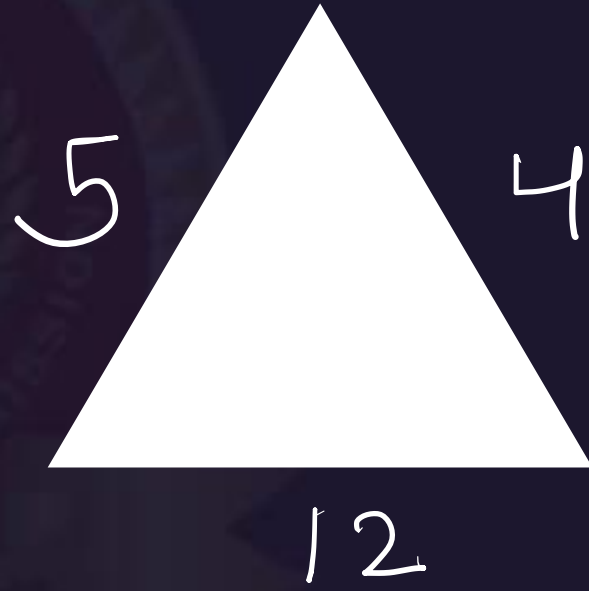
निष्कर्ष:

- (I) पिछले वर्ष की तुलना में भारतीय अर्थव्यवस्था इस वर्ष बढ़ी है।
- (II) भारतीय अर्थव्यवस्था पिछले साल भी बढ़ी थी।





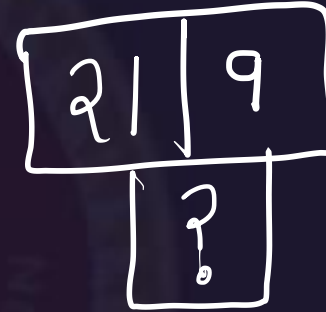
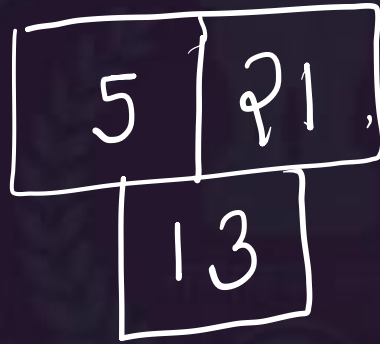
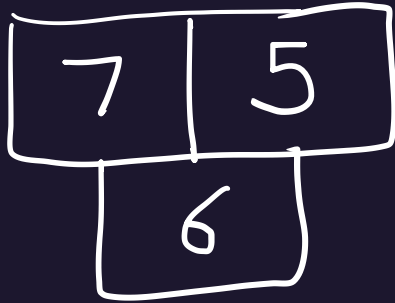
Find the option which should replace (?)



- (A) 80
- (B) 108
- (C) 114
- (D) NOT



Find the option which should replace (?)



- (A) 4
- (B) 8
- (C) 20
- (D) 15



Find the option which should replace (?)

84	
14	12

81	
18	9

88	
?	11



- (A) 16
- (B) 21
- (C) 8
- (D) 81



Find the option which should replace (?)

$$89 + 3 = 50$$

$$58 + 4 = 51$$

$$56 + 5 = 54$$

$$54 + 6 = ?$$

(A) 53

(B) 54

(C) 46


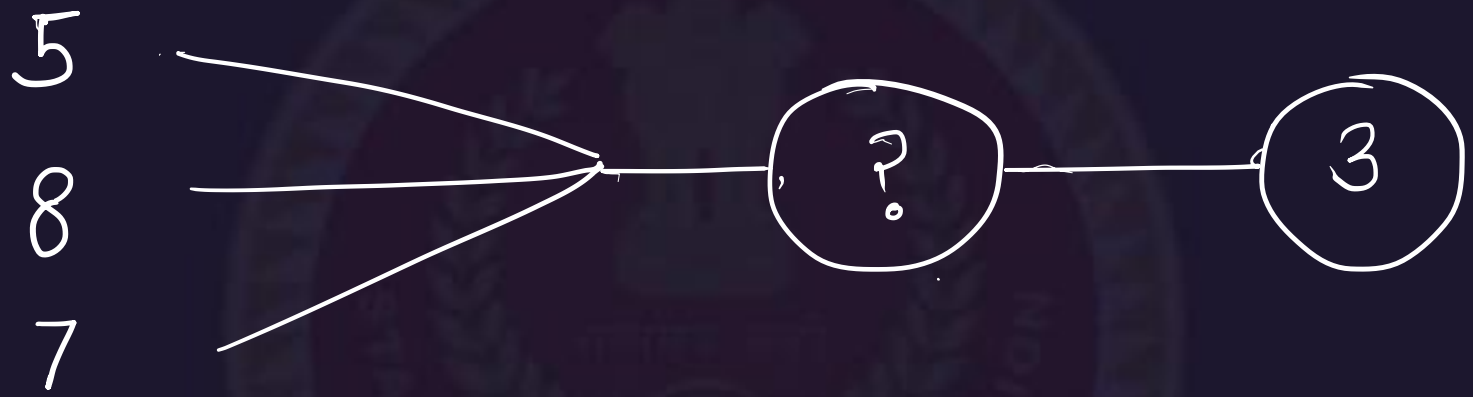
(D) 49





Find the option which should replace (?)

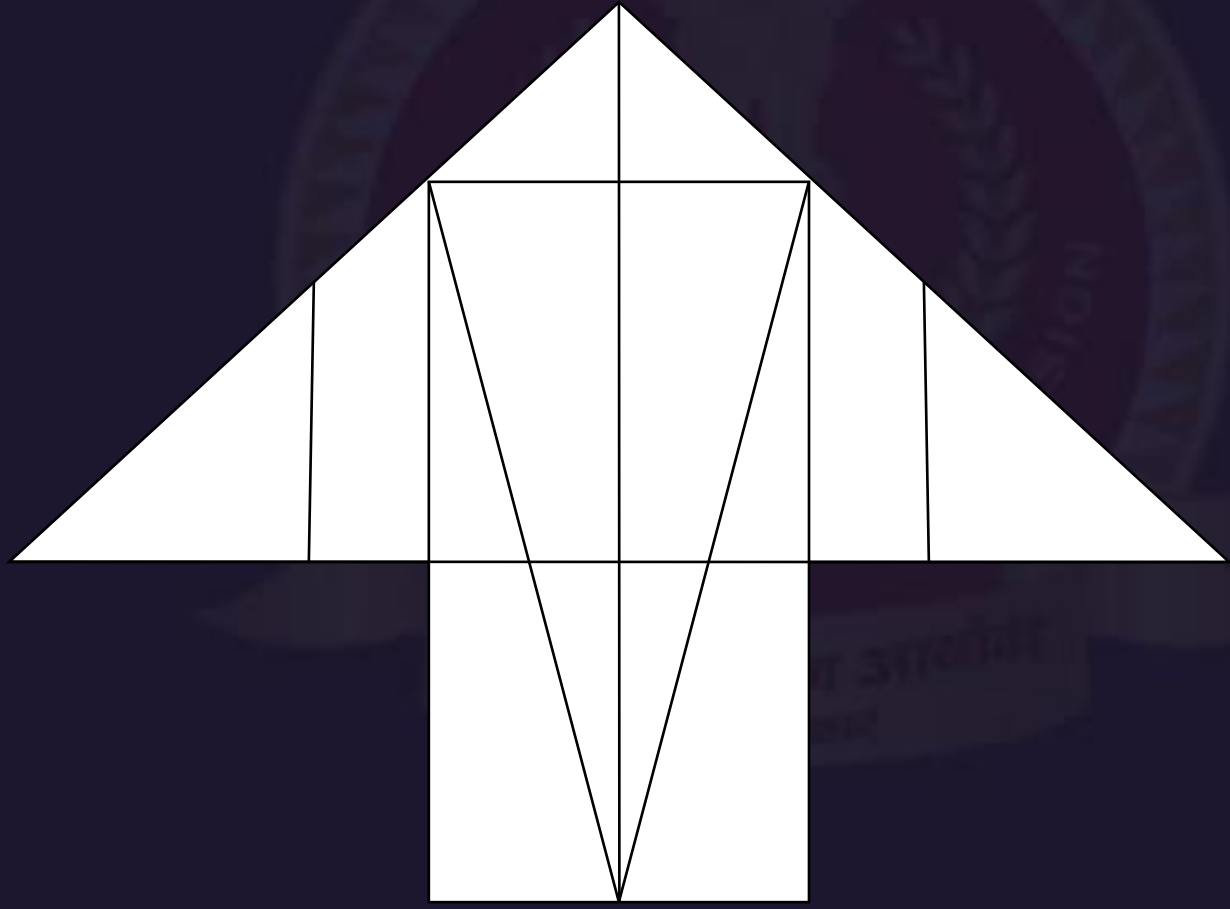
- (A) 20
- (B) 30
- (C) 60
- (D) 70





Find number of triangle in the given figure ?
दी गई आकृति में त्रिभुज की संख्या ज्ञात कीजिए?

- (A) 23
- (B) 22
- (C) 24
- (D) 26





Find the missing one (?)

Chemical : Pollution :: Terrorism : ?
रासायनिक : पॉल्यूशन :: आतंकवाद : ?



- (A) Hang / लटका
- (B) Dangerous / रहस्यमय
- (C) Threat / धमकी
- (D) Destruction / विनाश



Find the odd one (?)

- (A) 6450**
- (B) 2124**
- (C) 3540**
- (D) 7080**






Find the RECTANGLE :-



- (A) 32
- (B) 31
- (C) 28
- (D) 30





Find number of RECTANGLE in the given figure ?
दी गई आकृति में आयत की संख्या ज्ञात कीजिए?

- (A) 30
- (B) 33
- (C) 35
- (D) 34





Find the missing term(?)

(14 , 25 , 49) :: ?

- (A) (7 , 49 , 144)
- (B) (9 , 81 , 64)
- (C) (12 , 9 , 81)
- (D) (8 , 64 , 81)





Find the missing term(?)

17 : 64 :: 58 : ?

- (A) 138
- (B) 169
- (C) 126
- (D) 621





Find the Missing one (?)



- (A) 2
- (B) 7
- (C) 14
- (D) 28

3	7
2	4

8	3
1	7

1	6
2	?



Find the Missing one (?)

19 (36) 13

37 (81) 28

43 (A) 38

(A) 49

(B) 25

(C) 34

(D) 64





Find the Meaning Order (?)

1. Christmas / क्रिसमस
2. Republic Day / गणतंत्र दिवस
3. Children's Day / बाल दिवस
4. Gandhi Jayanti / गांधी जयंती
5. Independence day / स्वतंत्रता दिवस



- (A) 4 , 5 , 1 , 3 , 2
(B) 2 , 5 , 4 , 3 , 1
(C) 1 , 5 , 4 , 3 , 2
(D) 2 , 1 , 5 , 4 , 3



Find the Meaning Order (?)

1. Curd / दही
2. Grass / घास
3. Butter / मक्खन
4. Milk / दूध
5. Cow / गाय

- (A) 4 , 5 , 1 , 3 , 2
- (B) 5 , 2 , 3 , 4 , 1
- (C) 1 , 5 , 4 , 3 , 2
- (D) 5 , 2 , 4 , 1 , 3





Find the odd (?)

- (A) 25 : 100**
- (B) 29 : 121**
- (C) 23 : 36**
- (D) 24 : 64**





Find the Meaningful word (?)

T C P O L S R U
1 2 3 4 5 6 7 8


- (A) 26583174**
- (B) 26853147**
- (C) 62851347**
- (D) 62853147**





Find the Triangle (?)

- (A) 16
- (B) 15
- (C) 14
- (D) 18





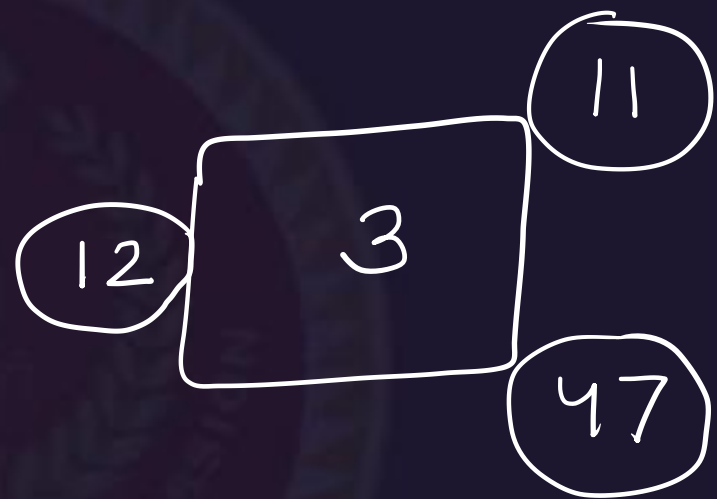

Find the odd (?)

- (A) 35 : 58 : 64
- (B) 47 : 68 : 81
- (C) 52 : 6 : 49
- (D) 61 : 24 : 49

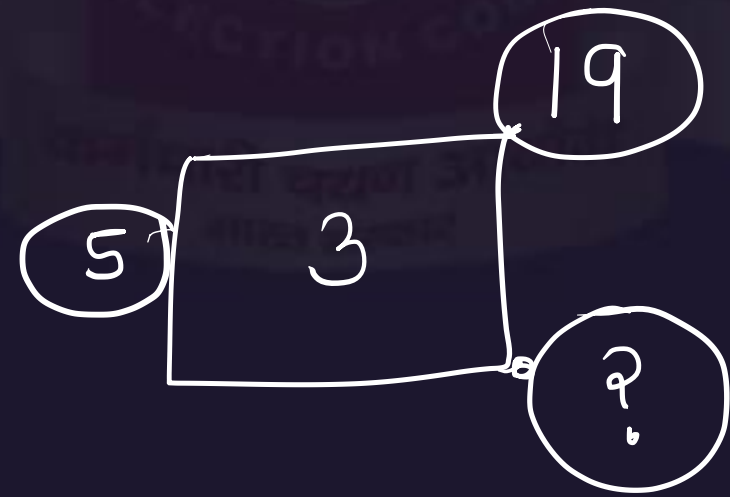




Find the Missing one (?)



- (A) 42
- (B) 46
- (C) 34
- (D) 36





Find the Missing one (?)

829 : 21 :: 274 : ?

- (A) 22
- (B) 20
- (C) 24
- (D) 23





Find the Missing one (?)

SING = 23

DEEP = 10

FOUR = ?

(A) 21

(B) 32

(C) 36


(D) 16





Find the Triangle (?)

- (A) 16
- (B) 15
- (C) 15
- (D) 13





Find the Missing one (?)

JAR = 181

HER = 149

SIT = ?

(A) 298

(B) 389

(C) 413

(D) 294

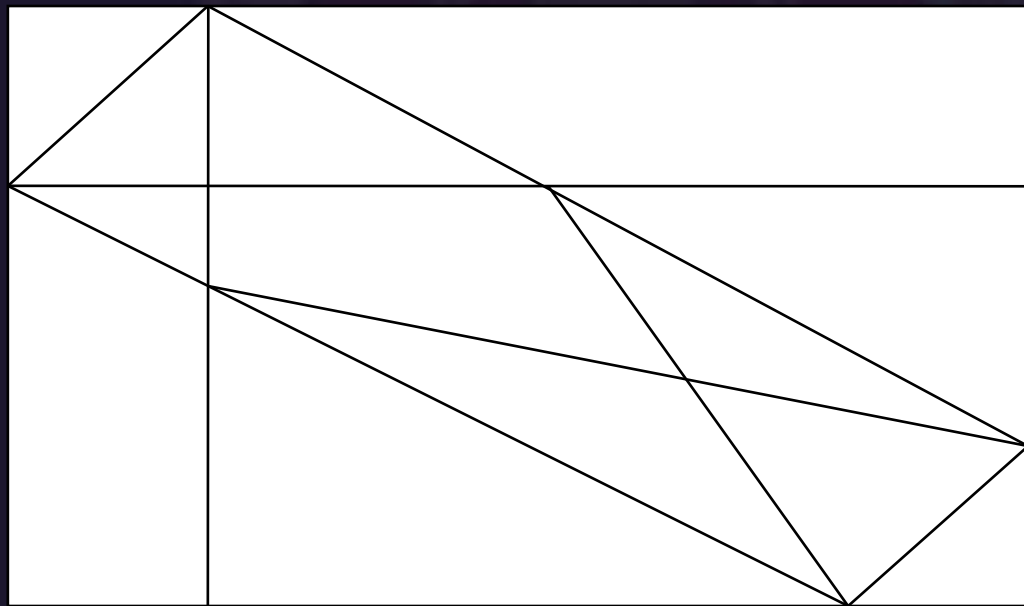




Find the Triangle (?)



- (A) 15
- (B) 17
- (C) 16
- (D) NOT





Find the option which should replace (?)



MASTER = 6

FREEDOM = 52

HERO = ?

A. 10

B. 15

C. 02

D. 25



Find the option which should replace (?)



23, 28, 38, 49, 62, ?

- (A) 70**
- (B) 77**
- (C) 85**
- (D) 75**



Find the odd one (?)



- (A) 500
- (B) 661
- (C) 200
- (D) 471



Q. In ASEAN Summit, all leaders shake hands with each other once. How many handshakes will there be altogether if there are 15 leaders?

आसियान शिखर सम्मेलन में, सभी नेताओं एक बार एक-दूसरे के साथ हाथ मिलाते हैं। 15 नेता हैं तो कितने हैंडशेक होंगे?

(A) 105

(B) 85

(C) 75

(D) 100





Q. Mukesh is 40 years old and he is five times as old as his brother Rohit. When Mukesh is thrice as old as Rohit then age of Mukesh is
मुकेश 40 साल का है और वह अपने भाई रोहित से पांच गुना बड़ा है। जब मुकेश रोहित से तीन गुना बड़ा है तो मुकेश की उम्र है-

- (A) 44 years
- (C) 48 years

- (B) 46 years
- (D) 40 years





A school has 2100 students. For every 20 students there is one class monitor. The number of monitors in the school is

एक स्कूल में 2100 छात्र हैं। प्रत्येक 20 छात्रों के लिए एक कक्षा का मॉनीटर होता है। स्कूल में मॉनीटर की संख्या क्या है-

- (A) 100
(C) 80

- (B) 75
(D) 85





In an examination, a student scores 4 marks for every correct answer and loses 1 mark for every wrong answer. If he attempts in all 60 question and secures 130 marks, the number of question he attempts correctly, is
एक परीक्षा में, एक छात्र प्रत्येक सही उत्तर के लिए 4 अंक स्कोर करता है और हर गलत उत्तर के लिए 1 अंक खो देता है। यदि वह सभी 60 प्रश्नों में प्रयास करता है और 130 अंकों को सुरक्षित करता है, तो उस के सही प्रश्नों की संख्या क्या होगी-

(A) 35

(B) 38

(C) 40

(D) 42





SSC MTS/HAWALDAR/CHSL

•Live at 08:30 PM



कर्मचारी चयन आयोग
भारत सरकार