

# SSC MTS/HAWALDAR/CHSL



**REASONING**

# LIVE EXAM

तैयारी जीत की...

**LIVE**

**08:30 PM**





# UPCOMING ONLINE BATCHES

## June 2022

**01 June 2022**

**08:00 AM to 10:00 AM**

**BANK ONLINE LIVE CLASS**

**03:00 PM to 05:00 PM**

**SSC ONLINE LIVE CLASS**

**BILINGUAL**

**08 June 2022**

**01:00 PM to 03:00 PM**

**BANK ONLINE LIVE CLASS**

**07:30 PM to 09:30 PM**

**SSC ONLINE LIVE CLASS**

**BILINGUAL**

**15 June 2022**

**05:30 PM to 07:30 PM**

**BANK ONLINE LIVE CLASS**

**10:30 AM to 12:30 PM**

**SSC ONLINE LIVE CLASS**

**BILINGUAL**

 [www.mahendras.org](http://www.mahendras.org)

 7052477777/7052577777



Mohit.. 16 hours ago [1 subscribers](#)

Thank-you Sir for today's Amazing Magical Class Session.. 🙏😊

And

Answer for today's homework is-  
Option D- Grain....

[Read more](#)

👍 🗨️ [REPLY](#)

👇 [View reply from Mahendras : Online Videos For Govt. Exams](#)



🌸 PUJA KUNDU 🌸 19 hours ago [7 subscribers](#)

The answer is—Grain.....thank you sir for the session 🙏🙏🙏🙏

👍 🗨️ [REPLY](#)

👇 [View reply from Mahendras : Online Videos For Govt. Exams](#)



Vishnu Gupta 18 hours ago [3 subscribers](#)

The Right ans D GRAIN

Very nice session sir Thank you 🙏 sir ❤️ 🙏

👍 🗨️ [REPLY](#)

👇 [View reply from Mahendras : Online Videos For Govt. Exams](#)



RIYA 😊😊 19 hours ago

Wonderful session sir

Right answer is option( D)

GRAIN

👍 🗨️ [REPLY](#)

👇 [View reply from Mahendras : Online Videos For Govt. Exams](#)



arun ch mandal 5 hours ago

GRAIN

thank you sir

nice session



REPLY



Ankit Vish 19 hours ago **108** subscribers

Answer DDD

Nice session sir 👍 👍



1



REPLY

▶ [View reply from Mahendras : Online Videos For Govt. Exams](#)



Bhavya thakur ✍️ \_\_\_\_\_ 8 hours ago **14** subscribers

Grain



1



REPLY

▶ [View reply from Mahendras : Online Videos For Govt. Exams](#)



puspranjan singh 19 hours ago

Yah Sabhi kheton Mein Hote Hain



REPLY



Rohit Gond 19 hours ago

GRAIN



REPLY

▶ [View reply from Mahendras : Online Videos For Govt. Exams](#)



puspranjan singh 19 hours ago

D



REPLY

▼ [View reply from Mahendras : Online Videos For Govt. Exams](#)



Tania Saha 18 hours ago

Grain



REPLY

▼ [View reply from Mahendras : Online Videos For Govt. Exams](#)





Find the missing one (?)

Wheat, Barley, Rice - ?  
गेहूं, जौ, चावल - ?

- A. Food / खाना
- B. Pizza / पिज़्ज़ा
- C. Farm / खेत
- D. Grain / अनाज



**Arrange the in Dictionary order :-**

- 1. First**
- 2. Frown**
- 3. Fist**
- 4. Fast**
- 5. Floor**

**A- 3,5,2,4,1**

**B- 4,1,3,5,2**

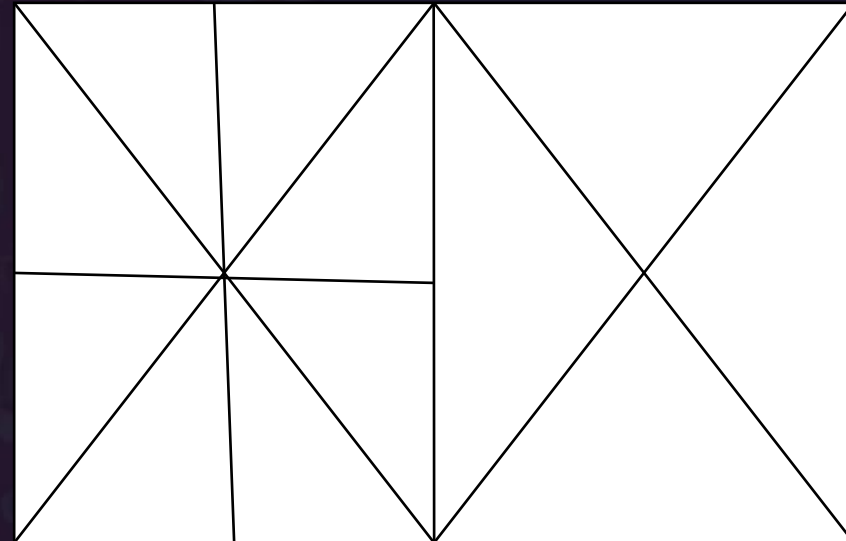
**C- 2,1,3,5,4**

**D- 2,4,1,5,3**



Find number of triangle in the given figure ?  
दी गई आकृति में त्रिभुज की संख्या ज्ञात कीजिए?

- (A) 24
- (B) 26
- (C) 28
- (D) 30







Find the missing one (?)

Lock : Shut :: Fasten :  
ताला : शट :: बांधना :

- A.Window / खिड़की
- B.Door / द्वार
- C.Iron / लोहा
- D.Block/ बाधा



Choose the word which is different from the rest.

- A. Kiwi / कीवी
- B. Eagle / ईगल
- C. Emu / एमु
- D. Ostrich / शुतुरमुर्ग







**Statement :**

All Samosas are Jalebi. सभी समोसा जलेबी हैं।

All Jalebis are Tikki. सभी जलेबीस टिक्की हैं।

All Tikkis are Barfi. सभी टिक्की बर्फी हैं।

**Conclusions :**

(I) All Toffee are not Barfi. सभी जलेबी बर्फी नहीं हैं।

(II) All Tikkis are Samosas. सभी टिक्की समोसे हैं।

(A) If only conclusion I follows.

(B) If only conclusion II follows.

(C) If neither conclusion I nor II follows.

(D) If both conclusion I and II are follows.



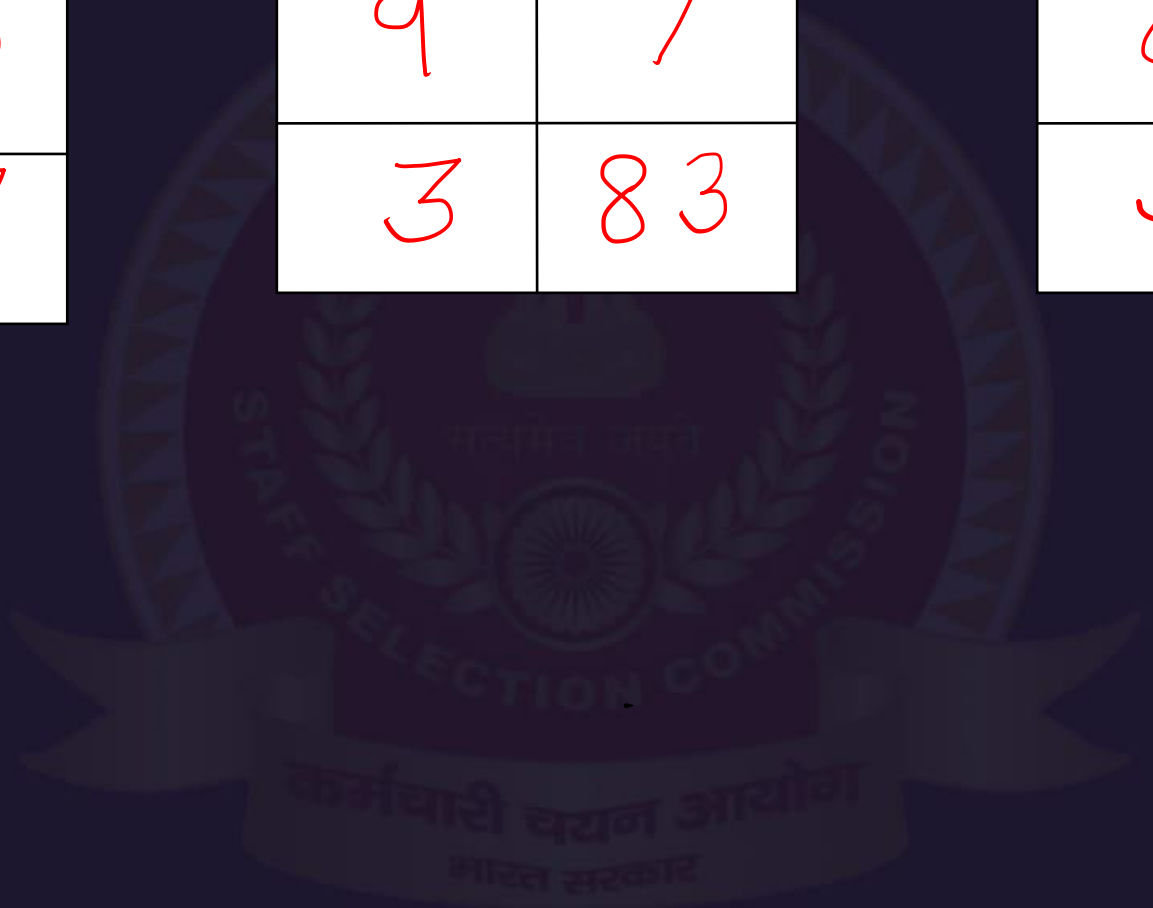
Find the option which should replace (?)

2	3
4	17

9	7
3	83

6	?
5	50

- (A) 11
- (B) 12
- (C) 10
- (D) 13







In 2018, which of the following two months have 1<sup>st</sup> day will be same days ?

2018 में, निम्नलिखित में से किस दो महीने में 1 दिन समान दिन होगा?

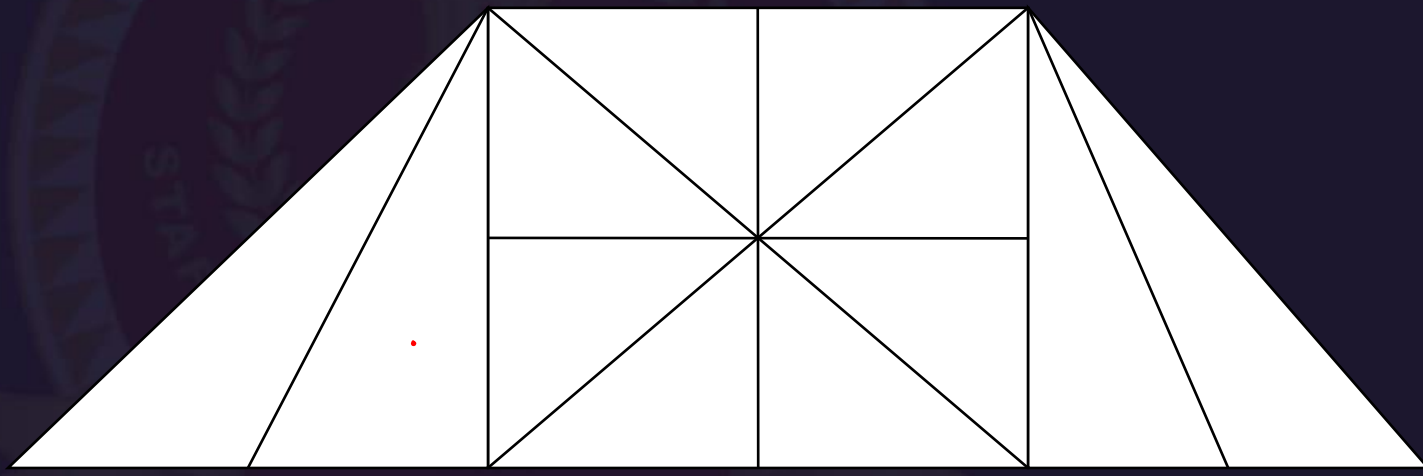
- 1) February , April
- 2) May , July
- 3) June , September
- 4) January , October





Find the number of triangle (?)


- (A) 14
- (B) 16
- (C) 18
- (D) 20 or more





Find the number of triangle (?)

- (A) 20
- (B) 19
- (C) 18
- (D) 22





The six faces of a dice have been marked with alphabets A, B, C, D, E and F respectively. This dice is rolled down three times. The three positions are shown as:



Find the alphabet opposite A.

- A.C
- B.D
- C.E
- D.F

(i) Top: A, Front: B, Right: C

(ii) Top: D, Front: C, Right: E

(iii) Top: F, Front: E, Right: B



Find the missing one (?)

$$37 * 25 = 7$$

$$95 * 37 = 5$$

$$87 * 85 = 15$$

$$27 * 41 = ?$$

- (A) 9
- (B) 7
- (C) 12
- (D) 13



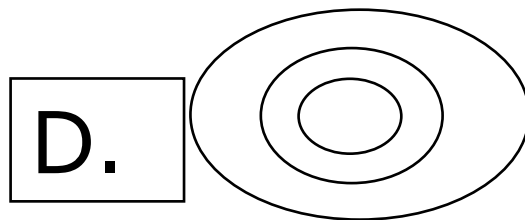
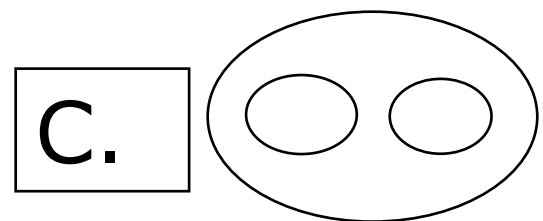
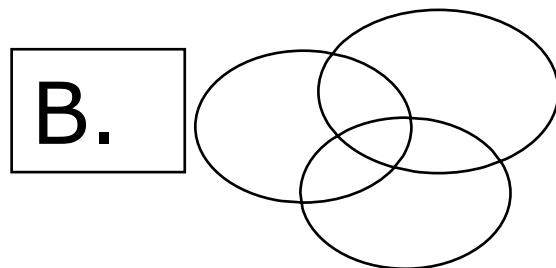
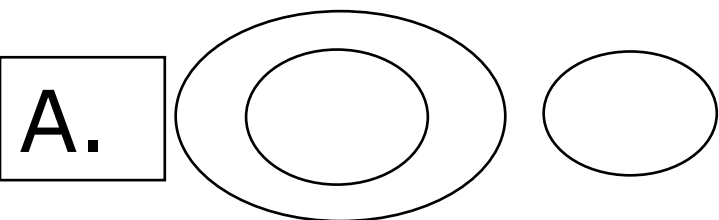


E	F	H	S
B	Q	C	V
D	F	G	?

- (A) R
- (B) S
- (C) Q
- (D) P



Which of the following diagrams indicate best relation between Author, Lawyer and Singer?  
निम्नलिखित में से कौन सा चित्र लेखक, वकील और गायक के बीच संबंध को दर्शाता है?






Find number of square in the given figure ?

(A) 42

(B) 30


(C) 49

(D) 28



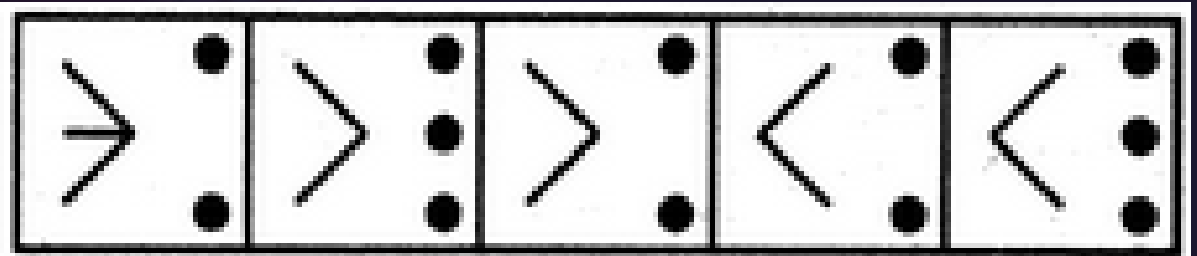


Problem Figures:



(A) (B) (C) (D)

Answer Figures:



(1) (2) (3) (4) (5)

- A.1
- B.2
- C.3
- D.4
- E.5





Choose the word which is different from the rest.

- A.Coat / कोट
- B.Shirt / शर्ट
- C.Blouse / ब्लाउज
- D.Trousers / पायजामा
- E.Sweater /स्वेटर





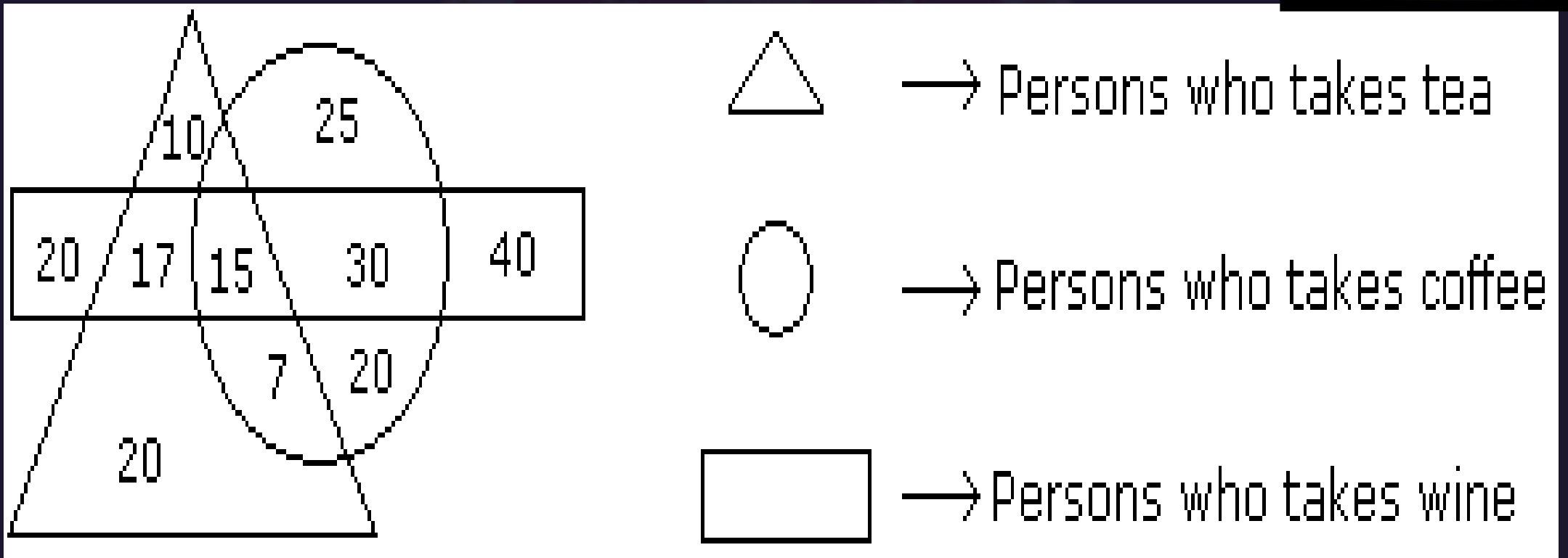


Study the diagram given below and answer each of the following questions.

How many persons who take tea and wine but not coffee ?  
कितने लोग हैं जो चाय और वाइन लेते हैं लेकिन कॉफी नहीं?



- A.20
- B.17
- C.25
- D.15





Find the option which should replace (?)

$jkl : 6 :: vsi : ?$

- (A) 15
- (B) 120
- (C) 40
- (D) NOT





**SSC MTS/HAWALDAR/CHSL**

**Live at 08:30 PM**



**In which year 2011 calender will be repeated  
किस वर्ष में 2011 कैलेंडर दोहराया जाएगा: -**



- (A) 2020**
- (B) 2021**
- (C) 2022**
- (D) 2023**



From the given alternative words, select the word which can be formed using the letters of the give word :

दिए गए वैकल्पिक शब्दों से, उस शब्द का चयन करें जिसे शब्द के अक्षरों का उपयोग करके बनाया जा सकता है:

**REPLENISHABLE**




- (1) LIME**
- (2) REACH**
- (3) SHINE**
- (4) PAPER**



Find number of triangle in the given figure ?  
दी गई आकृति में त्रिभुज की संख्या ज्ञात कीजिए?

- (A) 34
- (B) 20
- (C) 24
- (D) 16







In a certain language, **KUNAL** is written as **MWPCN**, then how is **KISHORE** written in same language?

**(A) MKJUTQG**

**(B) KMUJTQG**

**(C) MKUJQTG**

**(D) MKUJQGT**

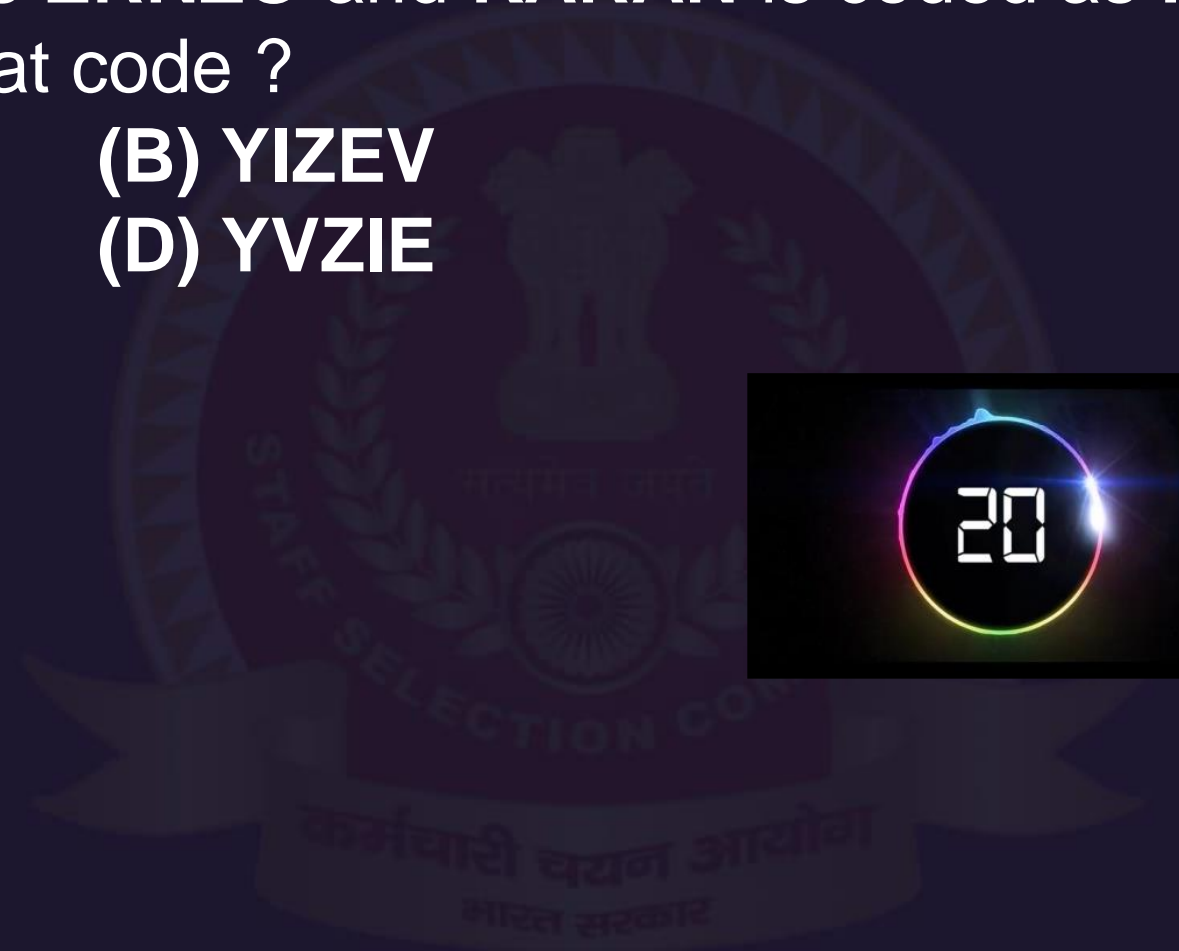




If **VIMAL** is coded as **ERNZO** and **KARAN** is coded as **PZIZM**. How **BRAVE** written in that code ?

- (A) YIZVE**
- (C) YZIEV**

- (B) YIZEV**
- (D) YVZIE**





If **FORGET** is coded as **DPPHCU**, how is **DOCTER** coded in that code ?

- (A) BPARPP
- (B) BPAUPS
- (C) EMDRPP
- (D) BPAUCS





If **HEALTH** is coded as **GSKZDG**, how is **NORTH** coded in that code ?

(A) OPSUI

(B) IUSPO

(C) GSQNM

(D) FRPML





If **MOHAN** is coded as **OOJAP**, how is **SANDEEP** coded in that code ?

- (A) UAPDGER
- (C) UPADGRE

- (B) UADPGER
- (D) UAPDEER







In a certain code language, **PERSON** is written as **EEGHDC**. How is **CORNER** written in same code language?

**(A) CDGCEG**

**(B) CDGEGE**

**(C) CDCGEG**

**(D) CEDCEG**







If **POTHER** is coded as **SNOQDG** and **BORROW** is coded as **QNAVNQ**.  
How **RAMSON** written in that code ?

- (A) LZQNMR                      (B) LZQRMN  
(C) LZQMNR                      (D) LQZMNR

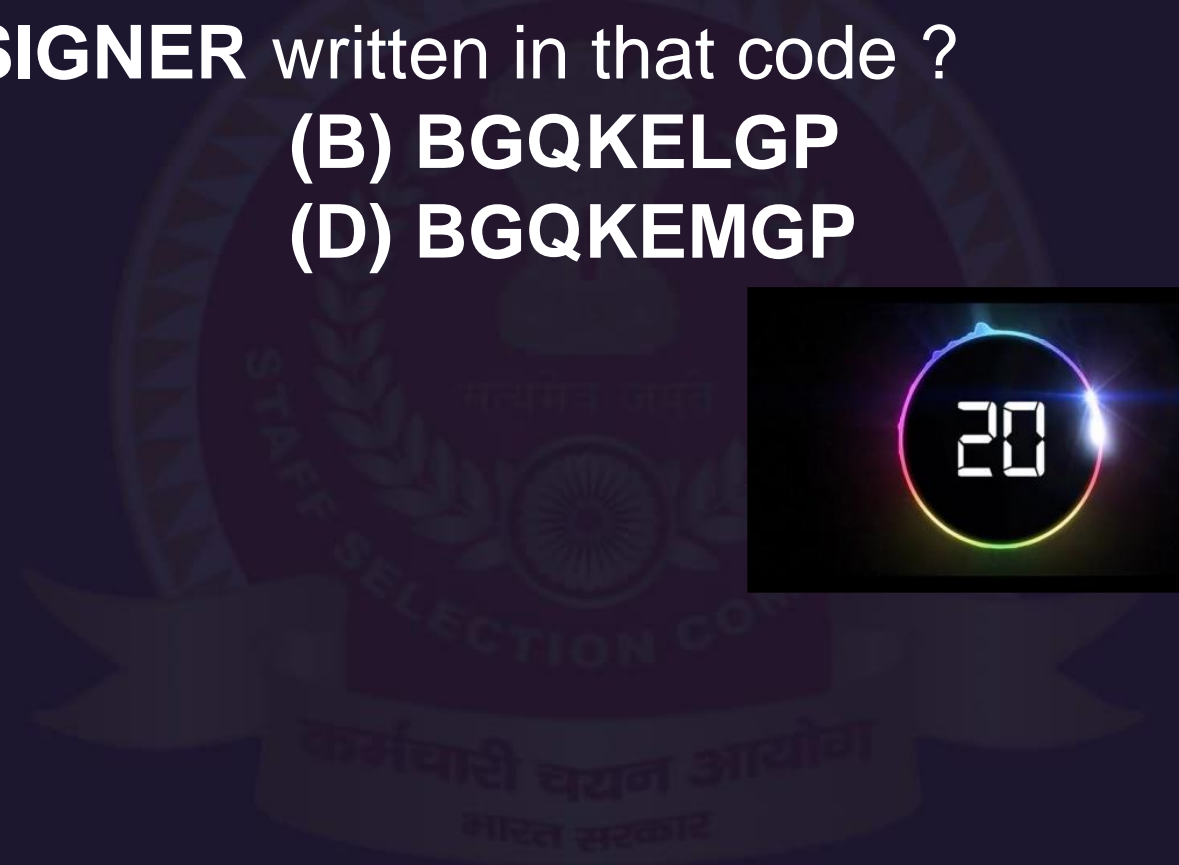




In a certain code **ANIMATE** is written as **CLKKCRG**. **ALIGN** is written as **CJKEL**, How is **DESIGNER** written in that code ?

- (A) FCUGILGS
- (C) FCUGILGT

- (B) BGQKELGP
- (D) BGQKEMGP





SSC MTS/HAWALDAR/CHSL

Live at 08:30 PM



SSC MTS/HAWALDAR/CHSL

Live at 08:30 PM



**Statements:**

A few balloons are not toys.

All toys are bear.

No bear is wild.

**Conclusions:**

No wild is a toy.

No balloon is wild.

**कथन:**

कुछ गुब्बारे खिलौने नहीं हैं।

सभी खिलौने भालू हैं।

कोई भालू जंगली नहीं है।

**निष्कर्ष:**

कोई वाइल्ड टॉय नहीं है।

कोई बैलून वाइल्ड नहीं है।





Your age is 10 years less than half of your mother's age . Mother is 5 years younger than your father , if your father is 45 years old , then what is your age ?

आपकी उम्र आपकी माँ की उम्र के आधे से 10 साल कम है। माँ आपके पिता से 5 साल छोटी है, अगर आपके पिता की उम्र 45 साल है, तो आपकी उम्र क्या है?

- (A) 20 years
- (B) 15 years
- (C) 10 years
- (D) 5 years





**SSC MTS/HAWALDAR/CHSL**

**Live at 08:30 PM**



Q. In ASEAN Summit, all leaders shake hands with each other once. How many handshakes will there be altogether if there are 15 leaders?

आसियान शिखर सम्मेलन में, सभी नेताओं एक बार एक-दूसरे के साथ हाथ मिलाते हैं। 15 नेता हैं तो कितने हैंडशेक होंगे?

(A) 105

(B) 85

(C) 75

(D) 100







Q. Mukesh is 40 years old and he is five times as old as his brother Rohit. When Mukesh is thrice as old as Rohit then age of Mukesh is  
मुकेश 40 साल का है और वह अपने भाई रोहित से पांच गुना बड़ा है। जब मुकेश रोहित से तीन गुना बड़ा है तो मुकेश की उम्र है-

- (A) 44 years
- (C) 48 years

- (B) 46 years
- (D) 40 years







A school has 2100 students. For every 20 students there is one class monitor. The number of monitors in the school is

एक स्कूल में 2100 छात्र हैं। प्रत्येक 20 छात्रों के लिए एक कक्षा का मॉनीटर होता है। स्कूल में मॉनीटर की संख्या क्या है-

- (A) 100  
(C) 80

- (B) 75  
(D) 85





In an examination, a student scores 4 marks for every correct answer and loses 1 mark for every wrong answer. If he attempts in all 60 question and secures 130 marks, the number of question he attempts correctly, is

एक परीक्षा में, एक छात्र प्रत्येक सही उत्तर के लिए 4 अंक स्कोर करता है और हर गलत उत्तर के लिए 1 अंक खो देता है। यदि वह सभी 60 प्रश्नों में प्रयास करता है और 130 अंकों को सुरक्षित करता है, तो उस के सही प्रश्नों की संख्या क्या होगी-

(A) 35

(B) 38

(C) 40

(D) 42





# SSC MTS/HAWALDAR/CHSL

•Live at 08:30 PM

