



SSC MTS 2022-23



REASONING

SESSION-I

DICE

सारे CONCEPT बस एक क्लास में



📡 LIVE | 03:00 PM

BY KULDEEP MAHENDRAS



UPCOMING ONLINE BATCHES

MARCH 2023

01 MARCH 2023

10:30 AM to 12:30 PM

SSC ONLINE LIVE CLASS

BILINGUAL

15 MARCH 2023

08:00 AM to 10:00 AM

BANK ONLINE LIVE CLASS

BILINGUAL

22 MARCH 2023

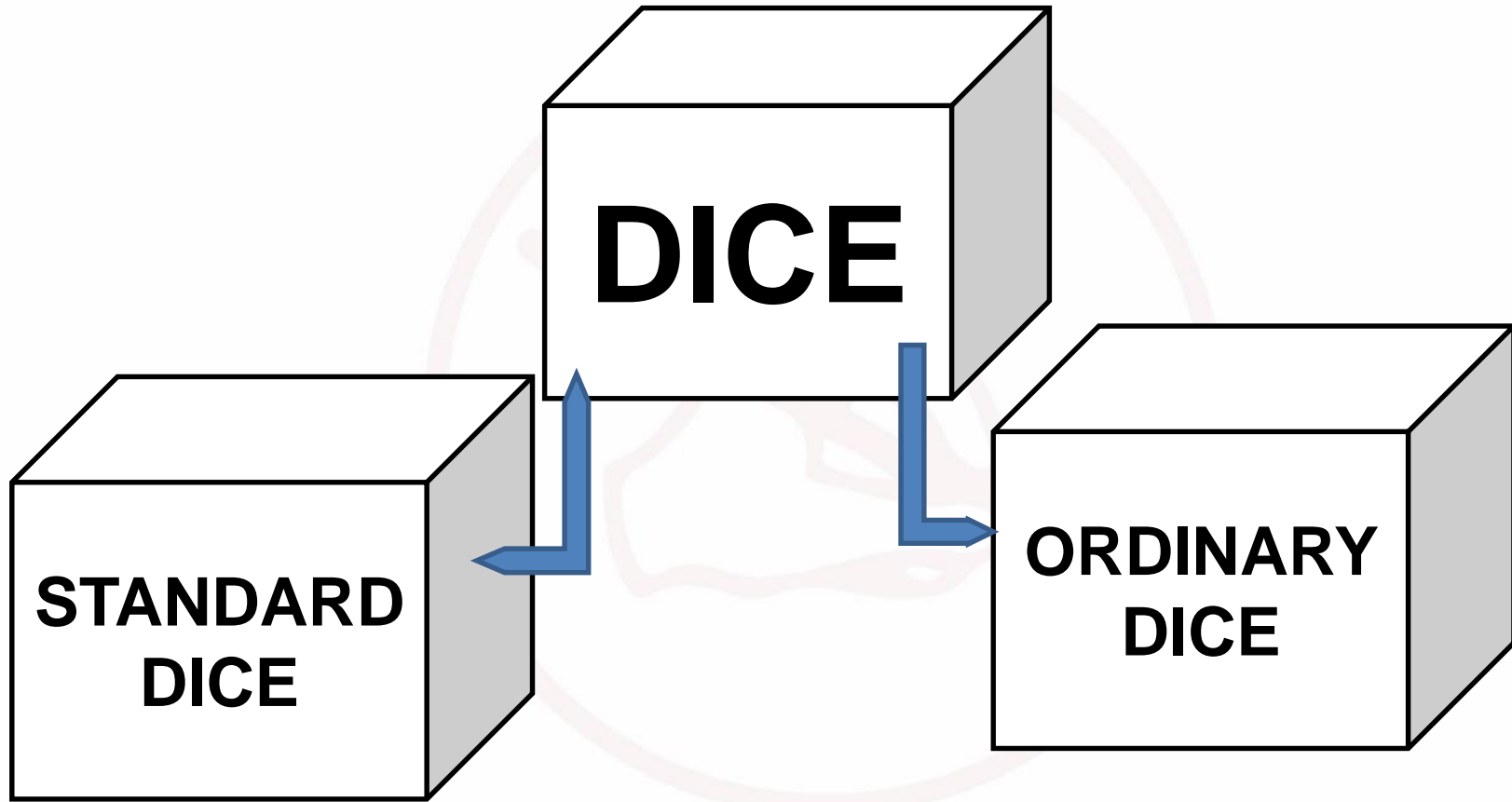
02:00 PM to 04:00 PM

BANK ONLINE LIVE CLASS

English & Bengali



www.mahendras.org •  7052477777/7052577777



SSC MTS 2022-23

• LIVE at 3:00 PM



SSC MTS 2022-23

• LIVE at 3:00 PM



SSC MTS 2022-23

• LIVE at 3:00 PM



SSC MTS 2022-23

• LIVE at 3:00 PM



Q: Two positions of dice are shown. What will appear on the opposite to the face containing 5?

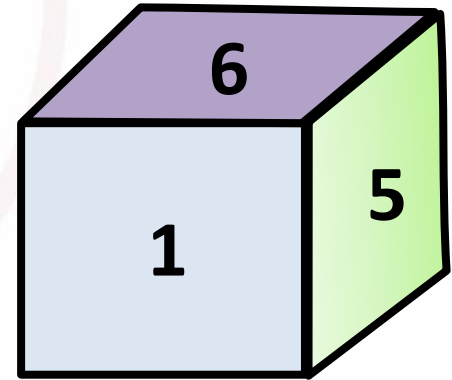
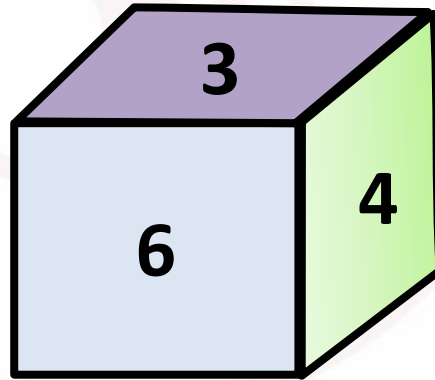
पासा की दो स्थितियां दिखाई गई हैं तो ज्ञात कीजिए की 5 के विपरीत सतह पर क्या होगा?

(A) 3

(B) 2

(C) 1

(D) 4

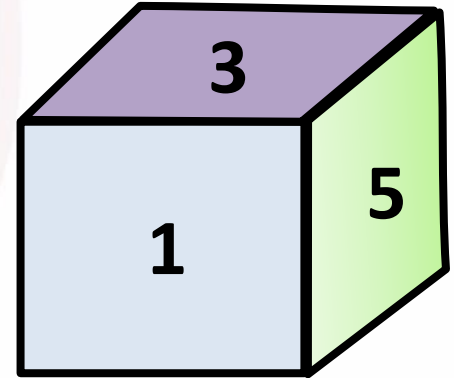
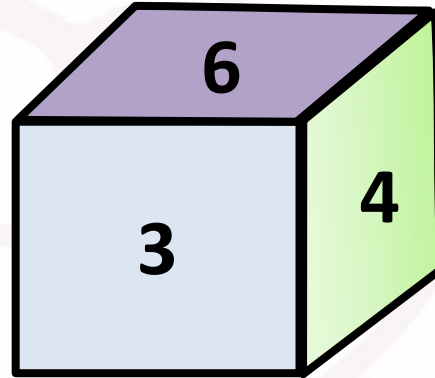


Q: Two positions of dice are shown. What will appear on the opposite to the face containing 3?

पासा की दो स्थितियां दिखाई गई हैं तो ज्ञात कीजिए कि 3 के विपरीत सतह पर क्या होगा?

- (A) 3
(C) 1

- (B) 2
(D) 4

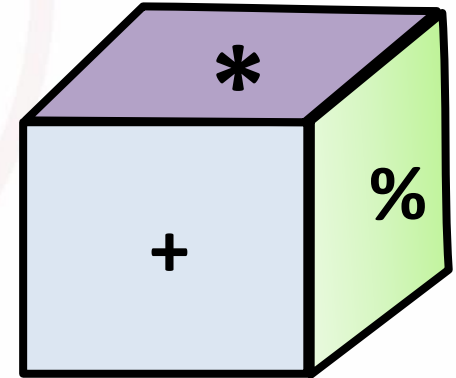
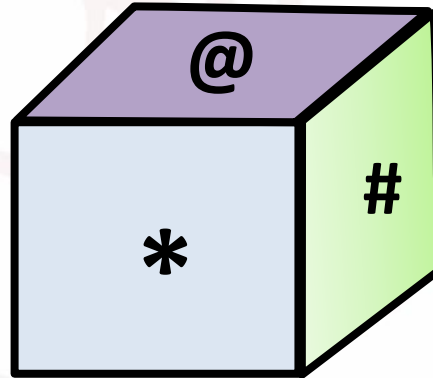


Q: Two positions of dice are shown. What will appear on the opposite to the face containing * ?

पासा की दो स्थितियां दिखाई गई हैं तो ज्ञात कीजिए की * के विपरीत सतह पर क्या होगा?

- (A) @
(C) \$

- (B) %
(D) CND

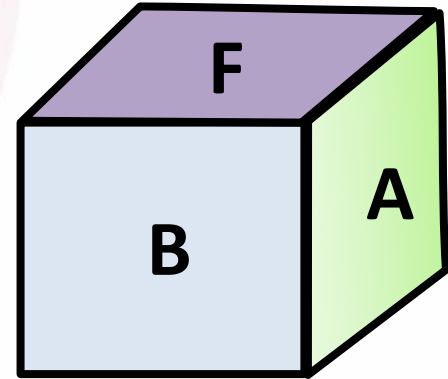
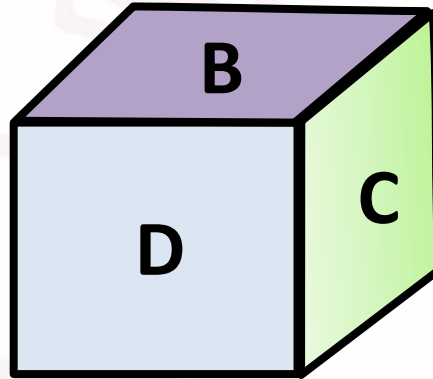


Q: Two positions of dice are shown using A to F letters. What will appear on the opposite to the face containing B?

पासा की दो स्थितियां A से F तक दिखाई गई हैं तो ज्ञात कीजिए कि B के विपरीत सतह पर क्या होगा?

- (A) F
(C) E

- (B) C
(D) CND

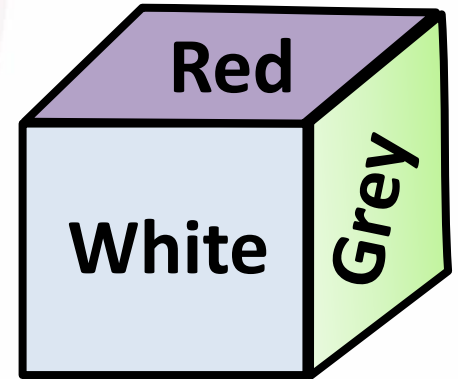
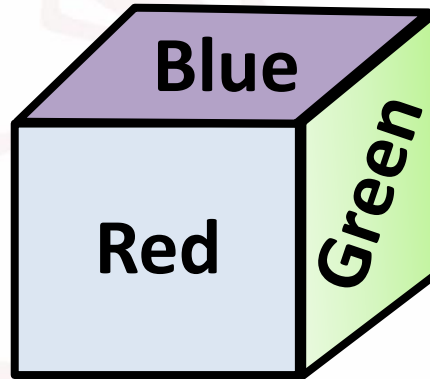


Q: Two positions of dice are shown. What will appear on the opposite to the face containing Brown?

पासा की दो स्थितियां दिखाई गई हैं तो ज्ञात कीजिए की 'भूरा' के विपरीत सतह पर क्या होगा?

- (A) Blue
(C) Red

- (B) White
(D) Green



Q.: Two positions of dice are shown. What will appear on the opposite to the face containing 4?

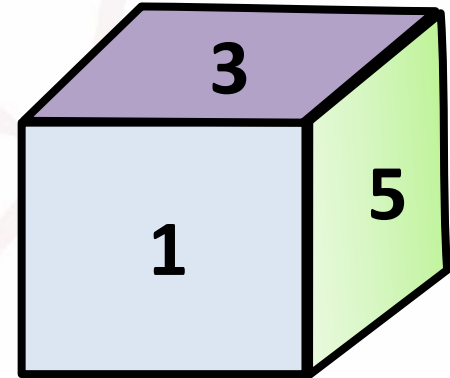
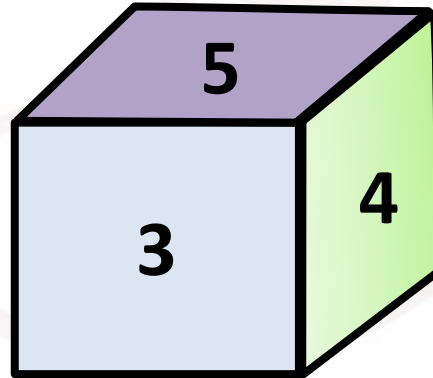
पासा की दो स्थितियां दिखाई गई हैं तो ज्ञात कीजिए की 4 के विपरीत सतह पर क्या होगा?

(A) 3

(B) 2

(C) 1

(D) 5



Q: Three positions of dice are shown. What will appear on the opposite to the face containing 2?

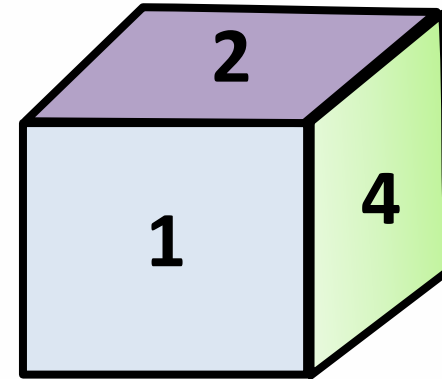
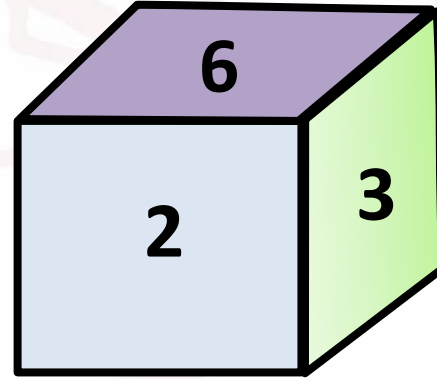
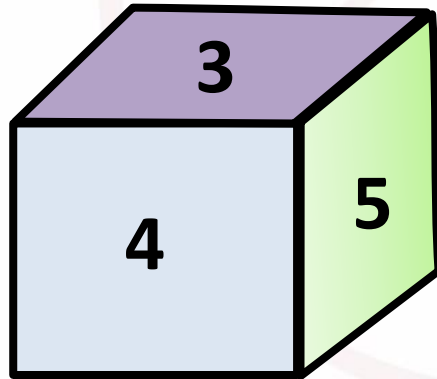
पासा की 3 स्थितियां दिखाई गई हैं तो ज्ञात कीजिए की 2 के विपरीत सतह पर क्या होगा?

(A) 3

(B) 5

(C) 1

(D) 6



Q: Three positions of dice are shown. What will appear on the opposite to the face containing O?

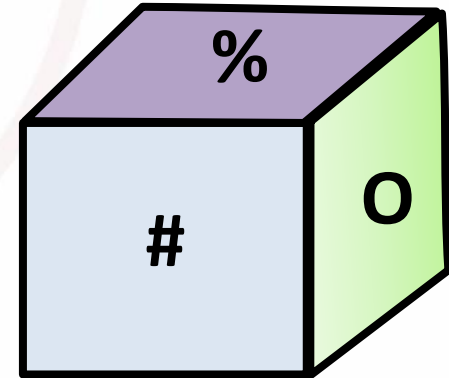
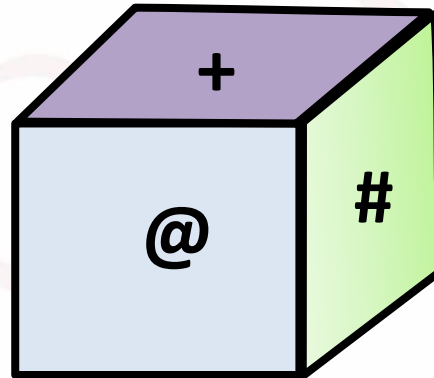
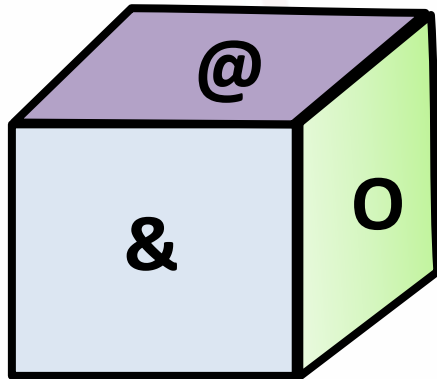
पासा की तीन स्थितियां दिखाई गई हैं तो ज्ञात कीजिए की 'O' के विपरीत सतह पर क्या होगा?

(A) #

(B) +

(C) %

(D) &

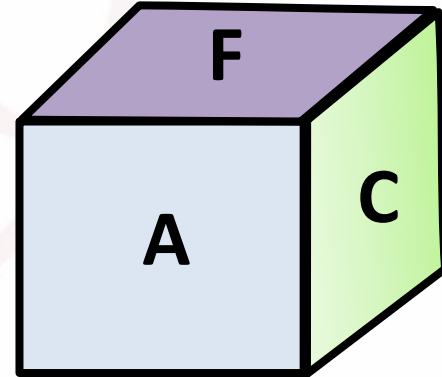
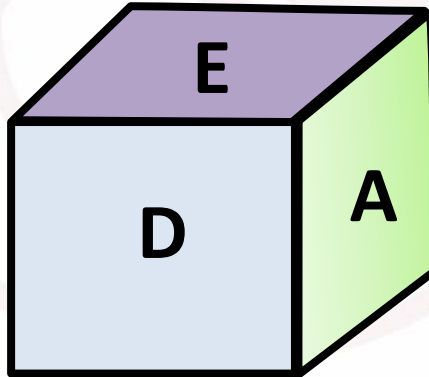
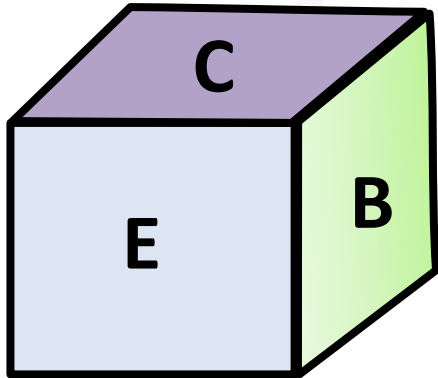


Q.: Three positions of dice are shown. What will appear on the opposite to the face containing A?

पासा की तीन स्थितियां दिखाई गई है तो ज्ञात कीजिए की A के विपरीत सतह पर क्या होगा?

- (A) C
(C) E

- (B) D
(D) B



Q: Four positions of dice are shown. What will appear on the opposite to the face containing O?

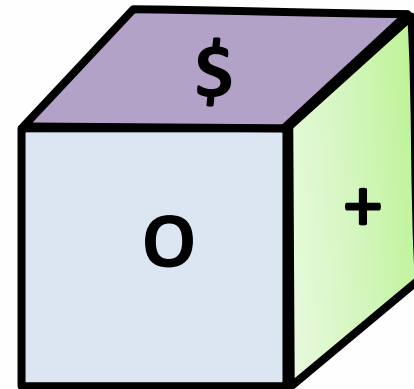
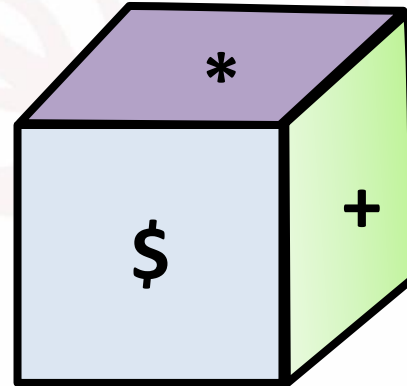
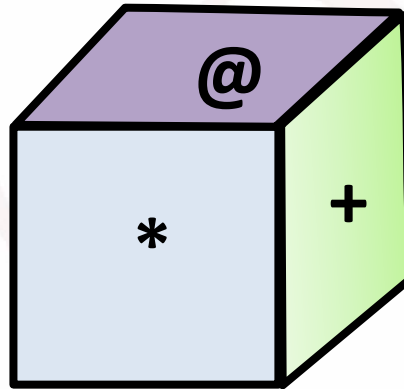
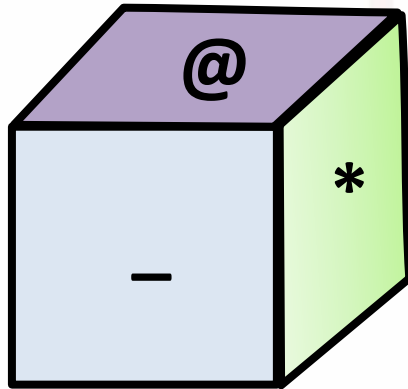
पासा की चार स्थितियां दिखाई गई हैं तो ज्ञात कीजिए की 'O' के विपरीत सतह पर क्या होगा?

(A) *

(B) \$

(C) @

(D) +



Q: From the four positions of a dice given below, find the colour which is opposite to Violet ?

पासा की चार स्थितियां दिखाई गई हैं तो ज्ञात कीजिए की बैंगनी के विपरीत सतह पर क्या होगा?

- (A) Red
(C) Blue

- (B) Yellow
(D) White

