

SSC MTS/HAWALDAR/CHSL



REASONING

LIVE EXAM

तैयारी जीत की...

LIVE

08:30 PM





UPCOMING ONLINE BATCHES

June 2022

01 June 2022

08:00 AM to 10:00 AM

BANK ONLINE LIVE CLASS

03:00 PM to 05:00 PM

SSC ONLINE LIVE CLASS

BILINGUAL

08 June 2022

01:00 PM to 03:00 PM

BANK ONLINE LIVE CLASS

07:30 PM to 09:30 PM

SSC ONLINE LIVE CLASS

BILINGUAL

15 June 2022

05:30 PM to 07:30 PM

BANK ONLINE LIVE CLASS

10:30 AM to 12:30 PM

SSC ONLINE LIVE CLASS

BILINGUAL

 www.mahendras.org

 7052477777/7052577777



Find the missing :-

ABSOLUTE : ESBLOTUA

CALENDER : ?

- 1. RLAENADC**
- 2. RLANEADC**
- 3. RALNEADC**
- 4. RANLAEDC**
- 5. None of these**





Find the missing :-

1495 : 11 :: 2659 : ?

- (A) 44**
- (B) 33**
- (C) 55**
- (D) 22**





Find the missing :-

- (A) 8**
- (B) 15**
- (C) 10**
- (D) 12**


13	6	43
2	35	8
6	4	?
25	146	163





Find the TRIANGLE :-

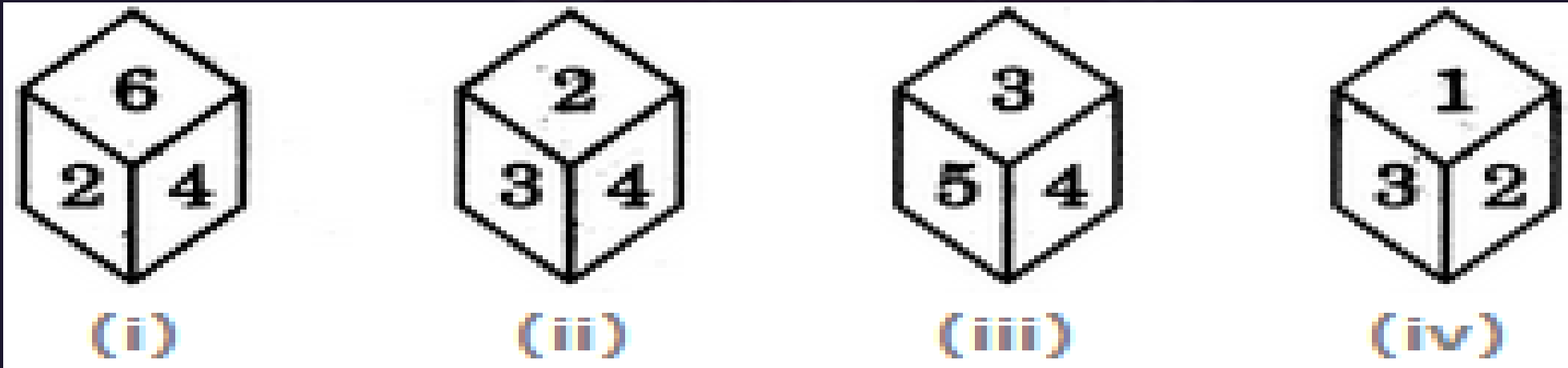
- (A) 14
- (B) 17
- (C) 18
- (D) 19





A die is thrown four times and its four different positions are shown below. Find the number on the face opposite the face showing 2

एक पासा चार बार फेंका जाता है और इसके चार अलग-अलग स्थान नीचे दिखाए गए हैं। 2 दिखाते हुए चेहरे के विपरीत चेहरे पर संख्या का पता लगाएं



- A. 3
- B. 4
- C. 5
- D. 6





Find the missing :-

- (A) 5**
- (B) 6**
- (C) 7**
- (D) 8**

5	7	6	36
10	?	17	64
9	11	8	56





SSC MTS/HAWALDAR/CHSL

•Live at 08:30 PM



Find the missing :-

FATHER : 6120818

COPY : 151625

WATCH : ?

(A) 2312038

(B) 1208

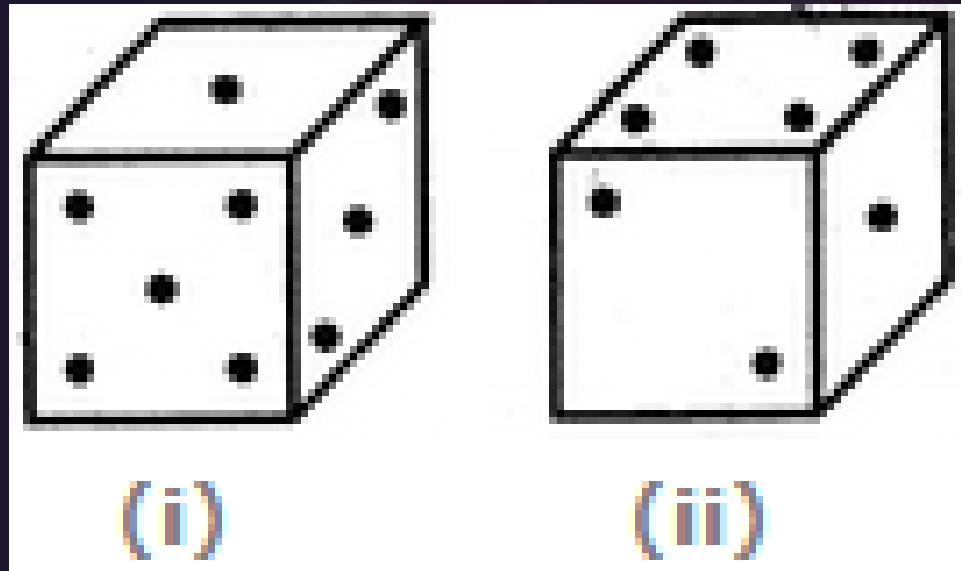
(C) 12038

(D) 231208





Two positions of a dice are shown below. When there are two dots at the bottom, the number of dots at the top will be



A.3

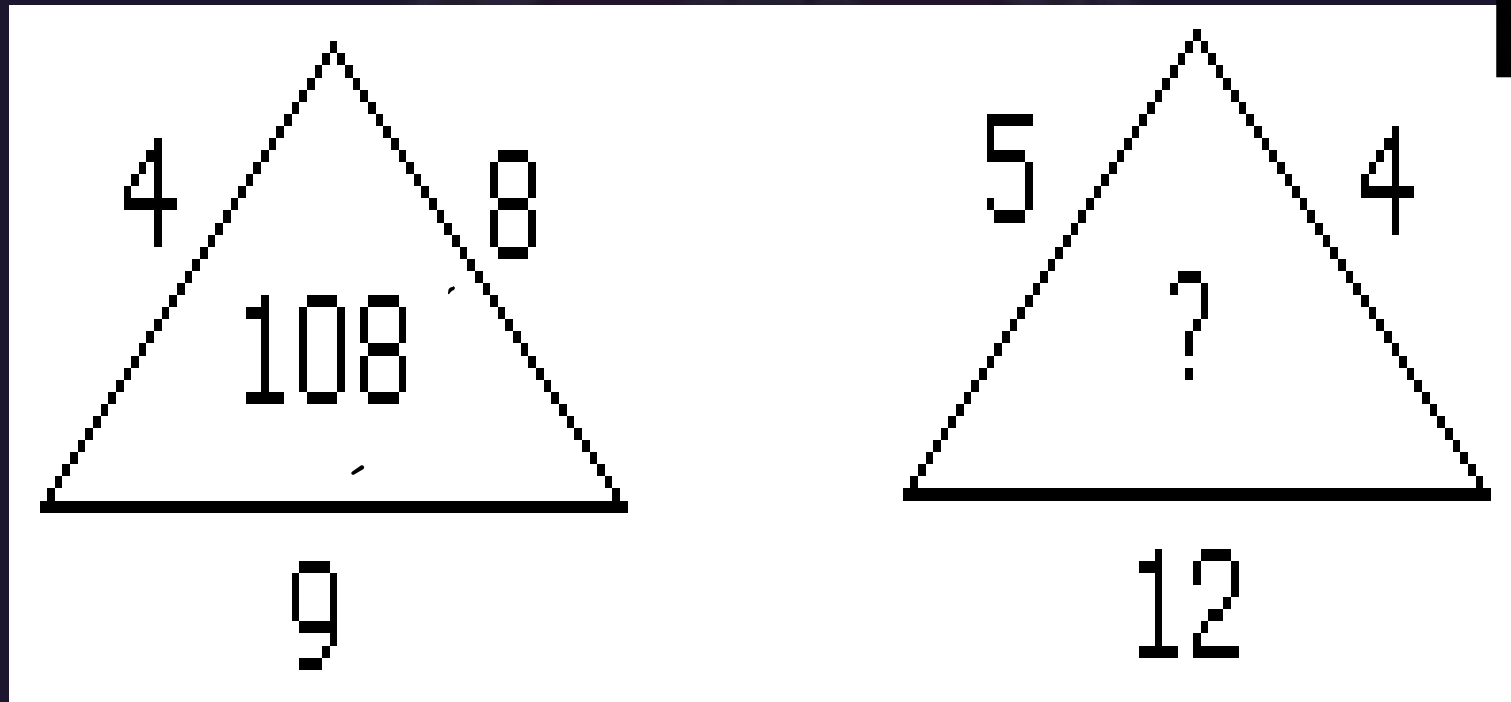
B.5

C.6

D. Cannot be determined



Find the option which should replace (?)



- A.80
- B.114
- C.108
- D.None of these



Find the option which should replace (?)

$$6 * 3 = 13$$

$$5 * 20 = 96$$

$$19 * 11 = ?$$

(A) 191

(B) 194

(C) 207

(D) 209





Find the Missing one (?)

22 : 14 :: 32 : ?

- (A) 19
- (B) 15
- (C) 12
- (D) 10





Find the missing term(?)

11 : 8 :: 15 : ?

- (A) 30
- (B) 25
- (C) 18
- (D) 12





Find the missing term(?)

19 : h :: 20 : ?

- (A) a
- (B) b
- (C) c
- (D) d





Find the missing term(?)

6 : 27 :: 10 : ?

- (A) 115
- (B) 145
- (C) 105
- (D) 125





Find the missing term(?)

$$5 : 21 :: 7 : ?$$

- (A) 25**
- (B) 49**
- (C) 43**
- (D) 30**





Your age is 10 years less than half of your mother's age . Mother is 5 years younger than your father , if your father is 45 years old , then what is your age ?

आपकी उम्र आपकी माँ की उम्र के आधे से 10 साल कम है। माँ आपके पिता से 5 साल छोटी है, अगर आपके पिता की उम्र 45 साल है, तो आपकी उम्र क्या है?

- (A) 20 years
- (B) 15 years
- (C) 10 years
- (D) 5 years





Q. In ASEAN Summit, all leaders shake hands with each other once. How many handshakes will there be altogether if there are 15 leaders?

आसियान शिखर सम्मेलन में, सभी नेताओं एक बार एक-दूसरे के साथ हाथ मिलाते हैं। 15 नेता हैं तो कितने हैंडशेक होंगे?

(A) 105

(B) 85

(C) 75

(D) 100





Q. Mukesh is 40 years old and he is five times as old as his brother Rohit. When Mukesh is thrice as old as Rohit then age of Mukesh is
मुकेश 40 साल का है और वह अपने भाई रोहित से पांच गुना बड़ा है। जब मुकेश रोहित से तीन गुना बड़ा है तो मुकेश की उम्र है-

- (A) 44 years
- (C) 48 years

- (B) 46 years
- (D) 40 years





A school has 2100 students. For every 20 students there is one class monitor. The number of monitors in the school is

एक स्कूल में 2100 छात्र हैं। प्रत्येक 20 छात्रों के लिए एक कक्षा का मॉनीटर होता है। स्कूल में मॉनीटर की संख्या क्या है-

- (A) 100
(C) 80

- (B) 75
(D) 85





In an examination, a student scores 4 marks for every correct answer and loses 1 mark for every wrong answer. If he attempts in all 60 question and secures 130 marks, the number of question he attempts correctly, is

एक परीक्षा में, एक छात्र प्रत्येक सही उत्तर के लिए 4 अंक स्कोर करता है और हर गलत उत्तर के लिए 1 अंक खो देता है। यदि वह सभी 60 प्रश्नों में प्रयास करता है और 130 अंकों को सुरक्षित करता है, तो उस के सही प्रश्नों की संख्या क्या होगी-

(A) 35

(B) 38

(C) 40

(D) 42

