



GS

NEW PATTERN पर आधारित AFRICA MAP (अफ्रीका का मानचित्र)



LIVE | 06:30 PM

BY ASHUTOSH MAHENDRAS



UPCOMING ONLINE BATCHES

November 2022

02 NOV 2022

08:00 AM to 10:00 AM

BANK ONLINE LIVE CLASS

05:30 PM to 07:30 PM

SSC ONLINE LIVE CLASS

BILINGUAL

09 NOV 2022

07:30 PM to 09:30 PM

BANK ONLINE LIVE CLASS

08:00 AM to 10:00 AM

SSC ONLINE LIVE CLASS

BILINGUAL

16 NOV 2022

01:00 PM to 03:00 PM

BANK ONLINE LIVE CLASS

03:00 PM to 05:00 PM

SSC ONLINE LIVE CLASS

BILINGUAL

23 NOV 2022

05:30 PM to 07:30 PM

BANK ONLINE LIVE CLASS

01:00 PM to 03:00 PM

SSC ONLINE LIVE CLASS

BILINGUAL

30 NOV 2022

10:30 AM to 12:30 PM

BANK ONLINE LIVE CLASS

07:30 PM to 09:30 PM

SSC ONLINE LIVE CLASS

BILINGUAL

02 NOV 2022

06:30 PM to 08:30 PM

BANK ONLINE LIVE CLASS

BENGALI+ENGLISH

23 NOV 2022

04:00 PM to 06:00 PM

BANK ONLINE LIVE CLASS

BENGALI+ENGLISH



www.mahendras.org • 7052477777/7052577777



अफ्रीका का मानचित्र / MAP OF AFRICA

H/w Q. What is the capital of Greece ?

✓ यूनान की राजधानी क्या है ?

S.S.C. ऑनलाइन CHSL (T-I) 27 जनवरी, 2017 (II- पाली)

(a) Buenos Aires/ ब्यूनस आर्यस

(b) Stockholm/ स्टॉकहोम

✓ (c) Athens / एथेंस

(d) Bern / बर्न



अफ्रीका का मानचित्र / MAP OF AFRICA

- एथेंस यूरोपीय देश यूनान की राजधानी एवं वहां का सबसे बड़ा शहर है। यह विश्व के प्राचीनतम शहरों में विख्यात है।
- Athens is the capital and largest city of the European country of Greece. It is famous among the oldest cities of the world.



Zikra Yasmeen 1 day ago

Option C



Reply



VEDANT yaduwanshi 1 day ago (edited)

YUNNAN capital ATHENS 🙌🙌🙌🙌🙌



1



Reply



VEDANT yaduwanshi 19 hours ago

Sir ghaghar aur ghagra nadi alag 2 hai kya plz



Reply



Surbhi Sinha 1 day ago

Athens



Reply



Rahul Yadav 1 day ago

B



Reply



Farooqui..... 1 day ago

Athens



Reply



Pragya Chaubey 1 day ago

Athens



Reply



Bishnu 1 day ago

Athens



Reply



अफ्रीका का मानचित्र / MAP OF AFRICA

अफ्रीका का मानचित्र

Map of Africa



ARCTIC OCEAN

EUROPE

ASIA

NORTH AMERICA

ATLANTIC OCEAN

CARIBBEAN

PACIFIC OCEAN

CENTRAL AMERICA

AFRICA

INDIAN OCEAN

Equator

PACIFIC OCEAN

SOUTH AMERICA

ATLANTIC OCEAN

AUSTRALIA

ANTARCTICA





अफ्रीका का मानचित्र / MAP OF AFRICA

Q.1 Drakensberg mountain is located in-

ड्राकेंसवर्ग पर्वत कहां स्थित है?

S.S.C. ऑनलाइन स्नातक स्तरीय (T-1) 11 अगस्त, 2017 (III- पाली)

GL

a) In Namibia /नामीबिया में

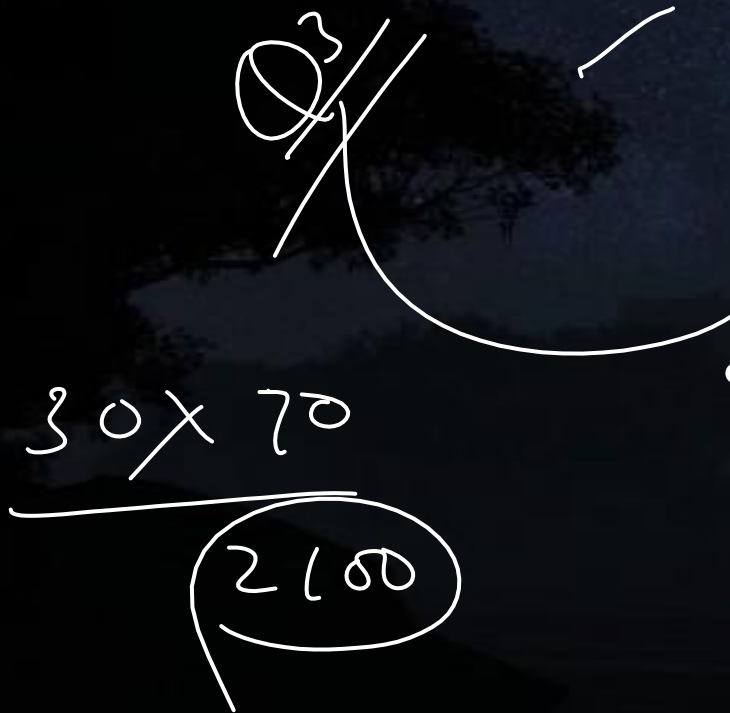
b) In botswana/बोत्सवाना में

c) In zambia/जाम्बिया में

d) In South Africa/दक्षिण अफ्रीका में



अफ्रीका का मानचित्र / MAP OF AFRICA



- ड्राकेंसबर्ग पर्वत (Drakensberg Mountain) दक्षिण अफ्रीका का सर्वोच्च पर्वत है। इसकी ऊंचाई 3,482 मीटर है तथा इसका विस्तार दक्षिण अफ्रीका एवं लेसोथो दो देशों में है।
- Drakensberg Mountain is the highest mountain in South Africa. Its height is 3,482 meters and it is spread in two countries of South Africa and Lesotho.



NAMIBIA

BOTSWANA

ZIMBABWE

MOZAMBIQUE

Pretoria

SWAZILAND

Drakensberg

INDIAN OCEAN

ATLANTIC OCEAN

Orange

Bloemfontein

LESOTHO

Durban

SOUTH AFRICA

Cape Town

Port Elizabeth

0 150 300 mi





अफ्रीका का मानचित्र / MAP OF AFRICA

Q.2 In which continent is the Atlas Mountains located?

किस महाद्वीप में एटलस पर्वत स्थित है ?

(a) Asia/ एशिया

(b) Australia/ ऑस्ट्रेलिया

(c) Africa/अफ्रीका

(d) Europe/ यूरोप



अफ्रीका का मानचित्र / MAP OF AFRICA



- एटलस पर्वत अफ्रीका महाद्वीप के मोरक्को, अल्जीरिया एवं ट्यूनीशिया देशों में विस्तारित है।
- The Atlas Mountains extend into the countries of Morocco, Algeria and Tunisia in the African continent.



अफ्रीका का मानचित्र / MAP OF AFRICA

Q.3 Which is the largest desert in the world?

विश्व का सबसे बड़ा रेगिस्तान कौन-सा है?

(a) Kalahari/ कालाहारी

(b) Sahara/सहारा

(c) Gobi/गोबी

(d) Thar/थार



अफ्रीका का मानचित्र / MAP OF AFRICA


Q2

- सहारा मरुस्थल विश्व का सबसे बड़ा इतर ध्रुवीय (Non-Polar) मरुस्थल है । उत्तरी अफ्रीका में स्थित इस शुष्क मरुस्थल का कुल क्षेत्रफल लगभग 35,00,000 वर्ग मील है ।
- The Sahara Desert is the largest non-polar desert in the world. The total area of this dry desert located in North Africa is about 35,00,000 square miles.

Top 10 Largest Deserts in the World



Rank	Name	Area (sq mi)
1	Antarctica	5,500,000
2	Arctic	5,000,000
3	Sahara	3,320,000
4	Arabian Desert	900,000
5	Gobi Desert	500,000
6	Kalahari Desert	360,000
7	Great Victoria Desert	220,000
8	Patagonian Desert	200,000
9	Syrian Desert	200,000
10	Great Basin Desert	190,000





अफ्रीका का मानचित्र / MAP OF AFRICA

Q.4 Where is the greatest extent of the savannah?

✓ सवाना का सर्वाधिक विस्तार कहां है?

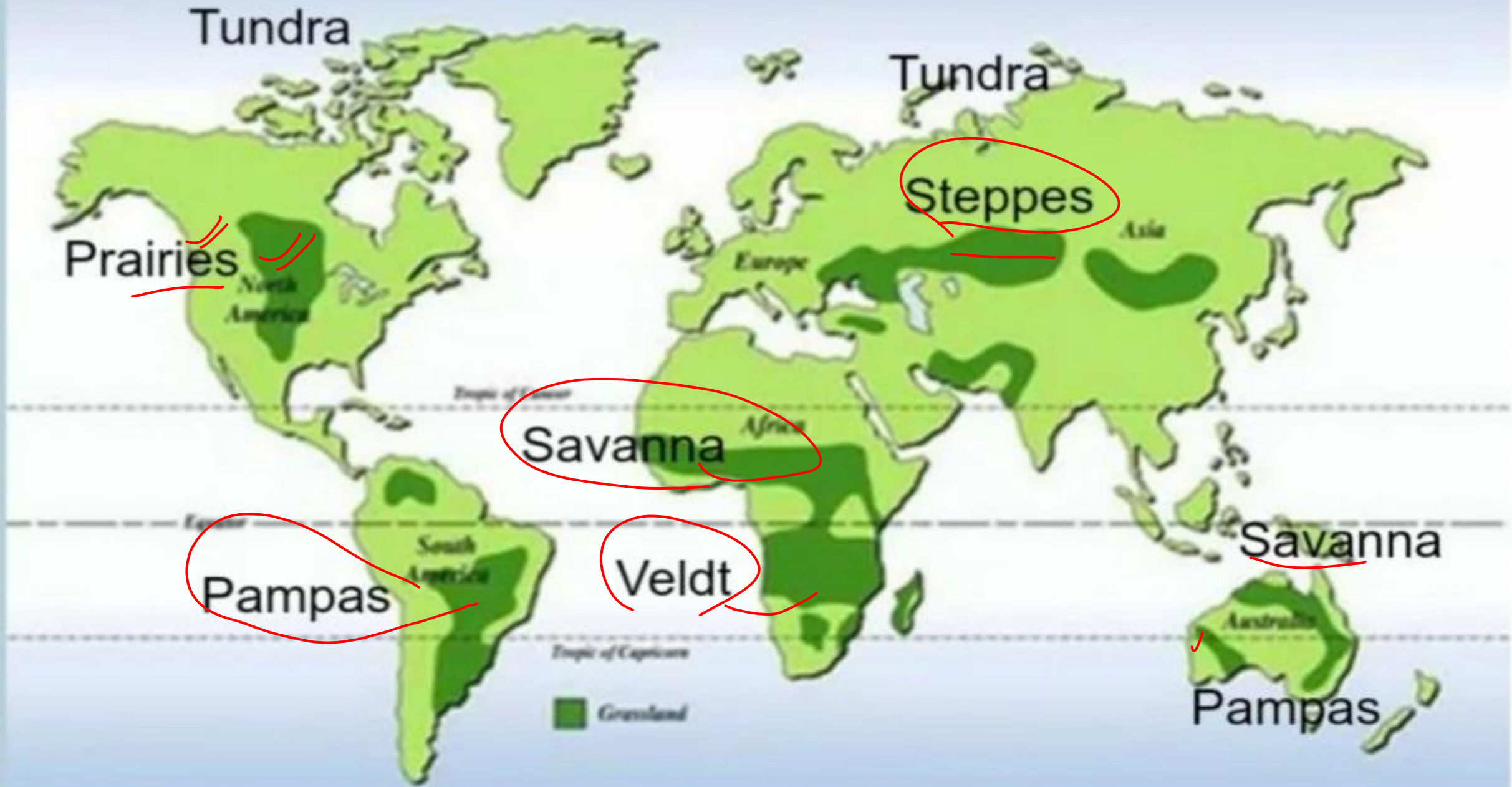
- ✓ (a) Africa/ अफ्रीका
- (b) Asia/ एशिया
- (c) North America/ उत्तरी अमेरिका
- (d) South America / दक्षिणी अमेरिका



अफ्रीका का मानचित्र / MAP OF AFRICA

- सवाना घास मैदान मुख्यतः पूर्वी अफ्रीका में फैले हैं। इसके अतिरिक्त ओरिनिको बेसिन (वेनेजुएला एवं कोलंबिया), ब्राजील, बेलीज एवं होण्डुरास के अतिरिक्त भारत के दक्षिणी भागों में भी ये पाए जाते हैं।
- Savannah grasslands are spread mainly in East Africa. Apart from this, they are also found in the southern parts of India apart from Orinco Basin (Venezuela and Colombia), Brazil, Belize and Honduras.

Grasslands of the World



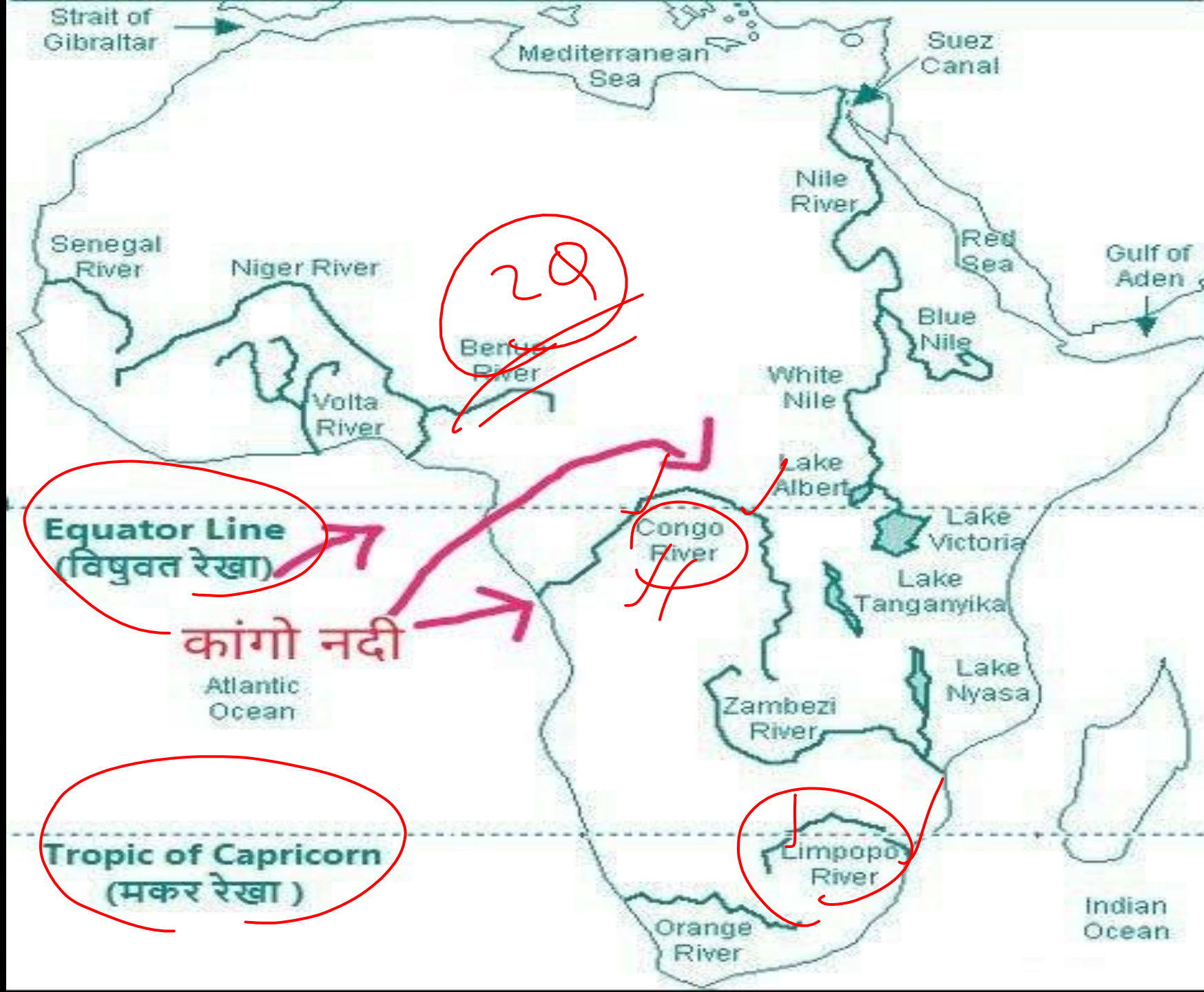


अफ्रीका का मानचित्र / MAP OF AFRICA

Q.5 Which river crosses through the Tropic of Capricorn twice?

✓ कौन सी नदी मकर रेखा को दो बार काटती है?

- a) Luni river/लूनी नदी
- b) Ganga river/गंगा नदी
- ✓ c) Limpopo river/लिम्पोपो नदी
- d) Amazon river/अमेजन नदी



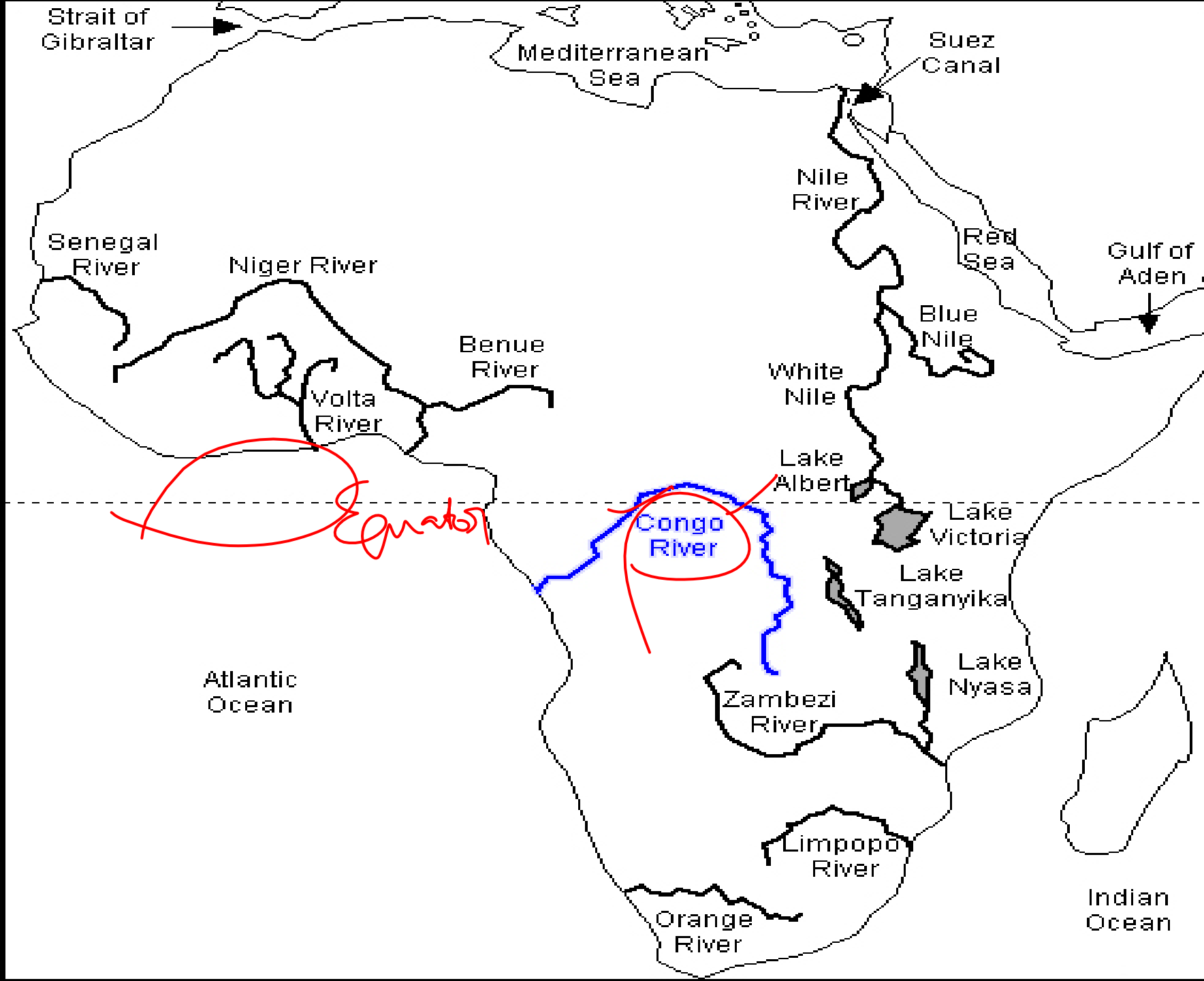


अफ्रीका का मानचित्र / MAP OF AFRICA

Q.6 Which river crosses through the equator twice?

कौन सी नदी भूमध्य रेखा को दो बार दो बार काटती है?

- a) Congo (Zaire)/कांगो (ज़ैरे)
- b) Narmada/नर्मदा
- c) Limpopo/लिम्पोपो
- d) Mahi /माही





अफ्रीका का मानचित्र / MAP OF AFRICA

Q.7 Which river crosses through the Tropic of Cancer twice?

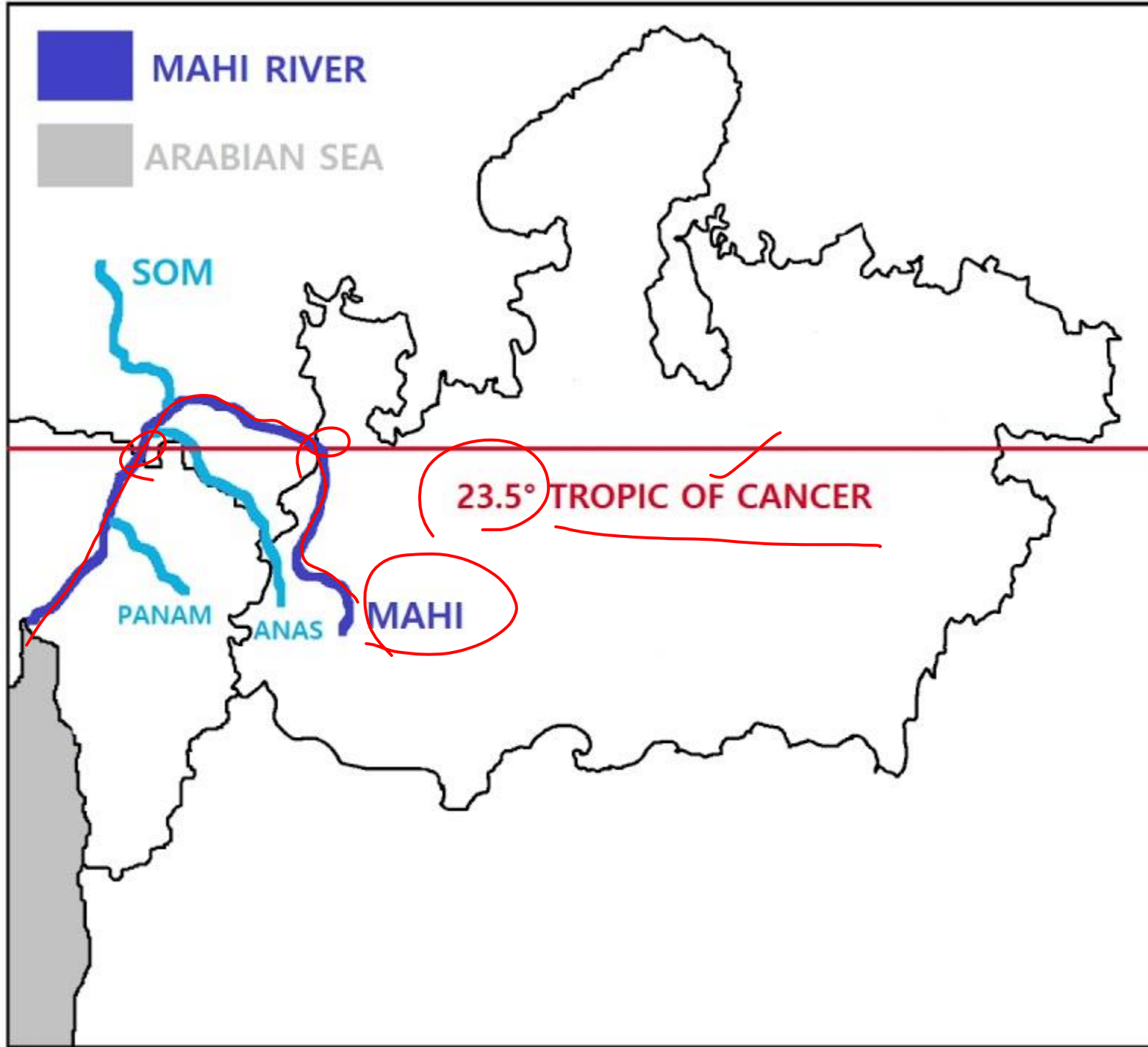
कौन सी नदी कर्क रेखा को दो बार काटती है?

a) Godavari/ गोदावरी

b) Narmada/ नर्मदा

c) Ganga/ गंगा

d) Mahi/ माही





अफ्रीका का मानचित्र / MAP OF AFRICA

Q.8 Which among the following is the highest peak in Africa?

निम्नलिखित में से कौन अफ्रीका की सबसे ऊँची चोटी है?

- a) Mount Kilimanjaro/माउंट किलिमंजारो
- b) Mount Kenya/माउंट केन्या
- c) Mount Algan/माउंट अल्गानो
- d) Mount Hanang/माउंट हनंग



Location of world heritage sites in Africa's Mountains





अफ्रीका का मानचित्र / MAP OF AFRICA

Q.9 Kampala is the capital of which of the following African countries?

कंपाला निम्नलिखित में से किस अफ्रीकी देश की राजधानी है?

a) Uganada/युगांडा

b) Zambia/ज़ाम्बिया

c) Kenya/केन्या

d) Angola/अंगोला





अफ्रीका का मानचित्र / MAP OF AFRICA

Q.10 Rhodesia is the old name of ?

रोडेशिया किसका पुराना नाम है?

a) Zaire/ज़ैरे

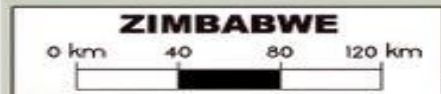
b) Zimbabwe/जिम्बाब्वे

c) Switzerland/स्विट्ज़रलैंड

d) Malawi/मलावी



- National Capital (1,686,000 in 99)
- over 200,000
- over 100,000
- over 25,000
- other main city
- other city
- Capital of province





अफ्रीका का मानचित्र / MAP OF AFRICA

Q.11 Part of the 'Horne of Africa'-

✓ 'हार्न ऑफ अफ्रीका' के अंग हैं-

(a) Algeria, Morocco and West Sahara/
अल्जीरिया, मोरक्को तथा पश्चिम सहारा

(b) Libya, Sudan and Egypt /
लीबिया, सूडान तथा मिस्र

✓ (c) Somalia, Ethiopia and Djibouti/
सोमालिया, इथियोपिया तथा जिबूती

(d) Zimbabwe, Botswana and Angola/,
ज़िम्बाब्वे, बोत्सवाना तथा अंगोला










अफ्रीका का मानचित्र / MAP OF AFRICA



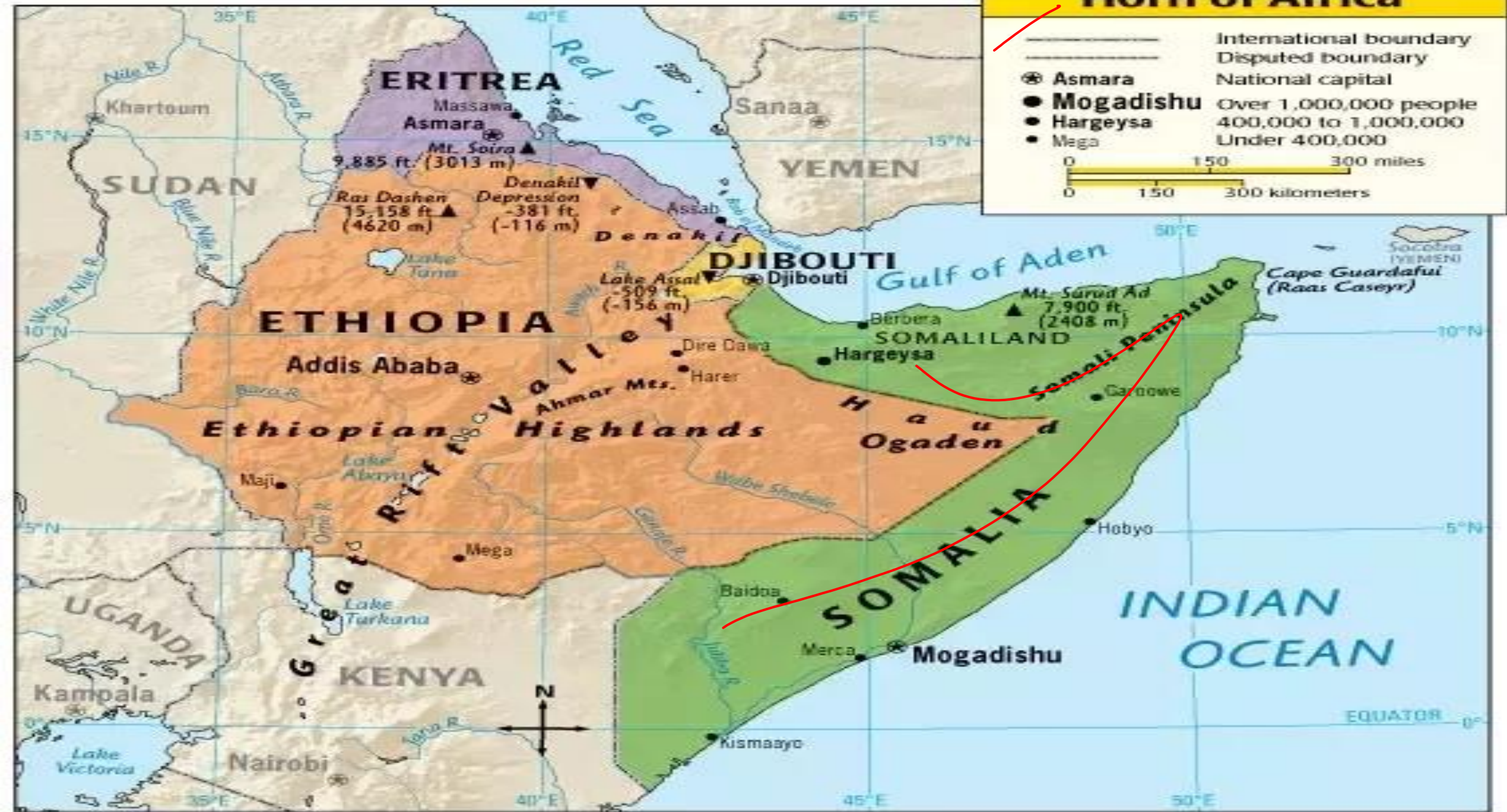
- हार्न ऑफ अफ्रीका (Horn of Africa) अथवा सोमाली प्रायद्वीप (Somali Peninsula) पूर्वी अफ्रीका महाद्वीप में सींग के आकार का त्रिकोण निकला हुआ भाग है। इसमें जिबूती (Djibouti), इथियोपिया (Ethiopia), इरीट्रिया (Eritrea) और सोमालिया (Somalia) सम्मिलित हैं।
- The Horn of Africa or the Somali Peninsula is a horn-shaped triangular protrusion in the continent of East Africa. It includes Djibouti, Ethiopia, Eritrea and Somalia.

Horn of Africa

	International boundary
	Disputed boundary
	Asmara
	Mogadishu
	Hargeysa
	Mega
	Over 1,000,000 people
	400,000 to 1,000,000
	Under 400,000



0 150 300 miles
0 150 300 kilometers





अफ्रीका का मानचित्र / MAP OF AFRICA

Q.12 Zambia does not share a common border with-

जाम्बिया की सीमा उभयनिष्ठ नहीं है-

(a) with Namibia/नामीबिया के साथ

(b) with Angola/अंगोला के साथ

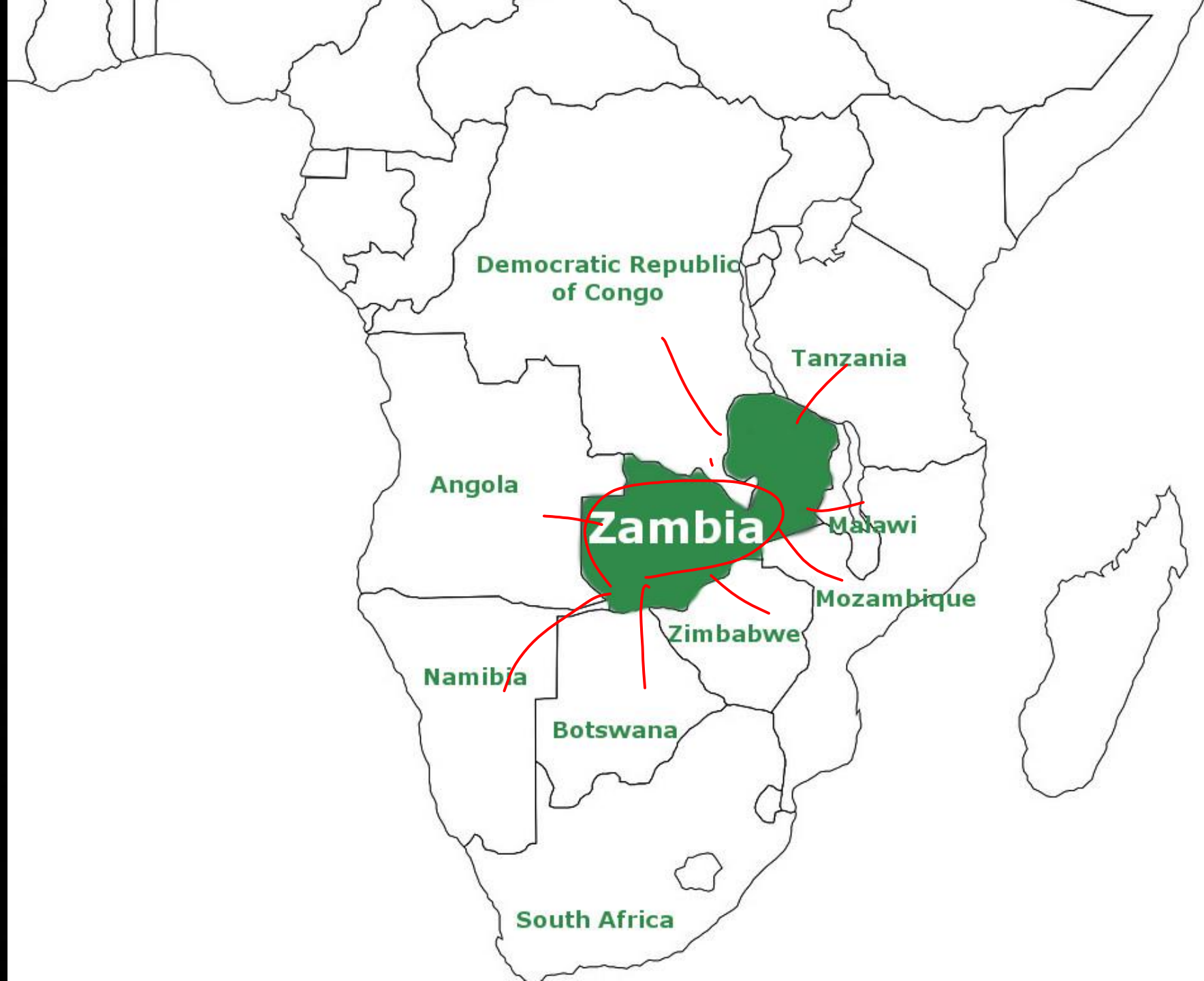
(c) with Tanzania/तंजानिया के साथ

~~(d) with Peris /पेरिस के साथ~~



अफ्रीका का मानचित्र / MAP OF AFRICA

- जाम्बिया, अफ्रीका महाद्वीप के दक्षिण में स्थित एक भू-आबद्ध देश है। इसके उत्तर में कांगो लोकतांत्रिक गणराज्य, उत्तर-पूर्व में तंजानिया, पूर्व में माली, दक्षिण में मोजाम्बिक, जिम्बाब्वे, बोत्सवाना एवं नामीबिया तथा पश्चिम में अंगोला स्थित है।
- Zambia is a landlocked country located in the south of the continent of Africa. It is bordered by the Democratic Republic of the Congo to the north, Tanzania to the northeast, Mali to the east, Mozambique, Zimbabwe, Botswana and Namibia to the south, and Angola to the west.



Democratic Republic
of Congo

Tanzania

Angola

Zambia

Malawi

Mozambique

Zimbabwe

Namibia

Botswana

South Africa



अफ्रीका का मानचित्र / MAP OF AFRICA

Q.13 The country which tops in the production of cocoa is-

कोकोआ के उत्पादन में कौन-सा देश सबसे आगे है ?

S.S.C. ऑनलाइन स्नातक स्तरीय (T-I) 31 अगस्त, 2016 (II- पाली)

GL

(a) Ghana / घाना

(b) Brazil / ब्राजील

(c) Ivory Coast / आइवरी कोस्ट

(d) Nigeria / नाइजीरिया



अफ्रीका का मानचित्र / MAP OF AFRICA

Q2

- कोकोआ के उत्पादन में अफ्रीकी देश 'आइवरी कोस्ट' सबसे आगे है। विश्व में कोकोआ के सर्वाधिक उत्पादक तीन देश क्रमशः आइवरी कोस्ट, घाना तथा इंडोनेशिया हैं।
- The African country 'Ivory Coast' is at the fore in the production of cocoa. The three largest producers of cocoa in the world are Ivory Coast, Ghana and Indonesia respectively.



MOROCCO

ALGERIA

Western Sahara

MAURITANIA

MALI

NIGER

CHAD

SENEGAL

BURKINA FASO

NIGERIA

SUDAN

THE GAMBIA

GUINEA

CÔTE D'IVOIRE

GHANA

TOGO

BENIN

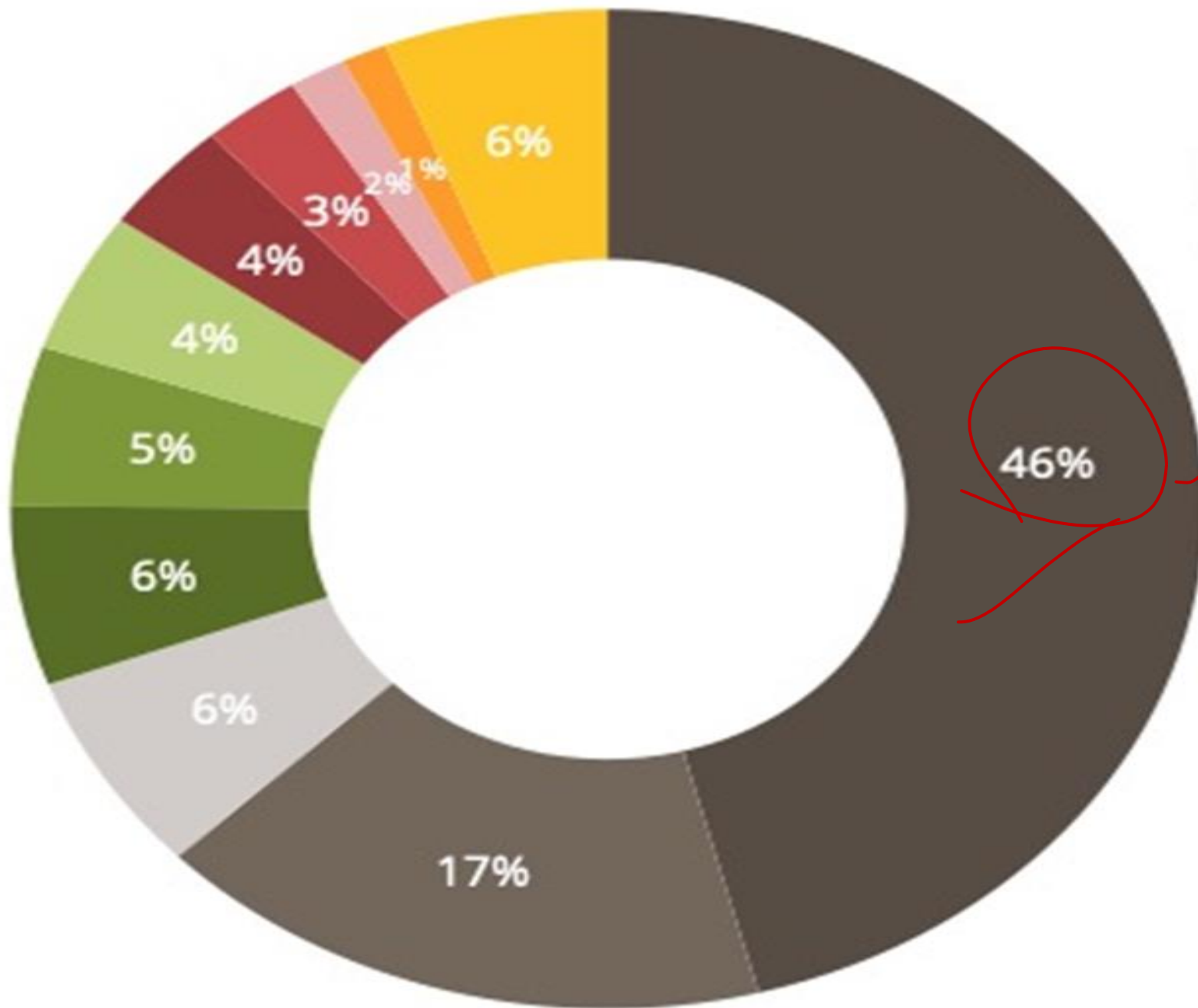
GUINEA-BISSAU

SIERRA LEONE

LIBERIA

CAMEROON

CENTRAL AFRICAN REPUBLIC



Production of cocoa beans
by country in %

- Côte-d'Ivoire
- Ghana
- Ecuador
- Cameroon
- Nigeria
- Indonesia
- Brazil
- Peru
- Dominican Republic
- Colombia
- Rest of world

Source: ICCO 2019



अफ्रीका का मानचित्र / MAP OF AFRICA

Q.14 Strait of Gibraltar connects which of the following?

जिब्राल्टर जलडमरूमध्य किनको जोड़ता है?

S.S.C. ऑनलाइन स्नातक स्तरीय (T-I) 9 सितंबर, 2016 (II- पाली)

- (a) Red Sea Mediterranean Sea / लाल सागर- भूमध्य सागर
- (b) Red Sea - Arabian Sea / लाल सागर - अरब सागर
- (c) Atlantic Ocean Mediterranean Sea / अटलांटिक महासागर - भूमध्य सागर
- (d) Mediterranean Sea Black Sea / भूमध्य सागर -काला सागर



अफ्रीका का मानचित्र / MAP OF AFRICA

- अटलांटिक महासागर तथा भूमध्य सागर को जिब्राल्टर जलडमरूमध्य जोड़ता है। यह यूरोप को अफ्रीका से पृथक करने वाली जल संधि है।
- The Strait of Gibraltar connects the Atlantic Ocean and the Mediterranean Sea. This is the water treaty separating Europe from Africa.



Atlantic Ocean

FRANCE

PORTUGAL

SPAIN

Gibraltar

Strait of Gibraltar

Mediterranean Sea

AFRICA

Europe

Barbate

Gibraltar

Algeciras

Tarifa

Strait of Gibraltar

Ceuta

Tanger

Africa

Atlantic Ocean

Mediterranean Sea





अफ्रीका का मानचित्र / MAP OF AFRICA

Q.15 Which of the following sea treaties separates Asia from Africa?

निम्न में से कौन-सी समुद्र संधि अफ्रीका से एशिया को अलग करती है?

C.P.O. S.I. 5 जून, 2016 (I- पाली)

(a) Malacca/ मलक्का

(b) Hormuz/ होरमुज

(c) Bab-al-Mandeb/बाब-अल-मंदेब

(d) Bosphorus/ बोस्फोरूस



अफ्रीका का मानचित्र / MAP OF AFRICA

- बाब-अल-मंदेब जल संधि अफ्रीका महाद्वीप से एशिया महाद्वीप को अलग करती है। यह लाल सागर को हिंद महासागर से जोड़ती है।
- The Bab-el-Mandeb Water Treaty separates the continent of Asia from the continent of Africa. It connects the Red Sea with the Indian Ocean.



إسرائيل
Israel
الأردن
Jordan

Iraq

Iran

مصر
Egypt

Saudi
Arabia

الإمارات
العربية المتحدة
United Arab
Emirates

Oman

Sudan

Eritrea

Yemen

Djibouti

Bab el-Mandeb

Somalia

Ethiopia

Uganda

Kenya



अफ्रीका का मानचित्र / MAP OF AFRICA

Q.16 Suez Canal connects –
स्वेज नहर किसको मिलाती है?

- (a) Red Sea and Arabian Sea / लाल सागर व अरबसागर
- ✓ (b) Red Sea and Mediterranean Sea / लाल सागर व भूमध्य सागर
- (c) Arabian Sea and Mediterranean Sea / अरब सागर व भूमध्य सागर
- (d) North Sea and Baltic Sea / उत्तरी सागर व बाल्टिकसागर



अफ्रीका का मानचित्र / MAP OF AFRICA

- स्वेज नहर मिस्र के सिनाई प्रायद्वीप में बनाई गई विश्व की सबसे बड़ी कृत्रिम नहर है। इसकी लंबाई मूलतः 164 किमी. है। वर्तमान में इसकी लंबाई 193.3 किमी. है। यह भूमध्य सागर और लाल सागर को जोड़ती है। इसे 1869 ई. में जहाजों के आवागमन के लिए खोल दिया गया था।
- The Suez Canal is the world's largest artificial canal built in the Sinai Peninsula of Egypt. Its length was originally 164 km. At present its length is 193.3 km. It connects the Mediterranean Sea and the Red Sea. It was opened for the movement of ships in 1869 AD.

Europe-Asia Shipping Routes



Mediterranean

Suez Canal

Indian Ocean

Strait of Malacca

- Suez Canal Route
- Cape of Good Hope Route



अफ्रीका का मानचित्र / MAP OF AFRICA

Q.17 Which port is located at the northern entrance of the Suez Canal?

स्वेज नहर के उत्तरी प्रवेश द्वार पर कौन-सा बंदरगाह अवस्थित है?

(a) Cahira/काहिरा

(b) Port Rotterdam/ पोर्ट रॉटरडम

(c) Port Saeed/पोर्ट सईद

(d) Port Alexandria/ पोर्ट अलेक्जेंड्रिया



अफ्रीका का मानचित्र / MAP OF AFRICA

- स्वेज नहर के उत्तरी प्रवेश द्वार पर पोर्ट सईद बंदरगाह अवस्थित है, जबकि इसके दक्षिणी प्रवेश द्वार पर पोर्ट स्वेज स्थित है। यह नहर लाल सागर को भूमध्य सागर से जोड़ती है।
- Port Said port is located at the northern entrance of the Suez Canal, while Port Suez is located at its southern entrance. This canal connects the Red Sea with the Mediterranean Sea.





अफ्रीका का मानचित्र / MAP OF AFRICA

Q.18 Which of the following is a cold ocean current?

निम्नलिखित में से कौन-सी एक ठंडी महासागरीय धारा है?

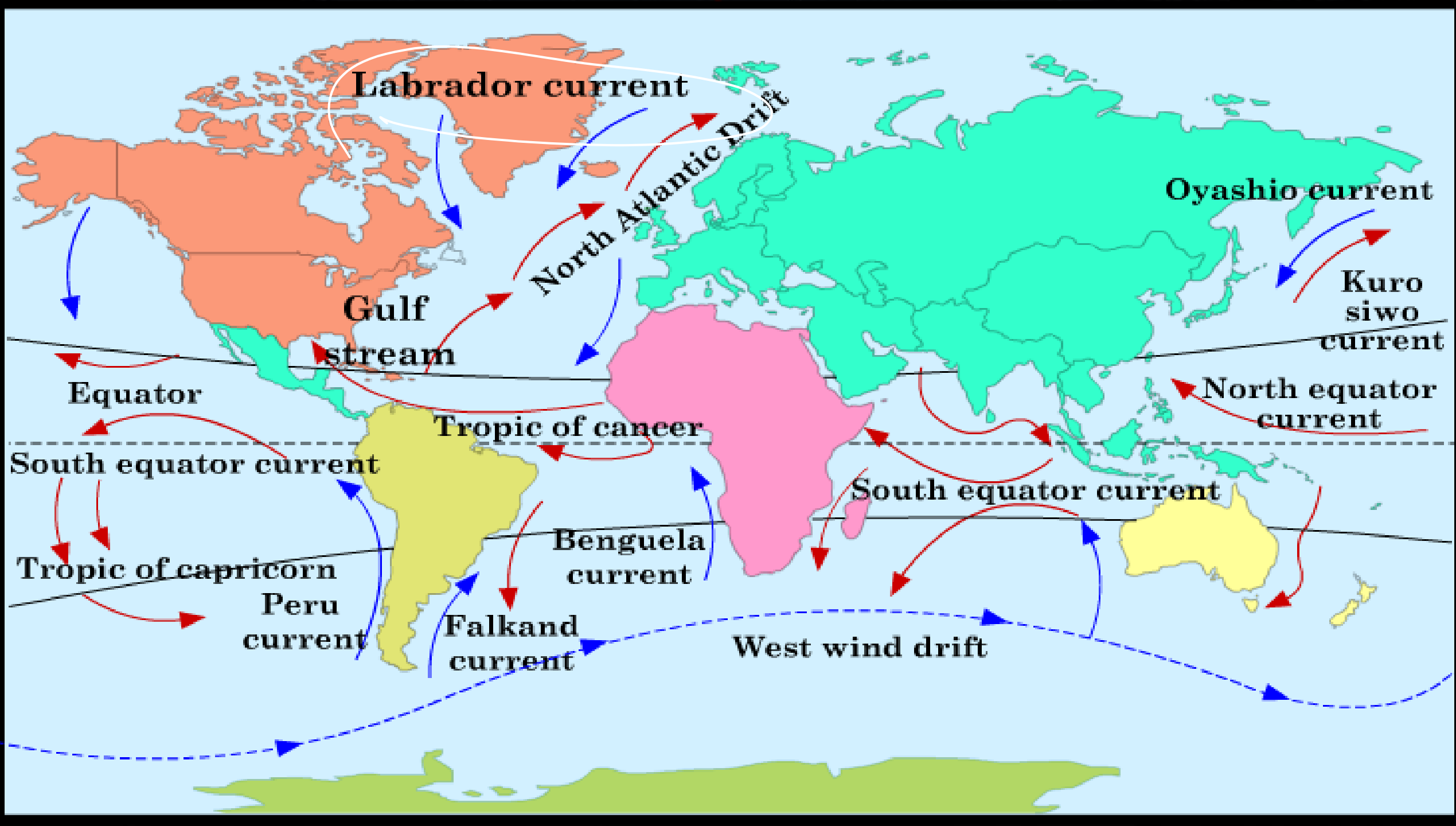
S.S.C. ऑनलाइन MTS (T-1) 14 अगस्त, 2019 (I - पाली)

- (a) Gulf Stream/गल्फ स्ट्रीम
- (b) Agulhas Current/अगुलहास धारा
- (c) Alaska Current/अलास्का धारा
- (d) Labrador Current/लेब्राडोर धारा



अफ्रीका का मानचित्र / MAP OF AFRICA

- लेब्राडोर धारा उत्तरी अटलांटिक महासागर की एक ठंडी धारा है। गल्फ स्ट्रीम, अगुलहास धारा एवं अलास्का धारा (Alaska current) गर्म महासागरीय धाराएं हैं।
- The Labrador Current is a cold current in the North Atlantic Ocean. The Gulf Stream, Agulhas Current and Alaska Current are warm ocean currents.





अफ्रीका का मानचित्र / MAP OF AFRICA

Q.19 Congo is located in –

कांगो स्थित है-

(a) in Africa/ अफ्रीका में

(b) in Asia/ एशिया में

(c) in Europe/ यूरोप में

(d) in North America/ उत्तरी अमेरिका में



अफ्रीका का मानचित्र / MAP OF AFRICA

- कांगो देश अफ्रीका महाद्वीप में स्थित है। विषुवतीय प्रदेश में स्थित होने के कारण यहां उष्णार्द्र जलवायु पाई जाती है।
- The country of Congo is located in the continent of Africa. Due to its location in the equatorial region, it has a tropical climate.





अफ्रीका का मानचित्र / MAP OF AFRICA

Q.20 In which one of the following cities is the Parliament of South Africa located?

निम्नलिखित नगरों में कौन से एक में दक्षिण अफ्रीका की पार्लियामेंट स्थित है ?

- (a) Pretoria/प्रिटोरिया
- (b) Johannesburg/जोहान्सबर्ग
- (c) Durban/डरबन
- (d) Cape Town/केपटाउन



अफ्रीका का मानचित्र / MAP OF AFRICA

- दक्षिण अफ्रीका की संसद (Parliament) केपटाउन में स्थित है, जबकि सीट ऑफ गवर्नमेंट प्रिटोरिया में। केपटाउन को द. अफ्रीका की संवैधानिक राजधानी (Legislative Capital) कहते हैं।
- The Parliament of South Africa is located in Cape Town, while the Seat of Government is in Pretoria. Cape Town is called the Constitutional Capital of Africa.





अफ्रीका का मानचित्र / MAP OF AFRICA

Q.21 Which one of the following lakes forms the international border between Tanzania and Uganda?

निम्नलिखित में से कौन-सी एक झील तंजानिया और युगांडा के बीच अंतरराष्ट्रीय सीमा बनाती है?

- (a) Chad/ चाड
- (b) Victoria/विक्टोरिया
- (c) Malawi/मलावी
- (d) Jambezi/जाम्बेजी



अफ्रीका का मानचित्र / MAP OF AFRICA

- विक्टोरिया झील (Lake Victoria) को विक्टोरिया न्यांजा (Victoria Nyanza) के नाम से भी जाना जाता है। यह झील युगांडा-तंजानिया, युगांडा - केन्या तथा केन्या तंजानिया के बीच अंतरराष्ट्रीय सीमा बनाती है।
- Lake Victoria is also known as Victoria Nyanza. This lake forms the international border between Uganda-Tanzania, Uganda-Kenya and Kenya-Tanzania.

