



IBPS PO 2023



लक्ष्य बैच

MATHS

FREE
TARGET BATCH

 शनिवार 26 August (सुबह 11 बजे)

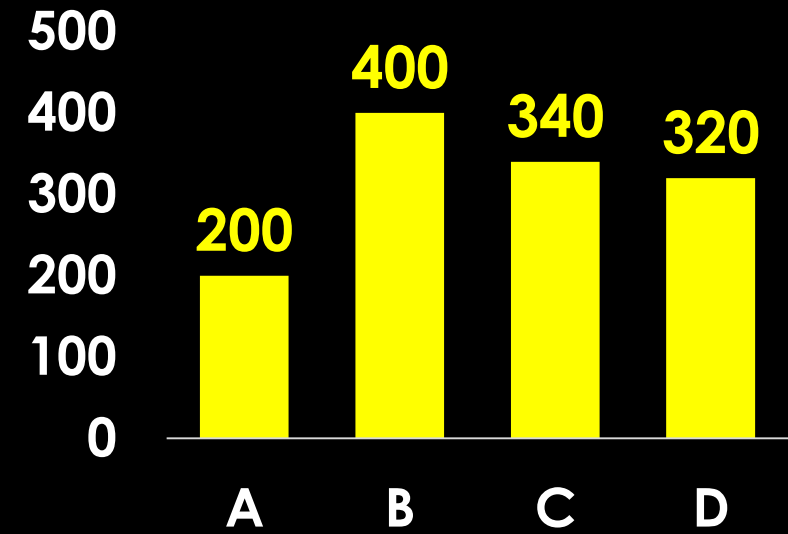
20 दिन लगातार, इस बार IBPS PO पार



MISSION IBPS PO - 2023 (TARGET BATCH)

The given bar graph shows the number of Corona patients in 5 different city.

दिया गया बार ग्राफ 5 अलग-अलग शहरों में कोरोना मरीजों की संख्या को दर्शाता है।



■ Number Corona Patients

City	Age Above 40 years
A	50
B	70
C	110
D	120

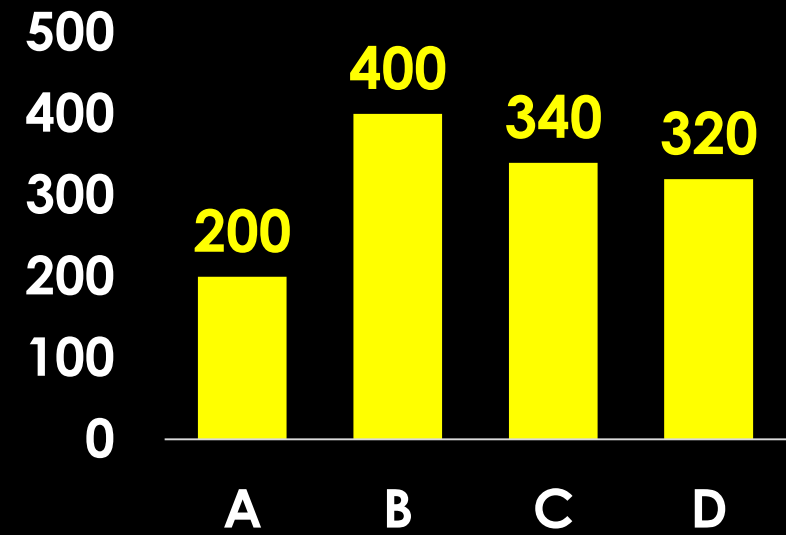


MISSION IBPS PO - 2022 (TARGET BATCH)

If 40% of the total number of corona patients in a city A and C together are females and 20% of the number of corona patients in city B are males. Find the total females in city A, B and C together?

यदि एक शहर A और C में कुल कोरोना रोगियों की संख्या में 40% महिलाएं हैं और शहर B में कोरोना रोगियों की संख्या का 20% पुरुष हैं। शहर A, B और C में मिलाकर कुल महिलाएं ज्ञात कीजिए?

- (1) 510
- (2) 448
- (3) 536
- (4) 400
- (5) 356



■ Number Corona Patients

City	Age Above 40 years
A	50
B	70
C	110
D	120

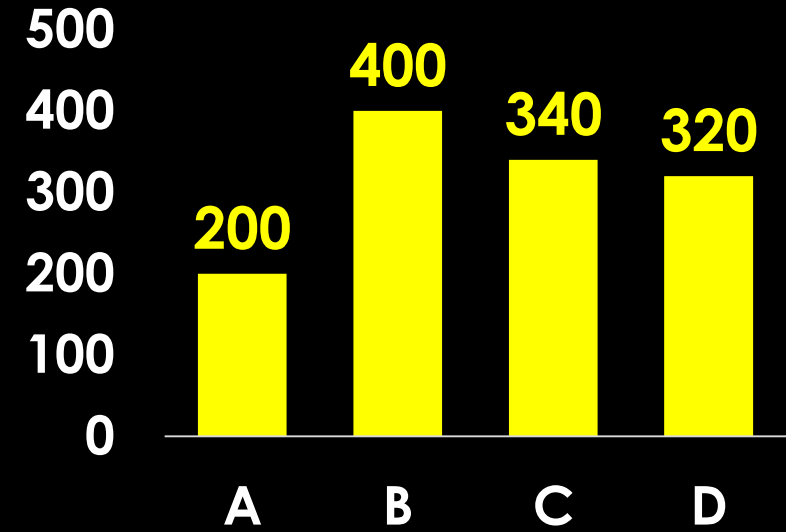


MISSION IBPS PO - 2023 (TARGET BATCH)

If the total number of males and females in a new city E is 20% more than the total number of males and females in city D and the ratio of the number of males and females in city E is 7:5. Find the number of females in city E.

यदि एक नए शहर E में पुरुषों और महिलाओं की कुल संख्या शहर D में पुरुषों और महिलाओं की कुल संख्या से 20% अधिक है और शहर E में पुरुषों और महिलाओं की संख्या का अनुपात 7:5 है। शहर E में महिलाओं की संख्या ज्ञात कीजिए।

- (1) 220
- (2) 224
- (3) 180
- (4) 160
- (5) 240



■ Number Corona Patients

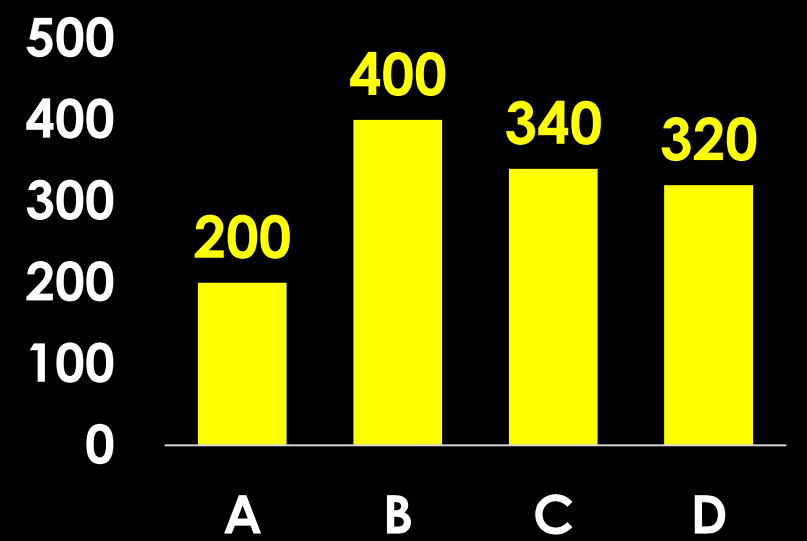
City	Age Above 40 years
A	50
B	70
C	110
D	120



MISSION IBPS PO - 2023 (TARGET BATCH)

If 60% of the corona patients above 40 years in city A and C together and 50% of the corona patients above 40 years in city B and D together, is females, find the ratio of the number of male corona patients in city A and C who were above 40 years of age to male corona patients in B and D together, who were above 40 years of age?/यदि शहर A और C में एक साथ 40 वर्ष से ऊपर के कोरोना रोगियों में से 60% और शहर B और D में एक साथ 40 वर्ष से ऊपर के 50% कोरोना रोगी, महिलाएँ हैं, तो शहर A और C में पुरुष कोरोना रोगी की संख्या का B और D में पुरुष कोरोना रोगी की एक साथ संख्या, जिनकी आयु 40 वर्ष से अधिक थी, से अनुपात ज्ञात कीजिए?

- (1) 75:83
- (2) 29:55
- (3) 64: 95



■ Number Corona Patients

City	Age Above 40 years
A	50
B	70
C	110
D	120



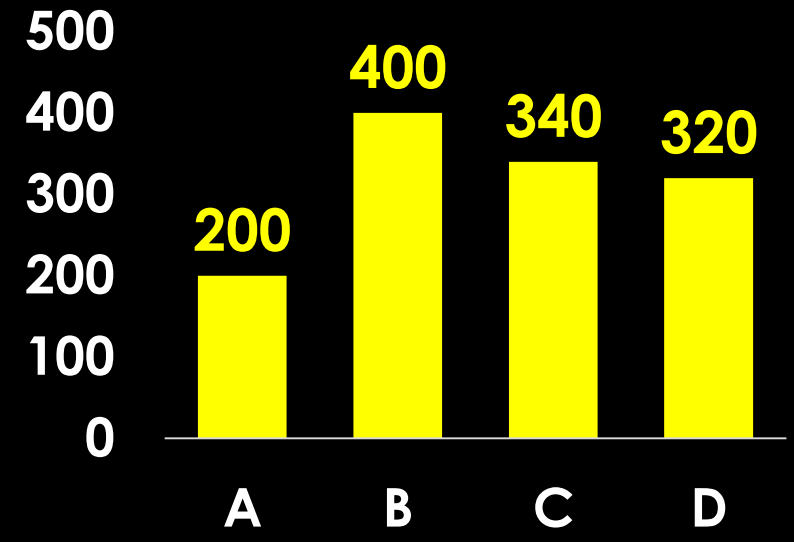
MISSION IBPS PO - 2023 (TARGET BATCH)

In city C, the number of males above 40 years of age is 30 and in city A, the

number of males above 40 years is 30. Find the female corona patients above the age of 40 years in city C is how much percent more/less than the number of female corona patients above the age of 40 in city A?

शहर C में 40 वर्ष से अधिक आयु के पुरुषों की संख्या 30 है और शहर A में 40 वर्ष से अधिक आयु के पुरुषों की संख्या 30 है। शहर C में 40 वर्ष से अधिक आयु की महिला कोरोना रोगियों की संख्या शहर A में 40 वर्ष से अधिक आयु की महिला कोरोना रोगियों की संख्या से कितने प्रतिशत अधिक/कम है?

- (1) 300%
- (2) 400%
- (3) 350%



■ Number Corona Patients

City	Age Above 40 years
A	50
B	70
C	110
D	120



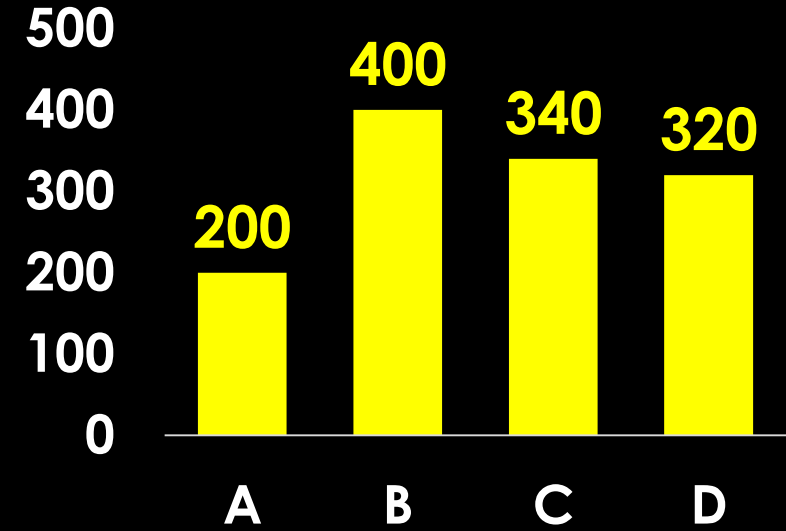
MISSION IBPS PO - 2023 (TARGET BATCH)

Find the total number of corona

patients in all the cities whose age is below 40 years ?

सभी शहरों में उन कोरोना रोगियों की कुल संख्या ज्ञात कीजिए जिनकी आयु 40 वर्ष से कम है?

- (1) 840
- (2) 860
- (3) 910
- (4) 915
- (5) Data Inadequate



■ Number Corona Patients

City	Age Above 40 years
A	50
B	70
C	110
D	120



MISSION IBPS PO - 2023 (TARGET BATCH)

Subjects/Marks	0-19	20-39	40-59	60-79	80-100
Hindi	12	31	79	30	8
English	21	30	65	42	2
Maths	31	22	34	45	28
Aggregate (Average)	24	28	68	35	5

Study the following table carefully and answer the questions that follow.

Table shows the distribution of marks obtained by 160 students in each of the three subjects Hindi, English and Maths out of 100.

निम्नलिखित तालिका का ध्यानपूर्वक अध्ययन करें और आने वाले प्रश्नों के उत्तर दें। तालिका 100 में से तीन विषयों हिंदी, अंग्रेजी और गणित प्रत्येक में 160 छात्रों द्वारा प्राप्त अंकों के वितरण को दर्शाती है।



MISSION IBPS PO - 2023 (TARGET BATCH)

Subjects/Marks	0-19	20-39	40-59	60-79	80-100
Hindi	12	31	79	30	8
English	21	30	65	42	2
Maths	31	22	34	45	28
Aggregate (Average)	24	28	68	35	5

If the criteria for passing is minimum 40% marks only in Maths; how many students will pass?

यदि उत्तीर्ण करने का मापदंड केवल गणित में न्यूनतम 40% अंक हैं; तो कितने छात्र उत्तीर्ण होंगे?

1. 53 2. 107 3. 34
4. 129 5. None of these



MISSION IBPS PO - 2023 (TARGET BATCH)

Subjects/Marks	0-19	20-39	40-59	60-79	80-100
Hindi	12	31	79	30	8
English	21	30	65	42	2
Maths	31	22	34	45	28
Aggregate (Average)	24	28	68	35	5

If for passing; the students has to obtain minimum 60% marks on average of three subjects; how many students will pass:

अगर उत्तीर्ण होने के लिए; छात्रों को तीन विषयों के औसत पर न्यूनतम 60% अंक प्राप्त करने हों; तो कितने छात्र उत्तीर्ण होंगे:

1. 40
2. 108
3. 68
4. 73
5. None of these



MISSION IBPS PO - 2023 (TARGET BATCH)

Subjects/Marks	0-19	20-39	40-59	60-79	80-100
Hindi	12	31	79	30	8
English	21	30	65	42	2
Maths	31	22	34	45	28
Aggregate (Average)	24	28	68	35	5

If for passing; the students has to obtain minimum 40% marks in any one of the three subjects; what is the minimum number of the students who will definitely pass:

अगर उत्तीर्ण होने के लिए; छात्रों को तीन विषयों में से किसी एक में न्यूनतम 40% अंक प्राप्त करने होंगे; निश्चित रूप से उत्तीर्ण होने वाले छात्रों की न्यूनतम संख्या क्या होगी:

1. 40
2. 108
3. 68
4. 73
5. None of these



MISSION IBPS PO - 2023 (TARGET BATCH)

Subjects/Marks	0-19	20-39	40-59	60-79	80-100
Hindi	12	31	79	30	8
English	21	30	65	42	2
Maths	31	22	34	45	28
Aggregate (Average)	24	28	68	35	5

How many students will pass in English if minimum passing marks is 40%?

यदि न्यूनतम उत्तीर्ण अंक 40% हैं, तो अंग्रेजी में कितने छात्र उत्तीर्ण होंगे?

1. 117 2. 111 3. 119
4. 108 5. None of these



MISSION IBPS PO - 2023 (TARGET BATCH)

Subjects/Marks	0-19	20-39	40-59	60-79	80-100
Hindi	12	31	79	30	8
English	21	30	65	42	2
Maths	31	22	34	45	28
Aggregate (Average)	24	28	68	35	5

How many students have obtained 20 or more marks in at least one of the three subjects:

कम से कम एक विषय में कितने छात्रों ने 20 या अधिक अंक प्राप्त किए हैं:

1. 148
2. 139
3. 129
4. Data Inadequate
5. None of these



MISSION IBPS PO - 2023 (TARGET BATCH)

Thank You
धन्यवाद