



Mission Selection - SSC 2024



सफलता का महामंत्र

DAY-20

TOP 25 QUESTIONS

अब तो Selection पक्का है

REASONING

LIVE 07:00 PM





MISSION SELECTION –SSC 2024

Q.1 Arrange the following words in dictionary order:

शब्दकोश क्रम में निम्नलिखित शब्दों को व्यवस्थित करें?

- 1. Submit**
- 2. Summit**
- 3. Submission**
- 4. Summer**
- 5. System**
- 6. Station**
- 7. Stand**



A - 7631245

B - 7642315

C - 7631425

D - 7613425



MISSION SELECTION –SSC 2024

- A - केवल निष्कर्ष III अनुसरण करता है / Only conclusion III follows
- B - केवल निष्कर्ष II अनुसरण करता है / Only conclusion II follows
- C - केवल निष्कर्ष II अनुसरण करता है / Both conclusion I and conclusion III follow
- D - निष्कर्ष II और निष्कर्ष III दोनों अनुसरण करते हैं / Both conclusion II and conclusion III follow

Q.2 कथन: / Statements:

कुछ mangoes grapes हैं/ Some mangoes are grapes.

कोई flowers fruits नहीं हैं / No flowers are fruits.

सभी fruits mangoes के हैं / All fruits are mangoes.

निष्कर्ष: / Conclusions:

I. कुछ fruits grapes हैं / Some fruits are grapes.

II. कुछ mangoes के flowers होने की संभावना है / Some mangoes being flowers is a possibility.

III. अधिकतर grapes flowers हो सकते हैं / Mostly grapes may be flowers.





MISSION SELECTION –SSC 2024

Q.3 If “FOUNDER” is coded as “JSYRCDQ” and “PACTION” is coded as “TEGXHNM”, then how will “DAEMONS” be coded as? /

यदि "FOUNDER" को "JSYRCDQ" के रूप में कोडित किया गया है और "PACTION" को "TEGXHNM" के रूप में कोडित किया गया है, तो "DAEMONS" को किस प्रकार कोडित किया जाएगा?



A - HEIQNMS

B - GEIPNMR


C - HIEQMNR

D - HEIQNMR



MISSION SELECTION –SSC 2024

Q.4 निम्नलिखित आकृति में कितने त्रिभुज हैं? / How many triangles are there in the following figure?



A - 15

B - 12

C - 13

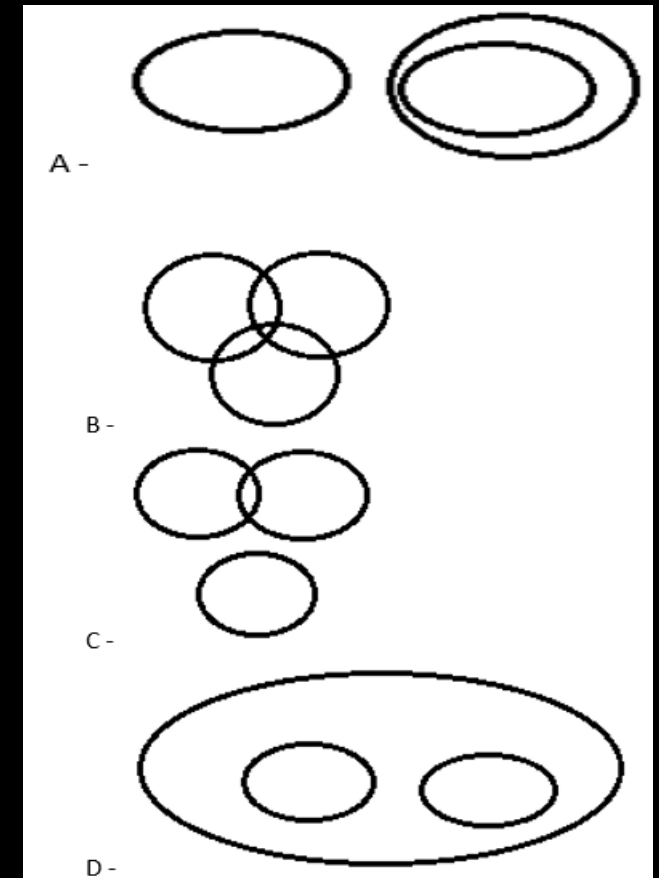
D - 14



MISSION SELECTION –SSC 2024

Q.5 Venn diagram का चयन करें जो निम्नलिखित classesके बीच के संबंध को सबसे अच्छा दिखाता है: / Select the Venn diagram that best illustrates the relationship between the following classes:

Living things, Plants, Animals





MISSION SELECTION –SSC 2024

Q.6 दी गई श्रृंखला में निम्नलिखित में से कौन सी जोड़ी ? को प्रतिस्थापित कर सकती है? / Which of the following pair replaces ? in series given.

P5I, M10M, ?, G40U



A - J20R

B - J19Q

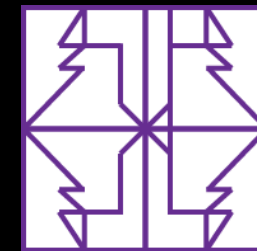
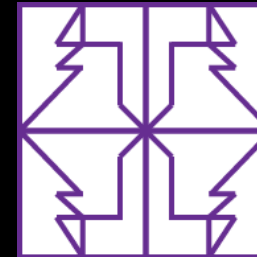

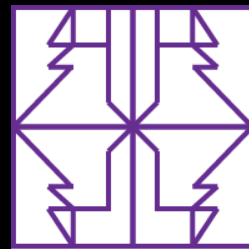
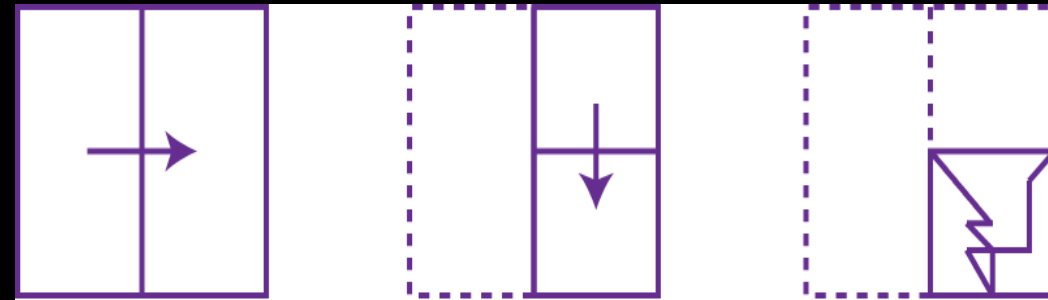
C - K20Q

D - J20Q



MISSION SELECTION –SSC 2024

Q.7 A square paper is folded and cut as shown below. How will it appear when unfolded? / नीचे दिखाए गए अनुसार एक वर्गाकार कागज को मोड़कर काट दिया जाता है। सामने आने पर यह कैसे दिखाई देगा?





MISSION SELECTION –SSC 2024

Q.8 उन संख्याओं के समूह का चयन करें जो निम्न सेट के समान नहीं है।/ Select the set of numbers that is not similar to the following set

(11, 56, 98)



A - (9, 48, 84) B - (18, 84, 147)

C - (13, 64, 112) D - (21, 98, 168)



MISSION SELECTION –SSC 2024

Q.9 Three of the following four letters clusters are alike in a certain way and one is different. Pick the odd one out. / निम्नलिखित चार अक्षरों में से तीन अक्षर एक निश्चित तरीके से एक जैसे हैं और एक अलग है। विषम ज्ञात करें?



A - BADFG

B - RQTVW

C - ONQST

D - HGJKM



MISSION SELECTION –SSC 2024

Q.10 यदि FINANCIAL को 14 के रूप में कोडित किया गया है और MASTERS को 20 के रूप में कोडित किया गया है, तो NATURAL को कैसे कोडित किया जाएगा? / If FINANCIAL is coded as 14 and MASTERS is coded as 20, then how will NATURAL be coded as?



A - 21

B - 24

C - 15

D - 18



MISSION SELECTION –SSC 2024

Q.11 Select the digit which can replace the ? from the given four alternatives. / दिए गए चार विकल्पों में से वह अंक चुनें जो ? को प्रतिस्थापित कर सकता है?

19	25	9
14	21	?
12	16	10
7	12	14



A - 12

B - 13

C - 18

D - 15



MISSION SELECTION –SSC 2024

Q.12 यदि $+$, \div को दर्शाता है \times , $+$ को दर्शाता है और \div , $-$ को दर्शाता है तो / If $+$ denotes \div , \times denotes $+$, $-$ denotes \times and \div denotes $-$ then

$$12 - 7 \times 18 - 4 + 36 \times 17 \div 18 = ?$$



A - 105

B - 17

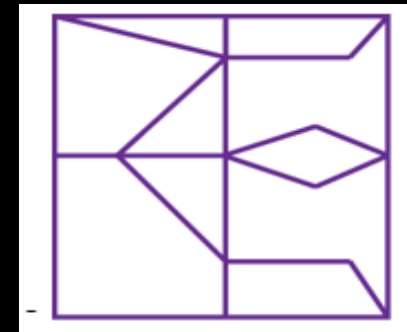
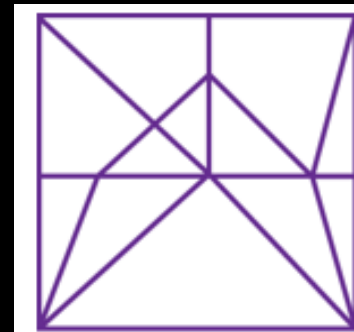
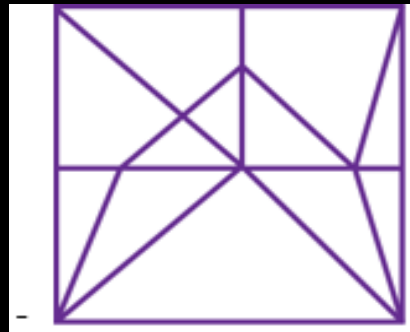
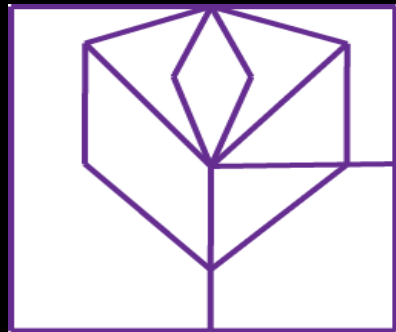
C - 85

D - 55



MISSION SELECTION –SSC 2024

Q.13 Select the figure in which the given figure is embedded. / उस आकृति का चयन करें जिसमें दी गई आकृति embedded है।





MISSION SELECTION –SSC 2024

Q.14 शब्द “SIGNIFICANCE” के अक्षरों का उपयोग कर निम्नलिखित में से किस शब्द का निर्माण नहीं किया सकता है और प्रत्येक अक्षर का उपयोग केवल एक बार किया जाता है? / Which of the following word can't be formed from the letters of the word “SIGNIFICANCE” from the given alternatives by using each letter only once?



A - FINANCE B - SIGNAL

C - NICE D - FISCAN



MISSION SELECTION –SSC 2024

Q.15 Sanjeev scored the highest marks in the class. Rahul scored more than Nirbhay but lesser than Sameer. Arpit scored more than Rahul. Who got the 4th rank out of the five? / संजीव को कक्षा में सबसे अधिक अंक प्राप्त हुए। राहुल को निर्भय से ज्यादा किन्तु समीर से कम अंक प्राप्त हुए। अर्पित को राहुल से अधिक अंक प्राप्त हुए। इन पांचों में से किसे चौथा स्थान प्राप्त हुआ है?

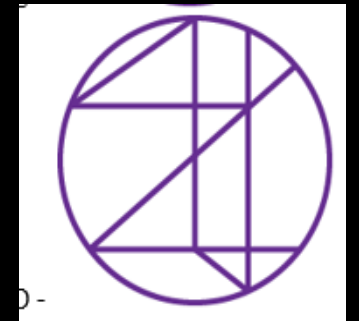
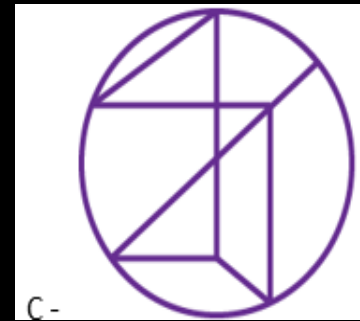
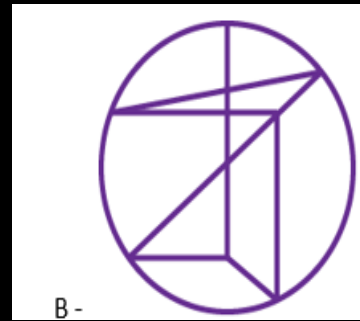
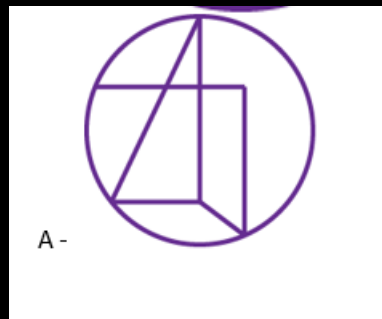
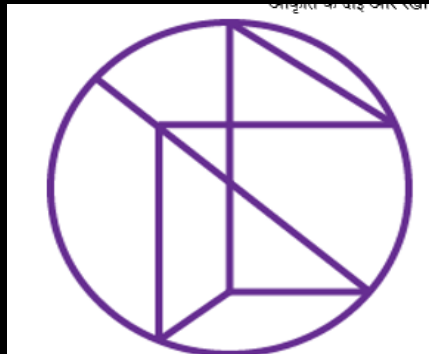


- A) Sameer / समीर B) Nirbhay / निर्भय**
C) Rahul / राहुल D) Arpit / अर्पित



MISSION SELECTION –SSC 2024

Q. 16 Identify the mirror image of the following figure when the mirror is placed to the right of the figure. / निम्न आकृति की दर्पण छवि को पहचानें जब दर्पण को आकृति के दाईं ओर रखा जाता है।





MISSION SELECTION –SSC 2024

Q.17 समीकरण को सही बनाने के लिए समीकरण में दिए गए “signs” के स्थान पर निम्नलिखित में से कौन से “symbols” रखे गए हैं?

Which of the following “signs” are placed in place of “symbols” given in equation to make the equation true?

$$92 + 32 \& 6 \div 9 @ 3 \$ 8 \times 3 = 146$$



A --, ×, +

B - +, -, ×

C --, +, ×

D --, +, +



MISSION SELECTION –SSC 2024

Q. 18 If father of A is the brother of wife of N's mother's brother. How is mother of A related to N's only maternal uncle's wife? / यदि A का पिता N की माता के भाई की पत्नी का भाई है। A की माता N के एकमात्र मामा की पत्नी से कैसे संबंधित है?



A - Sister

B - Mother

C - Sister in law D - Daughter in law



MISSION SELECTION –SSC 2024

Q.19 यदि DECLAW का कोड है 13451223 और BECONS का कोड 235141519 है, तो BAILOR का कोड होगा ____ | / If DECLAW is coded as 13451223 and BECONS is coded as 235141519, then BAILOR will be coded as ____.







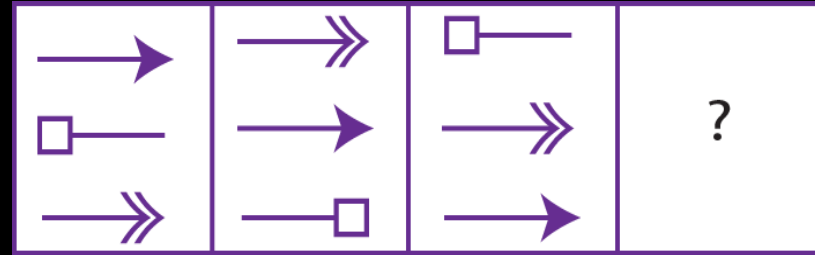
A - 129121518 B - 912151218

C - 915181212 D - 181512912



MISSION SELECTION –SSC 2024

Q.20 Select the figure that will come next in the following figure series.
उस आकृति का चयन करें जो अगले आकृति श्रृंखला में आएगी।





MISSION SELECTION –SSC 2024

Q.21 Hence, option b. In a certain code language, "VENUS" is written as "TVOFW". How is "FAMILY" written in that code language? / एक विशिष्ट कोड भाषा में "VENUS" को "TVOFW" लिखा जाता है। इस कोड भाषा में "FAMILY" को किस प्रकार लिखा जाएगा?



A) ZMJNBG

B) GBNJMZ

C) EZLQKX

D) XKHLZQ

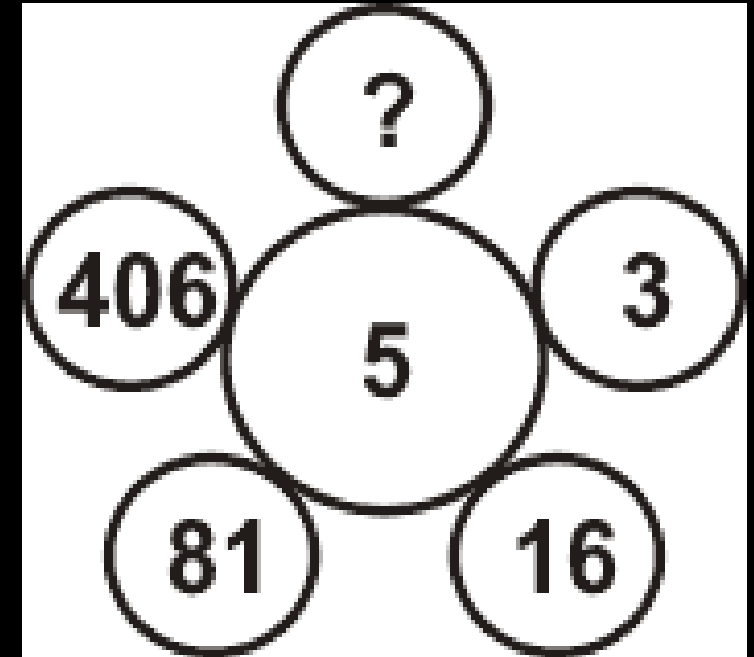


MISSION SELECTION –SSC 2024

Q.22 Which one will replace the question mark ?

.प्रश्न चिह्न के स्थान पर कौन सा चिह्न लगाएगा ?

- A .201
- B .731
- C .1625
- D .2031





MISSION SELECTION –SSC 2024

Q.23 Pointing to the woman in the picture, Ranveer said, "her mother has only one grandchild whose mother is my wife ".How is the woman in the picture related to Ranveer ?

तस्वीर में महिला की ओर इशारा करते हुए, रणवीर ने कहा, "उसकी माँ की केवल एक पोती है जिसकी माँ मेरी पत्नी है"। तस्वीर में महिला रणवीर से कैसे संबंधित है



- (A) COUSIN
- (B) WIFE
- (C) SISTER
- (D) DATA INADEQUATE



MISSION SELECTION –SSC 2024

Q.24 Pointing to a boy on the stage, Aashi said, “he is the brother of the daughter of the wife of my husband.” How is the boy on the stage related to Aashi

मंच पर एक लड़के की ओर इशारा करते हुए, आशी ने कहा, "वह मेरे पति की पत्नी की बेटी का भाई है।" स्टेज पर लड़का आशी से कैसे संबंधित है?



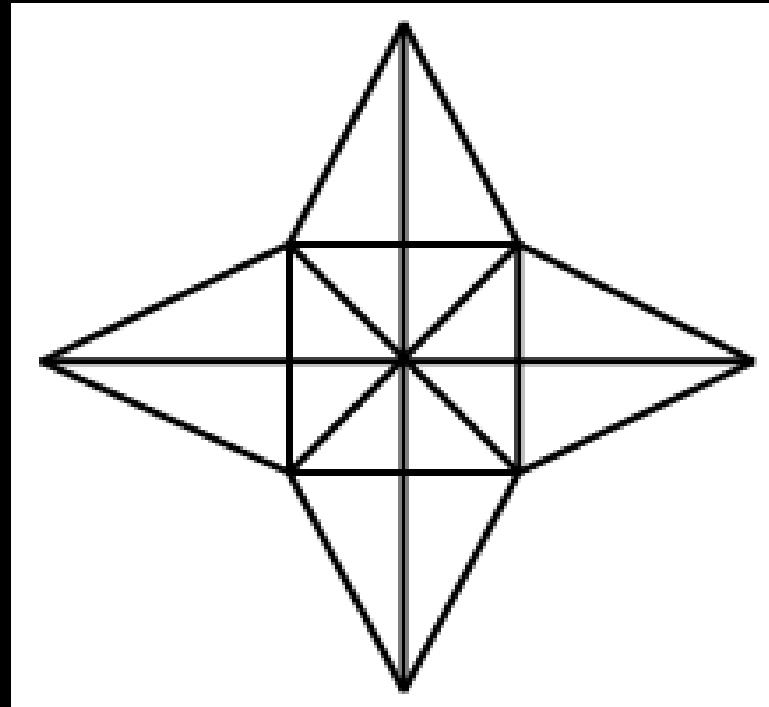
- A. Son**
- B. Husband**
- C. Cousin**
- D. Nephew**



MISSION SELECTION –SSC 2024

Q.25 How many triangles are there in the given figure ?

दी गई आकृति में कितने त्रिभुज हैं?



- a) 28
- b) 36
- c) 40
- d) 48



Mission Selection - SSC 2024



सफलता का महामंत्र

DAY-21

TOP 25 QUESTIONS

अब तो Selection पक्का है

REASONING

LIVE

07:00 PM

