



MISSION SSC



REASONING

Diwali

SPECIAL CLASS



Venn Diagram

LIVE

03:00 PM





25 DAYS – **HARD CHALLENGE** (SSC)

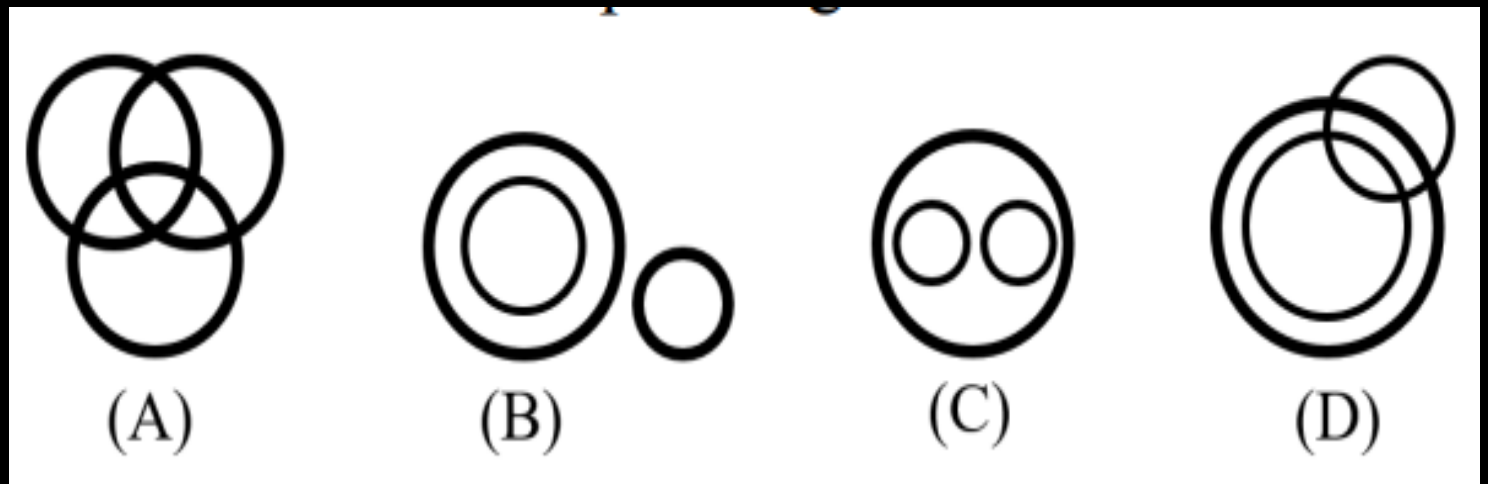


Q.1 Four venn diagrams are given. Out of four only one diagram is correct which shows the relationship amongst the three classes.

चार वेन आरेख दिये गये हैं। चार में से केवल एक आरेख सही है जो तीन वर्गों के बीच संबंध दर्शाता है।

Animals

जानवर



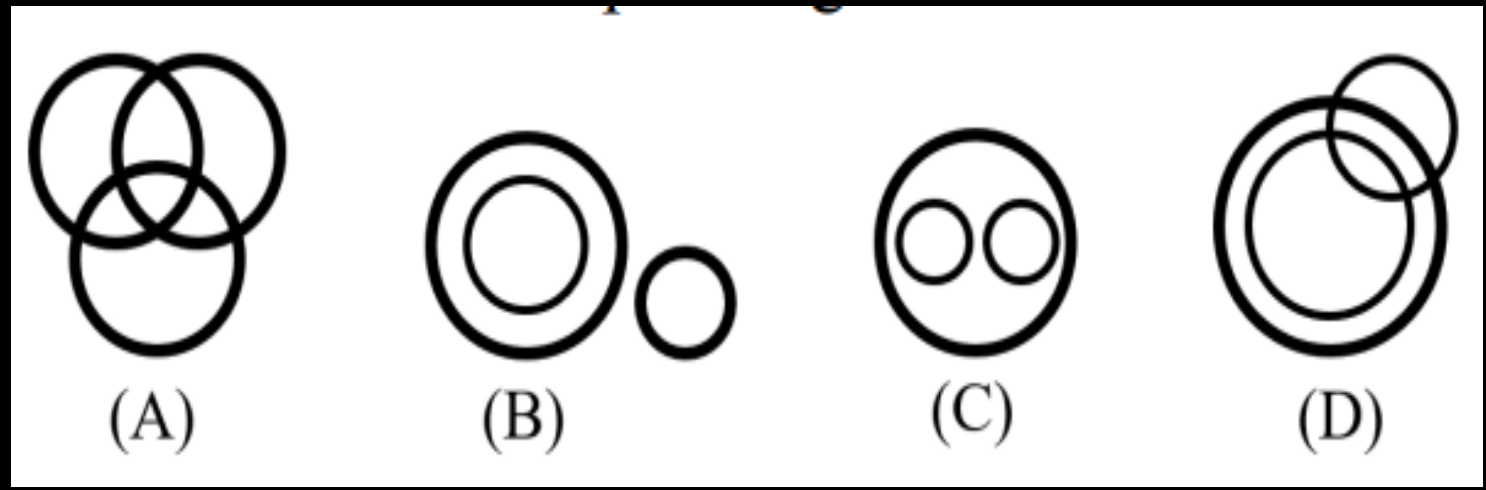


25 DAYS – HARD CHALLENGE (SSC)



Q.2 Four venn diagrams are given. Out of four only one diagram is correct which shows the relationship amongst the three classes.

चार वेन आरेख दिये गये हैं। चार में से केवल एक सही है जो कि तीनों वर्गों के बीच संबंध दर्शाता है।
होहा, कलोरीन






25 DAYS – HARD CHALLENGE (SSC)



Q.3 Four venn diagrams are given. Out of four only one diagram is correct which shows the relationship amongst the three classes.

चार वेन आरेख दिये गये हैं। चार में से केवल एक आरेख सही है जो कील, बार्ने, के बीज संबंध दर्शाता है।
गाय, कौवे



(A)



(B)



(C)



(D)




25 DAYS – **HARD CHALLENGE** (SSC)



Q.4 Four venn diagrams are given. Out of four only one diagram is correct which shows the relationship amongst the three classes.

चार वेन आरेख दिये गये हैं। चार में से केवल एक आरेख सही है जो तीन वर्गों के बीच संबंध दर्शाता है।

Women, Mothers, Father/ महिलाएं, माताएं, पिता



(A)



(B)



(C)



(D)




25 DAYS – HARD CHALLENGE (SSC)



Q.5 Four venn diagrams are given. Out of four only one diagram is correct which shows the relationship amongst the three classes.

चार वेन आरेख दिये गये हैं। चार में से केवल एक आरेख सही है जो Authors, Teachers, Women/ लेखकों, शिक्षक, महिलाएँ



(A)



(B)



(C)



(D)




25 DAYS – HARD CHALLENGE (SSC)



Q.6 Four venn diagrams are given. Out of four only one diagram is correct which shows the relationship amongst the three classes.

चार वेन आरेख दिये गये हैं। चार में से केवल एक आरेख सही है जो तीन वर्गों के बीच संबंध दर्शाता है।
Kerala, Bihar, India / कर्नाटक, बिहार, भारत



(A)



(B)



(C)



(D)




25 DAYS – **HARD CHALLENGE** (SSC)



Q.7 Four venn diagrams are given. Out of four only one diagram is correct which shows the relationship amongst the three classes.

चार वेन आरेख दिये गये हैं। चार में से केवल एक आरेख सही है जो तीन वर्गों के बीच संबंध दर्शाता है।

Automobiles, Cars, Motor-cycles/ ऑटोमोबाइल, कार, मोटर साइकिलें



(A)



(B)



(C)



(D)




25 DAYS – HARD CHALLENGE (SSC)



Q.8 Four venn diagrams are given. Out of four only one diagram is correct which shows the relationship amongst the three classes.

चार वेन आरेख दिये गये हैं। चार में से केवल एक सही है, जो तीनों वर्गों में वही संबंध दर्शाता है।



(A)



(B)



(C)



(D)




25 DAYS – HARD CHALLENGE (SSC)



Q.9 Four venn diagrams are given. Out of four only one diagram is correct which shows the relationship amongst the three classes.

चार वेन आरेख दिये गये हैं। चार में से केवल एक आरेख सही है जो तीन वर्गों के बीच संबंध दर्शाता है।

काँफ़ी, पेय पदार्थ



(A)



(B)



(C)



(D)




25 DAYS – HARD CHALLENGE (SSC)



Q.10 Four venn diagrams are given. Out of four only one diagram is correct which shows the relationship amongst the three classes.

चार वेन आरेख दिये गये हैं। चार में से केवल एक आरेख सही है, जो तीनों वर्गों के बीच संबंध दर्शाता है।
छात्र, क्रिकेटर



(A)



(B)



(C)



(D)

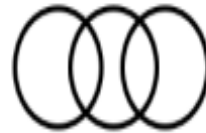


25 DAYS – HARD CHALLENGE (SSC)



Q.11 Which of the following Venn diagrams best represents the relationship between the following classes?


निम्नलिखित में से कौन सा वेन आरेख निम्नलिखित वर्गों के बीच संबंध को सबसे अच्छा दर्शाता है?
Tennis fans, Cricket Players, Students
प्रशंसक, क्रिकेट खिलाड़ी, छात्र



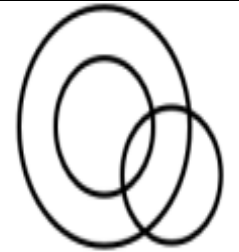
(A)



(B)



(C)



(D)

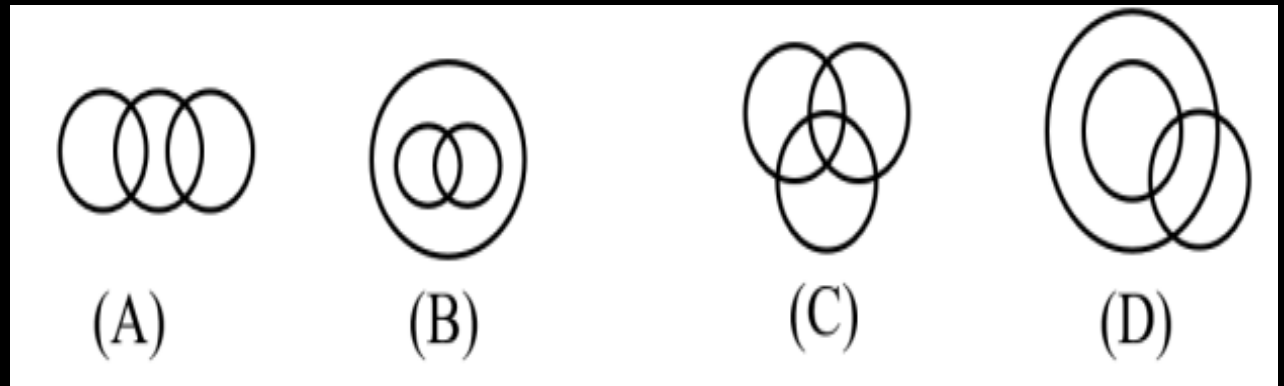


25 DAYS – **HARD CHALLENGE** (SSC)



Q.12 Which of the following Venn diagrams best represents the relationship between the following classes?

निम्नलिखित में से कौन सा वेन आरेख निम्नलिखित वर्गों के बीच संबंध को सबसे अच्छे ढंग से दर्शाता है?
Flowers, Clothes, White/फूल, कपड़ा, सफेद



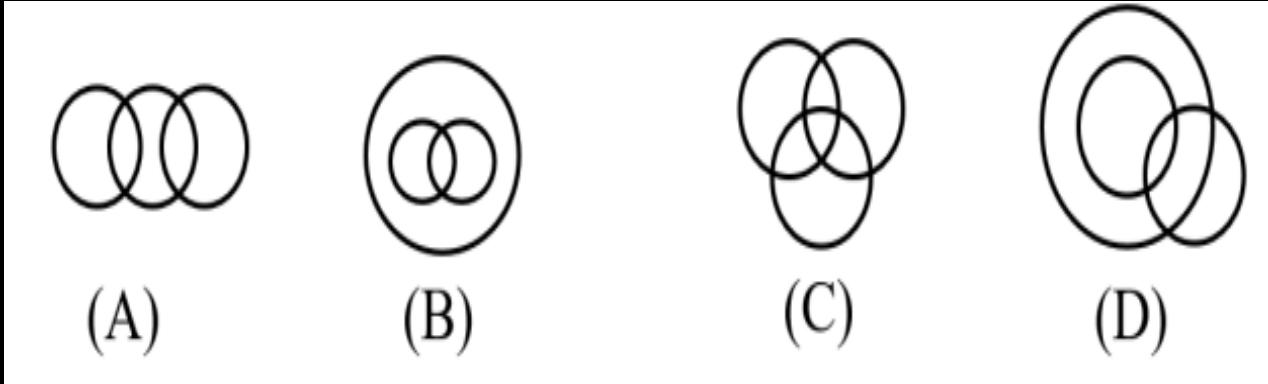


25 DAYS – HARD CHALLENGE (SSC)



Q.13 Which of the following Venn diagrams best represents the relationship between the following classes?

निम्नलिखित में से कौन सा वेन आरेख निम्नलिखित वर्गों के बीच संबंध को सबसे अच्छा दर्शाता है?
Smokers, Lawyers, Non-smokers/धूम्रपान करने वाले, वकील, धूम्रपान न करने वाले





25 DAYS – HARD CHALLENGE (SSC)



Q.14 Which of the following Venn diagrams best represents the relationship between the following classes?

निम्नलिखित में से कौन सा वेन आरेख निम्नलिखित वर्गों के बीच संबंध को सही से अंकित करता है?
मनुष्य, शिक्षक, स्नातक



(A) Three overlapping circles in a horizontal row.

(B) A large circle containing two overlapping circles.

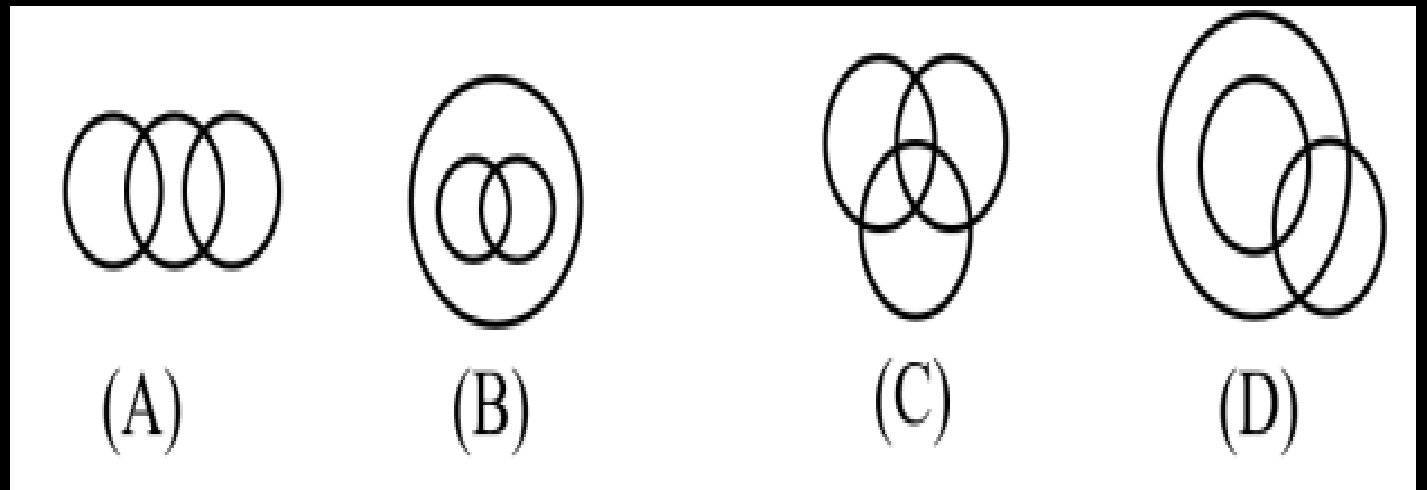
(C) Three overlapping circles in a triangular arrangement.

(D) A large circle containing two overlapping circles that are positioned to the right of the large circle's center.



Q.15 Which of the following Venn diagrams best represents the relationship between the following classes?

निम्नलिखित में से कौन सा वेन आरेख निम्नलिखित वर्गों के बीच संबंध को सबसे अच्छा दर्शाता है?
Males, Fathers, Doctors/ पुरुष, पिता, डॉक्टर



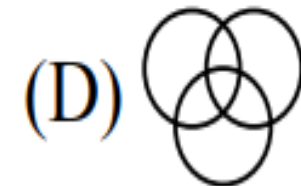
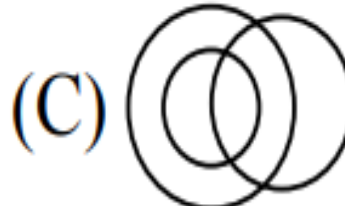


25 DAYS – HARD CHALLENGE (SSC)



Q.16 Which of the following Venn diagrams best represents the relationship between the following classes?

निम्नलिखित में से कौन सा वेन आरेख निम्नलिखित वर्गों के बीच संबंध को सबसे अच्छा दर्शाता है?
Accountants, Girls, Internet users/अकाउंटेंट, लड़कियाँ, इंटरनेट उपयोगकर्ता

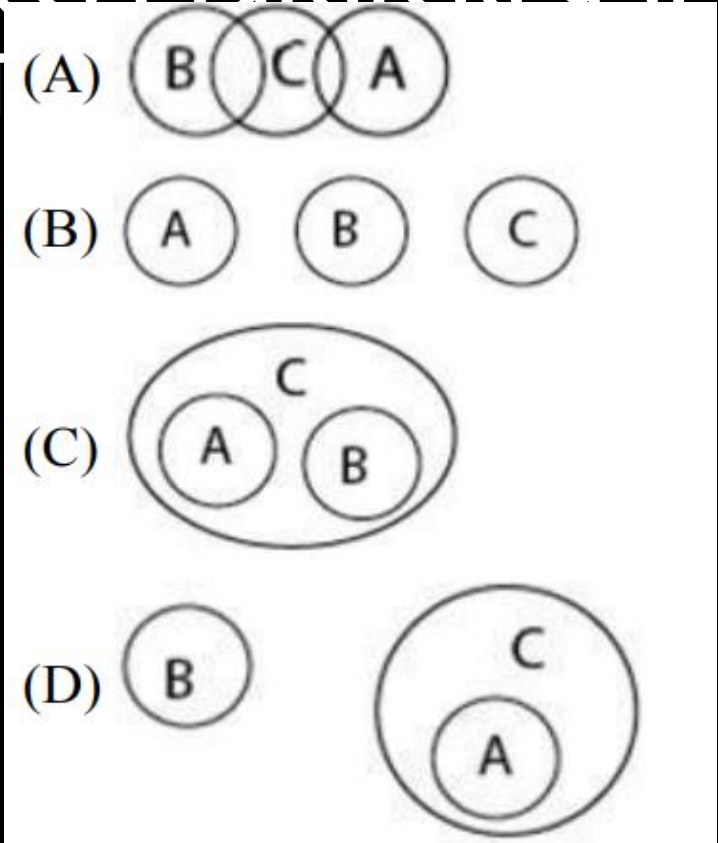




Q.17 Which of the following Venn diagrams best represents the relationship between the following classes?

निम्नलिखित में से कौन सा वेन आरेख निम्नलिखित वर्गों

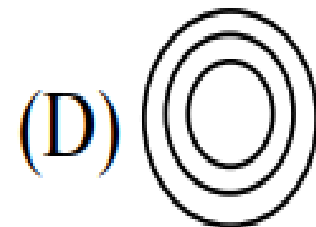
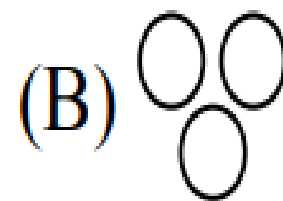
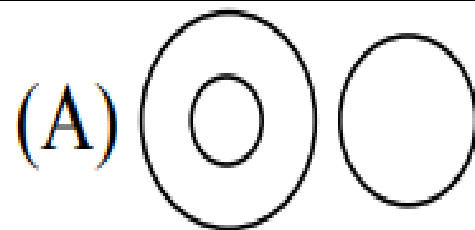
के बीच संबंध को सबसे अच्छे ढंग से दर्शाता है।
Leather, Water, Animal / पशु, पानी, जानवर





Q.18 Which of the following Venn diagrams best represents the relationship between the following classes?

**निम्नलिखित में से कौन सा वेन आरेख निम्नलिखित वर्गों के बीच संबंध को सबसे अच्छा दर्शाता है?
"Buses, Engine, Piston" / "बस, इंजन, पिस्टन"**





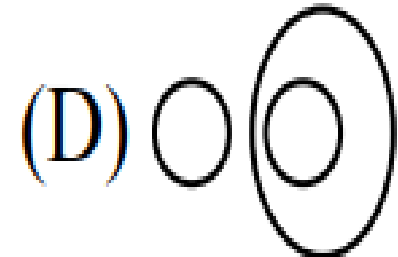
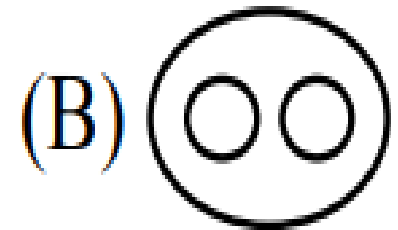
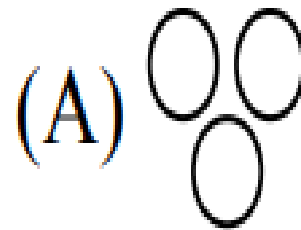
25 DAYS – HARD CHALLENGE (SSC)



Q.19 Which of the following Venn diagrams best represents the relationship between the following classes?

निम्नलिखित में से कौन सा वेन आरेख निम्नलिखित
के बीच संबंध को सबसे अच्छा दर्शाता है?

Animal, Dog, Mango / पशु,
कुत्ता, आम





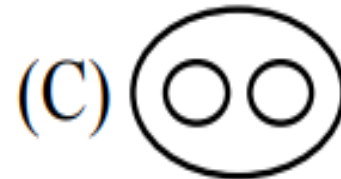
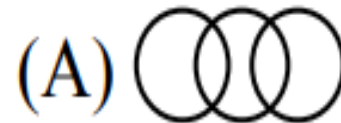
25 DAYS – HARD CHALLENGE (SSC)



Q.20 Which of the following Venn diagrams best represents the relationship between the following classes?

निम्नलिखित में से कौन सा वेन आरेख निम्नलिखित वर्गों के बीच संबंध को सबसे अच्छा दर्शाता है?

Currencies, Yuan, Dollar/ मुद्राएँ, युआन, डॉलर



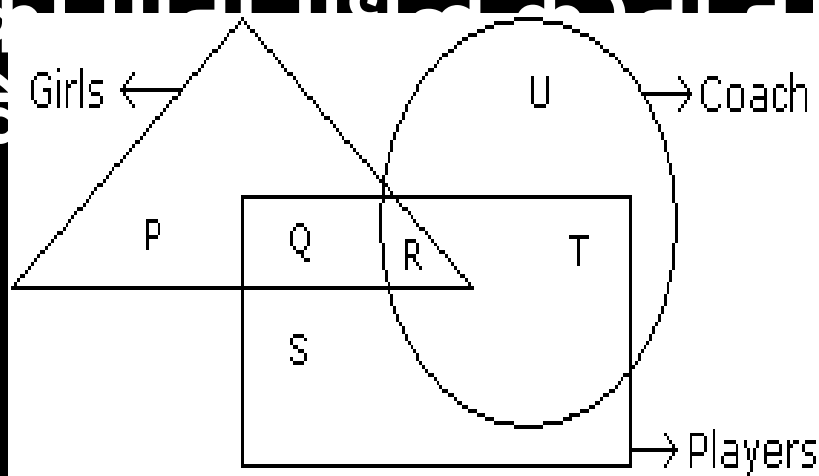


25 DAYS – HARD CHALLENGE (SSC)



Q.21 In the following figure triangle represents 'girls', square players and circle-coach. Which part of the diagram represents the girls who are player but not coach?

निम्नलिखित आकृति में त्रिभुज 'लड़कियों', वर्गाकार खिलाड़ियों और वृत्त-कोच का प्रतिनिधित्व करता है। आरेख का कौन सा भाग उन लड़कियों को दर्शाता है जो खिलाड़ी हैं लेकिन कोच नहीं हैं।



- A. P
- B. Q
- C. R
- D. S



25 DAYS – HARD CHALLENGE (SSC)

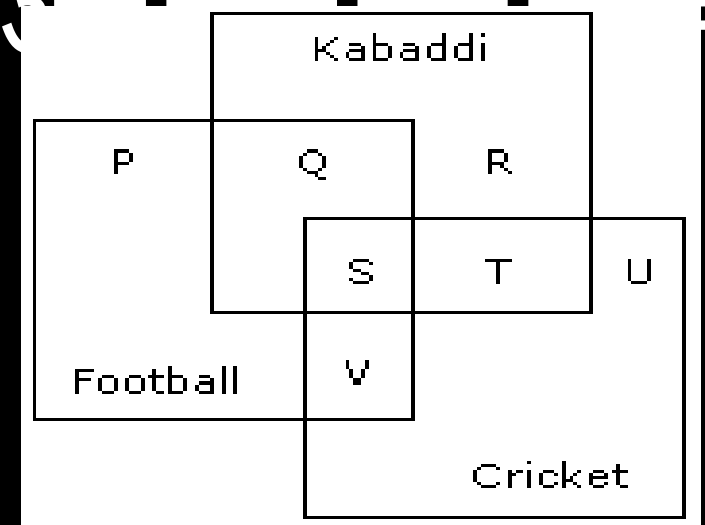


Q.22 The diagram given below represents those students who play Cricket, Football and Kabaddi. Study the diagram and identify the students who play all the three games.

नीचे दिया गया चित्र क्रिकेट, फुटबॉल और कबड्डी खेलने वाले छात्रों को दर्शाता है। आरेख का अध्ययन करें और निचे दिये गए विकल्पों में से सही विकल्प चुनिए।



- A. P + Q + R
- B. U + T
- C. S + T + U
- D. S



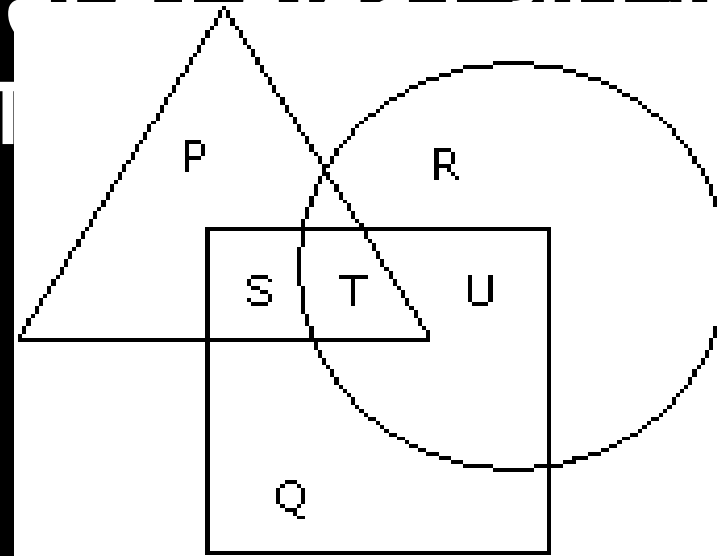


25 DAYS – HARD CHALLENGE (SSC)



Q.23 In the figure given below, square represents doctors, triangle represents ladies and circle represents surgeon. By which letter the ladies who doctor and surgeon both are represented ?

नीचे दी गई आकृति में, वर्ग डॉक्टरों का प्रतिनिधित्व करता है, त्रिकोण महिलाओं का प्रतिनिधित्व करता है और सर्कल सर्जन का प्रतिनिधित्व करता है। डॉक्टर और सर्जन दोनों को किस पत्र द्वारा दर्शाया गया



- A. U
- B. T
- C. S
- D. P



Q.24 Study the diagram and identify the people who can speak only one language.
आरेख का अध्ययन करें और उन लोगों की पहचान करें जो केवल एक भाषा बोल सकते हैं।



A. L+M+

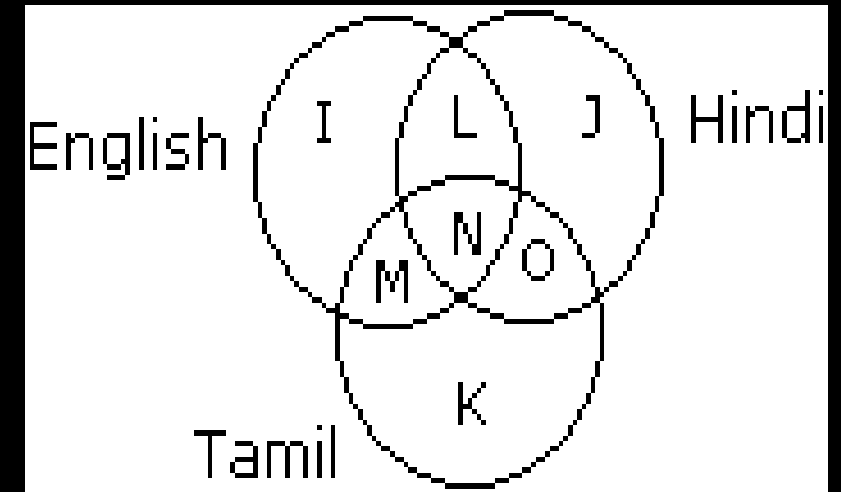
O

B.

K+J+I

C. K

D. I



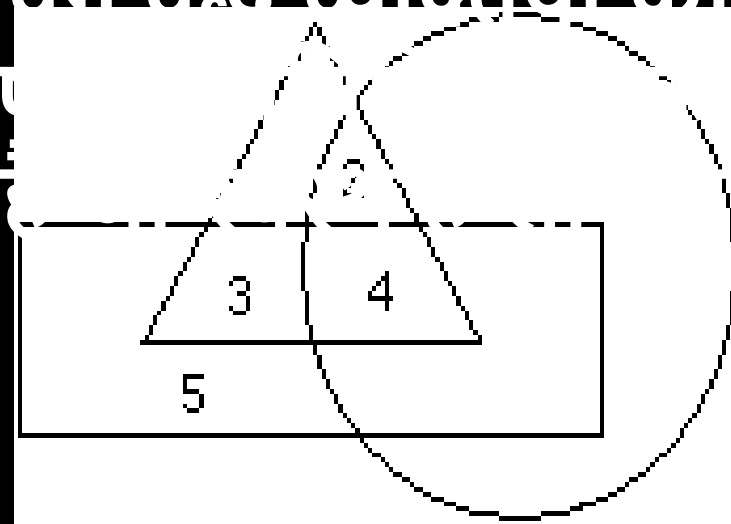


25 DAYS – **HARD CHALLENGE** (SSC)



Q.25 In the given figure if Triangle represents healthy people, Square represents old persons and Circle represents men then What is the number of those men who are healthy but not old ?

दी गई आकृति में यदि त्रिभुज स्वस्थ व्यक्तियों का प्रतिनिधित्व करता है, वर्ग बूढ़े व्यक्तियों का प्रतिनिधित्व करता है और वृत्त पुरुषों का प्रतिनिधित्व करता है, तो उन पुरुषों की संख्या क्या है जो स्वस्थ हैं लेकिन बूढ़े नहीं हैं?



- A. 5
- B. 4
- C. 6
- D. 2



25 DAYS – **HARD CHALLENGE** (SSC)



**THANK
YOU**