

# SSC MTS/HAWALDAR/CHSL



## REASONING

# LIVE TEST

तैयारी जीत की...

LIVE

08:30 PM





# UPCOMING ONLINE BATCHES

## May 2022

04 May 2022

05:30 PM to 07:30 PM

**BANK ONLINE LIVE CLASS**

10:30 AM to 12:30 PM

**SSC ONLINE LIVE CLASS**

**BILINGUAL**

11 May 2022

10:30 AM to 12:30 PM

**BANK ONLINE LIVE CLASS**

01:00 PM to 03:00 PM

**SSC ONLINE LIVE CLASS**

**BILINGUAL**

18 May 2022

07:30 PM to 09:30 PM

**BANK ONLINE LIVE CLASS**

05:30 PM to 07:30 PM

**SSC ONLINE LIVE CLASS**

**BILINGUAL**

04:00 PM to 06:00 PM

**BANK ONLINE LIVE CLASS**

**ENGLISH & BENGALI**

25 May 2022

03:00 PM to 05:00 PM

**BANK ONLINE LIVE CLASS**

08:00 AM to 10:00 AM

**SSC ONLINE LIVE CLASS**

**BILINGUAL**

05:30 PM to 09:30 PM

**CUET ONLINE LIVE CLASS**

**BILINGUAL**



Santosh Raj 12 hours ago

Today's homework.."none"

Thank you so much sir for amazing session

[REPLY](#)

[View reply from Mahendras : Online Videos For Govt. Exams](#)



🌸 PUJA KUNDU 🌸 12 hours ago [8 subscribers](#)

The answer is — only option 3....thank you sir for the superb session 🙌💰🙏🙏

[REPLY](#)

[View reply from Mahendras : Online Videos For Govt. Exams](#)



Vishnu Gupta 11 hours ago [3 subscribers](#)

Only3 is the right ans very nice session sir Thank you 🙏 sir ♥

[REPLY](#)

[View reply from Mahendras : Online Videos For Govt. Exams](#)



Chhavi Saxena 12 hours ago

Home work answer is only 3 follows

Very Nice Session Sir Thanku so much 🙏

[REPLY](#)

[View reply from Mahendras : Online Videos For Govt. Exams](#)



SANIA \_\_\_\_\_ 4 hours ago

Mast session sir 🙏🙏

Only 3🙌🙌🙌🙌

[REPLY](#)

[View reply from Mahendras : Online Videos For Govt. Exams](#)



Bidya Behera 12 hours ago

H.w

3333 hoga 👍



REPLY



▼ [View reply from Mahendras : Online Videos For Govt. Exams](#)



puspranjan singh 12 hours ago 2 subscribers

3



REPLY



▼ [View reply from Mahendras : Online Videos For Govt. Exams](#)



Which number will replace the question mark ?

4	9	20
10	8	21
6	4	?

- (A) 11
- (C) 12

- (B) 9
- (D) 10



Find the missing one (?)

Pitch : Cricket :: Arena : ?  
पिच : क्रिकेट :: एरिना : ?

- (A) Tennis / टेनिस
- (B) Badminton / बैडमिंटन
- (C) Gymnastic / जिमनास्टिक
- (D) Wrestling / कुश्ती



Find the option which should replace (?)

Cell phone : Communication :: Cycle : ?  
सेल फोन: संचार :: साइकिल:?

- (A) Walking / चलना
- (B) Gym / जिम
- (C) Mechanization / मशीनीकरण
- (D) Transportation / परिवहन



**SSC MTS/HAWALDAR/CHSL**

**Live at 08:30 PM**



From the given alternative words, select the word which can not be formed using the letters of the give word :

दिए गए वैकल्पिक शब्दों से, उस शब्द का चयन करें जिसे शब्द के अक्षरों का उपयोग करके नहीं बनाया जा सकता है:

**SEPARATED**



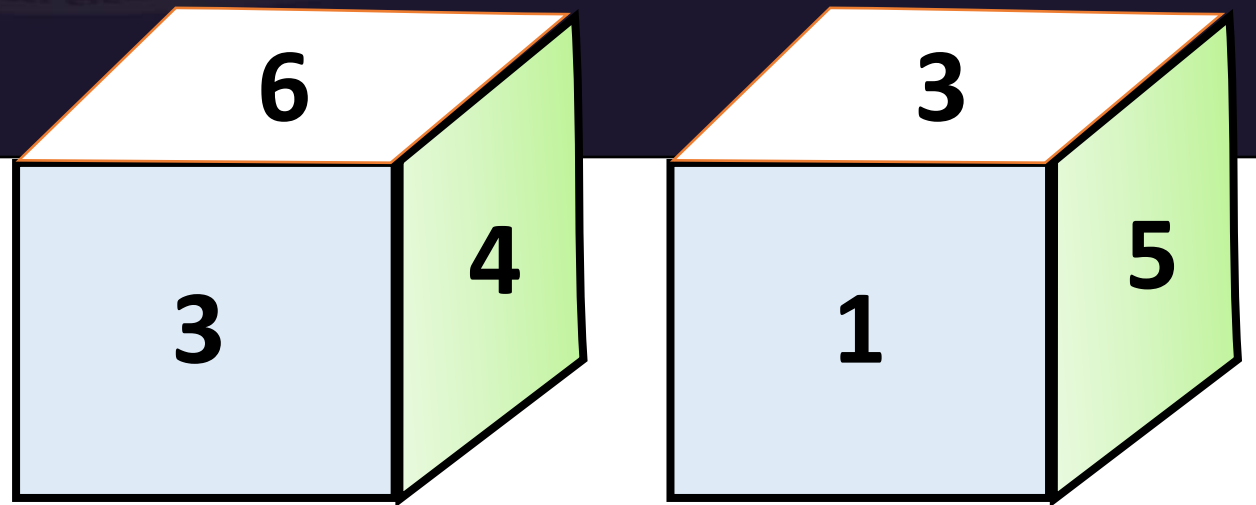
- (A) RAT**
- (B) REPEAT**
- (C) SEAT**
- (D) PRIVATE**





Two positions of dice are shown. What will appear on the opposite to the face containing 3?  
पासा की दो स्थितियां दिखाई गई हैं तो ज्ञात कीजिए की 3 के विपरीत सतह पर क्या होगा?

- (A) 3                      (B) 2  
(C) 1                      (D) 4





Find the option which should replace (?)

Black Flag : Protect :: Brown Flag : ?  
काला झंडा: रक्षा :: भूरा झंडा: ?

- (A) Ambulance / एम्बुलेंस
- (B) Surrender / आत्मसमर्पण
- (C) Revolution / क्रांति
- (D) National Sorrow / राष्ट्रीय दुः ख



Find the missing one (?)

DF : 42 :: IB : ?

- (A) 18
- (B) 81
- (C) 24
- (D) 42

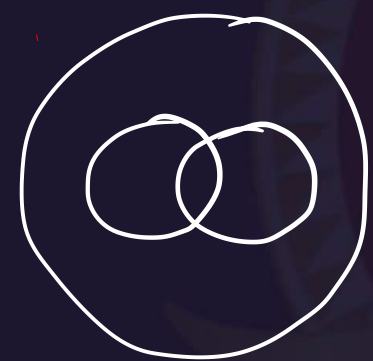




Which of the following diagrams indicates the best relation between Ink , Pen and Book ?  
इंक, पेन और बुक?



A.



B



.C



.D.



Find the number of triangles in the given figure



- A. 7
- B. 18
- C. 16
- D. 14



Find the option which should replace (?)

Siamese : Cat :: ? : ?

- (A) Type : Breed / प्रकार: नस्ल
- (B) Dog : Puppy / कुत्ता: पिल्ला
- (C) Mark : Spot / मार्क: स्पॉट
- (D) Romaine : lettuce / रोमैन : सलाद



**Find odd word from the given alternative.  
दिए गए विकल्प में से विषम शब्द ज्ञात कीजिए ।**

- a) 32,4,8**
- b) 22,4,5**
- c) 54,4,13**
- d) 38,4,9**



Which of the following diagrams indicates the best relation between Indians , Women and Advocate  
भारतीय, महिला और अधिवक्ता?

A.



B.



C.



D.







There are 8 members in a friends group who greet each other on a Diwali day by sending cards . How many cards will be use for this purpose by this group ?

एक मित्र समूह में 8 सदस्य हैं जो एक-दूसरे को दिवाली के दिन कार्ड भेजकर बधाई देते हैं। इस समूह द्वारा इस उद्देश्य के लिए कितने कार्ड का उपयोग किया जाएगा?

- (A) 50
- (B) 64
- (C) 56
- (D) 60





Find the option which should replace (?)

7 : 56 :: ? : ?

- (A) 3:12
- (B) 11:121
- (C) 6:24
- (D) 8:62






Find number of square in the given figure ?

दिए गए आंकड़े में वर्ग की संख्या ज्ञात कीजिए

- (A) 34
- (B) 29
- (C) 31
- (D) cnd





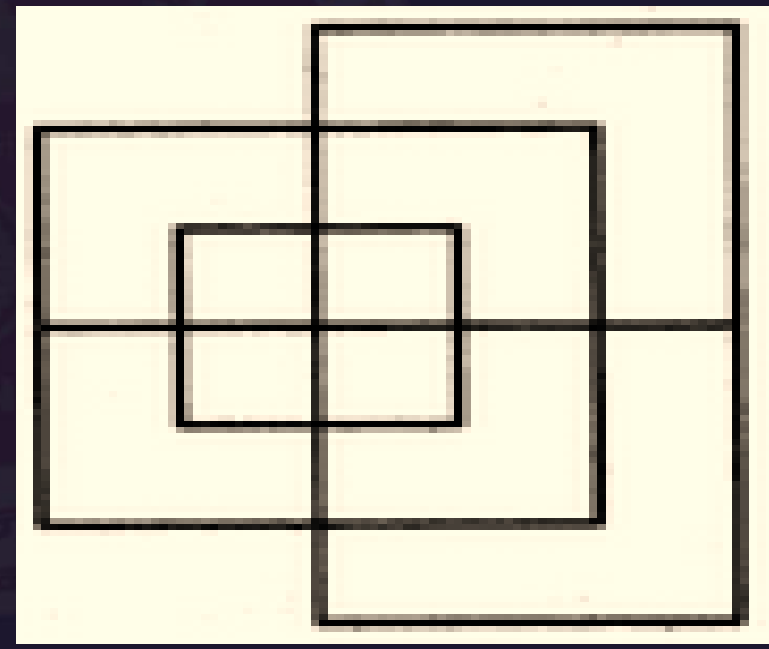
Find minimum number of straight lines in figure?

(A) 13

(B) 15

(C) 17

(D) 19





In a row A is 12<sup>th</sup> from left and B is 16<sup>th</sup> from right and there are 11 members between A & B then what is total no?

एक पंक्ति में A बाईं ओर से 12 वें स्थान पर है और B दाये ओर से 16 वें स्थान पर है और A और B के बीच 11 सदस्य हैं तो कुल संख्या क्या है?

- (1) 39
- (2) 25
- (3) 20
- (4) Either 39 or 15
- (5) None of these





If today is Sunday then which day would be the 65<sup>th</sup> day after today ?

अगर आज रविवार है तो आज के 65 वें दिन कौन सा दिन होगा?

- (A) Monday
- (B) Tuesday
- (C) Wednesday
- (D) Sunday





Ratio of present age of P and Q is 9 : 4 . The difference between their ages is 20 years . What will be the sum ( in years ) of their ages after 10 years ?

P और Q की वर्तमान आयु का अनुपात 9: 4 है। उनकी उम्र में 20 साल का अंतर है। 10 वर्ष के बाद उनकी आयु का योग (वर्षों में) क्या होगा?

- (A) 62
- (B) 66
- (C) 72
- (D) 76





Which number will replace the question mark ?

18	20	8
16	22	9
20	18	?

(A) 10

(B) 6

(C) 11

(D) 7





Find the odd one (?)

- (A) Red – Color / लाल - रंग
- (B) Air – Cooler / वायु - कूलर
- (C) Wheat – Grain / गेहूं - अनाज
- (D) Copper – Metal / तांबा - धातु