



SSC CHSL 2022-23



REASONING

**MOST EXPECTED
PAPER**

सभी SHIFT में आये हुए प्रश्न



LIVE | 05:30 PM

BY MANDEEP MAHENDRAS



SSC CHSL (10+2) 2022



- If South-East becomes North, North-East becomes West and so on. What will West become?
- यदि दक्षिण-पूर्व उत्तर हो जाता है, तो उत्तर-पूर्व पश्चिम हो जाता है और इसी तरह पश्चिम क्या होगा?



A. North-East/पूर्वोत्तर

B. North-West/उत्तर-पश्चिम

→ C. South-East/दक्षिण-पूर्व

D. South-West/दक्षिण-पश्चिम



SSC CHSL (10+2) 2022



- If - means *, * means +, + means ÷ and ÷ means -, then
- $40 * 12 + 3 - 6 \div 60 = ?$
- यदि - का अर्थ *, * का अर्थ +, + का अर्थ ÷ और ÷ का अर्थ - है, तो
- $40 * 12 + 3 - 6 \div 60 = ?$



A. 7.95

B. 16

C. 44

 D. None of these



SSC CHSL (10+2) 2022



- Anil introduces Akash as the son of the only brother of his father's wife. How is Akash related to Anil?
- अनिल ने आकाश को अपने पिता की पत्नी के इकलौते भाई के बेटे के रूप में पेश किया। आकाश, अनिल से किस प्रकार संबंधित है?



- A. Cousin
- B. Son
- C. Uncle
- D. Son-in-law



SSC CHSL (10+2) 2022



- Dinesh is 15 th from the left end of a row of 30 students and Monika is 20 th from the right end in the same row. How many students are there between them in the row?
- दिनेश 30 छात्रों की एक पंक्ति के बाएं छोर से 15वें स्थान पर है और उसी पंक्ति में मोनिका दाएं छोर से 20वें स्थान पर है। पंक्ति में उनके बीच कितने विद्यार्थी हैं?



- A. 3
- B. 2
- C. 5
- D. 4



SSC CHSL (10+2) 2022



- In a certain code language DEXTRAS is written as BHVWPDQ, how will PROBLEM be written in that language?
- किसी कूट भाषा में DEXTRAS को BHVWPDQ लिखा गया है, उसी भाषा में PROBLEM को कैसे लिखा जायेगा?



A. SPRZOCP

→ B. NUMEJHK

C. MTLDIGJ

D. ROQYNBO



SSC CHSL (10+2) 2022



- Which option represents the correct order of the given words as they would appear in English dictionary?
- कौन सा विकल्प सही क्रम या दिए गए शब्दों का प्रतिनिधित्व करता है जैसा कि वे अंग्रेजी शब्दकोश में दिखाई देंगे?

- Lavish
- Leaven
- Lament
- Lavendar
- Liar



A. 3,4,1,5,2

B. 3,1,4,2,5

 C. 3,4,1,2,5

D. 3,1,2,4,5




SSC CHSL (10+2) 2022



- 857= Gulabjamun Are Great
- 386= Eat Great Product
- 254=Laddus are Sweet
- 312=Eat Tasty Laddus
- Sweet=?



- A. 2
-  B. 4
- C. 6
- D. 5



SSC CHSL (10+2) 2022



- Ram leaves his house and walks 12 km north. He turns to the right and walks 12 km. He again turns to the right and walks another 12 km and then turns 5 km to the left. How far is he from his house and in which direction?
- राम अपना घर छोड़कर 12 किमी उत्तर की ओर चलता है। वह दाहिनी ओर मुड़ता है और 12 किमी चलता है। वह फिर से दाएं मुड़ता है और 12 किमी चलता है और फिर 5 किमी बाएं मुड़ता है। वह अपने घर से कितनी दूर है और किस दिशा में है?



A. 10km East

B. 15km East

 C. 17km East

D. 21km East



SSC CHSL (10+2) 2022



- Tuesday is 3 minutes behind at 2 PM and 5 minutes ahead on Thursday at 2 PM. When did it show the right time?
- मंगलवार दोपहर 2 बजे 3 मिनट पीछे और गुरुवार दोपहर 2 बजे 5 मिनट आगे है। इसने सही समय कब दिखाया?



- A. बुधवार सुबह 6 बजे/Wednesday 6 am
- B. बुधवार सुबह 8 बजे/Wednesday 8am
- C. गुरुवार सुबह 4 बजे/Thursday 4 am
- D. गुरुवार सुबह 8 बजे/Thursday 8am



SSC CHSL (10+2) 2022



• In the following question, select the related number from the given alternatives.

• निम्नलिखित प्रश्न में दिए गए विकल्पों में से संबंधित संख्या को चुनिए।

• $57 : 10 :: 48 : ?$

•



A. 36

A thick red arrow pointing from the left towards the option 'B. 8'.

B. 8

C. 9

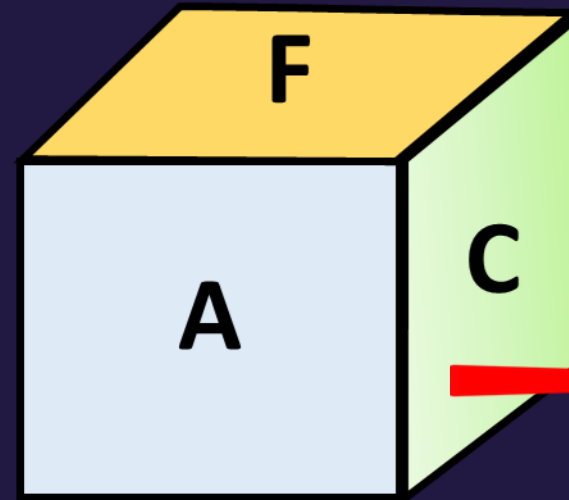
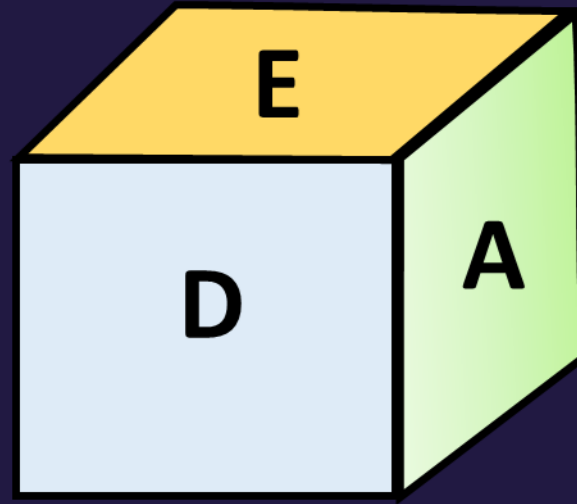
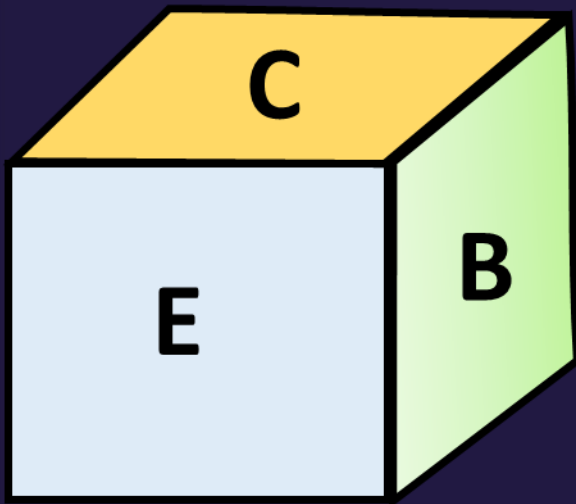
D. 30



SSC CHSL (10+2) 2022



- Three positions of dice are shown. What will appear on the opposite to the face containing A?
- पासे की तीन स्थितियाँ दिखाई गई हैं। A वाले फलक के विपरीत क्या दिखाई देगा?



- A. C
- B. D
- C. B
- D. E





SSC CHSL (10+2) 2022



- In each of following questions, four words have been given of which three are alike in some way and one is different. Choose the odd one out.
- निम्नलिखित प्रत्येक प्रश्न में चार शब्द दिए गए हैं जिनमें से तीन किसी प्रकार से एक जैसे हैं और एक भिन्न है। विषम चुनें।



A. Spoon(चम्मच)

 B. Sword(तलवार)

C. Knife(चाकू)

D. Fork(काँटा)



SSC CHSL (10+2) 2022



- Seven person A,B,C,D,E,F and G are standing in a straight line. D is in the Right side of G. C, is in between A and B. E is between F and D. There are three person in between G and B. Who is at left end?
- सात व्यक्ति A, B, C, D, E, F और G एक सीधी रेखा में खड़े हैं। D, G के दाईं ओर है।
- C, A और B के बीच में है। E, F और D के बीच है। G और B के बीच तीन व्यक्ति हैं। बाएं छोर पर कौन है?





SSC CHSL (10+2) 2022



- What will come in place of the question mark?
- प्रश्नवाचक चिन्ह के स्थान पर क्या आयेगा ?
- 891 885 873 849 801 ?



A. 695

 B. 705

C. 710

D. 750



SSC CHSL (10+2) 2022



- What will come in place of the question mark?
- प्रश्नवाचक चिन्ह के स्थान पर क्या आयेगा ?
- 2 11 46 141 ? 291



A. 206

B. 226

C. 246

 D. 286




SSC CHSL (10+2) 2022



- Which number should come in place of question mark (?) in the following graph?
- निम्नलिखित ग्राफ में प्रश्नवाचक चिन्ह (?) के स्थान पर कौन-सी संख्या आनी चाहिए?



16	4	144
18	9	81
52	37	?

- A. 326
-  B. 225
- C. 420
- D. 910