

# SSC MTS/HAWALDAR/CHSL



## REASONING

# LIVE TEST

तैयारी जीत की...

LIVE

08:30 PM





# UPCOMING ONLINE BATCHES

## May 2022

**04 May 2022**

05:30 PM to 07:30 PM

**BANK ONLINE LIVE CLASS**

10:30 AM to 12:30 PM

**SSC ONLINE LIVE CLASS**

**BILINGUAL**

**11 May 2022**

10:30 AM to 12:30 PM

**BANK ONLINE LIVE CLASS**

01:00 PM to 03:00 PM

**SSC ONLINE LIVE CLASS**

**BILINGUAL**

**18 May 2022**

07:30 PM to 09:30 PM

**BANK ONLINE LIVE CLASS**

05:30 PM to 07:30 PM

**SSC ONLINE LIVE CLASS**

**BILINGUAL**

04:00 PM to 06:00 PM

**BANK ONLINE LIVE CLASS**

**ENGLISH & BENGALI**

**25 May 2022**

03:00 PM to 05:00 PM

**BANK ONLINE LIVE CLASS**

08:00 AM to 10:00 AM

**SSC ONLINE LIVE CLASS**

**BILINGUAL**

05:30 PM to 09:30 PM

**CUET ONLINE LIVE CLASS**

**BILINGUAL**



**Find the missing :-**

**35 , 99 , 195 , 323 , ?**

- (A) 576**
- (B) 385**
- (C) 475**
- (D) 483**





**Find the missing term(?)**

**( 7 , 16 , 34 ) :: ?**

- (A) 4 , 16 , 28**
- (B) 7 , 12 , 29**
- (C) 6 , 12 , 22**
- (D) 5 , 12 , 26**





Find the missing :-

0 , 6 , 20 , 42 , 72 , ?

- (A) 110
- (B) 102
- (C) 105
- (D) 113





Find the missing :-

Papaya : Vitamin A :: Karonda (Carissa carandas) : ?  
पपीता: विटामिन ए :: करोंदा


- (A) Vitamin A
- (B) Vitamin B
- (C) Vitamin C
- (D) Vitamin D





**Find the triangle (?)**

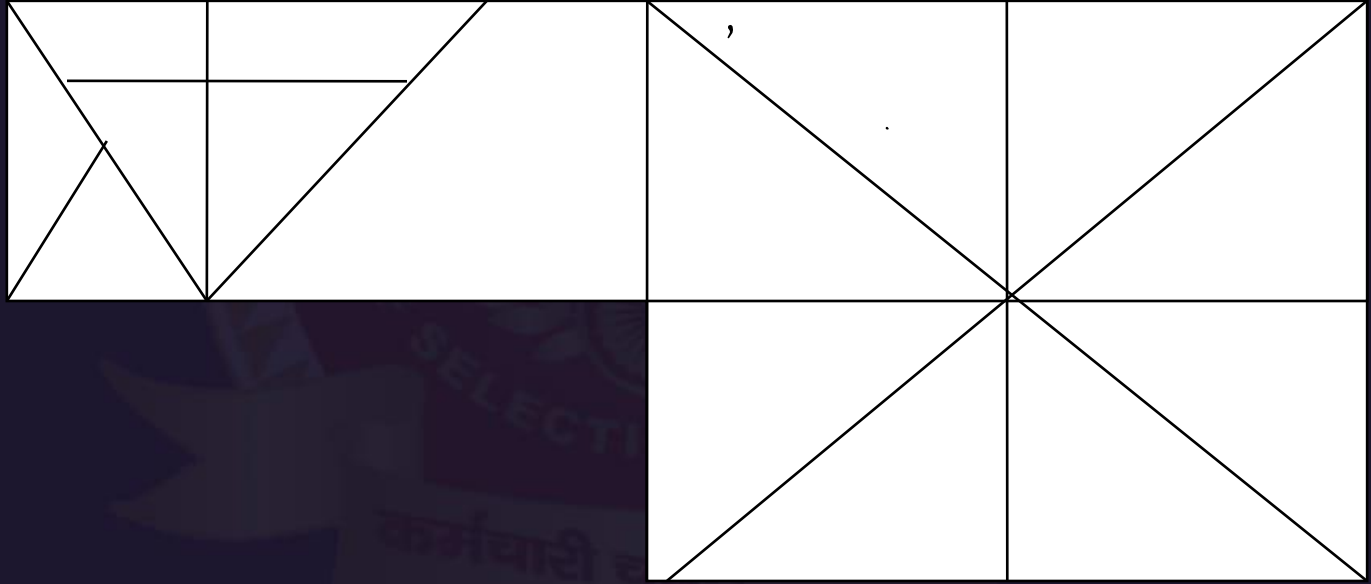
- 1. 29**
- 2. 28**
- 3. 27**
- 4. 30**





Find the triangle (?)

- 1. 26
- 2. 27
- 3. 28
- 4. 25







Find the missing :-

12 , 20 , 34 , 57 , ?

- (A) 93 .5
- (B) 93
- (C) 93.2
- (D) 93 .25





Find the missing :-

1023 , 987 , 915 , 807 , ?

- (A) 563
- (B) 543
- (C) 636
- (D) 663





Find the missing term(?)

- (A) 13
- (B) 09
- (C) 36
- (D) 18

13	16
25	?



$20^2 = 625$   
 $13^2 = 169$   
16



**Find the missing :-**

**99 , 121 , 143 , 165 , ?**

- (A) 187**
- (B) 192**
- (C) 275**
- (D) 173**





Find the missing (?)

Chair : Furniture :: ? : ?

कुर्सी : फर्नीचर : ? : ?



1. Letter paper : Stationary / पत्र कागज : स्टेशनरी
2. Pencil : Wood / पेंसिल : लकड़ी
3. Bicycle : Travel / साइकिल : यात्रा
4. Seat : Cover / सीट : गिलाफ



Find the option which should replace (?)

Garage : Motorcar :: Airplane : ?  
गैराज : मोटरकार :: हवाई जहाज : ?

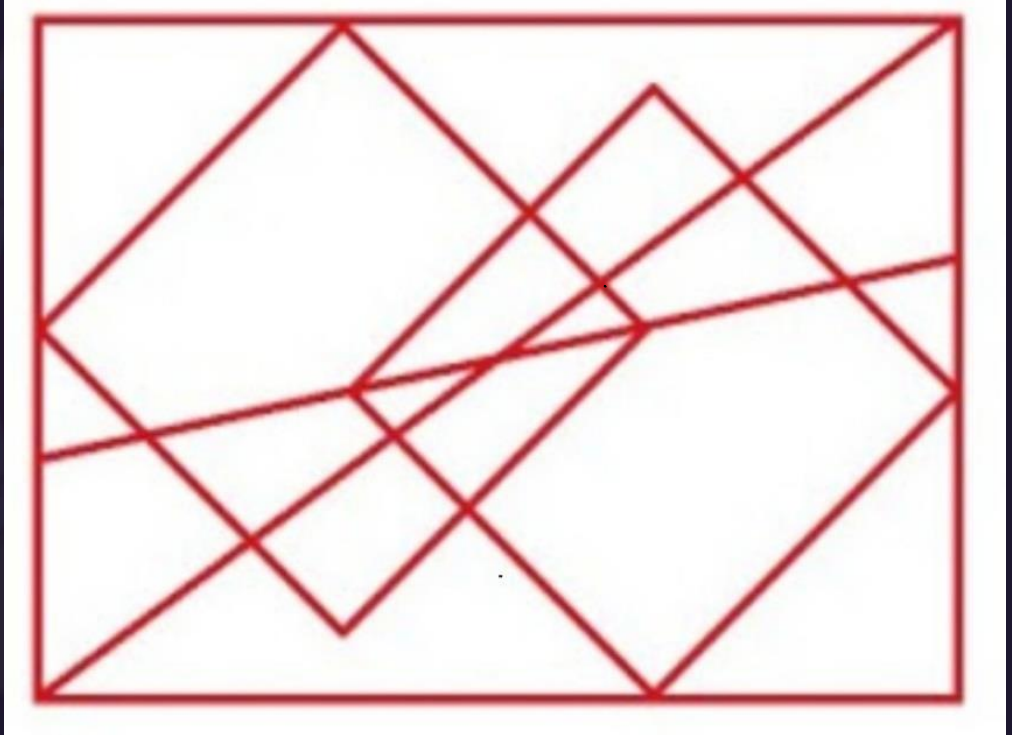
- A. Haunt / अड्डा
- B. Workshop / कार्यशाला
- C. Hanger / हैंगर
- D. Dock / गोदी





Find the triangle :-

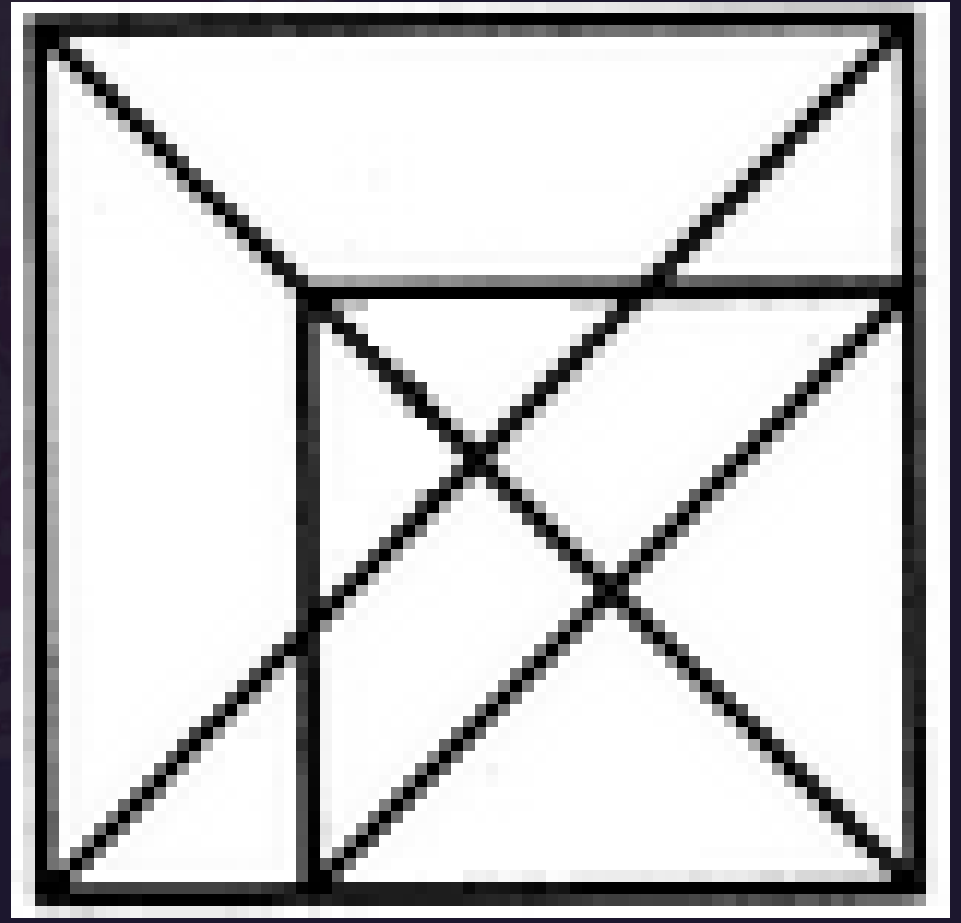
- (A) 16
- (B) 18
- (C) 20
- (D) 22





Find number of triangle in the given figure ?  
दी गई आकृति में त्रिभुज की संख्या ज्ञात कीजिए?

- (A) 34
- (B) 27
- (C) 21
- (D) 16







Find the missing :-

- (A) 125
- (B) 120
- (C) 100
- (D) 140

51	65	?
06	15	20
08	04	05
03	05	20





Find the missing :-

47 : 65 :: 59 : ?

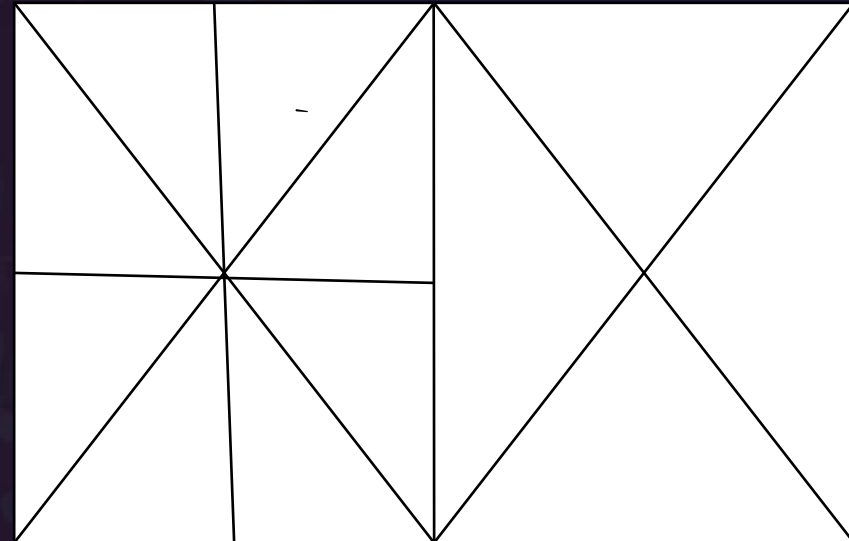
- (A) 95
- (B) 110
- (C) 106
- (D) 118





Find number of triangle in the given figure ?  
दी गई आकृति में त्रिभुज की संख्या ज्ञात कीजिए?

- (A) 24
- (B) 26
- (C) 28
- (D) 30





Q Which number will replace the question mark ?

- (A) 22
- (C) 66

- (B) 33
- (D) 77

42	44	38
23	55	28
37	?	39





Q Which number will replace the question mark ?

?	25	16
529	169	81
676	144	49

- (A) 1084
- (C) 49

- (B) 484
- (D) 36

