



*Mahendra's*



**IBPS PO PRE 2021**

**Exam वाले Questions**

**FINAL RACE**

**MATHS**

**Data Interpretation**



**09:30 PM**



Preparing For Govt. Exams?

**SUBSCRIBED**



**Mahendras**

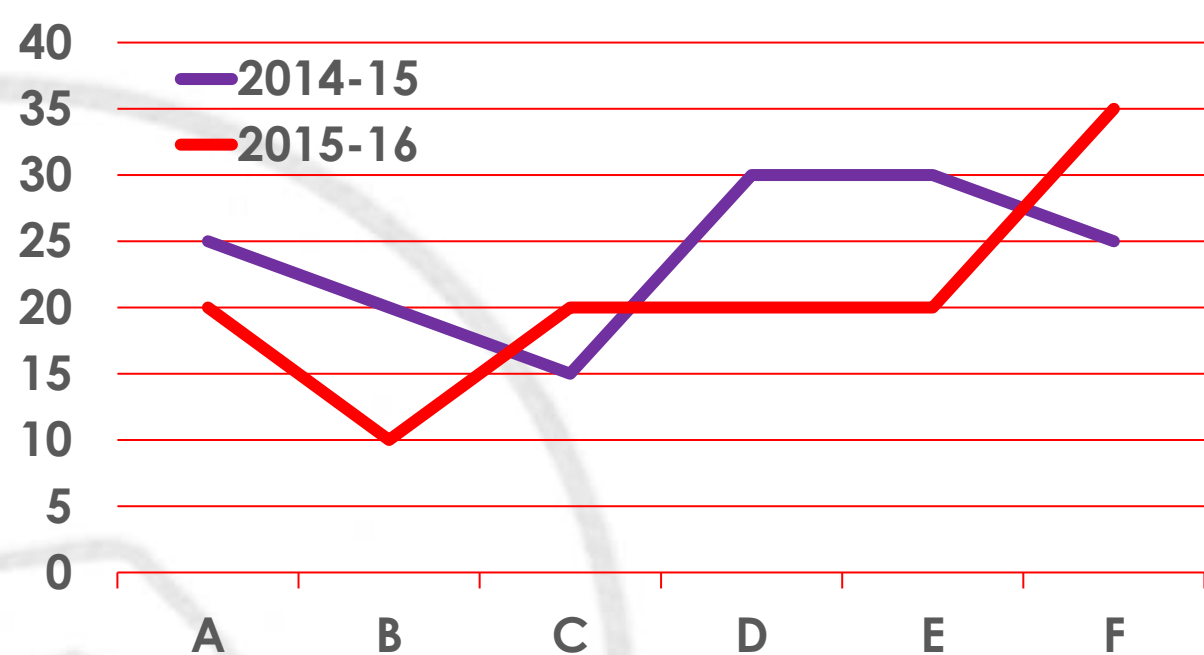
Youtube Channel



Do Like, Share & Comment

The line graph shows the percentage increase in population of six towns from 2014 to 2015 and 2015 to 2016. The table shows the actual population in these village in three different years.

रेखा ग्राफ 2014 से 2015 और 2015 से 2016 तक छह शहरों की जनसंख्या में प्रतिशत वृद्धि को दर्शाता है। तालिका तीन अलग-अलग वर्षों में इन गाँवों की वास्तविक जनसंख्या को दर्शाती है।

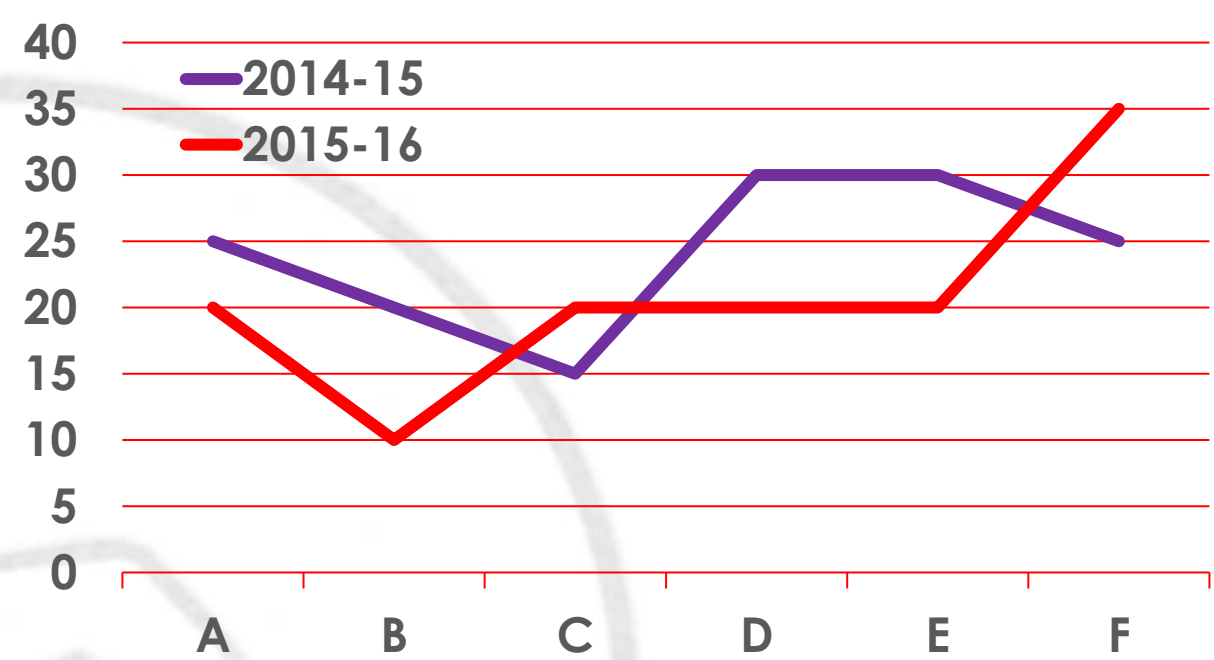


Town/ Years	2014	2015	2016
A	--	--	3750
B	--	1980	--
C	--	--	1518
D	--	--	--
E	1250	--	--
F	1200	--	--

What is the total increase in population of town A from 2014 to 2016?

2014 से 2016 तक शहर A की जनसंख्या में कुल वृद्धि कितनी है?

- (1) 1250      (2) 2500      (3) 1800      (4) 250  
 (5) 1050

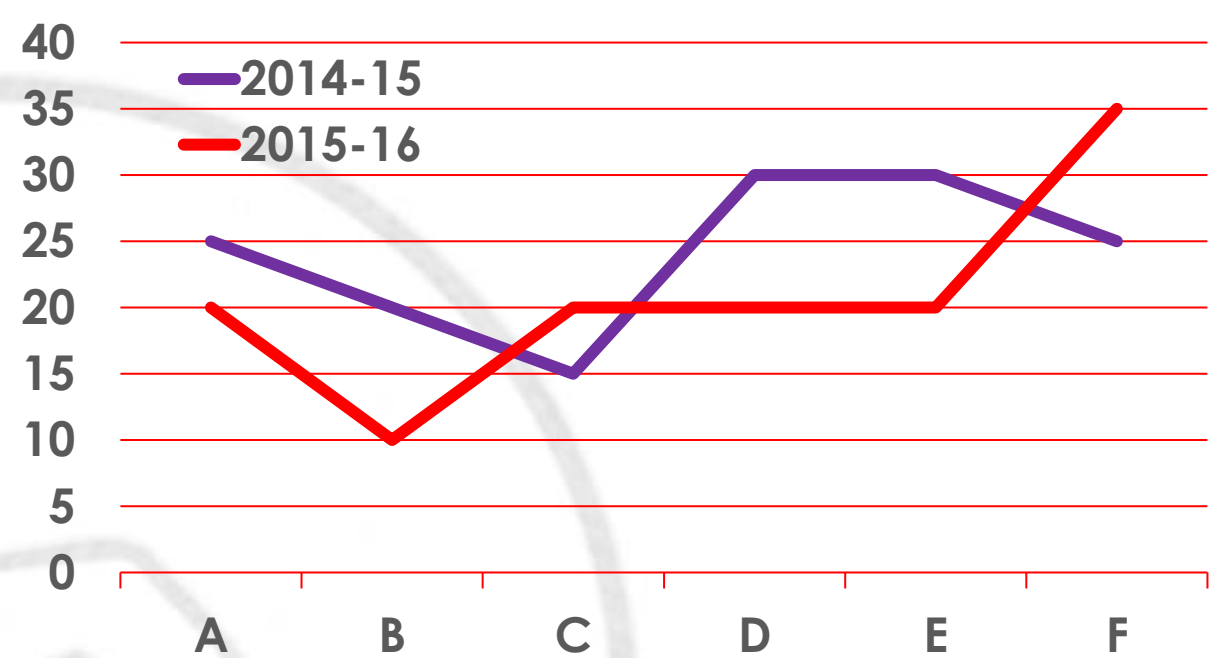


Town/ Years	2014	2015	2016
A	--	--	3750
B	--	1980	--
C	--	--	1518
D	--	--	--
E	1250	--	--
F	1200	--	--

If the average population of all the towns in year 2016 is 2201 then what is the population of town D in year 2016?

यदि वर्ष 2016 में सभी शहरों की औसत जनसंख्या 2201 है, तो वर्ष 2016 में शहर D की जनसंख्या कितनी है?

- (1) 1504      (2) 1604      (3) 1704      (4) 1804  
 (5) None of these

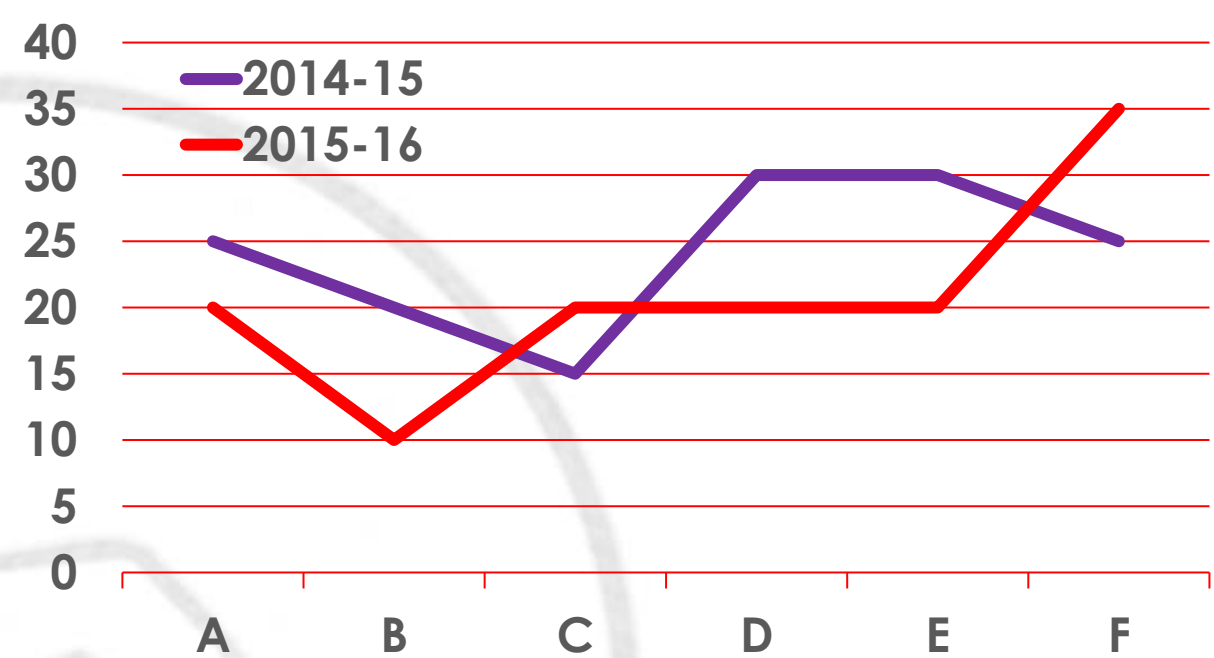


Town/ Years	2014	2015	2016
A	--	--	3750
B	--	1980	--
C	--	--	1518
D	--	--	--
E	1250	--	--
F	1200	--	--

What is the total increase percentage of population in the town A, B and C taken together from 2014 to 2016 (approx.)?

2014 से 2016 तक शहर A, B और C में कुल जनसंख्या का कुल वृद्धि प्रतिशत कितना है (आसन्नतः)?

(1) 40% (2) 42% (3) 48% (4) 46% (5) 44%

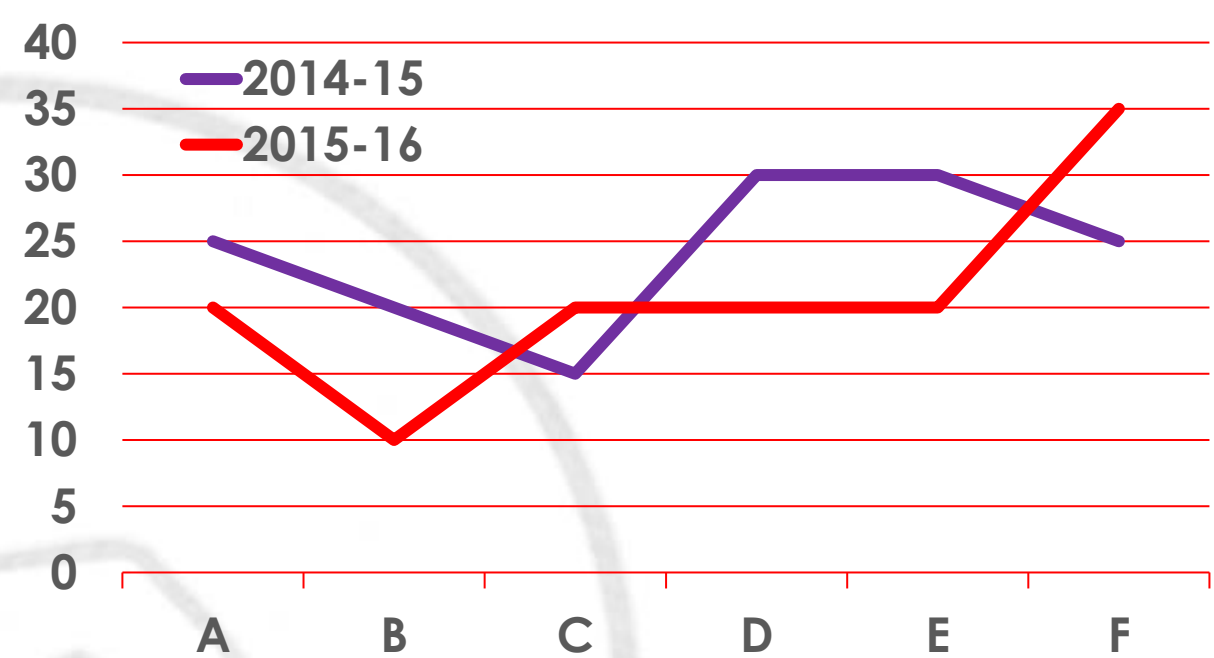


Town/ Years	2014	2015	2016
A	--	--	3750
B	--	1980	--
C	--	--	1518
D	--	--	--
E	1250	--	--
F	1200	--	--

If the total population in town D in 2015 is 1300 then find the average population of all the towns in year 2014?

यदि 2015 में शहर D की कुल जनसंख्या 1300 है, तो वर्ष 2014 में सभी शहरों की औसत जनसंख्या ज्ञात कीजिए?

- (1) 1450      (2) 1350      (3) 1250      (4) 1520  
 (5) 1620

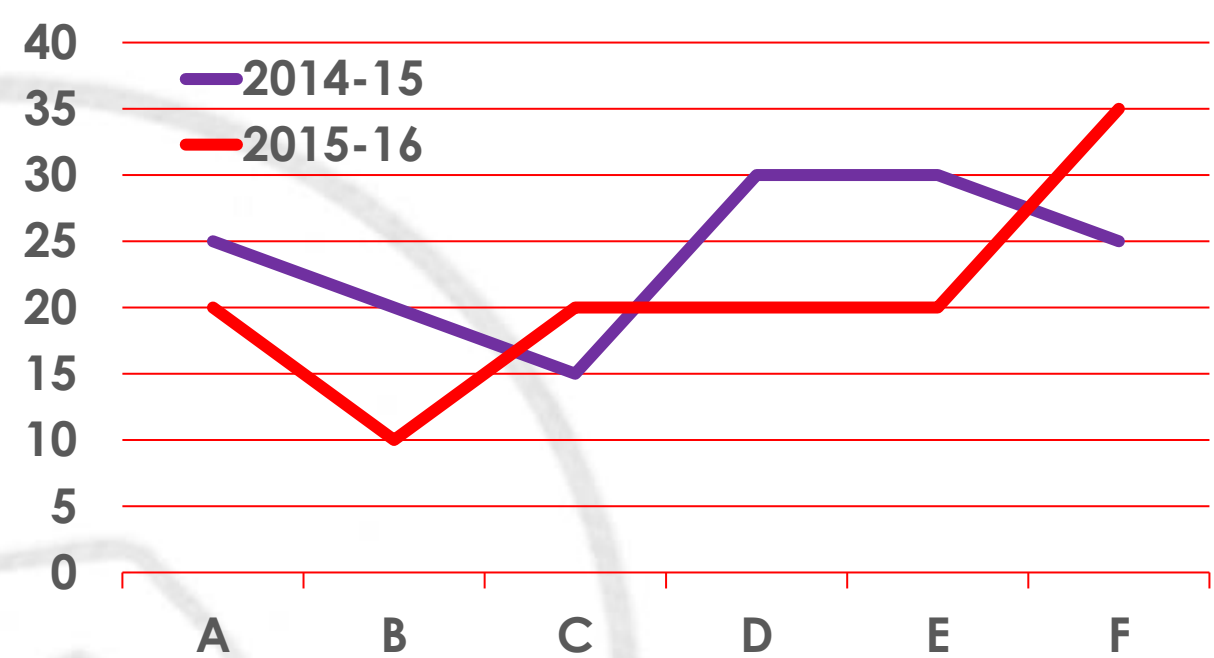


Town/ Years	2014	2015	2016
A	--	--	3750
B	--	1980	--
C	--	--	1518
D	--	--	--
E	1250	--	--
F	1200	--	--

What is the ratio of total population of all the towns in 2015 to the total population of all the town in 2016?

2015 में सभी शहरों की कुल जनसंख्या का 2016 में सभी शहरों की कुल जनसंख्या से अनुपात कितना है?

- (1) 6: 7      (2) 4: 5      (3) 3: 5      (4) 5: 3  
 (5) Can't be determined



Town/ Years	2014	2015	2016
A	--	--	3750
B	--	1980	--
C	--	--	1518
D	--	--	--
E	1250	--	--
F	1200	--	--

 *Mahendra's*

पढ़ना नहीं, सीखना है,  
केवल पढ़ना होता,  
तो Selection सबका हो जाता...!!!

दुनिया में कुछ बनो या ना बनो,  
एक अच्छा इंसान जरूर बनो ...!!!

