



SSC CHSL 2022-23



REASONING

**MOST EXPECTED
PAPER**

सभी SHIFT में आये हुए प्रश्न



LIVE | 05:30 PM

BY MANDEEP MAHENDRAS



SSC CHSL (10+2) 2022



◇ What will be the angle subtended by the hour hand in 48 seconds?

◇ 48 सेकण्ड में घंटे की सुई द्वारा बनाया गया कोण कितना होगा ?

A. 4.8

B. 6/15

→ C. 2/5

D. 24





SSC CHSL (10+2) 2022



◇ In a clock it is 1:35. What is the angle between the hour hand and the minute hand?

◇ एक घड़ी में 1 बजकर 35 मिनट हो रहा है बतायें कि घंटे और मिनट की सुई के बीच कितने अंश का कोण है?

A. 192.5°

B. 216°

→ C. 162.5°

D. 167.5°





SSC CHSL (10+2) 2022



- ◇ Ravi correctly remembers that Somnath was born after 17th September and before 21st September Lokpal remembers that Somnath was born after 19th September but before 23rd September then on what date was Somnath born?
- ◇ रवि को ठीक से याद है कि सोमनाथ का जन्म 17 सितम्बर के बाद और 21 सितम्बर से पहले हुआ था लोकपाल को याद है कि सोमनाथ का जन्म 19 सितम्बर के बाद लेकिन 23 सितम्बर से पहले हुआ था तो सोमनाथ का जन्म किस तारीख को हुआ था?



A. डाटा अपर्याप्त है

B. 20 सितम्बर या 21 सितम्बर

→ C. 20 सितम्बर

D. 19 सितम्बर



SSC CHSL (10+2) 2022



- The age of a father is twice the age of his son. Thirty years ago his father was four times the age of his son. What is the age of the son at present?
- एक पिता की उम्र अपने बेटे की उम्र से दुगुनी है। तीस वर्ष पहले उसके पिता की उम्र अपने बेटे की उम्र से चार गुना थी। इस समय बेटे की उम्र क्या है?



A. 35

B. 40

→ C. 45

D. 38



SSC CHSL (10+2) 2022



• nc_In_clncc_nc_I_ccl

A. cclcc

B. ccncc

C. clclc

 D. cclcn





SSC CHSL (10+2) 2022



- Find the next term.
- 9, 4.5, 4.5, 6.75, ?

A. 12.5

 B. 13.5

C. 11.5

D. 14.5





SSC CHSL (10+2) 2022



- Walk : Run :: Air : ?
- चलना : दौड़ना :: हवा : ?

A. Air

 B. Storm

C. Rain

D. Weather





SSC CHSL (10+2) 2022



- 'Tired' is related to 'work' in the same way 'happiness' will be related to.....
- 'थकाना' संबंधित है 'कार्य' से तो उसी तरह 'खुशी' संबंधित होगा

A. Gold/सोना

B. Comfort/आराम

→ C. Success/कामयाबी

D. Habit/आदत





SSC CHSL (10+2) 2022



- Eight friends A, B, C, D, E, F, G and H are sitting around a circular table facing the center but not necessarily in the same order. B is second to the right of A. B is on the immediate left of H. D is second to the right of B. F is fourth to the left of H. C is an immediate neighbor of D. E is not an immediate neighbor of A.

Who sits third to the left of G?

- आठ मित्र A, B, C, D, E, F, G और H वृत्ताकार मेज के चारों ओर केन्द्र की ओर मुख करके बैठे है लेकिन जरूरी नहीं है कि इसी क्रम में हो। B, A के दायें दूसरा है। B, H के तुरंत बायें है। D, B के दायें दूसरा है F, H के बायें चौथे स्थान पर है। C, D का तुरन्त पड़ोसी है। E, A का तुरन्त पड़ोसी नहीं है। कौन G के बायें तीसरा स्थान पर बैठा है?



A. F

B. C

C. E

D. H





SSC CHSL (10+2) 2022



- Pointing to Mala, Kala says, "She is the daughter of my brother's only sister."
How is garland related to art?
- माला की ओर इशारा करते हुए कला कहती है, "वह मेरे भाई के इकलौती बहन की बेटी है।" माला कला से किस प्रकार सम्बन्धित है?

 A. Mother

B. Daughter

C. Aunt

D. Niece





SSC CHSL (10+2) 2022



- There are 35 students in a row, Rakesh is shifted 6 places to the right. So his position becomes 18th from the right. Then what was the position of Rakesh from the left end before the change of position?
- एक पंक्ति में 35 विद्यार्थी हैं राकेश को दायें ओर 6 स्थान खिसकाया जाता है। तो उसका स्थान दायें से 18 वाँ हो जाता है। तो स्थान परिवर्तन से पहले में राकेश का बाएं छोर से स्थान क्या था?

A. 10

B. 13

→ C. 12

D. 11





SSC CHSL (10+2) 2022



- Harish went 8 km towards East and took a right turn and walked 5 km, then took a left turn and walked 4 km and finally took a left turn and walked 5 km. At what distance is he standing from the starting point?
- हरीश 8 किमी पूर्व दिशा की ओर गया और दायें मुड़कर वह 5 किमी चला वह फिर बायें मुड़ा और 4 किमी चला और अंत में वह बायें मुड़ा और 5 किमी चला। वह प्रारम्भिक बिंदु से कितनी दूरी पर खड़ा है?

A. 6 किमी

 B. 12 किमी

C. 9 किमी

D. 15 किमी





SSC CHSL (10+2) 2022



- If ADVENTURE is written as BFYISZBZN in a certain code language, then how will COUNTRY be written in that code language?
- यदि ADVENTURE को एक विशिष्ट कूट भाषा में BFYISZBZN लिखा जाए, तो COUNTRY को उसीकूट भाषा में किस प्रकार लिखा जायेगा?

A. DPVOUSZ

→ B. DQXRYXF

C. EQWPVTA

D. BNTMSQX





SSC CHSL (10+2) 2022



- How many meaningful English words can be made using the letters A, T, G using each letter only once in a word?
- अक्षरों A, T, G में से प्रत्येक अक्षर का एक शब्द में केवल एक बार प्रयोग करते हुए अंग्रेजी के कितने अर्थपूर्ण शब्द बनाये जा सकते हैं ?

A. कोई नहीं

→ B. दो

C. एक

D. तीन

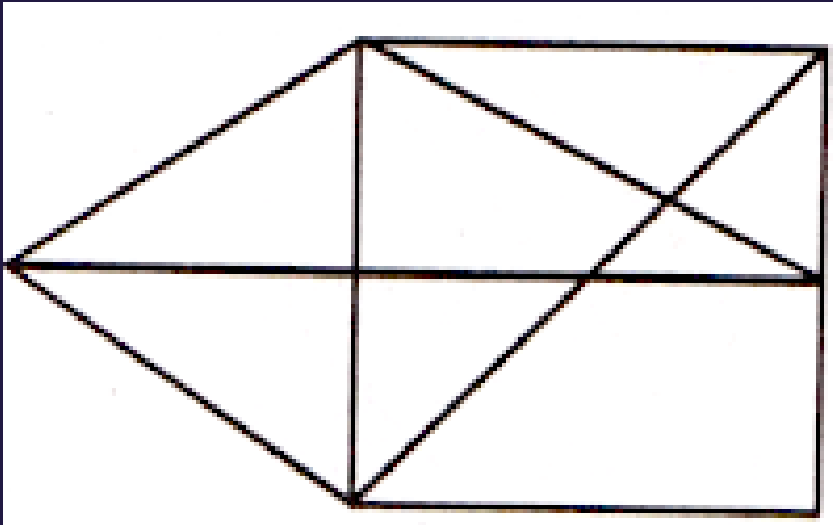




SSC CHSL (10+2) 2022



- find the number of triangles in the given figure.
- दी गई आकृति में त्रिभुजों की संख्या ज्ञात कीजिए



A. 12

B. 13

C. 14

 D. 15





SSC CHSL (10+2) 2022



- Choose the alternative which is closely resembles the mirror image of the given combination.
- उस विकल्प को चुनें जो दिए गए संयोजन की दर्पण छवि के समान है

1965 | INDOPAK

(1) KAPODI | 5961

(2) PAKI | IDOI 982

(3) KAPODI | 1881



(4) KAPODI | 2881





SSC CHSL (10+2) 2022



- Statements:
- Some actors are singers./कुछ अभिनेता गायक हैं।
- All the singers are dancers./सभी गायक नर्तक हैं।
- Conclusions:
- Some actors are dancers./कुछ अभिनेता नर्तक हैं।
- No singer is actor./कोई गायक अभिनेता नहीं है।



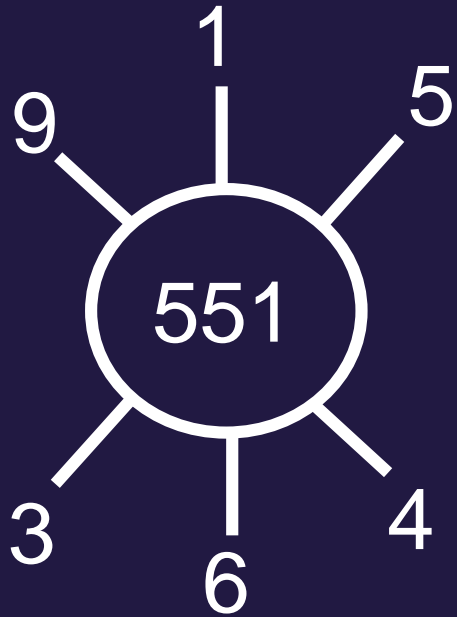




SSC CHSL (10+2) 2022



- Which number will replace the question mark ?
- प्रश्न चिन्ह के स्थान पर कौन सी संख्या आएगी ?



A. 262

B. 631

→ C. 622

D. 824

