



CUET 2022

REASONING



SPEED TEST

DISCUSSION

TEST-3

LIVE



UPCOMING ONLINE BATCHES

June 2022

01 June 2022

08:00 AM to 10:00 AM

BANK ONLINE LIVE CLASS

03:00 PM to 05:00 PM

SSC ONLINE LIVE CLASS

BILINGUAL

08 June 2022

01:00 PM to 03:00 PM

BANK ONLINE LIVE CLASS

07:30 PM to 09:30 PM

SSC ONLINE LIVE CLASS

BILINGUAL

15 June 2022

05:30 PM to 07:30 PM

BANK ONLINE LIVE CLASS

10:30 AM to 12:30 PM

SSC ONLINE LIVE CLASS

BILINGUAL

 www.mahendras.org

 7052477777/7052577777

Select the correct combination of mathematical signs to replace * signs and to balance the given equation.

दिये गए समीकरण को सतंत लुठित करने तथा * चिन्हों को प्रतिस्थापित करने के लिए गणितीय चिन्हों का सही उत्तर ज्ञात कीजिए

$$120 * 2 * 5 * 50 * 15$$

(A) $\div = - \times$

(B) $\div \times = +$

(C) $\div + - =$

(D) $\div + \times =$



Select the related word from the given alternatives.

Notorious : Infamous :: Impertinent : ?

(A) Animate (B) Irrelevant (C) Aid (D) Cause

दिये गये विकल्पों में से सम्बंधित शब्द का चयन कीजिए।

कुख्यात : बदनाम :: अनपुयक्तु : ?

(A) चेतन (B) असंगत (C) सहायता (D) कारण



Select the related letter from the given alternatives.

A : U :: D : ?

(A) Q (B) U (C) V (D) X



Which number will replace the question mark (?) in the following series?

5, 5, 10, 15, 25, 40, ?

(A) 85 (B) 65 (C) 105 (D) 55



From among the given alternatives select the one in which the set of numbers is most like the set of numbers given in the question.

Given Set – (30, 6, 66)



(A) 6, 13, 174 (B) 16, 25, 280 (C) 15, 5, 40 (D) 20, 15, 200

Which number will replace the question mark (?) in the following series?

96 : 86 :: 66 : ?

- (A) 86
- (B) 156
- (C) 56
- (D) 66



Pointing to a lady, Abhinav said, "She is the mother of the Ramesh and the sister of the husband of my mother,"
How is the lady related to Abhinav?

एक महिला की ओर इशारा करते हुए अभिनव ने कहा, "वह रमेश की माता है और मेरी माता के पति की बहन है," महिला का अभिनव से क्या संबंध है?

- (A) Aunt (B) Granddaughter (C) Daughter (D) Sister



Select the one which is different from the other three alternatives.

(A) $25 - 35$ (B) $65 - 55$ (C) $45 - 45$ (D) $95 - 75$



Arrange the following words according to the English dictionary.

1. Sabot 2. Sabal 3. Sabet 4. Sabin 5. Saber

(A) 2, 1, 3, 4, 5

(B) 2, 3, 5, 4, 1

(C) 2, 3, 1, 4, 5

(D) 3, 1, 5, 2, 4



In the following question, which one set of letters when sequentially placed at the gaps in the given letter series shall complete it?

a b _ b _ d a _ b b c d a _ b b _ d a b

(A) bcbac (B) babbc (C) acbbc (D) bcbbc



20

Deepa moved a distance of 25 meters towards the south then she turned to the left and walk 25 meters, turned left again and walked 80 meters. Finally, she turned to the right at an angle of 90° . In which direction was she moving finally?

दीपाने दक्षिण की ओर 25 मीटर की दूरी तय की, फिर वह बाएं ओर मड़ी और 25 मीटर तक चली, फिर से बाएं मड़ी और 80 मीटर तक चली। अंत में, वह 90° के कोण पर दाएं ओर मड़ती है। वह अंत में किस दिशा में आगे बढ़ रही थी?

(A) East (B) North-west (C) South (D) South-west



Select the one which is different from the other three alternatives.

- (A) KQ
- (B) BZ
- (C) PL
- (D) YA



If "TABLE" is coded as "ELYAT" then how will "NEVER" be coded in the same code?

यदि "TABLE" को "ELYAT" के रूप में कोडित किया जाता है, तो उसी कोड में "NEVER" को कैसे कोडित किया जाएगा?

(A) REEAN (B) RMEEN (C) REFEN (D) REEEN



If a mirror is placed on the line mn, then which of the answer figures is the right mirror image for the given figure?

यदि दर्पण को mn रेखा पर रखा जाता है, तो दी गयी आकृति के लिए कौन-सी उत्तर आकृति सही दर्पण प्रतिबिम्ब है?

Question Figure-



Answer Figures-



Select the Venn diagram that represents the best relationship among the given classes.
Trivandrum, India, Kerala / त्रिवेंद्रम , भारत, केरल



Select the odd number from the given options.

(A) 373 (B) 247 (C) 317 (D) 319



Statement:

All gypsies are webs. / सभी जिप्सियां जाले हैं।

All webs are nests. / सभी जालेघोसले हैं।

Conclusions:

I: All nests are gypsies. / सभी घोंसले जिप्सियां हैं।

II: Some nests are gypsies. / कुछ घोंसले जिप्सियां हैं।

(A) Either conclusion I or conclusion II follows.

(B) Only conclusion II follows.

(C) Only conclusion I follows

(D) Both conclusions follow.



Select the option that will correctly replace the question mark (?) in the given series.

PKZ, NMX, LOV, JQT, (?)

- (A) HSP
- (B) HSR
- (C) HST
- (D) HSO



Select the option that will replace the question mark (?) in the given series.

4, 20, 36, 52, (?)

(A) 70

(B) 69

(C) 67

(D) 68



Select the odd word from the given options.

(A) Garlic (B) Ginger (C) Onion (D) Mustard

दिए गए विकल्पों मेंसे असंगत शब्द का चयन करें।

(A) लहसन (B) अदरक (C) प्याज़ (D) सरसो



Select the option that is related to the third term in the same way as the second term is related to the first term.

DFH : HLP :: EGI : ?

(A) JNP (B) JMP (C) JNR (D) JMR



Select the option that is related to the third term in the same way as the second term is related to the first term.

Lock : Key :: Horse : ? / ताला : चाभी :: घोड़ा : ?

(A) Chariot (B) Ride (C) Bull (D) Saucer

(B) रथ (B) सवारी (C) बैल (D) तश्तरी



Select the option that will replace the question mark (?) in the given pattern.


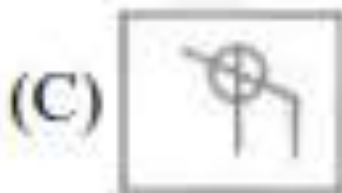
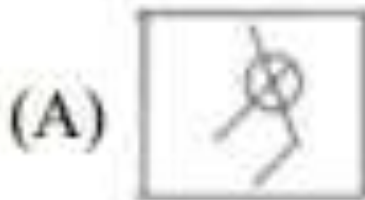
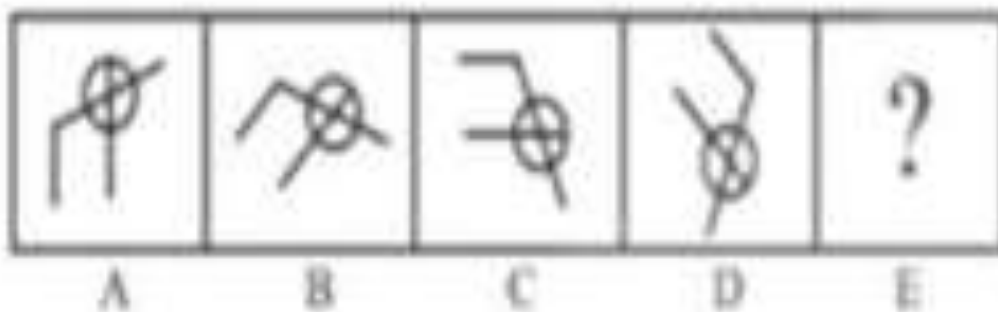
(A) 7 (B) 9 (C) 13 (D) 11

13	23	?
3	4	6
39	92	66



Select the figure from amongst the alternatives that will come next in the given series.

उस आकृति का चयन विकल्पों में से करें जो दी गई श्रृंखला में आगे आयेगी।



Select a shape from the options that contains the shape marked with 'X'.

(No rotation allowed)

विकल्पों में से उस आकृति का चयन करें जिसमें 'X' आकृति समाहित है। (घमाने की अनुमति नहीं है)

