



SSC CHSL 2022-23



REASONING

**MOST EXPECTED
PAPER**

सभी SHIFT में आये हुए प्रश्न



LIVE | 05:30 PM

BY MANDEEP MAHENDRAS



SSC CHSL (10+2) 2022



- Radhika walks 50 meters towards South from her house, then turns left and walks 20 metres. Then she turns towards North and walks 30 meters from there towards her home. In which direction is she walking now?
- राधिका अपने घर से दक्षिण की ओर 50 मीटर चलती है, फिर बाएँ मुड़कर 20 मीटर चलती है। उसके बाद उत्तर की ओर मुड़कर 30 मीटर चलती है और वहाँ से अपने घर की ओर जाती है। अब वह किस दिशा में चल रही है?



- A. North
- B. South-West
- C. East
-  D. North-West




SSC CHSL (10+2) 2022



- Find the next term.
- अगला पद ज्ञात कीजिए।
- 3, 7, 15, ?, 63, 127,



- A. 30
-  B. 31
- C. 47
- D. 52



SSC CHSL (10+2) 2022



- 'Viticulture' is related to 'Grapes' in the same way as 'Floriculture' is related to ' ' '.
- 'विटीकल्चर' का संबंध 'अंगूर' से उसी प्रकार है जैसे 'फलोरीकल्चर' का संबंध ' ' से है।



- A. रेशम का कीड़ा
- B. फ्लुओरीन
- C. फूल
- D. पौधे





SSC CHSL (10+2) 2022



- A, Z, X, B, V, T, C, R, ?, ?



- A. P, D
B. E, O
C. Q, E
D. O, Q



SSC CHSL (10+2) 2022



- Arrange the following words in meaningful order.
- निम्नलिखित शब्दों को अर्थपूर्ण क्रम में व्यवस्थित कीजिए।
- 1. Satisfied 2. Inquiry 3. Problem 4. Solution 5. Office



A. 32415

B. 35124

→ C. 35241

D. 43521



SSC CHSL (10+2) 2022



- In a certain code language, PERSON is written as EEGHDC. How is CORNER written in same code language?
- एक निश्चित कूट भाषा में PERSON को EEGHDC लिखा जाता है। उसी कूट भाषा में CORNER को किस प्रकार लिखा जाएगा?



- A. CDGCEG
B. CDGEGE
C. CDCGEG
D. CEDCEG



SSC CHSL (10+2) 2022



• Calf : Shed :: Fawn : ?

बछड़ा : छप्पर :: मृग : ?



A. Prison

B. Nest

→ C. Forest

D. Den



SSC CHSL (10+2) 2022



- In each of the following question, four numbers are given, out of which three are alike in some manner while the fourth one is different. Choose the odd one.
- निम्नलिखित प्रत्येक प्रश्न में, चार संख्याएँ दी गई हैं, जिनमें से तीन किसी प्रकार से समान हैं जबकि चौथा भिन्न है। असंगत का चयन करें।




- A. 2016
- B. 3016
- C. 3006
- D. 3303




SSC CHSL (10+2) 2022




- The figure given on the left hand side in each of the following questions is folded to form a box. Choose from the alternatives (1), (2), (3) and (4) the boxes that is similar to the box formed.
- निम्नलिखित प्रत्येक प्रश्न में बायीं ओर दी गई आकृति को एक बॉक्स बनाने के लिए मोड़ा गया है। विकल्पों (1), (2), (3) और (4) में से उस बॉक्स को चुनें जो बनने वाले बॉक्स के समान हो।



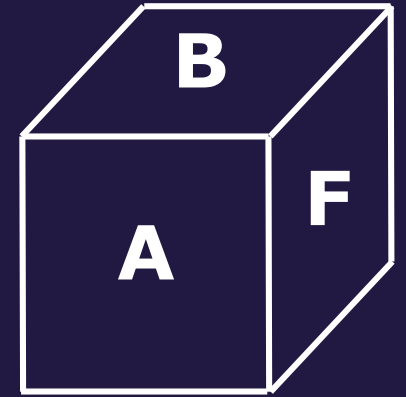
1




2



3



4





SSC CHSL (10+2) 2022



- Introducing Sonia, Aamir says, "She is the wife of only nephew of only brother of my mother." How is Sonia related to Aamir?
- सोनिया का परिचय देते हुए आमिर कहते हैं, "वह मेरी मां के इकलौते भाई के इकलौते भतीजे की पत्नी है." सोनिया आमिर से कैसे संबंधित है?



A. Wife

B. Sister

C. Sister-in-law

 D. Data is inadequate



SSC CHSL (10+2) 2022



- In a row Tom is 18th from the left and Veer is 16th from the right and there are 5 members between Tom and Veer then what is the total no.?
- एक पंक्ति में टॉम बाएं से 18 वां है और वीर दाएं से 16 वें स्थान पर है और टॉम और वीर के बीच 5 सदस्य हैं तो कुल संख्या क्या है?



A. 39

B. 10

C. 27

 D. CND



SSC CHSL (10+2) 2022



- Sonu walks 6 km in West, then he turns to his right and walks a distance of 8 km, then he turns to his left and walks a distance of 9 km, he takes a right turn and then walks 12 km. In which direction and how far is he now from his starting point?
- सोनू पश्चिम में 6 किमी चलता है, फिर वह अपने दाहिने ओर जाता है और 8 किमी की दूरी तय करता है, फिर वह अपने बाएं ओर जाता है और 9 किमी की दूरी तय करता है वह दाएं मुड़ना है और फिर 12 किमी चलता है। अब वह अपने शुरुआती बिंदु से किस दिशा में और कितनी दूर है?



A. 15 North East

B. 35 North East

→ C. 25 North West

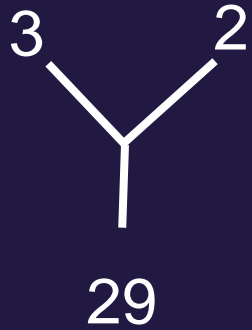
D. 45 South East



SSC CHSL (10+2) 2022



- Which number will replace the question mark ?
- कौन सी संख्या प्रश्नवाचक चिह्न के स्थान पर आएगी?



 A. 61

B. 25

C. 10

D. 26

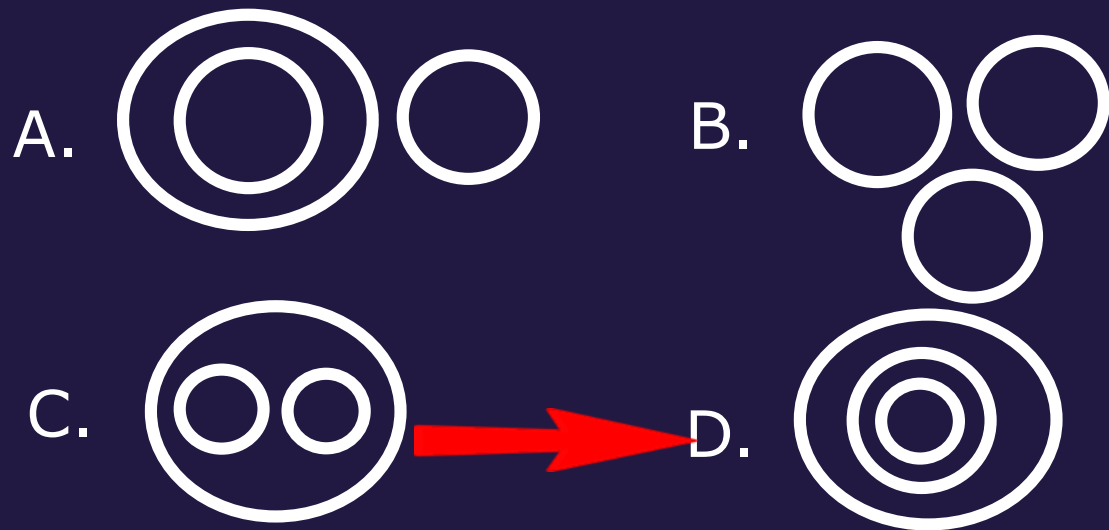




SSC CHSL (10+2) 2022



- Which of the following diagrams indicate the best relation between Class, Blackboard and School ?
- निम्नलिखित में से कौन सा आरेख कक्षा, ब्लैकबोर्ड और स्कूल के बीच सबसे अच्छा संबंध दर्शाता है?





SSC CHSL (10+2) 2022



- At what time between 4 and 5 o'clock will the hands of the clock be together?
- 4 और 5 बजे के बीच कितने बजे घड़ी की सुइयां एक साथ होंगी ?

- A. 4 बजकर $21\frac{9}{11}$ मिनट
- B. 4 बजकर $21\frac{8}{11}$ मिनट
- C. 4 बजकर $21\frac{7}{11}$ मिनट
- D. 4 बजकर $21\frac{6}{11}$ मिनट



SSC CHSL (10+2) 2022



- Select the number from among the given options that can replace the question mark (?) in the following series.
- दिए गए विकल्पों में से वह संख्या चुनिए जो निम्नलिखित श्रृंखला में प्रश्नवाचक चिन्ह (?) को प्रतिस्थापित कर सके।
- 1, 8, 16, 27, 43, 66, 98, ?



- A. 141
B. 111
C. 103
D. 122



SSC CHSL (10+2) 2022



- Statements:

- No guest is trained.
- All trained are employees.
- Some employees are tall.

- Conclusions:

- I. Some tall are trained.
- II. Some employees are trained.
- III. No tall is a guest.





SSC CHSL (10+2) 2022



◇ What will be the angle subtended by the hour hand in 48 seconds?

◇ 48 सेकण्ड में घंटे की सुई द्वारा बनाया गया कोण कितना होगा ?



A. 4.8

B. $6/15$

→ C. $2/5$

D. 24