



# SSC CGL/CPO/CHSL/STENO

## REASONING

NEW PATTERN पर आधारित

# LOGICAL VENN DIAGRAM



PART-2



LIVE | 04:00 PM

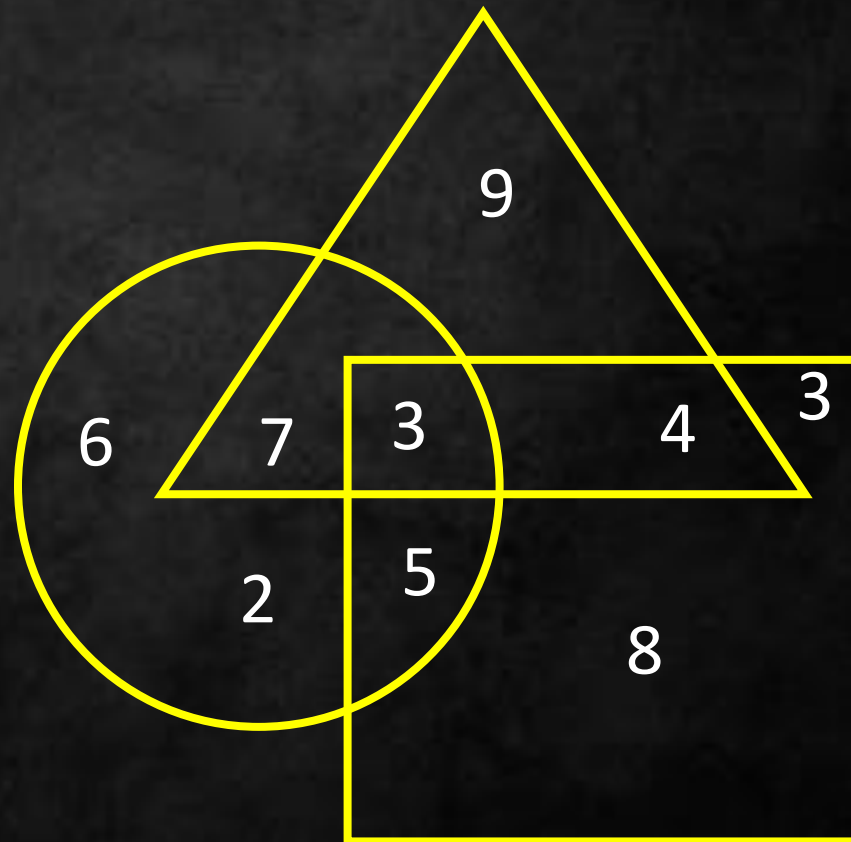
By Naina Mahendras



How many hospitals are there?

कितने अस्पताल हैं?

1. 22
2. 23
3. 24
4. None





Which of the following diagrams indicates the best relation between Kolkata, India and West bengal ?

निम्नलिखित में से कौन सा आरेख कोलकाता, भारत और पश्चिम बंगाल के बीच सबसे अच्छे संबंध को दर्शाता है?





Which of the following diagrams indicates the best relation between copy, laptop and tree ?

निम्नलिखित में से कौन सा आरेख कॉपी, लैपटॉप और ट्री के बीच सबसे अच्छे संबंध को दर्शाता है?







Which of the following diagrams indicates the best relation between class, school and court?

निम्नलिखित में से कौन सा आरेख कक्षा, विद्यालय और न्यायालय के बीच सबसे अच्छे संबंध को दर्शाता है?





Which of the following diagrams indicates the best relation between sea, fish and turtle?

निम्नलिखित में से कौन सा आरेख समुद्र, मछली और कछुए के बीच सबसे अच्छे संबंध को दर्शाता है?





Which of the following diagrams indicates the best relation between animal, pet cat and cat?


निम्नलिखित में से कौन सा आरेख पशु, पालतू बिल्ली और बिल्ली के बीच सबसे अच्छे संबंध को दर्शाता है?





Which of the following diagrams indicates the best relation between vegetables, potatoes and dogs?

निम्नलिखित में से कौन सा आरेख सब्जी, आलू और कुत्तों के बीच सबसे अच्छे संबंध को दर्शाता है?

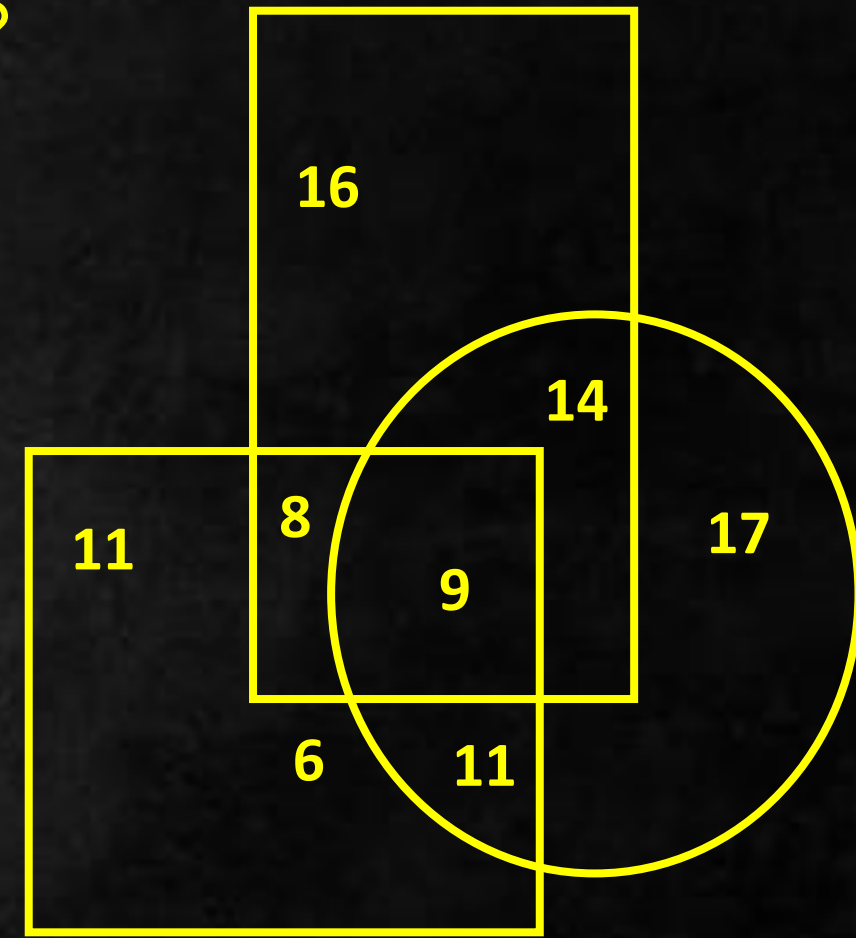






How many only math students are there?  
केवल गणित के कितने विद्यार्थी हैं?

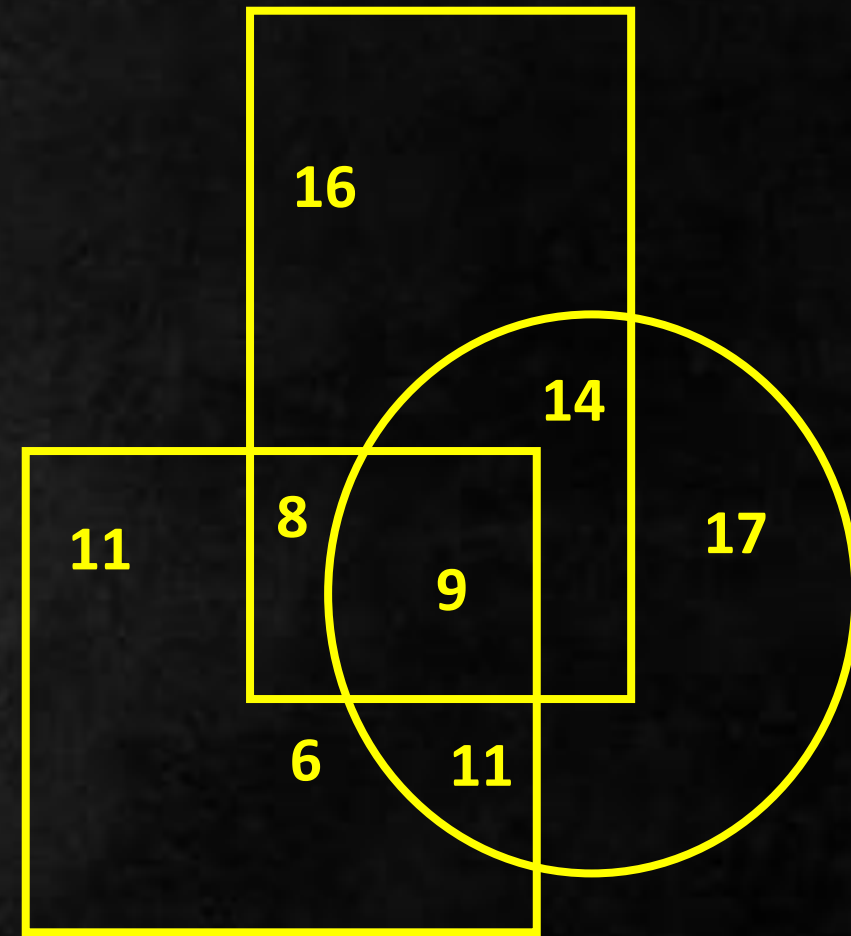
1. 13
2. 17
3. 14
4. None of these





How many students study only two subjects?  
कितने विद्यार्थी केवल दो विषयों का अध्ययन करते हैं?

1. 32
2. 33
3. 34
4. None

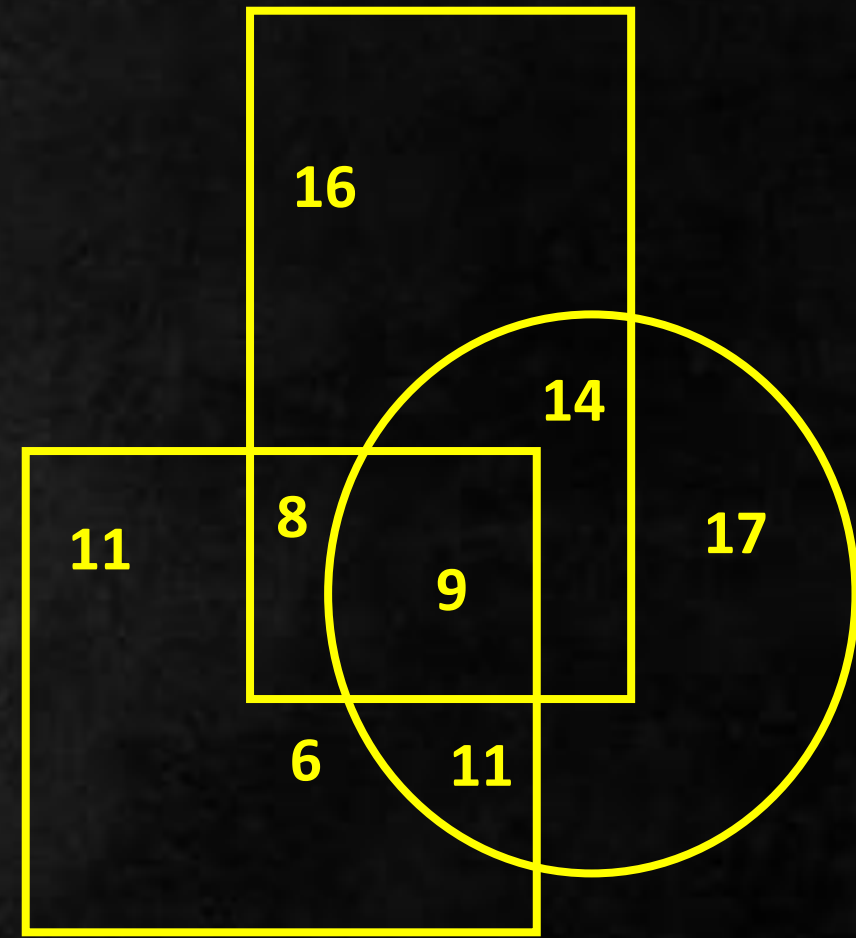




How many students study only one subject?

कितने विद्यार्थी केवल एक विषय पढ़ते हैं?

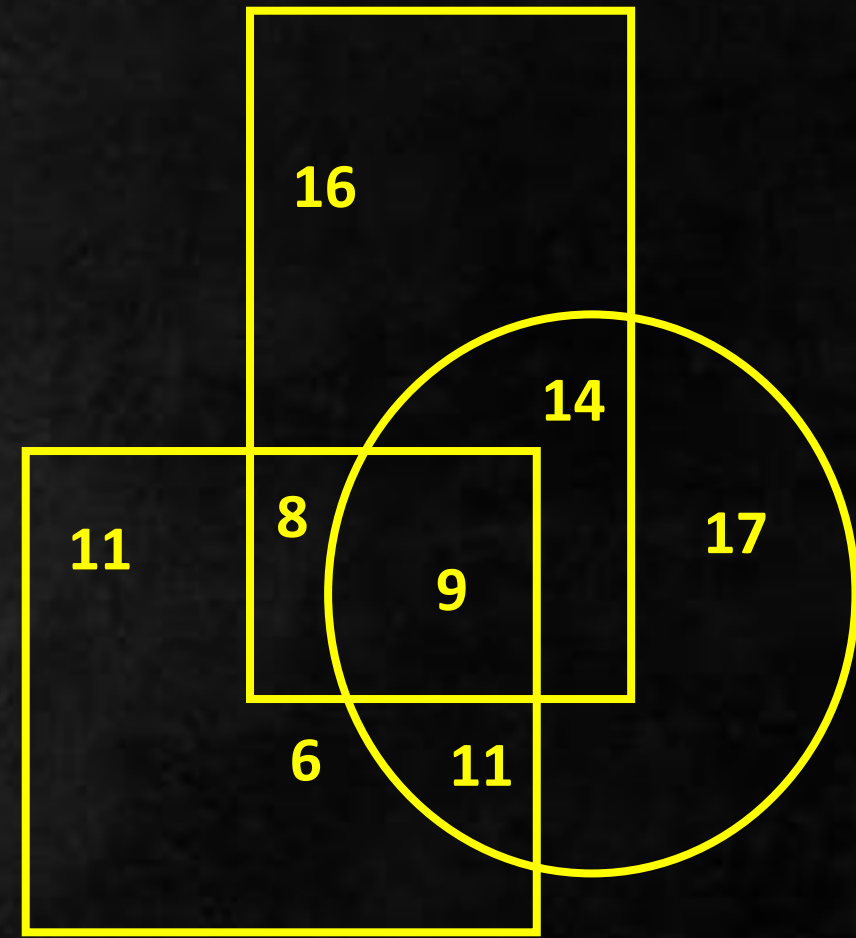
1. 51
2. 49
3. 50
4. None





How many do not have math as subject?  
कितने लोगों के पास गणित विषय नहीं है?

1. 44
2. 45
3. 43
4. None

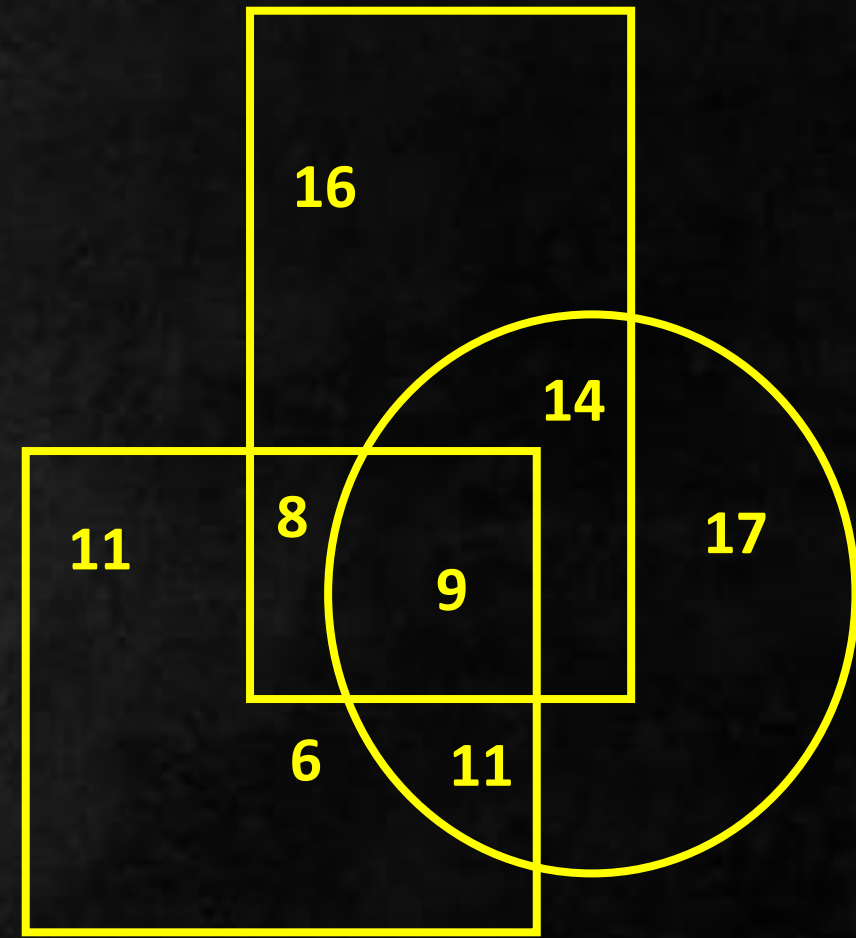




How many such students are there who study all three subjects?

ऐसे कितने विद्यार्थी हैं जो तीनों विषयों का अध्ययन करते हैं?

1. 8
2. 9
3. 14
4. None








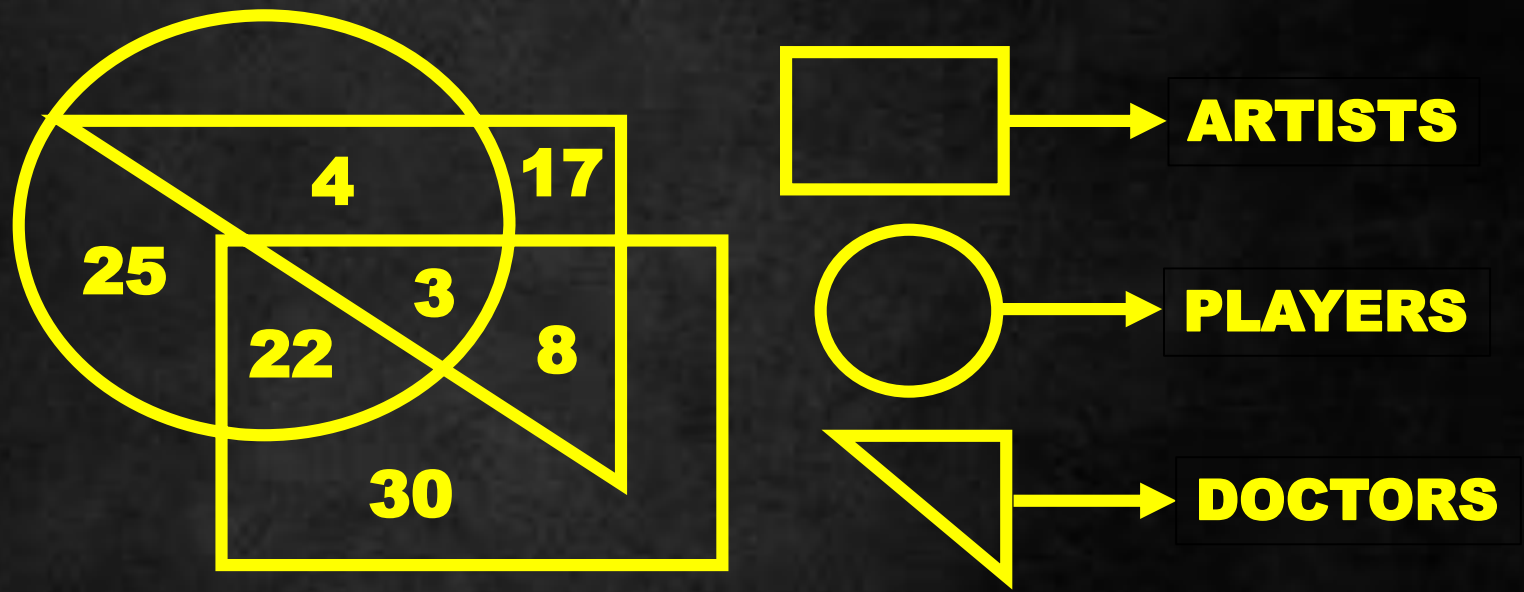
Which of the following diagrams indicates the best relation between India, bihar and gujrat?

निम्नलिखित में से कौन सा आरेख भारत, बिहार और गुजरात के बीच सबसे अच्छे संबंध को दर्शाता है?





Study the following figure and answer the questions given below.  
निम्नलिखित आकृति का अध्ययन करें और नीचे दिए गए प्रश्नों के उत्तर दें।





How many doctors are neither artists nor players ?

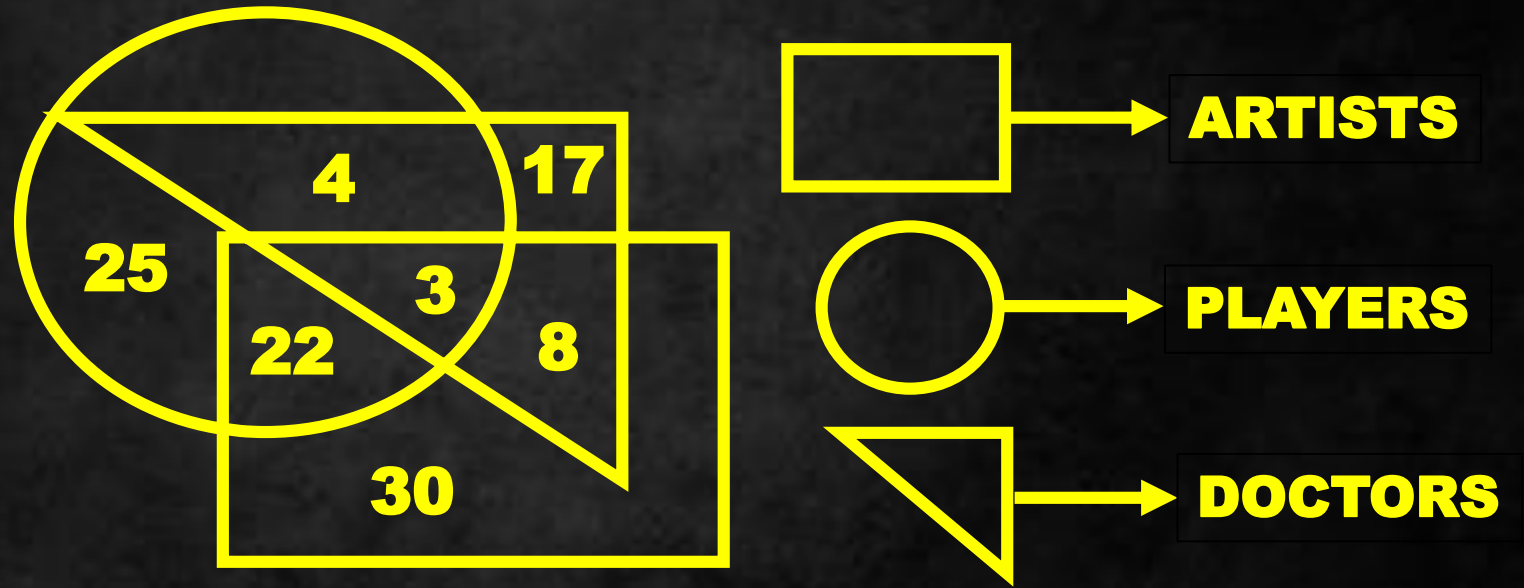
कितने डॉक्टर न तो कलाकार हैं और न ही खिलाड़ी?

(A) 17

(B) 5

(C) 10

(D) 30





How many doctors are both players and artists ?

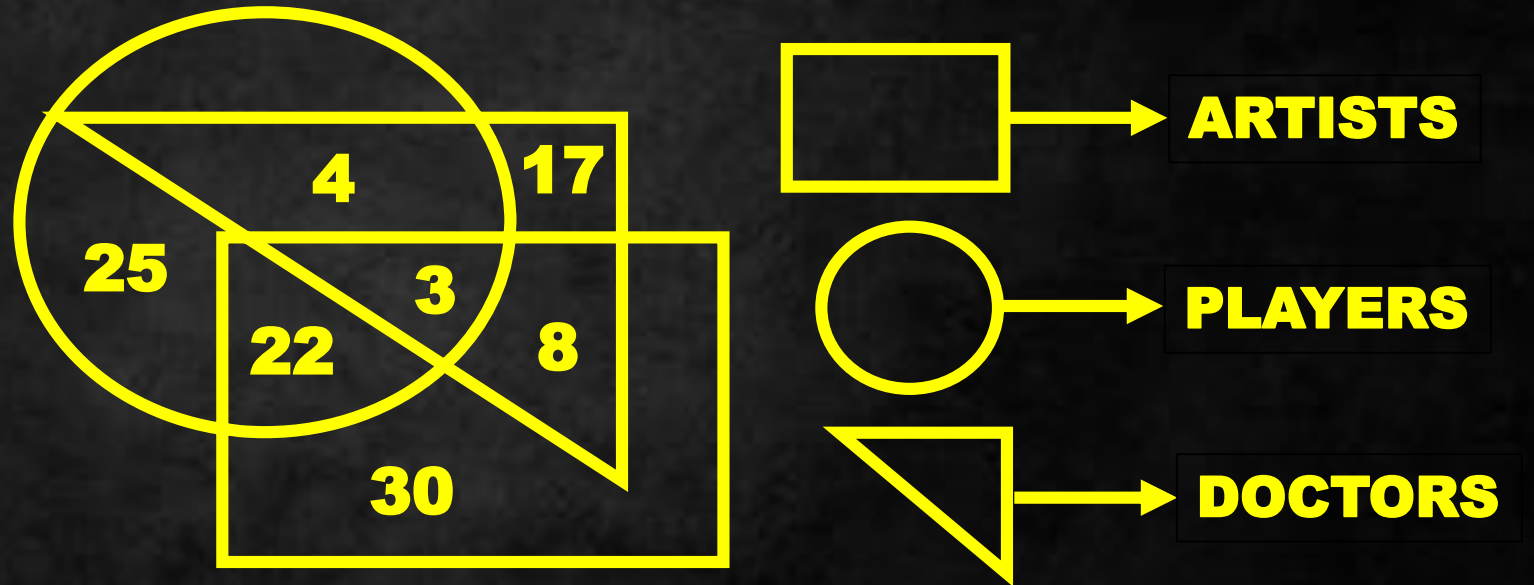
कितने डॉक्टर खिलाड़ी और कलाकार दोनों हैं?

(A) 22

(B) 10

(C) 3

(D) 30





How many artists are players ?


खिलाड़ी कितने कलाकार हैं?

(A) 25

(B) 8

(C) 5

(D) 16



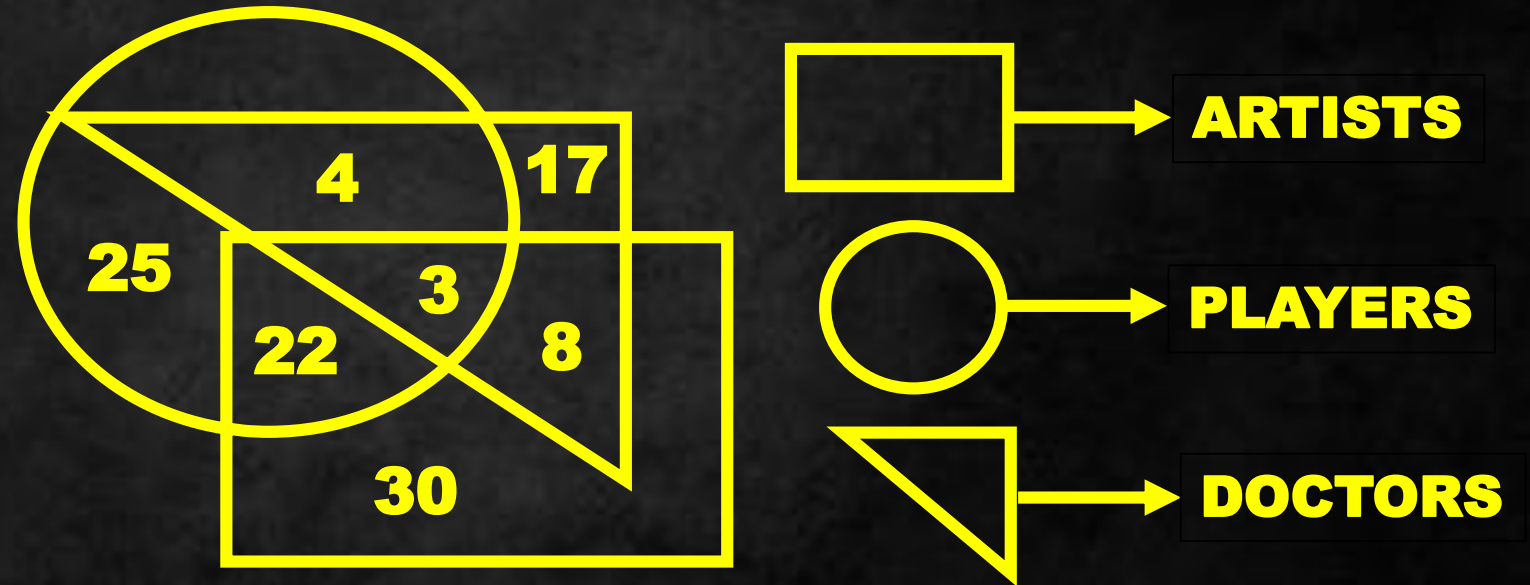




How many players are neither artists nor doctors ?  
कितने खिलाड़ी न तो कलाकार हैं और न ही डॉक्टर?

- (A) 25
- (C) 5

- (B) 10
- (D) 17





How many artists are neither players nor doctors ?

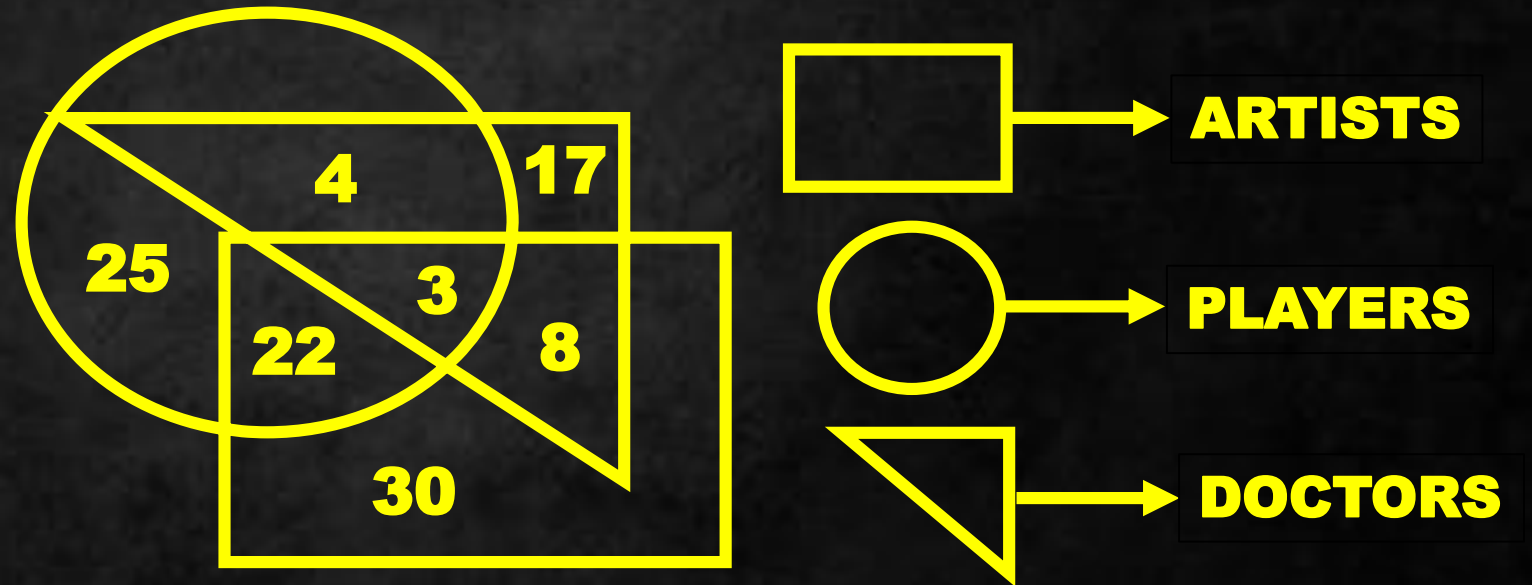
कितने कलाकार न तो खिलाड़ी हैं और न ही डॉक्टर?

(A) 15

(B) 10

(C) 30

(D) 17

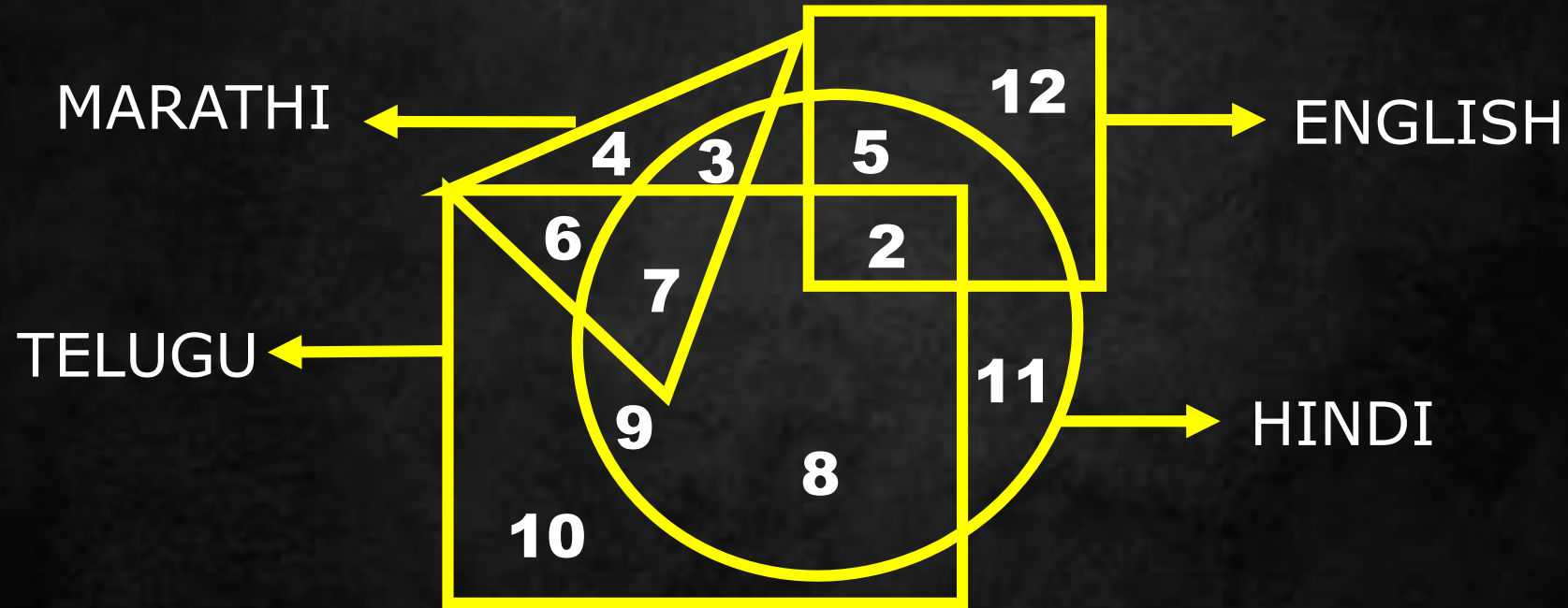




# Different Geometrical Figures

In the following figure small square represents the persons who know English, triangle to those who know Marathi, big square to those who know Telugu and circle to those who know Hindi. In the different regions of the figures from 1 to 12 are given

निम्नलिखित आकृति में छोटा वर्ग अंग्रेजी जानने वालों को, मराठी जानने वालों को त्रिभुज, तेलुगु जानने वालों को बड़ा वर्ग और हिंदी जानने वालों को वृत्त दर्शाता है। विभिन्न क्षेत्रों में 1 से 12 तक के आंकड़े दिए गए हैं

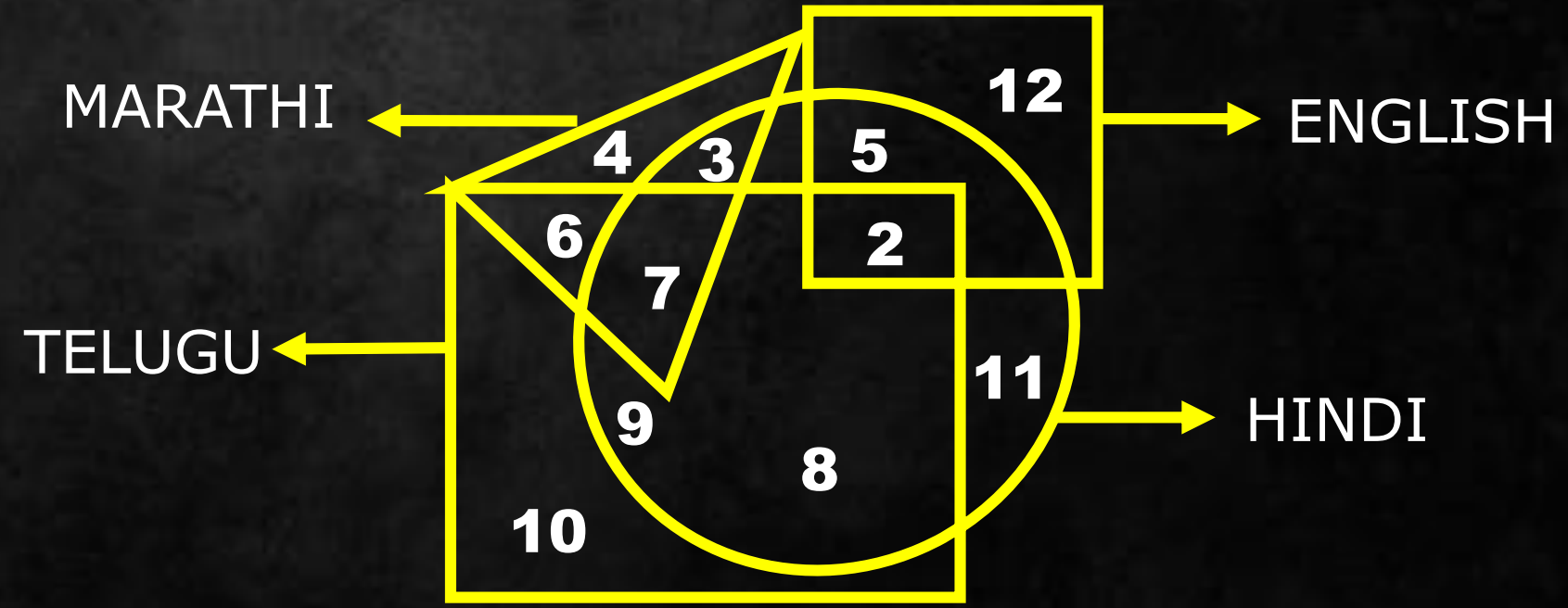




How many persons can speak English and Hindi both the languages only ?

कितने व्यक्ति केवल अंग्रेजी और हिंदी दोनों भाषाएं बोल सकते हैं?

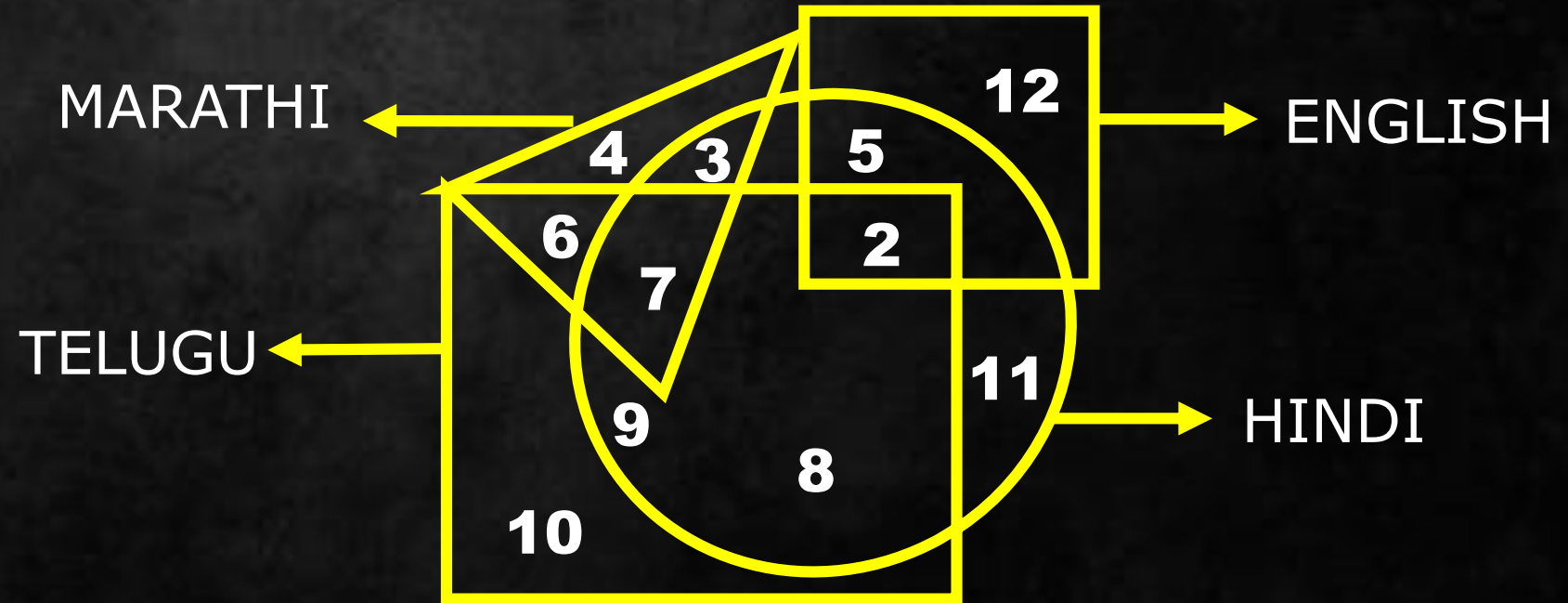
- (A) 5
- (B) 8
- (C) 7
- (D) 18





How many persons can speak Marathi and Telugu both?  
कितने व्यक्ति मराठी और तेलुगु दोनों बोल सकते हैं?

- (A) 10
- (B) 11
- (C) 13
- (D) None of these





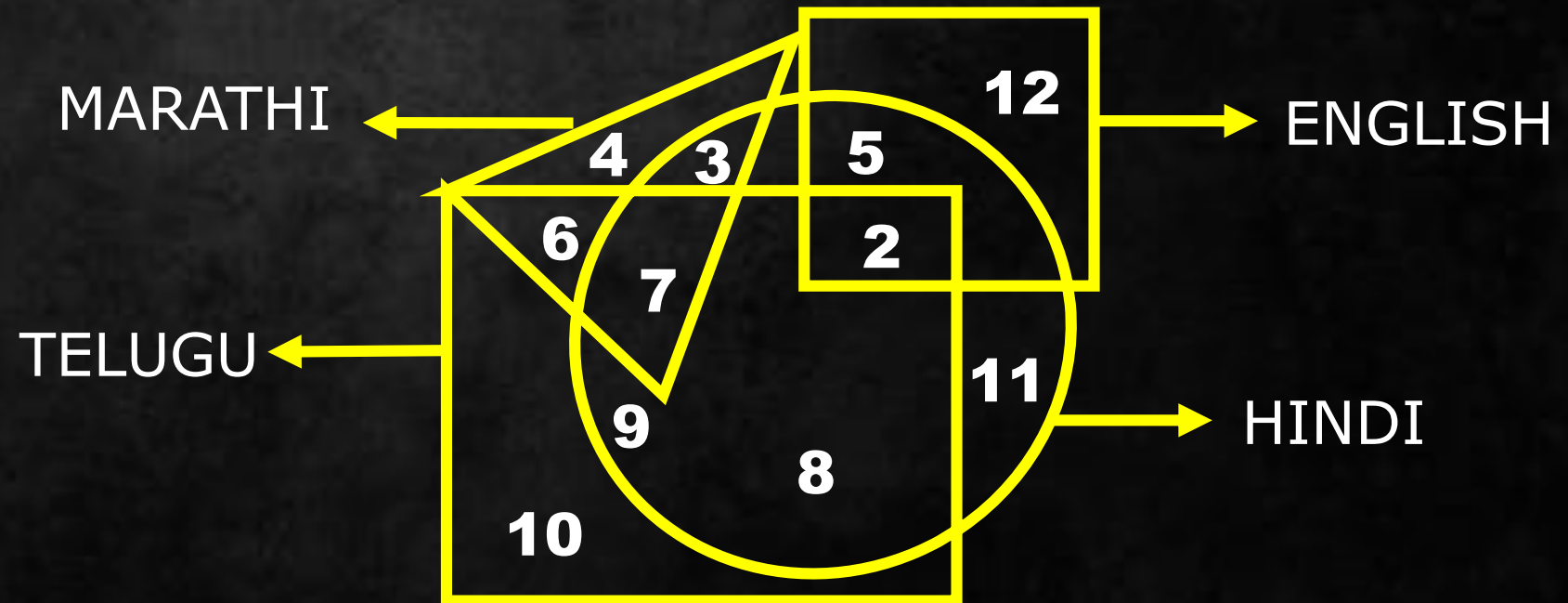


How many persons can speak only English?

कितने व्यक्ति केवल अंग्रेजी बोल सकते हैं?

- (A) 9
- (C) 7

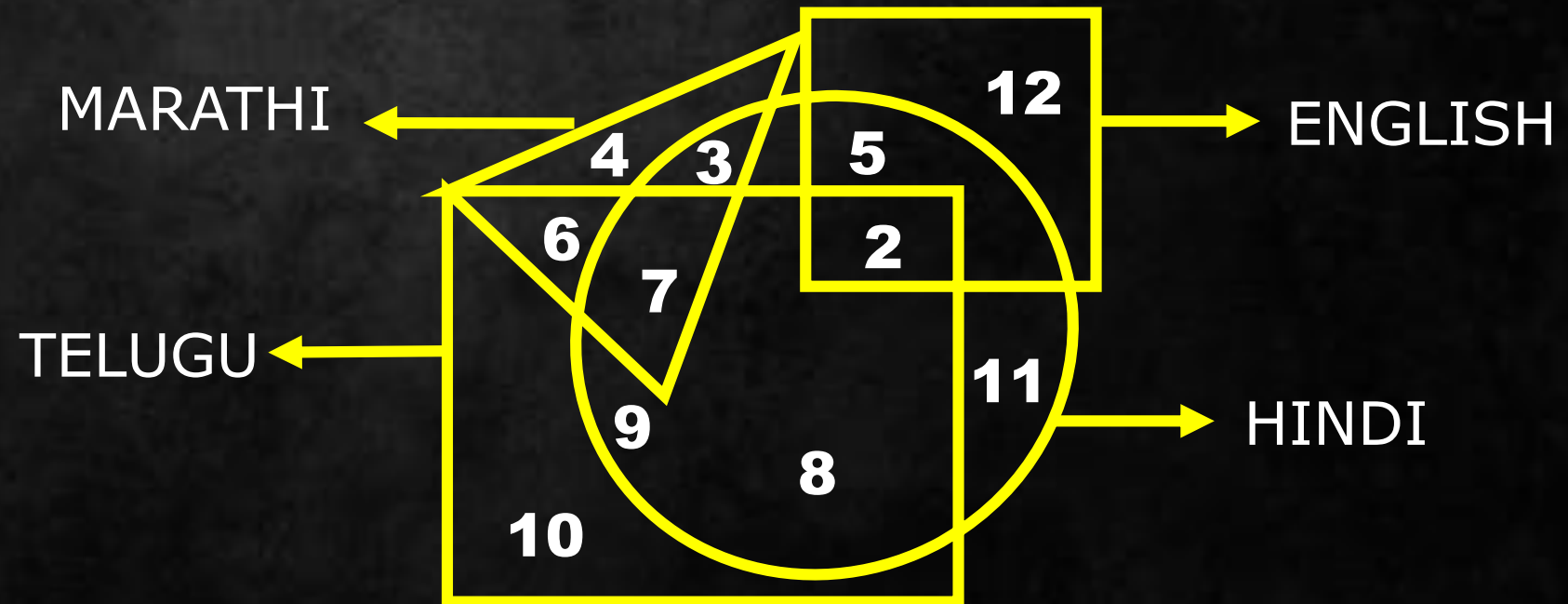
- (B) 12
- (D) 19





How many persons can speak English, Hindi and Telugu ?  
कितने व्यक्ति अंग्रेजी, हिंदी और तेलुगु बोल सकते हैं?

- (A) 8
- (B) 2
- (C) 7
- (D) None of these





How many persons can speak English, Hindi, Marathi and Telugu ?  
कितने व्यक्ति अंग्रेजी, हिंदी, मराठी और तेलुगु बोल सकते हैं?

- (A) 8
- (B) 2
- (C) 1
- (D) None

