



# SSC CHSL 2022-23



**REASONING**

**MOST EXPECTED  
PAPER**

सभी SHIFT में आये हुए प्रश्न



**LIVE | 05:30 PM**

**BY MANDEEP MAHENDRAS**



# SSC CHSL (10+2) 2022



- A group of eight friends – P, Q, R, S, T, U, V, and W are sitting in a straight line with north facing. P sits third to the right of U. Neither P nor U sits at the extreme edges of the line. T is not an immediate neighbor of either P or U. One person is sitting between W and R. Q sits at an end of the line. Q sits on the immediate right of P. T doesn't sit to the left of S. R sits at the 4th position from either end of the row.
- आठ मित्रों का एक समूह – P, Q, R, S, T, U, V और W एक सीधी पंक्ति में उत्तर की ओर मुख करके बैठे हैं। P, U के दायें से तीसरे स्थान पर बैठा है। न तो P न ही U पंक्ति के अंतिम छोर पर बैठा है। T, P या U का निकटतम पड़ोसी नहीं है। W और R के बीच एक व्यक्ति बैठा है। Q पंक्ति के अंत में बैठा है। Q, P के ठीक दायें बैठा है। T, S के बायें नहीं बैठा है। R पंक्ति के किसी भी छोर से चौथे स्थान पर बैठा है।
- How many persons sit between W and P?




# SSC CHSL (10+2) 2022



- After walking 6 km, I turned to the right and then walked 2 km. After then I turned to the left and walked 10 km. In the end, I was moving towards the North. From which direction did I start my journey?
- 6 किमी चलने के बाद, मैं दायीं ओर मुड़ा और फिर 2 किमी चला। उसके बाद मैं बायीं ओर मुड़ा और 10 किमी चला। अंत में, मैं उत्तर की ओर बढ़ रहा था। मैंने अपनी यात्रा किस दिशा से शुरू की?



-  A. North  
B. East  
C. West  
D. South



# SSC CHSL (10+2) 2022



- If republic day in any leap year was celebrated on Friday. On which day of week will the Independence day of same year celebrated?

यदि किसी लीप वर्ष में गणतंत्र दिवस शुक्रवार को मनाया जाता था। उसी वर्ष का स्वतंत्रता दिवस सप्ताह के किस दिन मनाया जाएगा?

A. Tuesday/मंगलवार

B. Wednesday/बुधवार

→ C. Thursday/वृहस्पतिवार

D. Friday/शुक्रवार

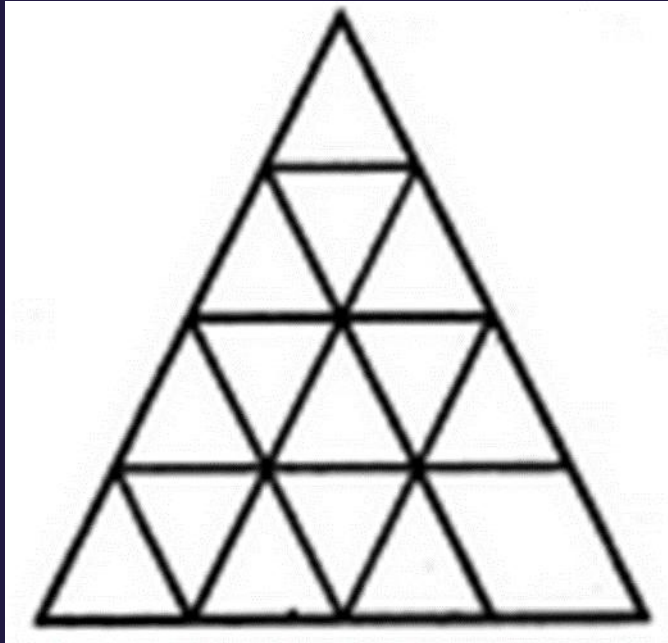




# SSC CHSL (10+2) 2022



- Find minimum number of straight lines in figure?



A.9

B.11

C.15

D.16

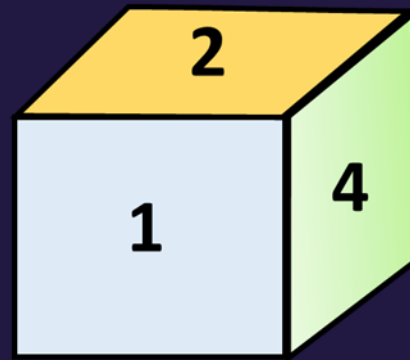
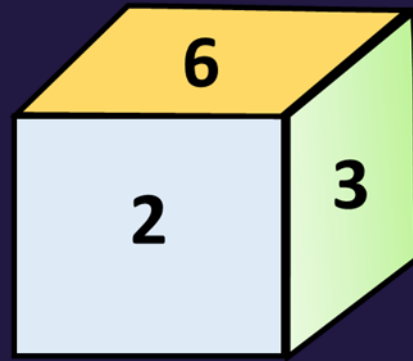
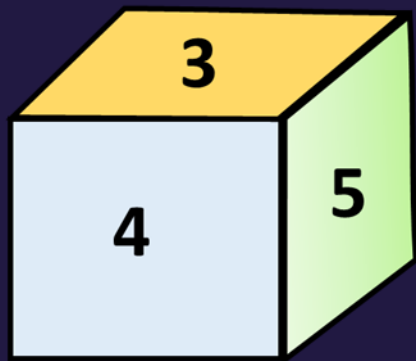


# SSC CHSL (10+2) 2022



- Three positions of dice are shown. What will appear on the opposite to the face containing 2?

प्रश्न: पासे की तीन स्थितियाँ दर्शाई गई हैं। 2 वाले फलक के विपरीत क्या दिखाई देगा?



A.3

B.1

C.5

D.6





# SSC CHSL (10+2) 2022



- Kalyani is mother-in-law of veena who is sister-in-law of Ashok. Dheeraj is father of Sandeep who is only brother of Ashok. How Sandeep is related Kalyani?
- कल्याणी, वीणा की सास है जो अशोक की भाभी है। धीरज, संदीप का पिता है जो अशोक का इकलौता भाई है। संदीप, कल्याणी से कैसे संबंधित है?



A. Son

B. Son-in-law

C. Brother

D. Father





# SSC CHSL (10+2) 2022



- Statements:
- Today Suman has an appointment with the doctor./आज सुमन को चिकित्सक से मिलना है।
- Conclusion:
- I: Suman's child is not feeling well./सुमन का बच्चा ठीक नहीं लग रहा है।
- II: Suman will travel by car./सुमन गाड़ी से यात्रा करेगी।







# SSC CHSL (10+2) 2022



- When viewed from the mirror, the clock shows the time 9:30. real time.
- जब दर्पण से देखा जाता है, तो घड़ी 9:30 समय दिखाती है। वास्तविक समय है



- A. 2:30  
B. 3:30  
C. 5:30  
D. 8:30



# SSC CHSL (10+2) 2022



- Arrange the given words in the order as they appear in the dictionary and then choose the correct sequence.
- दिए गए शब्दों को उस क्रम में व्यवस्थित कीजिए जैसे वे शब्दकोश में आते हैं और फिर सही क्रम का चुनाव कीजिए।
- 1. Massacre.
- 2. Masterly.
- 3. Masseter.
- 4. Mastodon.
- 5. Mastercard
- 6. Mascaron



A. 6, 1, 5, 3, 4, 2

B. 6, 1, 5, 3, 2, 4

 C. 6, 1, 3, 5, 4, 2

D. इनमे से कोई भी नहीं



# SSC CHSL (10+2) 2022



- Four pairs of words are given, out of which three are alike in some way or the other and one is unique. Select the odd one out.
- चार शब्द-युग्म दिए गए हैं, जिनमें से तीन किसी न किसी रूप में एक जैसे हैं और एक बेजोड़ है। बेजोड़ का चयन कीजिए।

A. calm : peace/शांत : शांति

→ B. Deep : Shallow/गहरा : उथला

C. Fault : Fault/खोट : दोष

D. Cold : Sheetal/ठंडा : शीतल






# SSC CHSL (10+2) 2022



- As 'Lira' is related to 'Turkey' in the same way 'Taka' is related to .
- जिस प्रकार 'लीरा' का संबंध 'तुर्की' से है उसी प्रकार 'टका' का संबंध .से है ।

- A. जॉर्डन
- B. जमैका
-  C. बांग्लादेश
- D. मैक्सिको





# SSC CHSL (10+2) 2022



- Rs 2430 is to be divided among A, B and C in such a way that if their shares are reduced by Rs 5, Rs 10, Rs 15 respectively, then the ratio of the remaining amounts with them becomes 3 : 4 : 5. Then what is his actual share?
- 2430 रुपये को A, B और C के बीच इस प्रकार बाँटना है कि यदि उनके हिस्से में क्रमशः 5 रुपये, 10 रुपये, 15 रुपये कम आता है, तब उनके पास की शेष राशियों का अनुपात 3 : 4:5 हो जाता है। तब उनका वास्तविक हिस्सा कितना है?

A. 700, 1015, 715

B. 810, 1100, 520

→ C. 605, 810, 1015

D. इनमें से कोई नहीं





# SSC CHSL (10+2) 2022



- Statement:
- I. All W are C./सभी W, C हैं।
- II. All C are L./सभी C, L हैं।
- III. All J are L./सभी J, L हैं।
- Conclusion:
- I. No J is W./कोई J, W नहीं है।
- II. Some L is J./कुछ L, J हैं।
- III. Some J are C./कुछ J, C हैं।





# SSC CHSL (10+2) 2022



- Suppose in a certain code, TIGER is written as QDFHS and MERIT is written as SHQDL, then how will FROZEN be written in that code?
- माना किसी विशेष कूट में, TIGER को QDFHS के रूप में तथा MERIT को SHQDL के रूप में लिखा जाता है, तब इसी कूट में FROZEN को किस रूप में लिखा जाएगा?

A. MEYNQD

B. MDEZOR

→ C. MDYNQE

D. EQNYDM





# SSC CHSL (10+2) 2022



- Six persons A, W, I, V, D and C are sitting around a circular table facing outside the centre, not necessarily in the same order. A sits second to the right of D. I sits second to the right of V, who sits immediate right of W. One person sits between W and A. Who is sitting second to the right of C?
- छह व्यक्ति A, W, I, V, D और C एक वृत्ताकार मेज के चारों ओर केंद्र के बाहर की ओर मुख करके बैठे हैं, जरूरी नहीं कि इसी क्रम में बैठे हों। A D के दायें से दूसरे स्थान पर बैठा है। I, V, जो W के ठीक दायें बैठा है, के दायें से दूसरे स्थान पर बैठा है। W और A के बीच एक व्यक्ति बैठा है। C के दाएँ दूसरा कौन बैठा है?



A. W

B. D

C. A

D. V







# SSC CHSL (10+2) 2022



- There are three married couples and their children in a family of eight people K, L, M, N, O, T, U and V. M is the mother-in-law of U. V, the only niece of L, is the daughter of U. N is sister-in-law of K. K and L are brothers. T is the son of N and grandson of O. How is L related to N?
- आठ लोग K, L, M, N, O, T, U तथा V के एक परिवार में तीन विवाहित युगल और उनके बच्चे हैं। M, U की सास है। L की इकलौती भतीजी V, U की पुत्री है। N, K की भाभी है। K और L भाई हैं। T, N का पुत्र और O का पोता है। L, N से किस प्रकार संबंधित है?



A. Brother-in-law

B. Father

→ C. Husband

D. Son-in-law



# SSC CHSL (10+2) 2022



- Radhika walks 50 meters towards South from her house, then turns left and walks 20 metres. Then she turns towards North and walks 30 meters from there towards her home. In which direction is she walking now?
- राधिका अपने घर से दक्षिण की ओर 50 मीटर चलती है, फिर बाएँ मुड़कर 20 मीटर चलती है। उसके बाद उत्तर की ओर मुड़कर 30 मीटर चलती है और वहाँ से अपने घर की ओर जाती है। अब वह किस दिशा में चल रही है?



A. North

B. South-West

C. East

 D. North-West



# SSC CHSL (10+2) 2022



- Find the next term.
- अगला पद ज्ञात कीजिए।
- 3, 7, 15, ?, 63, 127,

A. 30

A thick red arrow pointing from the left towards the text 'B. 31'.

C. 47

D. 52





# SSC CHSL (10+2) 2022



- 'Viticulture' is related to 'Grapes' in the same way as 'Floriculture' is related to ' '.
- 'विटीकल्चर' का संबंध 'अंगूर' से उसी प्रकार है जैसे 'फलोरीकल्चर' का संबंध ' ' से है।

A. रेशम का कीड़ा

B. फ्लुओरीन

 C. फूल

D. पौधे

