



SSC CHSL 2022-23



REASONING

अंतिम बार

#4

महा MOCK TEST
TARGET 50/50
(अबकी बार **CHSL** पार)




📶 **LIVE** | 05:30 PM

BY MANDEEP MAHENDRAS



SSC CHSL (10+2) 2022




 @Ravi.1 21 hours ago 5 subscribers

129 🌱


👍 1 🗨️ Reply

▼  • 1 reply

 @rajibsaha1428 3 hours ago 13 subscribers

HW)
129


👍 🗨️ Reply

 @amarsahani5058 21 hours ago 1 subscribers

B-129

👍 🗨️ Reply


▼  • 1 reply

 @indukumari8754 19 hours ago


B ans 129 sir 🙏🙏🙏

👍 🗨️ Reply

▼  • 1 reply

 @arpitsharma924 21 hours ago


Homework Answer is option b:129

 @surbhisinha7315 19 hours ago 4 subscribers

Homework question answer 👉 option bbbbbbbbbb 129

👍 🗨️ Reply


▼  • 1 reply

 @zikrayasmeen4058 19 hours ago

Option B

👍 🗨️ Reply


▼  • 1 reply

 @rituparnabiswas3987 21 hours ago

option b:
129

👍 🗨️ Reply


▼  • 1 reply

 @kumarbablu3115 21 hours ago

129

👍 🗨️ Reply


▼  • 1 reply

 @girrajsinghjadon3602 21 hours ago

44+42+43=129

👍 🗨️ Reply


▼  • 1 reply

 @suruchijha393 21 hours ago

129

👍 🗨️ Reply


▼  • 1 reply

 @rohitgond2244 21 hours ago

129

👍 🗨️ Reply


▼  • 1 reply

 @puspranjansingh2243 21 hours ago

129

👍 🗨️ Reply


▼  • 1 reply

 @subhamoyghosh8498 21 hours ago

129

👍 🗨️ Reply

▼  • 1 reply

 @girrajsinghjadon3602 21 hours ago

129

👍 🗨️ Reply

▼  • 1 reply



SSC CHSL (10+2) 2022



• $\cancel{66} \times \cancel{65} \times \cancel{64} = \underline{195}$

• $\cancel{55} \times \cancel{54} \times \cancel{53} = 162$

• $\cancel{44} \times \cancel{43} \times \cancel{42} = ?$

$18 + 15 = 195$

$15 + 12 = 162$

~~16~~ $12 + 9 = 129$



- A. 921
- B. 129
- C. 219
- D. 258



SSC CHSL (10+2) 2022



- As 'rays' are related to 'light', in the same way 'waves' are related to?
- जिस प्रकार 'किरणें' 'प्रकाश' से संबंधित हैं, उसी प्रकार 'तरंगें' किससे संबंधित हैं ?



- A. Water
- B. Sound**
- C. World
- D. Radio



SSC CHSL (10+2) 2022



- As 'body' is related to 'bones', in the same way 'building' is related to what?
- जिस प्रकार 'शरीर' का संबंध 'अस्थिपंजर' से है, उसी प्रकार 'भवन' का संबंध किससे है ?

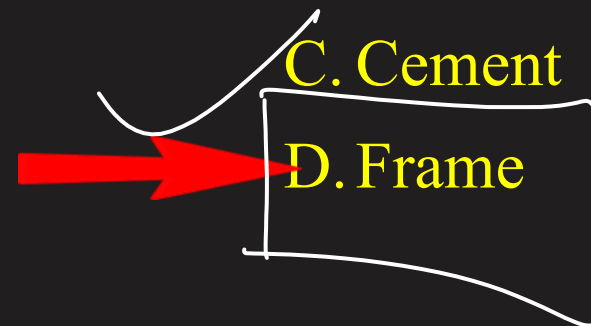


A. Brick

B. Rooms

C. Cement

D. Frame





SSC CHSL (10+2) 2022



- In a certain code language, GOGGLE is written as IMIENC, then how will PENCIL be written in that code language? [SSC CHSL 2020]
- किसी निश्चित कूट भाषा में GOGGLE को IMIENC लिखा जाता है, तो उसी कूट भाषा में PENCIL को कैसे लिखा जाएगा ?

RC



- ~~A. RGPEKN~~
- B. RCPAKJ**
- ~~C. NCLAGJ~~
- ~~D. NGLEGN~~



SSC CHSL (10+2) 2022



- In a certain code language, VICTORY is written as XGERQPA. How will KINDLE be written in that code language? [SSC CHSL 2020]
- किसी निश्चित कूट भाषा में VICTORY को XGERQPA लिखा जाता है। उसी कूट भाषा में KINDLE को क्या लिखा जाएगा ?

M

22 9 3
V I C T O R Y
24 7 5
X G E R Q P A



- ~~A. IKLFJG~~
- ~~B. BEDRVH~~
- C. MGPBNC**
- ~~D. SOWNEOY~~



SSC CHSL (10+2) 2022



- Mitochondria : Energy :: DNA : ? [SSC-CGL 2013]
- माइटोकॉण्ड्रिया : ऊर्जा :: डीएनए : ?



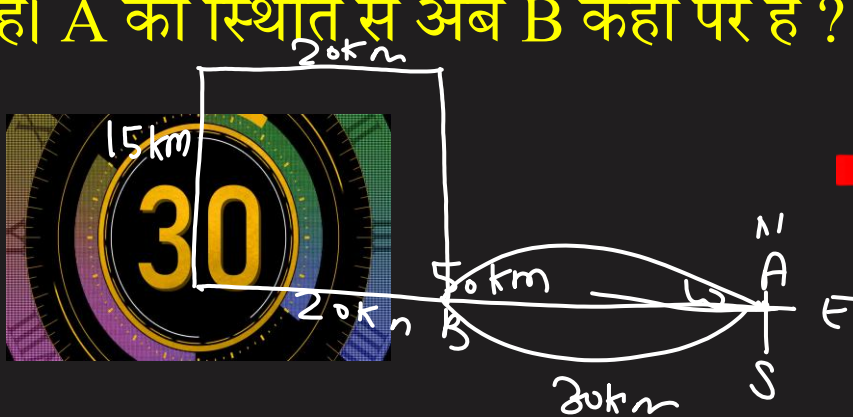
-
- A. Inheritance/वंशानुक्रम
 - B. Reproduction/प्रजनन
 - C. Speed/ गति
 - D. Immunity/प्रतिरक्षा



SSC CHSL (10+2) 2022



- Two planes take off from the same airport. A flies 50 km towards East. B flies 15 km North, then turns East and flies 20 km, then turns to his right and flies 15 km. Where is B now with respect to A's position? [SSC-CGL 2017]
- दो विमान एक ही हवाई अड्डे से उड़ान भरते हैं। A, 50 किमी पूर्व की ओर उड़ता है। B, 15 किमी उत्तर की ओर उड़ता है, फिर पूर्व की ओर मुड़ता है और 20 किमी उड़ता है, फिर अपनी दायीं ओर मुड़ जाता है और 15 किमी उड़ता है। A की स्थिति से अब B कहाँ पर है ?



- A. 30 km West
- B. 70 km East
- C. 70 km West
- D. 30 km east

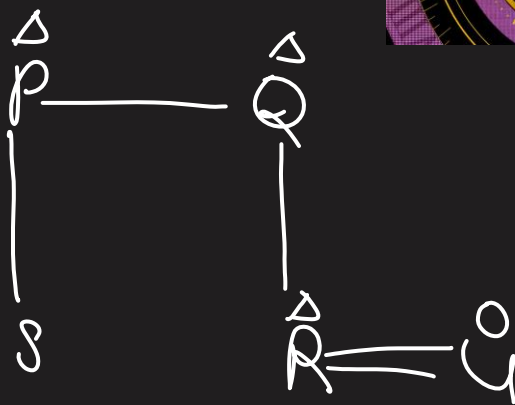


SSC CHSL (10+2) 2022



- P and Q are brothers. P is the father of S. R is the only son of Q and he is married to U. How is U related to S? [SSC-CGL 2017]

- P तथा Q भाई हैं। P, S का पिता है। R, Q का एक मात्र पुत्र है तथा वह U से विवाहित है। U, S से किस प्रकार संबंधित है ?



- A. Sister-in-law**
- B. Mother-in-law
- C. Sister
- D. Mother



SSC CHSL (10+2) 2022



- M, P, J, B, R, T and F are sitting around a circle facing the centre. B is third to the left of J who is second to the left of M. P is third to the left of B and second to the right of R. T is not an immediate neighbor of M.
- M, P, J, B, R, T और F केंद्र की ओर मुँह किये एक वृत्त के गिर्द बैठे हैं। B, J के बायें तीसरा है जो M के बायें दूसरा है P, B के बायें तीसरा और R के दायें दूसरा है। T, M का निकटतम पड़ोसी नहीं है।





SSC CHSL (10+2) 2022



- Find the value of question mark. [SSC-CGL 2020]
- प्रश्न चिह्न का मान ज्ञात कीजिए।

$$\begin{array}{r} 2 \\ 7 \\ 49 + 4 = 53 \end{array}$$

7	11	14
53	127	?
4	6	3



$$\begin{array}{r} 12 \overline{) 127} \\ \underline{127} \\ 0 \end{array}$$

$$\begin{array}{r} 199 \\ 3 \\ \hline 199 \end{array}$$

- A. 199
- B. 196
- C. 169
- D. 200



SSC CHSL (10+2) 2022



- Find the value of question mark. [SSC-CGL 2020]
- प्रश्न चिह्न का मान ज्ञात कीजिए।

$$\rightarrow \times 2 = 14$$

10	3	14
49	15	68
33	19	?



$$34 \times 2 = 68$$


$$19 \times 2 = 38$$

A. 27

B. 25

C. 28

D. 29





SSC CHSL (10+2) 2022



• Find the next term.

• अगला पद ज्ञात कीजिए।

• 120, 99, 80, 63, 48, ?

-21 -19 -17 -15 -13

35



A. 35

B. 38

C. 39

D. 40



SSC CHSL (10+2) 2022



• Find the next term.

• अगला पद ज्ञात कीजिए।

• 10, 18, 28, 40, 54, 70, ?
8 10 12 14 16 18

$$70 + 18 = 88$$



A. 85

B. 86

C. 87

D. 88





SSC CHSL (10+2) 2022



• Find the next term. [SSC 2011]

• अगला पद ज्ञात कीजिए।

• $\overset{4}{D}, \overset{6}{F}, \overset{9}{I}, \overset{13}{M}, ?$
 $\underbrace{\quad}_2 \underbrace{\quad}_3 \underbrace{\quad}_4 \underbrace{\quad}_5$

$\overset{18}{R}$



- A. P
- B. Q
- C. R**
- D. T



SSC CHSL (10+2) 2022



- If S stands for -, Q stands for \times , R stands for \div and P stands for +, then-
- $1 P 45 R 2 Q 2 S 4 = ?$

$$1 + 45 - 2 \times 2 - 4$$

$$1 + \frac{45 \times 2}{2} - 4$$

$$1 + 45 - 4$$

$$46 - 4 = 42$$



A. 40

B. 42

C. 36


D. None of these



SSC CHSL (10+2) 2022



- In a party everyone gave a gift to everyone. If the number of gifts is 132, then how many persons were present in the party?
- एक पार्टी में हर किसी ने हर किसी को एक गिफ्ट दिया। यदि उपहारों की संख्या 132 हो, तो पार्टी में कुल कितने व्यक्ति शामिल थे ?



Handwritten diagram showing a sequence of circles containing the numbers 132, ~~12~~, ~~10~~, S, and J. A red arrow points from the circle containing 'J' to the option 'C. 12'.

$x(x-1) = 132$

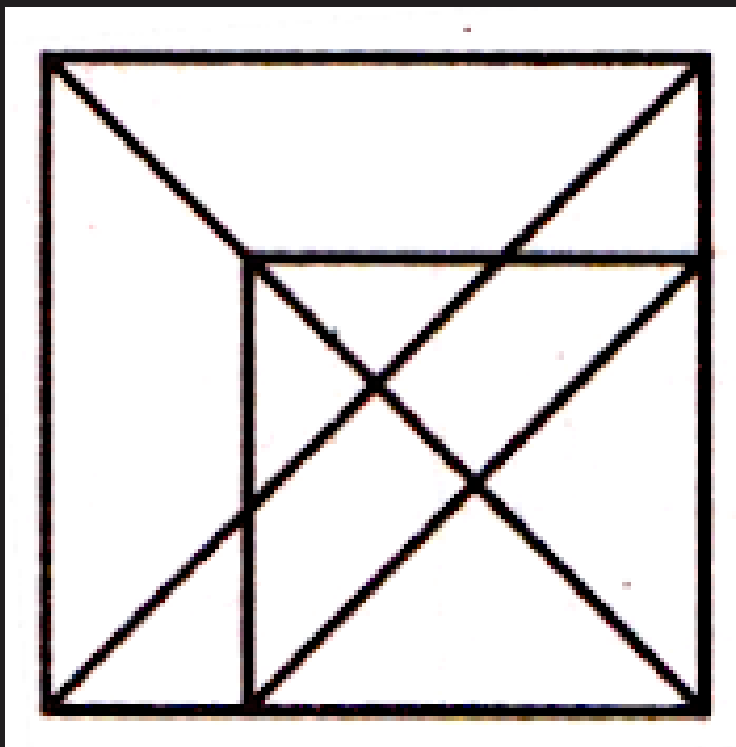
A. 10
B. 20
C. 12
D. 25



SSC CHSL (10+2) 2022



- How many triangles are there in the given figure?
- दी गई आकृति में कितने त्रिभुज हैं?




A. 16

B. 18

C. 22

D. 21



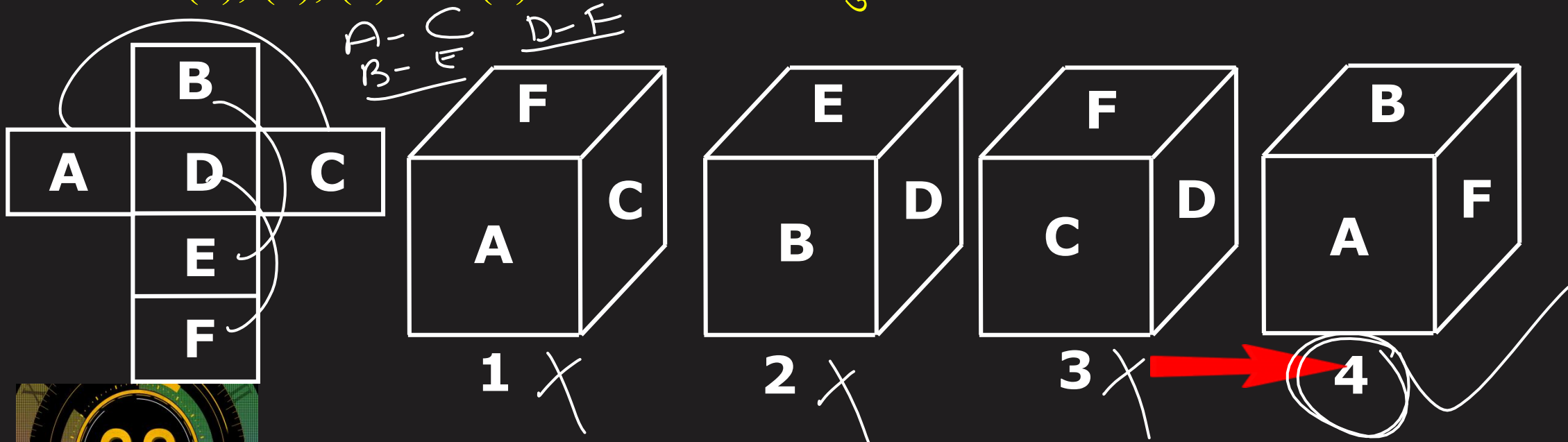


SSC CHSL (10+2) 2022



- The figure given on the left hand side in each of the following questions is folded to form a box. Choose from the alternatives (1), (2), (3) and (4) the boxes that is similar to the box formed.

- निम्नलिखित प्रत्येक प्रश्न में बायीं ओर दी गई आकृति को एक बॉक्स बनाने के लिए मोड़ा गया है। विकल्पों (1), (2), (3) और (4) में से उस बॉक्स को चुनें जो बनने वाले बॉक्स के समान हो।

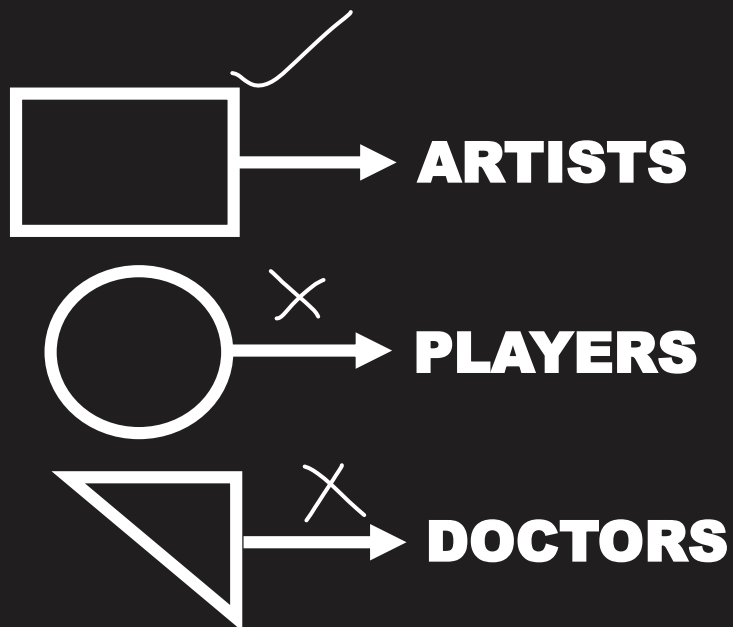
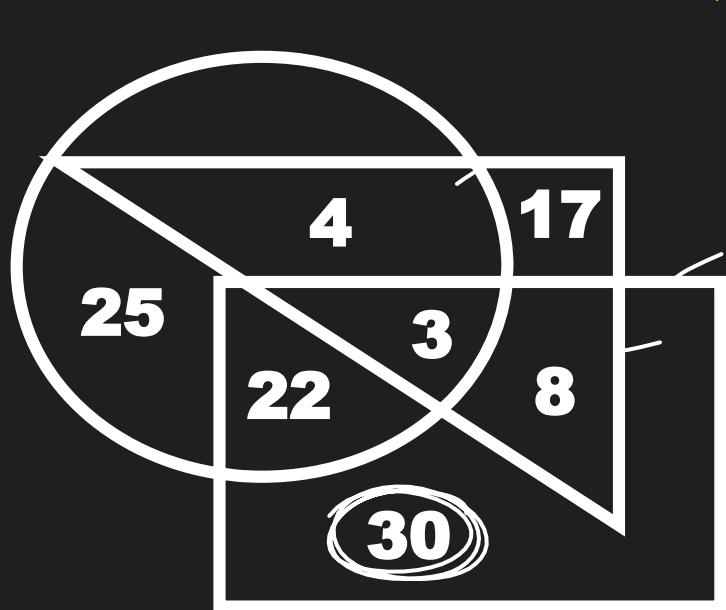




SSC CHSL (10+2) 2022



- How many artists are neither players nor doctors ?
- कितने कलाकार न तो खिलाड़ी हैं और न ही डॉक्टर?



- A. 15
 - B. 10
 - C. 30
 - D. 17
- A red arrow points to option C, which is circled in white.



SSC CHSL (10+2) 2022



- Statement:
- Some red are yellow. / कुछ लाल पीले हैं।
- Some pink are orange. / कुछ गुलाबी नारंगी हैं।
- All red are orange. / सभी लाल नारंगी हैं।
- Conclusion:
- 1. Some red are pink. / कुछ लाल गुलाबी हैं। ✗
- 2. Some orange are pink. / कुछ नारंगी गुलाबी हैं। ✓
- 3. Some yellow are red. / कुछ पीले लाल हैं। ✓



243



SSC CHSL (10+2) 2022



- Seven books A, B, C, D, E, F and G are kept in a bundle. But it is not necessary that they should be in the same order. There are as many books between G and C. As between E and D. There is only F between G and E. B is immediately above E while C is not at the bottom.

- सात पुस्तक A, B, C, D, E, F और G एक गट्टे में रखी हुई हैं। किन्तु यह आवश्यक नहीं है कि वह एक ही क्रम में हों। G और C के बीच में उतनी ही पुस्तकें हैं। जितनी E और D के बीच में हैं। G और E के बीच सिर्फ F है। E के ठीक ऊपर B है जबकि C सबसे नीचे नहीं है।

- Which book is in the middle of the pile?

- गट्टे के मध्य में कौन-सी पुस्तक है ?



A. E

B. facts are incomplete

C. F

D. none of these