



CUET 2022

REASONING



SPEED TEST

DISCUSSION

TEST-2

LIVE



UPCOMING ONLINE BATCHES

June 2022

01 June 2022

08:00 AM to 10:00 AM

BANK ONLINE LIVE CLASS

03:00 PM to 05:00 PM

SSC ONLINE LIVE CLASS

BILINGUAL

08 June 2022

01:00 PM to 03:00 PM

BANK ONLINE LIVE CLASS

07:30 PM to 09:30 PM

SSC ONLINE LIVE CLASS

BILINGUAL

15 June 2022

05:30 PM to 07:30 PM

BANK ONLINE LIVE CLASS

10:30 AM to 12:30 PM

SSC ONLINE LIVE CLASS

BILINGUAL

 www.mahendras.org

 7052477777/7052577777

Find the missing :-

LETTER : EELRTT :: WESTERN : ?


- (A) EENRTSW
- (B) EENRSTW
- (C) NEEWSTR
- (D) ENRSTWE



Find the missing :-

Luxembourg : Euro :: Finland : ?
लक्समबर्ग : युरो :: फिनलैंड : ?

- (A) Taka
- (B) Euro
- (C) Afghani
- (D) Pula



Find the missing :-

$$78 : 15 :: 96 : ?$$

- (A) 54
- (B) 50
- (C) 15
- (D) 20



Find the odd one

- (A) Albert Einstein / अल्बर्ट आइसं ष्
- (B) Nikola Tesla / निकोला टेस्
- (C) Michael Faraday / माइकल फै राड
- (D) Thomas Hardy / थॉमस हार्ड



Find the odd one

(A) J (B) N (C) T (D) L



Find the odd one

(A) 68 (B) 77 (C) 95 (D) 84




20

In a certain code language, GLORY is written as MRUXE then how will MARK be written in the same code language?

एक निश्चित कूट भाषा में, GLORY को MRUXE लिखा जाता है तो MARK को उसी कोड भाषा में कै से लिखा जाएगा?

- (A) SGQL
- (B) SQPR
- (C) SXEQ
- (D) SGXQ



In a certain code language, KRIS is written as 1118919 then how will LUCK be written in the same code language?

एक निश्चित कोड भाषा में, KRIS को 1118919 लिखा जाता है तो LUCK को उसी कोड भाषा में कैसे लिखा जाएगा?

- (A) 1221311
- (B) 1221312
- (C) 1231311
- (D) 2221311

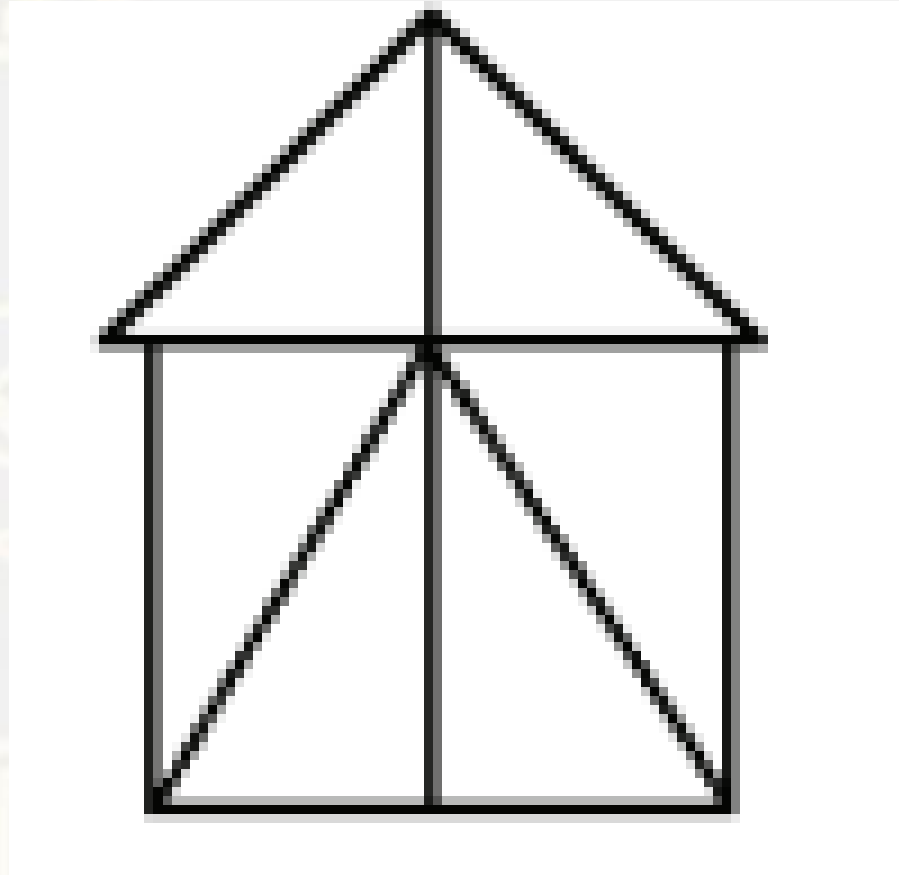
Pointing to a girl, the boy said that she is the daughter of my paternal uncle's father's only daughter. How is the girl related to the boy?

एक लड़की की ओर इशारा करते हुए, लड़के ने कहा कि वह मेरे चाचा के पिता की इकलौती पत्नी की पत्नी है। लड़की लड़के से कै से संबंधित है?

- (A) Mother
- (B) Niece
- (C) Cousin
- (D) Daughter

How many triangles are there in the given figure?

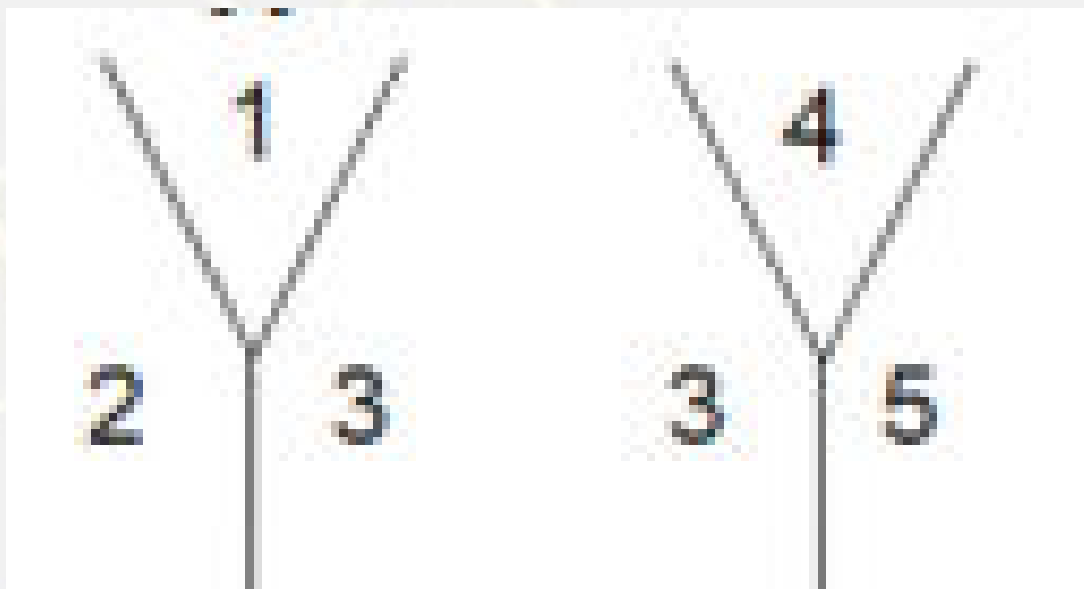
- (A) 11
- (B) 8
- (C) 13
- (D) 9



Two positions of dice are given below. Study the figure of dice and then find out which number will be opposite of number 6?

पासे की दो स्थितियाँ नीचे दी गई हैं। पासे की आकृति का अध्ययन करें और फिर ज्ञात करें कि कौन सी संख्या संख्या 6 के विपरीत होगी?

- (A) 1
- (B) 3
- (C) 4
- (D) 5





What will be the mirror image of the following figure?

निम्नलिखित आकृति की दर्पण छवि क्या होगी?

Question Figure-

S H A P N E R

Answer Figures-

(A) R E N P A H S

(B) H S A P N E R

(C) S H A P N E R

(D) R E N P A H S

A word is given in capital letters, it is followed by four words. Out of these four words the three words can be formed from the letters of the word in capital letters. Point out the word which cannot be formed from the letters of the given word in capital letters.

एक शब्द बड़े अक्षरों में दिया है। इसके बाद चार शब्द दिये गये हैं। इनमें से तीन शब्द बड़े अक्षरों वाले शब्द के अक्षरों द्वारा बनाए जा सकते हैं। उस शब्द को पहचानें जो बड़े अक्षरों में लिखे शब्द के अक्षरों द्वारा नहीं लिखा जा सकता है।

RECIPIENTS

(A) PEN (B) RIPE (C) TENT (D) RENT



Statements:

All Chair are Tennis. / सभी चेयर टेनिस हैं।

Some Tennis are Flat. / कुछ टेनिस फ्लैट हैं।

Conclusions:

I. Some Tennis are Chair. / कुछ टेनिस चेयर हैं।

II. Some Chair are Flat. / कुछ चेयर फ्लैट हैं।

(A) Only conclusion I follows.

(B) Both conclusions I and II follow.

(C) Only conclusion II follows.

(D) None follows.



Arrange the following words in a logical order.

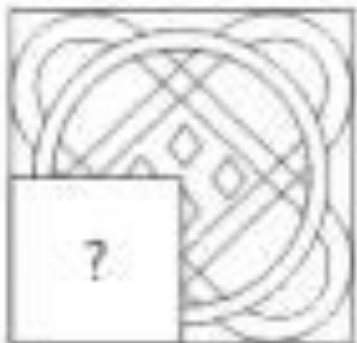
1. Result / परिणाम
2. Written Exam / लिखित परीक्षा
3. Advertisement / विज्ञापन
4. Interview / साक्षात्कार
5. Selection / चयन

- (A) 3, 2, 4, 1, 5
- (B) 2, 3, 1, 4, 5
- (C) 5, 1, 2, 4, 3
- (D) 3, 5, 1, 2, 4



Which Answer Figure will complete the pattern of the question figure?
कौन-सी उत्तर आकृति प्रश्न आकृति के पैटर्न को पूरा करेगी?

Question Figure-



Answer Figures -



(A)



(B)



(C)



(D)



Find the Missing :-

36

12

18

10

10

18

22

14

?

(A) 25

(B) 24

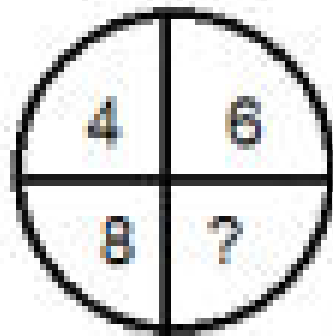
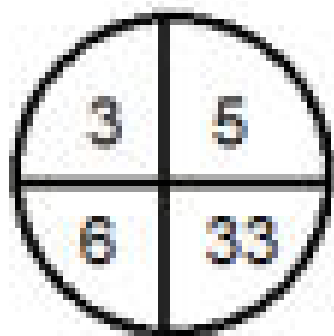
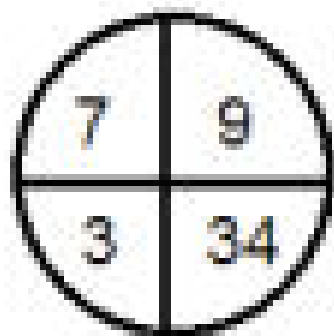
(C) 30

(D) 35



20

Find the Missing :-



(A) 50

(B) 57

(C) 30

(D) 52



complete the series. / अनक्रम को ँ पर ूा करे।

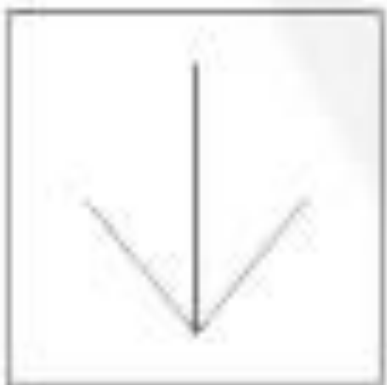
30, 20, 12, 06, ?

- (A) 02
- (B) 04
- (C) 09
- (D) 01



Which of the answer figures is embedded in the question figure?
कौन सी उत्तर आकृति, प्रश्न आकृति में सन्निहित है?

Question figure:



Answer figures:




(A)



(B)



(C)

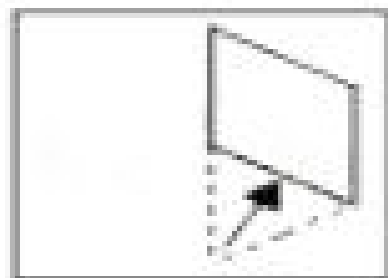
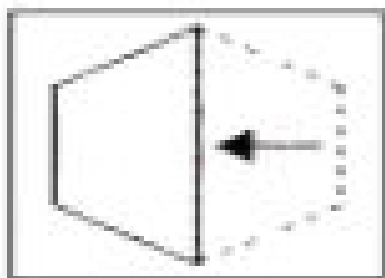


(D)






A piece of paper is folded and cut as shown below in the question figures. From the given answer figures, indicate how it will appear when opened?
 कागज के एक टुकड़े को मोड़ा और काटा जाता है जैसा कि नीचे प्रश्न आकृति में दिखाया गया है। दी गई उत्तर आकृतियों में से बताइए कि खोलने पर यह कैसी दिखाई देगी?

Question figures:



Answer figures:



(A)

(B)

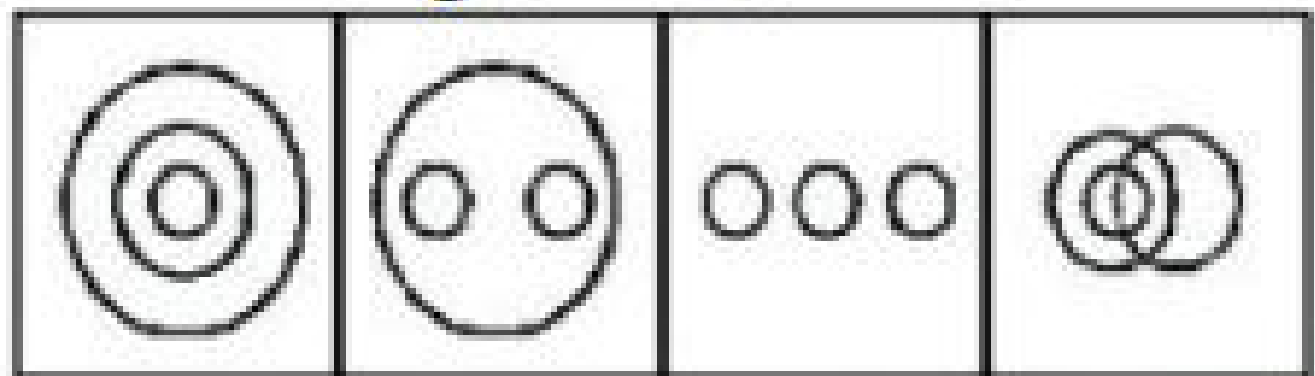
(C)

(D)



Identify the diagram that best represents the relationship among the classes given below.

Tasmanian Tiger, Dodo, Extinct Animals / तस्मानियन टाइगर, डोडो, विलुप्त पशु



(A)

(B)

(C)

(D)



Ram walks 3 km towards north then turns towards left and walks 1 km. He again walks 3 km towards the west. Now in which direction is he facing?

(A) North (B) West (C) East (D) South-west

राम उत्तर की ओर 3 किमी चलता है, फिर बाईं ओर मुड़ता है और 1 किमी चलता है। वह फिर से पश्चिम की ओर 3 किमी चलता है। अब उसका मुख किस दिशा में है?

(A) उत्तर (B) पश्चिम (C) पूर्व (D) दक्षिण-पश्चिम



Statement:

A man must be wise to be a good cantankerous.

Good cantankerous are talkative and boring.

एक आदमी को अच्छा झगड़ाल हो ू ने के लिए बद्धि मान होना चाहिए। अच्छे झगड़ाल बू ातनी और उबाऊ होते ह

Conclusions:

I. All wise persons are boring.

II. All wise persons are cantankerous.

निष्कर्ष: I. सभी बद्धि मान व्यक्ति उबाऊ हैं। II. सभी बद्धि मान व्यक्ति झगड़ाल होते हैं।

(A) Only I follows

(B) None follows

(C) Only II follows

(D) Both follow



Which one set of the letters when sequentially placed at the gaps in given letter series shall complete it?

अक्षरों का कौन सा समूह खू ाली स्थानों पर क्रमवार रखने से दी गयी श्रृंखलश्रृं ा को पूरा करेगा?

W _ T _ H _ A _ C H W A T _ _

- (A) ACWTTH
- (B) ACWTCH
- (C) ACWWCH
- (D) ACCTCH

