

# SSC MTS/HAWALDAR/CHSL



## REASONING

# LIVE EXAM

तैयारी जीत की...

LIVE

08:30 PM





# UPCOMING ONLINE BATCHES

## June 2022

**01 June 2022**

**08:00 AM to 10:00 AM**

**BANK ONLINE LIVE CLASS**

**03:00 PM to 05:00 PM**

**SSC ONLINE LIVE CLASS**

**BILINGUAL**

**08 June 2022**

**01:00 PM to 03:00 PM**

**BANK ONLINE LIVE CLASS**

**07:30 PM to 09:30 PM**

**SSC ONLINE LIVE CLASS**

**BILINGUAL**

**15 June 2022**

**05:30 PM to 07:30 PM**

**BANK ONLINE LIVE CLASS**

**10:30 AM to 12:30 PM**

**SSC ONLINE LIVE CLASS**

**BILINGUAL**

**22 June 2022**

**10:30 AM to 12:30 PM**

**BANK ONLINE LIVE CLASS**

**08:00 AM to 10:00 AM**

**SSC ONLINE LIVE CLASS**

**BILINGUAL**

**29 June 2022**

**03:00 PM to 05:00 PM**

**BANK ONLINE LIVE CLASS**

**05:30 PM to 07:30 PM**

**SSC ONLINE LIVE CLASS**

**BILINGUAL**

**13 June 2022**

**10:30 AM to 12:30 PM**

**IBPS RRB ONLINE LIVE CLASS**

**BILINGUAL**



[www.mahendras.org](http://www.mahendras.org)



7052477777/7052577777





**Find the missing (?)**

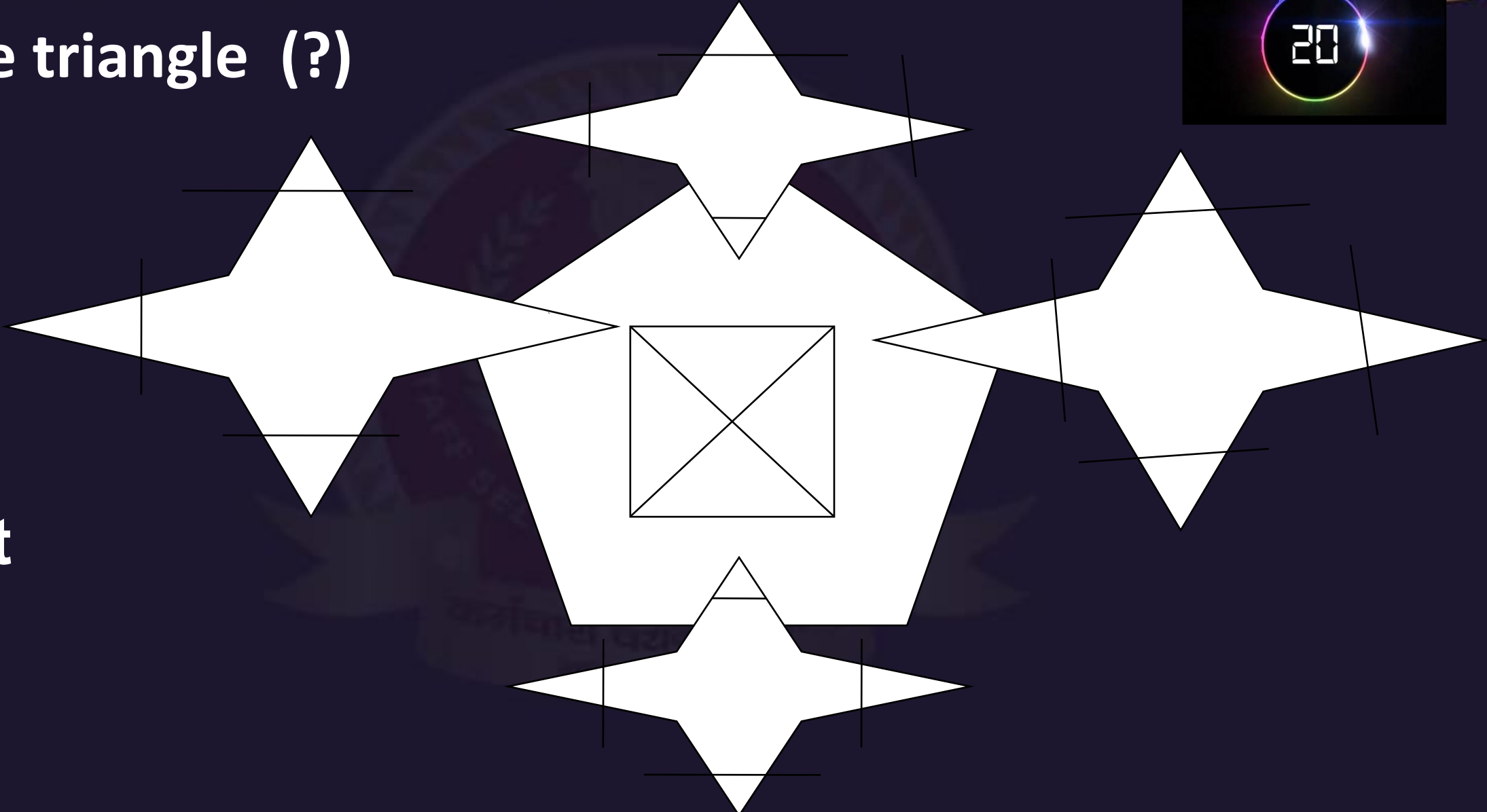
**2.5 ,  $10/3$  ,  $15/4$  , 4 , ?**

- (A)  $20/6$**
- (B)  $25/6$**
- (C) 8**
- (D) Not**





Find the triangle (?)



- (A) 22
- (B) 23
- (C) 24
- (D) Not



Find the MISSING (?)

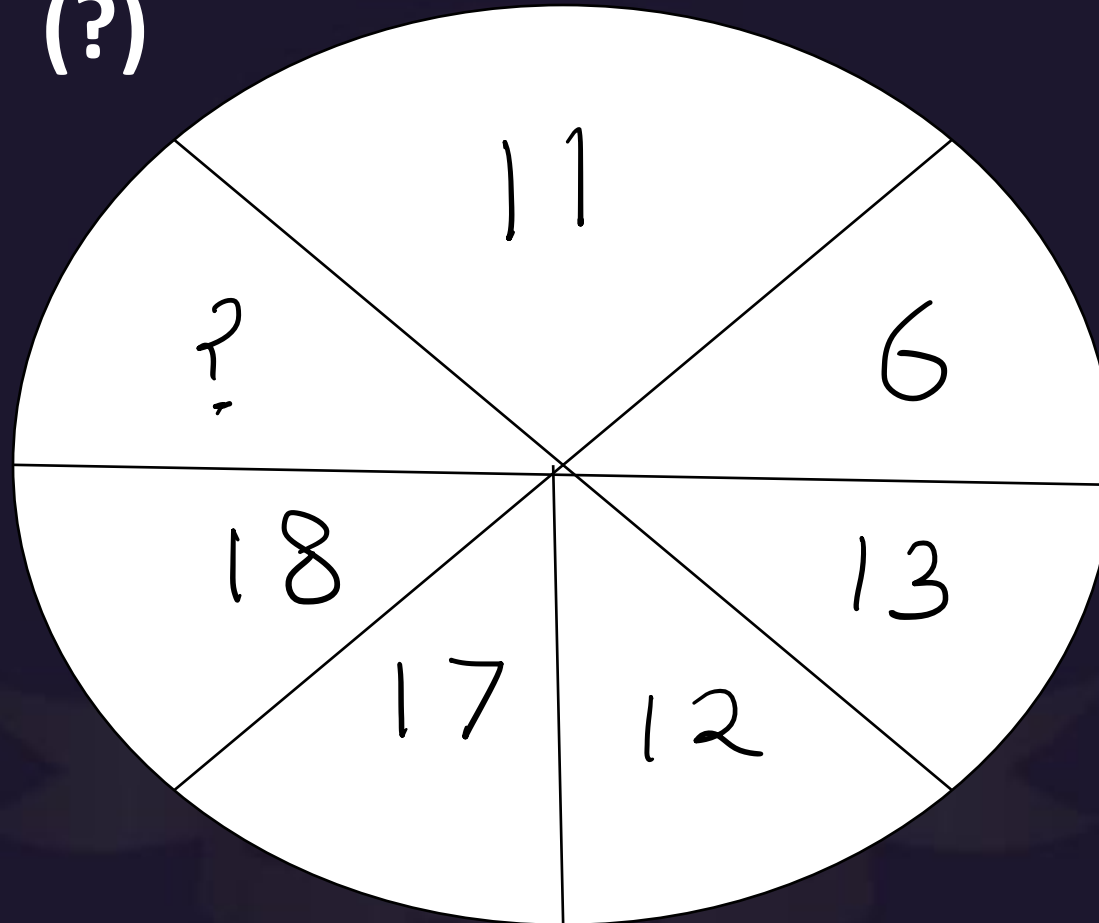
Compass : Ship :: Vastu : ?  
कम्पास : जहाज :: वास्तु : ?

- (A) Building / इमारत
- (B) Flat / फ्लैट
- (C) Home / होम
- (D) Land / भूमि





Find the MISSING (?)



- (A) 18
- (B) 19
- (C) 20
- (D) 21



Ram's mother has been sons. The eldest one is called ONE , the second one is called TWO ,. Then the third son's name is .....

राम की माँ तीन बेटे हैं। सबसे बड़े को ONE कहा जाता है, दूसरे को TWO कहा जाता है। फिर तीसरे बेटे का नाम है .....

- (A) Three
- (B) Four
- (C) Sita
- (D) Ram







Find the MISSING (?)

$$44 + 12 = 30$$

$$77 + 14 = 61$$

$$33 + 11 =$$

(A) 20

(B) 21

(C) 22

(D) 23







Find the MISSING (?)

M : 8 :: S : 20 :: K : ?

- (A) 4
- (B) 8
- (C) 12
- (D) 10





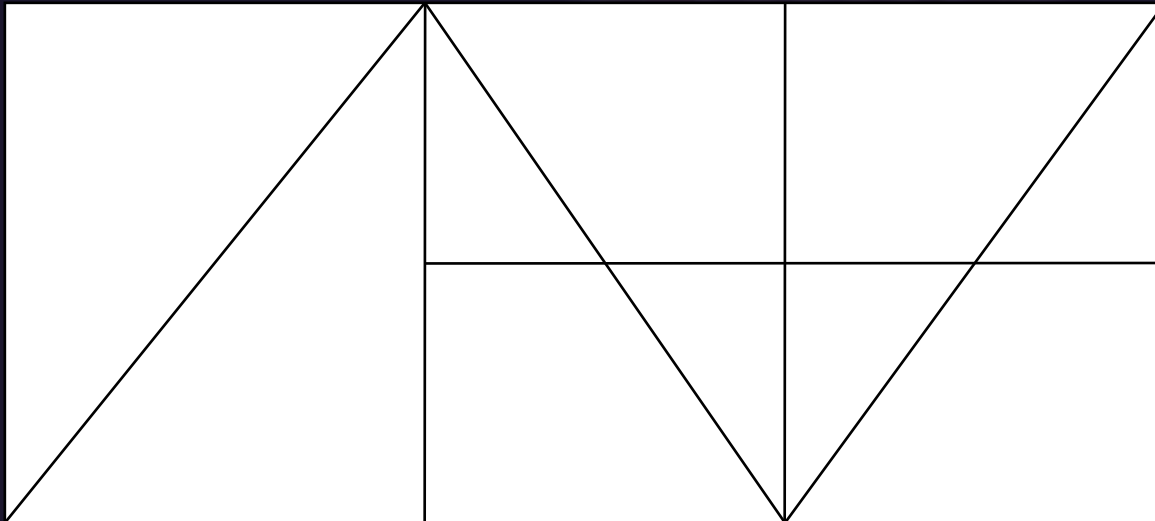
Find odd word from the given alternative.  
दिए गए विकल्प में से विषम शब्द ज्ञात कीजिए ।

- (A) 7324
- (B) 9611
- (C) 1754
- (D) 2690





Find the number of triangles in the given figure.



- A.13
- B.14
- C.15
- D.16



Find number of Straight line in the given figure ?  
दी गई आकृति में सीधी रेखा की संख्या ज्ञात कीजिए?

- (A) 10
- (B) 9
- (C) 12
- (D) 11







Find the option which should replace (?)

AFKP: AVQL :: GLQV : ?



- (A) HMRV
- (B) HNRW
- (C) LKPD
- (D) UPKF



Q. Mukesh is 40 years old and he is five times as old as his brother Rohit. When Mukesh is thrice as old as Rohit then age of Mukesh is  
मुकेश 40 साल का है और वह अपने भाई रोहित से पांच गुना बड़ा है। जब मुकेश रोहित से तीन गुना बड़ा है तो मुकेश की उम्र है-

- (A) 44 years
- (C) 48 years

- (B) 46 years
- (D) 40 years





A school has 2100 students. For every 20 students there is one class monitor. The number of monitors in the school is

एक स्कूल में 2100 छात्र हैं। प्रत्येक 20 छात्रों के लिए एक कक्षा का मॉनीटर होता है। स्कूल में मॉनीटर की संख्या क्या है-

- (A) 100  
(C) 80

- (B) 75  
(D) 85





In an examination, a student scores 4 marks for every correct answer and loses 1 mark for every wrong answer. If he attempts in all 60 question and secures 130 marks, the number of question he attempts correctly, is

एक परीक्षा में, एक छात्र प्रत्येक सही उत्तर के लिए 4 अंक स्कोर करता है और हर गलत उत्तर के लिए 1 अंक खो देता है। यदि वह सभी 60 प्रश्नों में प्रयास करता है और 130 अंकों को सुरक्षित करता है, तो उस के सही प्रश्नों की संख्या क्या होगी-

(A) 35

(B) 38

(C) 40

(D) 42







Find the odd one (?)



- (A) 500
- (B) 661
- (C) 200
- (D) 471



Find odd word from the given alternative.  
दिए गए विकल्प में से विषम शब्द ज्ञात कीजिए ।

- (A) 5
- (B) 23
- (C) 15
- (D) 21





Find odd word from the given alternative.  
दिए गए विकल्प में से विषम शब्द ज्ञात कीजिए ।



- (A) 1976
- (B) 1772
- (C) 1344
- (D) 1862



In a Certain code MOTHER is written as TOMREH ,than find the code for NEPHEW ?

एक निश्चित कोड में MOTHER का कोड TOMREH लिखा गया है , तो NEPHEW का कोड क्या होगा ?

- (1) ENHPWE
- (2) PENWEH
- (3) WEHPEN
- (4) WEHPNE







Find the option which should replace (?)

249 : 522 :: 149 : ?



- A. 152
- B. 196
- C. 230
- D. 961



**Find the option which should replace (?)**

$$25 + 37 = 227$$

$$42 + 26 = 110$$

$$63 + 34 = ?$$

**A. 225**

**B. 215**

**C. 325**


**D. 232**





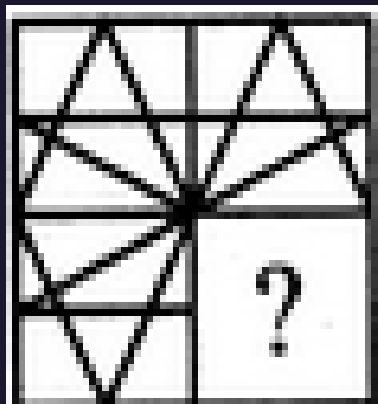
Find number of triangle in the given figure ?  
दी गई आकृति में त्रिभुज की संख्या ज्ञात कीजिए?

- (A) 16
- (B) 6
- (C) 22
- (D) 24







Identify the figure that completes the pattern.




(X)



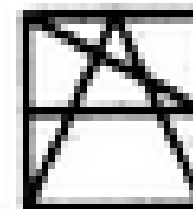
(1)



(2)



(3)



(4)

- A.1
- B.2
- C.3
- D.4







Find the option which should replace (?)

SKILL : 57

LOVE : 40

LIE : ?

(A) 22

(B) 20

(C) 26

(D) 17





Find odd word from the given alternative.  
दिए गए विकल्प में से विषम शब्द ज्ञात कीजिए ।

- (A) Game : Ground
- (B) Cinema : Screen
- (C) Theatre : Stage
- (D) Eraser : Rub





In a Certain code FAITH is written as *KELVI* ,than find the code for CLOUD ?

एक निश्चित कोड में FAITH का कोड KELVI लिखा गया है , तो CLOUD का कोड क्या होगा ?

- (1) HEWRP
- (2) HPERW
- (3) HPRWE
- (4) HPWRQ





Find the odd one (?)

- (A) Bear / भालू
- (B) Deer / हिरण
- (C) Lizard / छिपकली
- (D) Snake / साँप





Find the odd one (?)

- (A) House / मकान
- (B) Flat / फ्लैट
- (C) Society / सोसायटी
- (D) Building / भवन




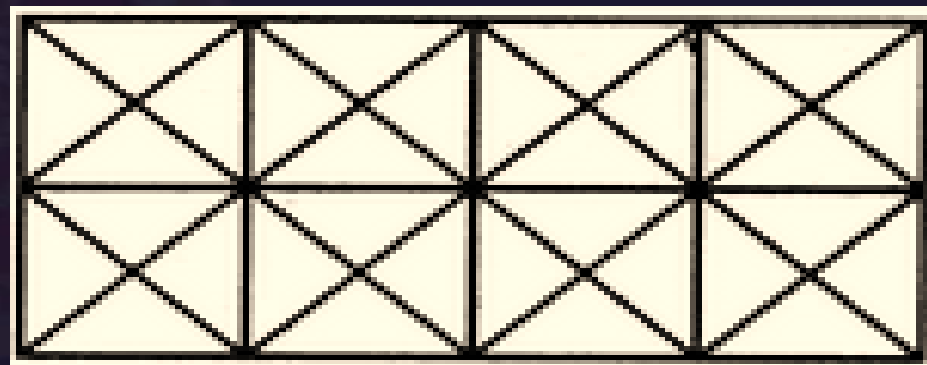




Find number of squares in figure?

- (A) 11
- (C) 24

- (B) 21
- (D) 26





# SSC MTS/HAWALDAR/CHSL

•Live at 08:30 PM

