



UP PET MOCK TEST



REASONING

30 DAYS

महाभ्यास

DAY-04



LIVE | 06:30 PM

By Kuldeep Mahendras



UPCOMING ONLINE BATCHES

September 2022

07 SEP 2022

01:00 PM to 03:00 PM

BANK ONLINE LIVE CLASS

10:30 AM to 12:30 PM

SSC ONLINE LIVE CLASS

BILINGUAL

14 SEP 2022

08:00 AM to 10:00 AM

BANK ONLINE LIVE CLASS

05:30 PM to 07:30 PM

SSC ONLINE LIVE CLASS

BILINGUAL

21 SEP 2022

10:30 AM to 12:30 PM

BANK ONLINE LIVE CLASS

03:00 PM to 05:00 PM

SSC ONLINE LIVE CLASS

BILINGUAL

28 SEP 2022

07:30 PM to 09:30 PM

BANK ONLINE LIVE CLASS

08:00 AM to 10:00 AM

SSC ONLINE LIVE CLASS

BILINGUAL

14 SEP 2022

11:30 AM to 01:30 PM

BANK ONLINE LIVE CLASS

BENGALI+ENGLISH

28 SEP 2022

04:00 PM to 06:00 PM

BANK ONLINE LIVE CLASS

BENGALI+ENGLISH



www.mahendras.org



7052477777/7052577777



🌸 PUJA KUNDU 🌸 ----- 1 day ago 8 subscribers

The answer is option D....thank you sir ji for the fabulous session 🔥 🔥 🔥 🔥 🔥 🔥 🔥 🔥 🔥 🔥

👍 🗨️ REPLY 📺

▼ 🚫 • 1 REPLY



Surbhi Sinha 1 day ago

Nylon 👍 👍 nice session sir 👍 👍

👍 🗨️ REPLY 📺

▼ 🚫 • 1 REPLY



Vikas Dubey 1 day ago 1 subscribers

ANSWER - NYLON (ARTIFICIAL or SYNTHETIC FIBRE OCCUR)
COTTON - NATURAL OCCUR
SILK - NATURAL OCCUR BY SILKMOTH
LINEN - NATURAL OCCUR BY FLAX

👍 1 🗨️ REPLY 📺

▼ 🚫 • 1 REPLY



Shalini Gangwar 1 day ago

Nylon nice season sir

👍 🗨️ REPLY 📺



KALAM SIR _____ 1 day ago 4 subscribers

Sir ji tim time change kro jion nhi kr pa rhe hai I am old student 1 years 🙏🙏🙏🙏🙏🙏🙏🙏🙏🙏🙏

👍 🗨️ REPLY



Vikas Dubey 1 day ago 1 subscribers

NYLON

👍 1 🗨️ REPLY

▼ • 1 REPLY



babu kumar 1 day ago

Answer is B= Nylon

👍 🗨️ REPLY

▼ • 1 REPLY



Find the odd :-

- (A) Cotton / कपास
- (B) Nylon / नायलॉन
- (C) Silk / रेशम
- (D) Linen / लिनन





Find the option which should replace (?)

42 : 23 :: 123 : ?

- A. 41**
- B. 42**
- C. 44**
- D. 45**





Find the missing ONE (?)

41 , 45 , 65 , 95 , ?

- (A) 110
- (B) 140
- (C) 150
- (D) 250





Find the ODD ONE (?)

(A) 7 : 23

(B) 8 : 26

(C) 10 : 30

(D) 9 : 29





Find the option which should replace (?)

Man : Biography :: Nation : ?

आदमी: जीवनी :: राष्ट्र:?



- (A) Leader / नेता
- (B) People / लोग
- (C) Geography / भूगोल
- (D) History / इतिहास



Find the option which should replace (?)

Market : Demand :: Farming : ?

बाज़ार: माँग :: खेती:?

- (A) **Farmer / किसान**
- (B) **Monsoons / मानसून**
- (C) **Foodgrain / खाद्यान्न**
- (D) **Supply / आपूर्ति**





Find the missing (?)

25 : 175 :: 32 : ?

- 1. 140**
- 2. 150**
- 3. 160**
- 4. 164**





Find the odd one (?)

(A) 23 : 6

(B) 54 : 20

(C) 91 : 81

(D) 33 : 9





Find the option which should replace (?)

Cricket : Bat :: Hockey : ?

क्रिकेट: बल्ला :: हॉकी:?



- (A) **Field** / फील्ड
- (B) **Strick** / स्टिक
- (C) **Player** / प्लेयर
- (D) **Ball** / बॉल



Find the option which should replace (?)

3 : 80 :: 4 : ?

- (A) 100
- (B) 120
- (C) 150
- (D) 130





Find the option which should replace (?)

16 : 124 :: 11 : ?

(A) 88

(B) 86

(C) 24

(D) 22





Find the missing ONE (?)

(11 , 30 , 8)

(A) 15 , 81 , 12

(B) 12 , 64 , 10

(C) 15 , 38 , 13

(D) 18 , 18 , 15





Find the missing ONE (?)

? : 63 :: 08 : 26

- (A) 12**
- (B) 91**
- (C) 18**
- (D) 15**





Find the Missing one (?)

13 : 901 :: 25 : ?

- (A) 195
- (B) 205
- (C) 216
- (D) 502





Find the Missing one (?)

12 : .36 :: 108 : ?

(A) 32.4

(B) 3.24

(C) 324

(D) 81





In which year 2011 calender will be repeated :-

किस वर्ष में 2011 कैलेंडर दोहराया जाएगा: -

- (A) 2020**
- (B) 2021**
- (C) 2022**
- (D) 2023**





If G is 5th to the left of K and 2nd to the right of L who is 11th from the right end then what is G's position from the left?

यदि G, K के बायें से 5वां और L के दायें से दूसरे स्थान पर है, जो दायें छोर से 11वां है, तो बायें से G का स्थान क्या है?

- A. 5
- B. 4
- C. 6
- D. Cannot be determined





Kamlesh is Anil's brother. Sundari is the sister of Madan. Anil is the son of Sundari. Now how is Kamlesh related to Sundari?

कमलेश अनिल का भाई है। सुंदरी मदन की बहन है। अनिल सुंदरी का पुत्र है। अब कमलेश का सुंदरी से क्या संबंध है?


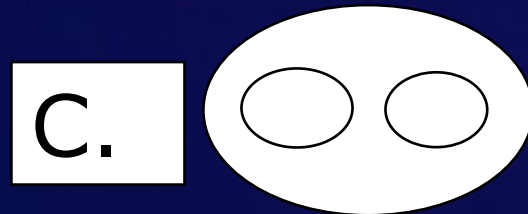

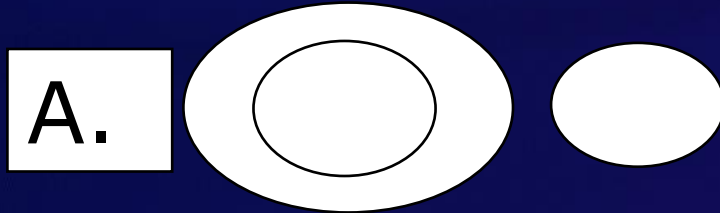
- A. Nephew**
- B. Son**
- C. Brother**
- D. Father**





Which of the following diagrams indicate best relation between Author, Lawyer and Singer?

निम्नलिखित में से कौन सा चित्र लेखक, वकील और गायक के बीच संबंध को दर्शाता है?





From the given alternative words, select the word which can be formed using the letters of the give word :

दिए गए वैकल्पिक शब्दों से, उस शब्द का चयन करें जिसे शब्द के अक्षरों का उपयोग करके बनाया जा सकता है:

REPLENISHABLE



- (1) LIME
- (2) REACH
- (3) SHINE
- (4) PAPER



Find the Missing one (?)

42 : 54 :: 56 : ?

- (A) 18**
- (B) 64**
- (C) 72**
- (D) 90**





Find the Missing one (?)

60 : 17 :: 75 : ?

- (A) 18**
- (B) 19**
- (C) 20**
- (D) 21**





Find the missing :-

- (A) 100
- (B) 139
- (C) 157
- (D) 512

13	20	15	11
5	3	4	9
9	12	14	16
16	84	136	?



Find the missing :-



1. 49
2. 36
3. 50
4. 55

6	8	5
24	8	?
2	1	2



Find the missing :-

- (A) 1
- (B) 2
- (C) 3
- (D) 4

2	4	14
3	5	22
?	6	32



Find the missing one (?)



Wheat, Barley, Rice - ?

गेहूं, जौ, चावल - ?

- A. Food / खाना**
- B. Pizza / पिज्ज़ा**
- C. Farm / खेत**
- D. Grain / अनाज**



Arrange the in Dictionary order :-

1. First
2. Frown
3. Fist
4. Fast
5. Floor



A- 3,5,2,4,1

B- 4,1,3,5,2

C- 2,1,3,5,4

D- 2,4,1,5,3



Find the missing one (?)



Lock : Shut :: Fasten :
ताला : शट :: बांधना :

- A.Window / खिड़की**
- B.Door / द्वार**
- C.Iron / लोहा**
- D.Block/ बाधा**



Choose the word which is different from the rest.

- A. Kiwi / कीवी
- B. Eagle / ईगल
- C. Emu / एमु
- D. Ostrich / शुतुरमुर्ग





Statement : The killer enteric fever has so far claimed 100 lives in several tribal villages in M.P. during the past three weeks.

Course of Action :

- I) The residents of these villages should immediately be shifted to a non-affected area.
- II) The Government should immediately send a medical squad to this area to restrict spread of the killer disease.

कथन: पिछले तीन हफ्तों के दौरान एमपी में कुछ आदिवासी गांवों में जानलेवा आंत्र बुखार ने 100 लोगों के जीवन को समाप्त किया है।

कार्यवाही:

- I) इन गांवों के निवासियों को तुरंत एक प्रभावित क्षेत्र में स्थानांतरित किया जाना चाहिए।
- II) जानलेवा बीमारी के फैलाव को रोकने के लिए सरकार को तुरंत इस क्षेत्र में एक चिकित्सा दल भेजना चाहिए।



Find the option which should replace (?)

245 , 356 , 489 , 674 , ?



- (A) 881
- (B) 145
- (C) 225
- (D) 343



Find the missing ONE (?)



Horses : Neigh :: ? : ?

- 1. Ducks : Quack**
- 2. Parrots : Bray**
- 3. Hares : Boom**
- 4. Pigs : Buzz**



Find the odd one :-



1. Intelligence
2. Weight
3. Aptitude
4. Memory



Find the odd one :-



1. 14 : 210

2. 18 : 342

3. 17 : 307

4. 12 : 156



Select the correct combination of mathematical signs that can sequentially replace the * signs and balance the given equation.

$$42 * 7 * 64 * 11 * 6 * 4$$

1. $\div, -, +, \times, =$
2. $\times, +, -, \div, =$
3. $\div, +, -, \times, =$
4. $\times, -, +, \div, =$





Find the missing ONE (?)

24, 35, 51, 73, 102, ?

1.149

2.131

3.151

4.139





In a certain code language, 'AROUND' is coded as '52182412144' and 'FIX' is coded as '63624'. How will 'PLASTIC' be coded in that language?

एक निश्चित कूट भाषा में, 'AROUND' को '52182412144' और 'FIX' को '63624' के रूप में कोडित किया जाता है। उसी भाषा में 'PLASTIC' को किस प्रकार कोडित किया जाएगा?

1. 1612261920183
2. 1612522021363
3. 1812521920383
4. 1612521920363





Find the missing ONE (?)

Depression : Mood :: Insomnia : ?
डिप्रेशन : मूड :: अनिद्रा : ?

1. **Sleep / नींद**
2. **Thinking / सोच**
3. **Night / रात**
4. **Dreams / सपने**





Find the missing ONE (?)

L_UA_Z_N_AP_L_U_PZ

1. N, L, P, A, N, U, Z
2. P, N, L, Z, U, A, N
3. P, L, U, Z, N, A, N
4. N, P, L, U, Z, N, A





Select the correct option that indicates the arrangement of the given words in the order in which they appear in an English dictionary

1. Freeze
2. Freedom
3. Fryer
4. Frozen
5. Fraud
6. Fringe

1. 5, 6, 2, 1, 4, 3
2. 5, 2, 1, 6, 3, 4
3. 5, 1, 2, 6, 4, 3
4. 5, 2, 1, 6, 4, 3





Find the missing ONE (?)

1. TPLH

2. NJFA

3. CYUQ

4. FBXT





Find the missing ONE (?)

(25, 18, 225)

- 1. (9, 16, 170)**
- 2. (24, 22, 264)**
- 3. (15, 34, 190)**
- 4. (17, 15, 220)**





Find the missing ONE (?)

12 : 60 :: 16 : ?

- 1. 210**
- 2. 121**
- 3. 112**
- 4. 201**





In a certain code language, 'PERMIT' is written as 'VVLNOG'. How will 'INERTIA' be written in that language?

एक निश्चित कूट भाषा में, 'PERMIT' को 'VVLNOG' लिखा जाता है। उसी भाषा में 'INERTIA' कैसे लिखा जाएगा?

1. XYOHBCU
2. OMYIZRU
3. OHYXZCU
4. XOYHCZU





Find the missing ONE (?)



PNNA, RPPE, TRRI, VTTO, ?

- 1. YVVU**
- 2. XWWU**
- 3. XVVU**
- 4. YUUV**



P, L, T, B, N and D are six members of a business family. N is the son of B, who is not the mother of N. L is the brother of B. D and B are a married couple. T is the daughter of D, who is the sister of P. How is N related to T?

P, L, T, B, N और D एक कारोबारी परिवार के छह सदस्य हैं। N, B का पुत्र है, जो N की माता नहीं है। L, B का भाई है। D और B एक विवाहित युगल हैं। T, D की पुत्री है, जो P की बहन है। N, T से किस प्रकार संबंधित है?

1. Sister
2. Father
3. Brother
4. Mother





Find the odd :-

- (A) Cotton / कपास
- (B) Nylon / नायलॉन
- (C) Silk / रेशम
- (D) Linen / लिनन

