



MISSION SSC 2023

REASONING





MISSION SSC 2023

REASONING



• Z, Y, X, U, T, S, P, O, N, K, ?, ?

A. H, G

B. H, I

C. I, H

D. J, I





MISSION SSC 2023

REASONING



- What should come in the place of question mark(?)
- प्रश्नवाचक चिन्ह (?) के स्थान पर क्या आना चाहिए
- A, D, H, M, ?

A. Q

B. S

C. T

D. U





MISSION SSC 2023

REASONING



- Arrange the following words in a logical order.
- निम्नलिखित शब्दों को तार्किक क्रम में व्यवस्थित करें।
- 1. Result
- 2. Written Exam
- 3. Advertisement
- 4. Interview
- 5. Selection



A. 3, 2, 1, 4, 5

B. 2, 3, 1, 4, 5

C. 5, 1, 2, 4, 3

D. 3, 5, 1, 2, 4



MISSION SSC 2023

REASONING



- In a certain code language, ANIMATE is written as CLKKCRG and ALIGN is written as CJKEL, then how will DESIGNER be written in that code language?
- एक निश्चित कूट भाषा में, ANIMATE को CLKKCRG, और ALIGN को CJKEL लिखा जाता है तो DESIGNER को उसी कूट भाषा में क्या लिखा जायेगा?

- A. FCUGILGS
- B. BGQKELGP
- C. FCUGILGT
- D. BGQKEMGP





MISSION SSC 2023

REASONING



- In a certain code SACHIN is written as 311598. How is DRAVID written in that code ?
- एक निश्चित कोड में SACHIN को 311598 लिखा जाता है। उसी कोड में DRAVID को कैसे लिखा जाएगा?

- A. 184495
- B. 194495
- C. 194494
- D. 49149





MISSION SSC 2023

REASONING



- Find the odd one out from the given alternatives.
- दिए गए विकल्पों में से विषम का पता लगाएं।

A. 1225

B. 441

C. 1089

D. 784





MISSION SSC 2023

REASONING



- Pointing to a lady, Kamal said, "She is the only daughter of the only child of my wife's grandfather." How is the woman related to Kamal?
- एक महिला को इंगित करते हुए कमल ने कहा, "वह मेरी पत्नी के दादा जी के एकमात्र बच्चे की एकमात्र बेटी है।" महिला कमल से कैसे संबंधित है?

- A. Father
- B. Wife
- C. Husband
- D. Daughter





MISSION SSC 2023

REASONING



- In a row of 44 students Q is 26th from the right and P is 25th from the left and Z is exactly between Q and P. What is the position of Z from the left?
- 44 छात्रों की एक पंक्ति में Q दायें से 26 वे स्थान पर है और P बाएं से 25 वां है और Z, Q व P के ठीक मध्य में है। बाएं से Z का स्थान क्या है?

A. 17

B. 10

C. 21

D. 22





MISSION SSC 2023

REASONING



- Sandeep travels 7 km. First he walks towards North, then he turns to his right and walks 3 km. He again turns to his right and moves 7 km. In which direction is he now from his starting point?
- संदीप 7 किमी की यात्रा करता है। पहले वह उत्तर की ओर चलता है , फिर वह अपने दाहिने ओर जाता है और 3 किमी चलता है । वह फिर से अपने दाहिने ओर जाता है और 7 किमी आगे बढ़ता है। अब वह अपने शुरुआती बिंदु से किस दिशा में है ।

- A. East
- B. West
- C. North
- D. South



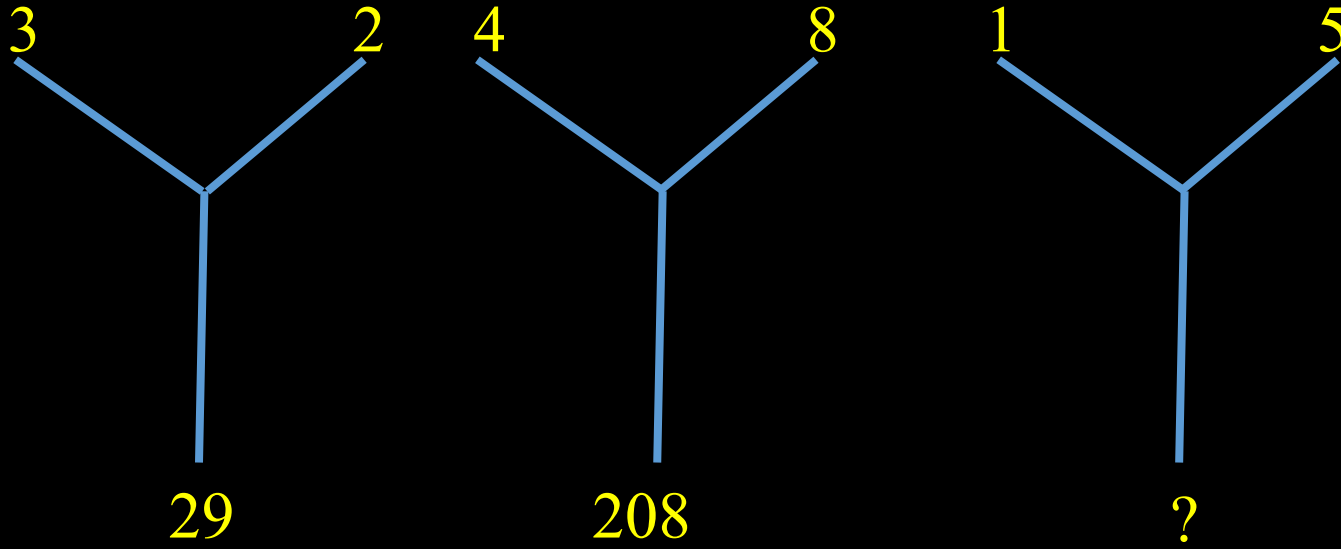


MISSION SSC 2023

REASONING






- Which number will replace the question mark ?
- प्रश्न चिन्ह के स्थान पर कौन सी संख्या आएगी ?



- A. 61
- B. 25
- C. 10
- D. 26



- Which of the following diagrams indicates the relationship between Paper, Stationery and Ink?
- निम्नलिखित में से कौन सा चित्र पेपर, स्टेशनरी और इंक के बीच संबंध इंगित करता है?





MISSION SSC 2023

REASONING



- At what time between 5:30 to 6:00 o'clock, will the hands of a clock be at right angles ?
- 5:30 से 6:00 बजे के बीच घड़ी की सुईयाँ किस समय समकोण पर होंगी?



A. 5:43

B. 5:45 $\frac{7}{11}$

C. 5:43 $\frac{7}{11}$

D. 5:45