



# SSC CHSL 2022-23



**REASONING**

अंतिम बार

**#2**

# महा MOCK TEST



# TARGET 50/50

(अबकी बार CHSL पार)




📶 **LIVE** | 05:30 PM

**BY MANDEEP MAHENDRAS**


# SSC CHSL (10+2) 2022



 @indukumari8754 18 hours ago  
H w A ans is the correct ✓✓ sir ji


👍 🗨 Reply

▼  • 1 reply

 @krishnakantmallick397 19 hours ago  
H.w-A


👍 🗨 Reply

▼  • 1 reply

 @surbhisinha7315 19 hours ago 4 subscribers  
Homework question answer 👉 option AAÀÀ 🔒


👍 🗨 Reply


▼  • 1 reply

 @arpitsharma924 17 hours ago  
Homework Answer is option AA

👍 🗨 Reply


▼  • 1 reply

 @ajayjatav6899 15 hours ago

 A @ajayjatav6899 15 hours ago  
Options (A) is the correct ans \*\*\*\*


👍 🗨 Reply

▼  • 1 reply


 @Ravi.1 19 hours ago 5 subscribers  
A 🌿

👍 1 🗨 Reply

▼  • 1 reply


 @rajibsaha1428 19 hours ago 13 subscribers  
HW)  
\*\*\*


👍 🗨 Reply

 @zikrayasmeen4058 17 hours ago  
Option A

👍 🗨 Reply


▼  • 1 reply

 @rituparnabiswas3987 19 hours ago  
optio A: \*

 @kumarbablu3115 19 hours ago  
A


👍 🗨 Reply

▼  • 1 reply

 @girrajsinghjadon3602 19 hours ago  
\*\*A


👍 🗨 Reply

▼  • 1 reply

 @suruchijha393 19 hours ago  
Hw answer option A

👍 🗨 Reply

▼  • 1 reply

 @saumyatiwari7965 19 hours ago 1 subscribers  
A home work ka ans A

👍 🗨 Reply

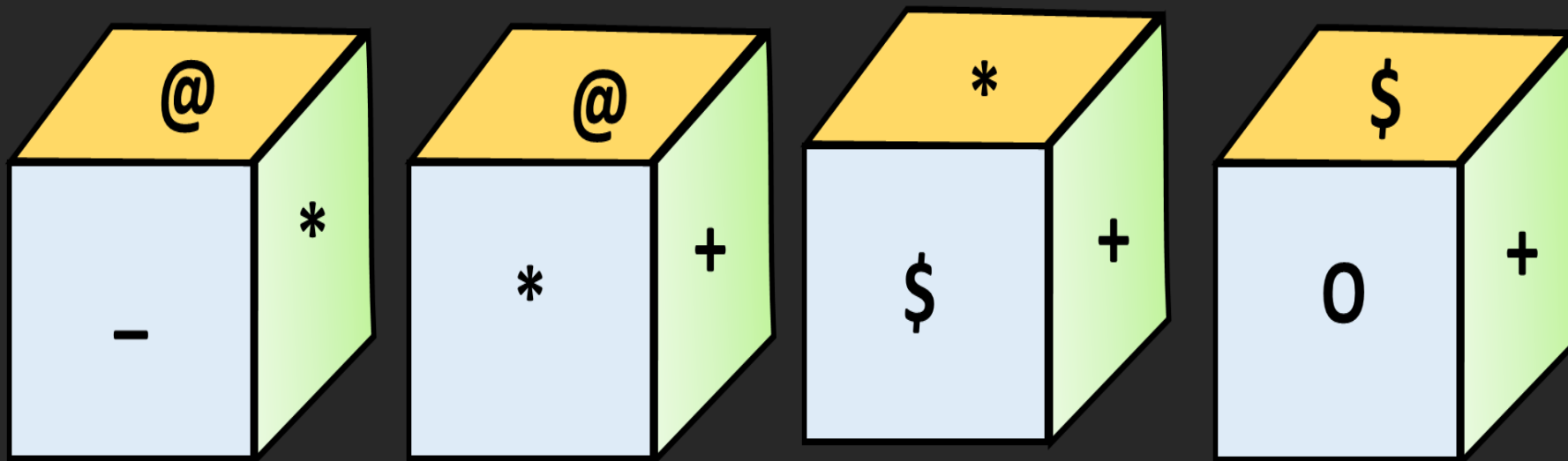
▼  • 1 reply



# SSC CHSL (10+2) 2022



- Four positions of the dice are shown then find out what will happen on the surface opposite to 'O'?
- पासा की चार स्थितियां दिखाई गई है तो ज्ञात कीजिए की 'O' के विपरीत सतह पर क्या होगा?



- 
- A. \*
  - B. \$
  - C. @
  - D. +







# SSC CHSL (10+2) 2022



- Square :  $90^\circ$  :: Equilateral triangle : ? (SSC-CGL 2017)
- वर्ग :  $90^\circ$  :: समबाहु त्रिकोण : ?



- A.  $60^\circ$
- B.  $120^\circ$
- C.  $30^\circ$
- D.  $90^\circ$



# SSC CHSL (10+2) 2022



- Esophagus : Iodine :: Anemia : ? [SSC-CGL 2017]
- घेघा : आयोडीन :: एनीमिया: ?



- A. Vitamin D
- B. Calcium
- C. Iron**
- D. Vitamin E



# SSC CHSL (10+2) 2022



- In a certain code language, APRICOT is written as GLXRIKZ. How will ORANGE be written in that code language? [SSC - CHSL 2020]
- एक निश्चित कूट भाषा में, APRICOT को GLXRIKZ लिखा जाता है। उसी कूट भाषा में ORANGE को किस प्रकार लिखा जाएगा?



- ~~A. VTNZHM~~
- ~~B. LIZMTV~~
- ~~C. LHZMSV~~
- D. VTMZIL**



# SSC CHSL (10+2) 2022



• In a certain code MARINE is written as IRMVEQ. How will BEAUTY be written in that code language? [SSC - CHSL 2020]

• किसी कूट भाषा में MARINE को IRMVEQ लिखा जाता है। उसी कूट भाषा में <sup>2</sup>BEAUTY को क्या लिखा जाएगा ?



- ~~A. CIGZYP~~
- ~~B. CDOPLY~~
- ~~C. CJHZEL~~
- D. CXYEIF**



# SSC CHSL (10+2) 2022



•  $\sqrt{121} : 12 :: \sqrt{25} : ?$

$11+1=12$        $5+1=6$



- A. 5
- B. 6**
- C. 7
- D. 8

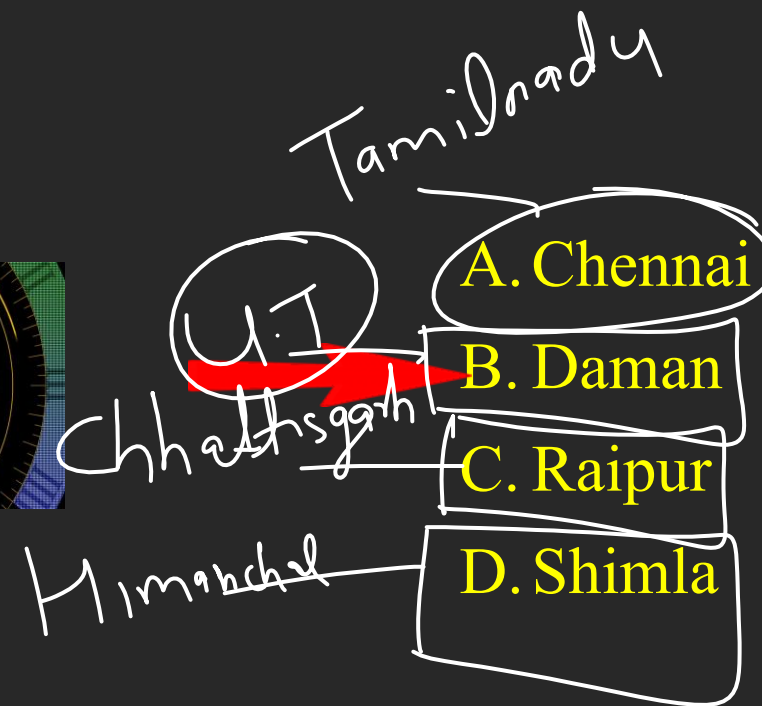




# SSC CHSL (10+2) 2022



- Find the odd one.
- अलग को पहचानें





# SSC CHSL (10+2) 2022



- Out of 9 mangoes weighing 120 grams, the average weight of 9 mangoes is increased by 20 grams by replacing one mango with another. What is the weight of the replaced mango?
- 9 आमों में से 120 ग्राम के भार वाले एक आम के स्थान पर दूसरा आम ले लेने से इनके औसत भार में 20 ग्राम की वृद्धि हो जाती है बदले गये आम का भार क्या है ?



$$120 + 20 \times 9$$

$$120 + 180 = 300 \text{ gm}$$

A. 180gm

B. 260gm

C. 300gm

D. 200gm





# SSC CHSL (10+2) 2022



• Find the next term.

• अगला पद ज्ञात कीजिए।

•  $44, 40, 34, ?, 16, 4$   
-4 -6 -8

26



- A. 28
- B. 26**
- C. 21
- D. 19



# SSC CHSL (10+2) 2022



• Find the next term.

• अगला पद ज्ञात कीजिए।

• 133, 119, 105, 91, ?  
-14 -14 -14 -14

77



- A. 80
- B. 77**
- C. 85
- D. 79

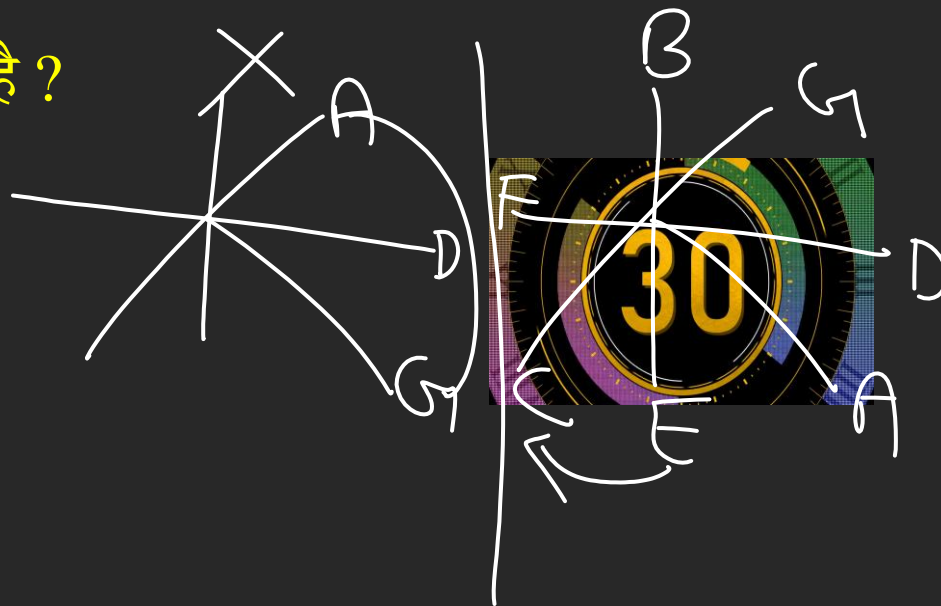




# SSC CHSL (10+2) 2022



- A, B, C, D, E, F and G are sitting in a circle facing the centre. D sits between A and G. F is second to the right of G and E is second to the right of F. C is not an immediate neighbor of G.
- A, B, C, D, E, F और G केंद्र की ओर मुँह किये हुए एक वृत्त में बैठे हुए हैं। A और G के बीच D बैठा है। G के दायें तरफ F दूसरा है और F के दायें E दूसरा है। G के एकदम पड़ोस में C नहीं है
- Who is on the immediate left of E?
- E के एकदम बायें कौन है ?



A. A

B. C

C. CND


D. None of these



# SSC CHSL (10+2) 2022



- Ashish starts walking towards east. He turns  $135^\circ$  left from the direction of his walking and starts walking. Finally, starts walking by turning  $45^\circ$  to the right from the direction of his walk. Tell in which direction is he going now?
- आशीष पूरब की ओर चलना प्रारंभ करता है। अपने चलने की दिशा से वह  $135^\circ$  बाएँ घूमता है और चलना प्रारंभ करता है। अंत में, अपने चलने की दिशा से दाहिने  $45^\circ$  घूमकर चलना प्रारंभ करता है। बताएँ कि अब वह किस दिशा में जा रहा है ?





# SSC CHSL (10+2) 2022



- Anjali starts walking facing east. In the course of walking she turns right twice, then tell in which direction she is walking now. If it covers the same distance each time?
- अंजली पूरब की ओर चेहरा करके चलना प्रारंभ करती है। चलने के क्रम में वह दो बार दायें घूमती है, तो बताएँ की वह अब किस दिशा की ओर चल रही है। यदि वह प्रत्येक बार समान दूरी तय करती है ?



$$\begin{array}{r} 90^\circ \\ 90^\circ \\ \hline 180^\circ \end{array}$$



A. West

B. East

C. South

D. North



# SSC CHSL (10+2) 2022



- $A + B = A$  is the brother of B.
- $A - B = A$  is the wife of B.
- $A \times B = A$  is the father of B
- $A \div B = A$  is the sister of B.
- How is N related to P in  $M \div N - O + P$ ?
- $M \div N - O + P$  में N का P से क्या संबंध है ?

0 0 0



~~A. Father~~

~~B. Brother~~

~~C. Mother~~

~~D. None of these~~







# SSC CHSL (10+2) 2022



- If 20 July 2021 was Tuesday, then what day of the week was it on 28 November 2021?
- यदि 20 जुलाई 2021 को मंगलवार था, तो 28 नवंबर 2021 को सप्ताह का कौन सा दिन था?

7/11/21  
4



July - 4  
Aug - 3

Sept - 3  
Oct - 3  
Nov - 0

**A. Sunday**

B. Tuesday

C. Monday

D. Saturday




# SSC CHSL (10+2) 2022



- If I stands for ' $\div$ ', J stands for ' $\times$ ', K stands for ' $-$ ' and L stands for ' $+$ ', then in the following equation '?' What will come in place of ?
- यदि I का अर्थ ' $\div$ ' है, J का अर्थ ' $\times$ ' है, K का अर्थ ' $-$ ' है और L का अर्थ ' $+$ ' है, तो निम्नलिखित समीकरण में '?' के स्थान पर क्या आएगा ?
- $42 L 18 K (7 J 4) L (21 I 3) J 9 L 22 = ?$

$$\begin{array}{r}
 42 + 18 - 28 + 7 \times 9 + 22 \\
 60 - 28 + 63 + 22 \\
 \begin{array}{r}
 59 \\
 63 \\
 \hline
 117
 \end{array}
 \end{array}$$



A. 117

B. 120

C. 114

D. 127



# SSC CHSL (10+2) 2022



- Select the option that gives the correct order of the given words as they would appear in the English dictionary.
- उस विकल्प का चयन कीजिए जो दिए गए शब्दों के सही क्रम को दर्शाता है जिस प्रकार वे अंग्रेजी शब्दकोश में दिखाई देंगे।

- 1. ~~B~~eginner
- 2. ~~B~~eheld
- 3. ~~B~~egg<sup>ar</sup>
- 4. ~~B~~elief
- 5. ~~B~~eh<sup>ind</sup>

31



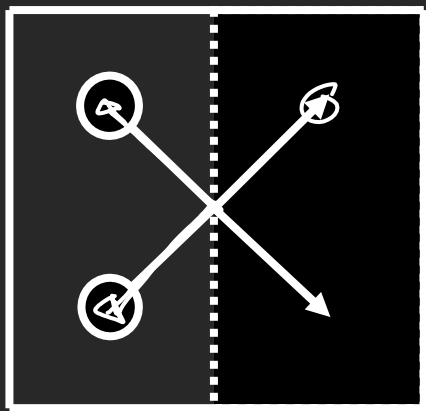
- ~~A. 1, 3, 2, 5, 4~~
- ~~B. 3, 2, 1, 5, 4~~
- C. 3, 1, 2, 5, 4**
- ~~D. 1, 3, 5, 2, 4~~



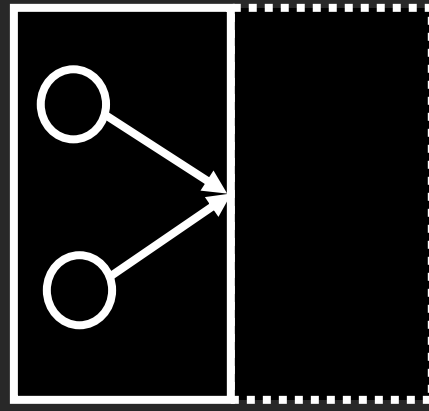
# SSC CHSL (10+2) 2022



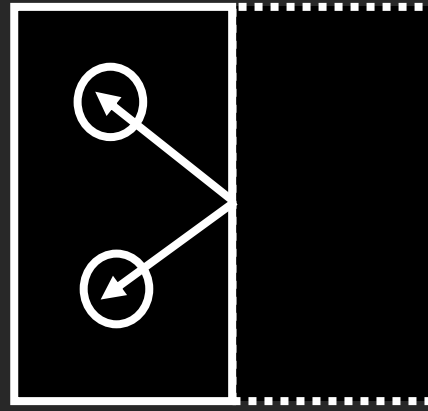
- When a transparent paper is folded along the dotted line, choose the figure that follows the pattern given in the question.
- जब एक पारदर्शी कागज को बिंदुदार रेखा से मोड़ा जाता है तो दिये गये विकल्पों में से उस चित्र का चुनाव कीजिए जो प्रश्न में दिये गये पद्धति का अनुसरण करता है?



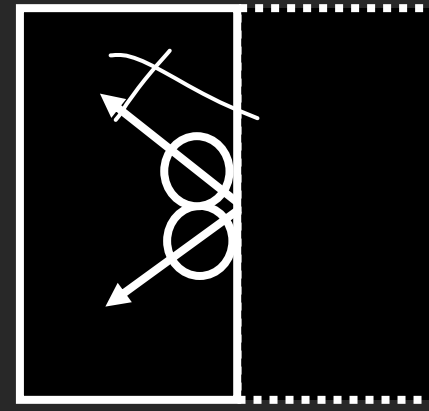
X



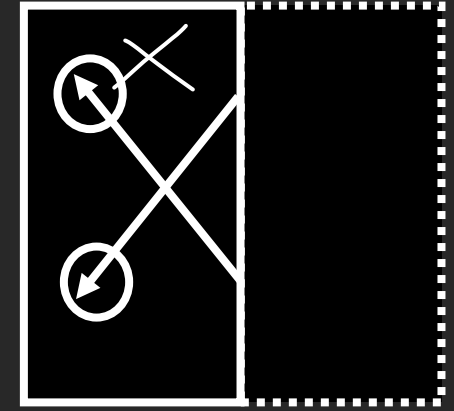
1



2



3



4



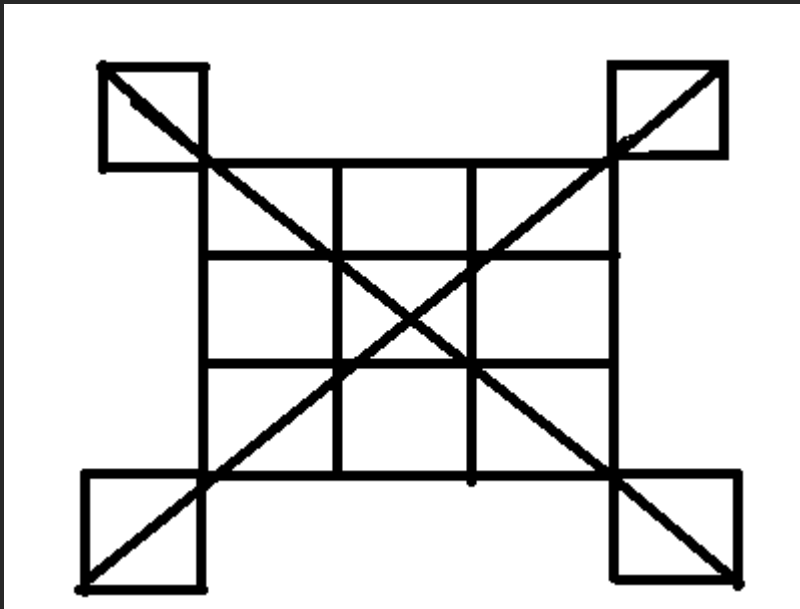




# SSC CHSL (10+2) 2022



- How many triangles in the figure?
- आकृति में कितने त्रिभुज हैं?



A. 20

B. 24

 C. 28

D. 32